

Т.В. Ладиченко, Я.М. Камбалова

# **ЗБІРНИК ЗАВДАНЬ**

для державної підсумкової атестації  
зі всесвітньої історії

*Рекомендовано Міністерством освіти і науки,  
молоді та спорту України*

**11**  
клас

Київ  
Центр навчально-методичної літератури  
2012

## ПОЯСНЮВАЛЬНА ЗАПИСКА

У збірнику вміщено завдання для проведення державної підсумкової атестації зі всесвітньої історії для 11-х класів загальноосвітніх навчальних закладів. Атестаційні завдання мають на меті перевірити та оцінити рівень сформованості історичної компетентності випускників. Завдання укладено відповідно до вимог загальноосвітньої підготовки учнів, передбачених навчальною програмою зі всесвітньої історії для 11-річної школи. У збірнику вміщено 15 варіантів, кожен з яких включає по 12 аналогічних завдань різної форми.

У завданнях 1–8 та завданнях 11–12\* (для учнів профільних 11-х класів суспільно-гуманітарного напрямку) правильний варіант (А, Б, В, Г) позначається у бланку відповідей. Для проведення державної підсумкової атестації в класах профільного рівня пропонуємо замість завдань 7 та 8 у кожному з 15 варіантів виконати відповідно – 11, 12. Завдання 9 та 10 виконуються на окремих подвійних пролінованих аркушах.

### ФОРМИ ЗАВДАНЬ

Форми завдань	№ завдання
Завдання з вибором однієї відповіді	1–8 (11–12*)
Завдання відкритої форми з короткою відповіддю	9
Завдання відкритої форми з розгорнутою відповіддю	10

Завдання передбачають перевірку сформованості в учнів предметних компетентностей: просторової, хронологічної, інформаційної, логічної, мовної, аксіологічної.

### ТИПИ ЗАВДАНЬ ЗА ПРЕДМЕТНИМИ КОМПЕТЕНТНОСТЯМИ

<i>Предметні компетентності</i> (предметні вміння – складові компетентності)	№ завдання	Кількість балів
<b>Просторова компетентність</b> Локалізація історико-географічних об'єктів на карті	1	1
<b>Хронологічна компетентність</b> Встановлення дат, періодів, хронологічних меж за подіями, явищами, процесами	2	1
<b>Встановлення хронологічної послідовності подій</b>	3	1
<b>Логічна компетентність</b> Співвіднесення фактів (подій) з історичними явищами, процесами	4	1
Розпізнавання історичних діячів, фактів, подій, явищ, процесів за візуальними джерелами	5	1
Відбір фактів за певною ознакою. Виявлення характерних рис історичних періодів, явищ, процесів, встановлення причинно-наслідкових зв'язків між подіями, явищами, процесами на основі істинності та помилковості суджень	6	1
З'ясування та визначення характерних ознак подій, явищ, процесів	7	1
Систематизація, групування фактів, пов'язаних з характеристикою (діяльністю) історичної особи	8	1
<b>Інформаційна компетентності</b> Аналіз змісту документа з метою встановлення його назви, події, явища, історичного діяча або пам'ятки, про яку йдеться в джерелі	9	1

<i>Предметні компетентності</i> (предметні вміння – складові компетентності)	№ завдання	Кількість балів
<b>Інформаційна, мовна та аксіологічна компетентності</b> Характеристика описаних у джерелі подій, явищ, постатей в історичному контексті, виокремлення фактів та емоційно-ціннісних суджень автора, висловлення власного судження про документ і його автора, встановлення значення описаних у джерелі історичних подій, явищ, процесів, постатей, пояснення власного ставлення до них, визначення їхньої цінності	<b>10</b>	<b>3</b>
<b>*Для профільних класів (суспільно-гуманітарний напрям)</b> <b>Логічна компетентність</b> Визначення групи понять і термінів, характерних для певного історичного періоду	<b>11</b>	<b>1</b>
Систематизація, групування фактів, пов'язаних з характеристикою (діяльністю) історичної особи. У цих завданнях йдеться про історичних діячів, відомості про яких включені до програми із всесвітньої історії профільного рівня для 10–11 класів	<b>12</b>	<b>1</b>

### УМОВИ ВИКОНАННЯ ЗАВДАНЬ

У завданнях 1–8 запропоновано чотири варіанти відповідей, серед яких треба обрати **ОДИН ПРАВИЛЬНИЙ**.

Завдання 9 передбачає визначення назви документа, події, явища, про які йдеться.

Завдання 10 передбачає складання розгорнутої письмової відповіді за планом:

- 1) наведіть короткі відомості про автора та обставини (час, місце) створення джерела, узагальніть, про що йдеться в документі;
- 2) визначте, як автор ставиться до описуваних подій, процесів, явищ або історичних діячів, з'ясуйте значення подій і явищ, про які йдеться в джерелі;
- 3) поміркуйте, у чому полягає історичне значення джерела, сформулюйте власне ставлення до описаних подій, процесів, явищ або історичних діячів.

Завдання 11–12 \* призначені для учнів профільних 11 класів суспільно-гуманітарного напрямку. У цих завданнях запропоновано чотири варіанти відповідей, серед яких треба обрати **ОДИН ПРАВИЛЬНИЙ**.

### КРИТЕРІЇ ОЦІНЮВАННЯ ЗАВДАНЬ

За кожне правильно виконане завдання 1–8 (11–12) учень/учениця отримує **1 бал**. Завдання вважається виконаним, якщо учень указав лише **БУКВУ** правильної відповіді (завдання 1–5) або сукупності правильних відповідей (завдання 6–8).

Завдання 9 вважається виконаним, якщо учень/учениця правильно називає подію, явище або пам'ятку, про яку йдеться. Завдання оцінюється **1 балом**.

Виконання завдання 10 оцінюється **максимально 3 балами**.

1 бал – обсяг відповіді 3–4 речення, визначено, якщо це можливо, особу автора документа, час, місце, обставини його створення. Вказано, про яку подію (явище), історичну особу йдеться в джерелі, коли відбулися описані в документі події тощо.

2 бали – крім зазначеного вище, учень/учениця визначає, як автор джерела ставиться до описуваних подій, навіщо він свідчить про події, які ідеї прагнув донести до нащадків; з'ясовано значення подій та явищ, про які йдеться в джерелі.

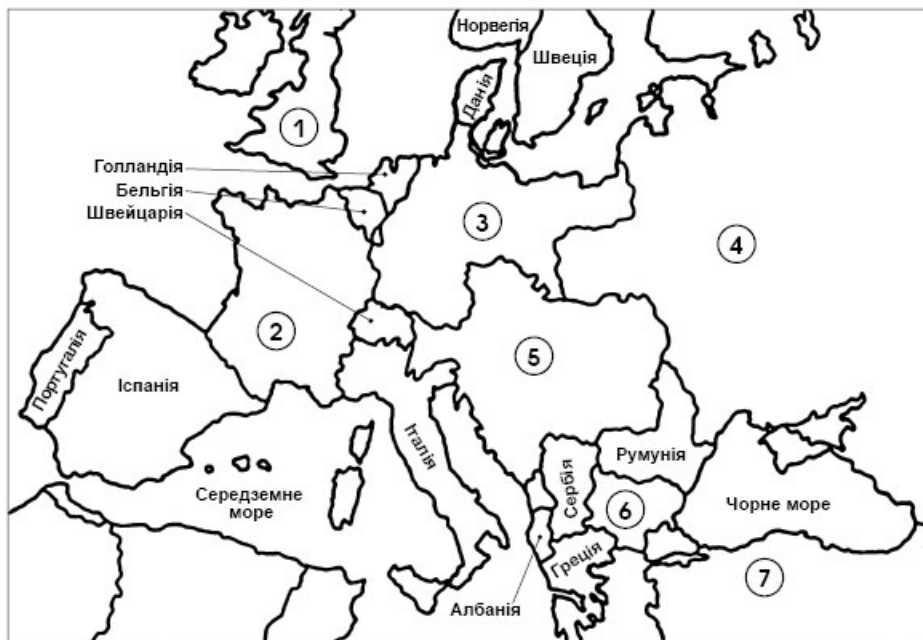
3 бали – у відповіді не лише правильно охарактеризовано подію, явище, позицію автора, а й визначено цінність джерела для учня/учениці, сформульовано особисте ставлення до описаних подій або діячів. Також слід брати до уваги логічність і послідовність викладу, загальний рівень мовного оформлення.

**Максимальна кількість балів – 12.**

## ВАРІАНТ 1

У завданнях 1–8 запропоновано чотири варіанти відповідей, серед яких треба обрати ОДИН ПРАВИЛЬНИЙ

1. Якими цифрами позначено на картосхемі Центральні держави періоду Першої світової війни?



- А 1, 2, 3, 4  
 Б 1, 3, 5, 6  
 В 2, 3, 4, 5  
 Г 3, 5, 6, 7

А	Б	В	Г
<input type="checkbox"/>	<input type="checkbox"/>	<input type="checkbox"/>	<input type="checkbox"/>

2. У якому році Ф.Д. Рузвельта було вперше обрано на посаду президента США?

- А 1930 р.  
 Б 1931 р.  
 В 1932 р.  
 Г 1934 р.

А	Б	В	Г
<input type="checkbox"/>	<input type="checkbox"/>	<input type="checkbox"/>	<input type="checkbox"/>

3. Розташуйте події історії США в хронологічній послідовності

1. Проголошення «Нового курсу» Рузвельта
2. Прийняття «сухого закону»
3. Відмова США від участі в роботі Ліги Націй
4. Крах Нью-Йоркської фондової біржі

- А 2, 1, 3, 4  
 Б 2, 3, 4, 1  
 В 3, 2, 4, 1  
 Г 4, 3, 1, 2

А	Б	В	Г
<input type="checkbox"/>	<input type="checkbox"/>	<input type="checkbox"/>	<input type="checkbox"/>



4. Яка подія свідчила про остаточне оформлення антигітлерівської коаліції?

- А** Підписання урядами Великої Британії та СРСР Московської угоди 1941 р. про спільні дії у війні проти Німеччини
- Б** Продовження радянсько-американської торговельної угоди
- В** Підписання у 1942 р. Декларації Об'єднаних Націй представниками СРСР, США, Великої Британії та Китаю
- Г** Прийняття Конгресом США закону про ленд-ліз

А	Б	В	Г
<input type="checkbox"/>	<input type="checkbox"/>	<input type="checkbox"/>	<input type="checkbox"/>

5. Укажіть фото президента США, адміністрацією якого було розроблено систему заходів під назвою «Справедливий курс»



**А**



**Б**



**В**



**Г**

А	Б	В	Г
<input type="checkbox"/>	<input type="checkbox"/>	<input type="checkbox"/>	<input type="checkbox"/>

6. Укажіть причини наростання внутрішньої нестабільності в країнах Східної Європи у 1950-х роках

1. Лібералізація політичного курсу керівництва країн регіону після смерті Сталіна і початку «відлиги» в СРСР
2. Припинення діяльності Ради економічної взаємодопомоги (РЕВ)
3. Значне погіршення матеріального становища населення внаслідок проведення індустріалізації за радянським зразком
4. Суттєве покращення матеріального становища робітників і службовців на фоні масового зубожіння селян
5. Невдалі заходи з відновлення економіки в країнах Західної Європи
6. Авантюристична політика вищого партійного керівництва у сфері економіки

- А** 1, 2, 4
- Б** 1, 3, 5
- В** 1, 3, 6
- Г** 4, 5, 6

А	Б	В	Г
<input type="checkbox"/>	<input type="checkbox"/>	<input type="checkbox"/>	<input type="checkbox"/>

7. Визначте характерні риси суспільно-політичного життя в СРСР періоду хрущовської «відлиги»

1. Початок процесу десталінізації
2. Боротьба проти «космополітизму»

3. Реабілітація жертв сталінських репресій
4. Запровадження принципу колективного керівництва в Президії ЦК КПРС
5. Зародження дисидентського руху
6. Реабілітація «сталінщини»

**A** 1, 2, 4  
**Б** 1, 3, 5  
**В** 2, 4, 5  
**Г** 3, 5, 6

A	Б	В	Г
<input type="checkbox"/>	<input type="checkbox"/>	<input type="checkbox"/>	<input type="checkbox"/>

**8. Які з наведених тверджень стосуються прем'єр-міністра Великої Британії Ентоні Блера?**

1. Лідер Лейбористської партії Великої Британії
2. Прихильник доктрини «ядерного стримування»
3. У 1997 р. був обраний прем'єр-міністром Великої Британії
4. Голова коаліційного уряду, до складу якого увійшли консерватори та ліберал-демократи
5. Лідер Консервативної партії Великої Британії
6. Прибічник соціально-економічної стратегії «третього шляху»

**A** 1, 2, 4  
**Б** 1, 3, 6  
**В** 2, 3, 5  
**Г** 4, 5, 6

A	Б	В	Г
<input type="checkbox"/>	<input type="checkbox"/>	<input type="checkbox"/>	<input type="checkbox"/>

**Завдання 9** передбачає визначення назви документа, події, явища, про які йдеться

**9. Укажіть назву міста, де було підписано документ, уривок з якого наведено**

*«Стаття 1. ... а) Німецька держава і РРФСР навзаєм відмовляються від відшкодування їхніх воєнних витрат, рівно як і від відшкодування їхніх воєнних втрат, іншими словами, тих збитків, що були завдані їм та їхнім громадянам у районах воєнних дій внаслідок заходів, включно з ужитими на території супротивної сторони реквізиціями...*

*в) Німеччина та Росія відмовляються від відшкодування їхніх витрат на військовополонених...*

*Стаття 3. Дипломатичні та консульські відносини між Німеччиною та РРФСР негайно відновлюються...*

*Стаття 5. Обидва уряди будуть у доброзичливому дусі навзаєм йти назустріч господарським потребам обох країн...»*

---



---



---



---



У завданнях 11–12\* запропоновано чотири варіанти відповідей, серед яких треба обрати ОДИН ПРАВИЛЬНИЙ

11. Визначте правильний перелік понять, які стосуються періоду «перебудови» в СРСР

- А** Гласність, «нове політичне мислення», десталінізація  
**Б** «Нове політичне мислення», «застій», «лисенківщина»  
**В** Дисидентський рух, прискорення, «відлига»  
**Г** Прискорення, гласність, «нове політичне мислення»

А	Б	В	Г
<input type="checkbox"/>	<input type="checkbox"/>	<input type="checkbox"/>	<input type="checkbox"/>

12. Які з наведених тверджень стосуються польського політичного і державного діяча Ю. Пілсудського?

- Лідер правого крила Польської соціалістичної партії
- Після падіння УРР був проголошений регентом Угорщини
- У 1926 р. здійснив у Польщі військовий переворот і встановив режим особистої диктатури – «санациї»
- Головнокомандувач австро-угорського флоту
- У 1918–1922 рр. був названий «начальником» (диктатором) держави
- Після 1933 р. встановив тісні зв'язки з нацистським керівництвом Німеччини

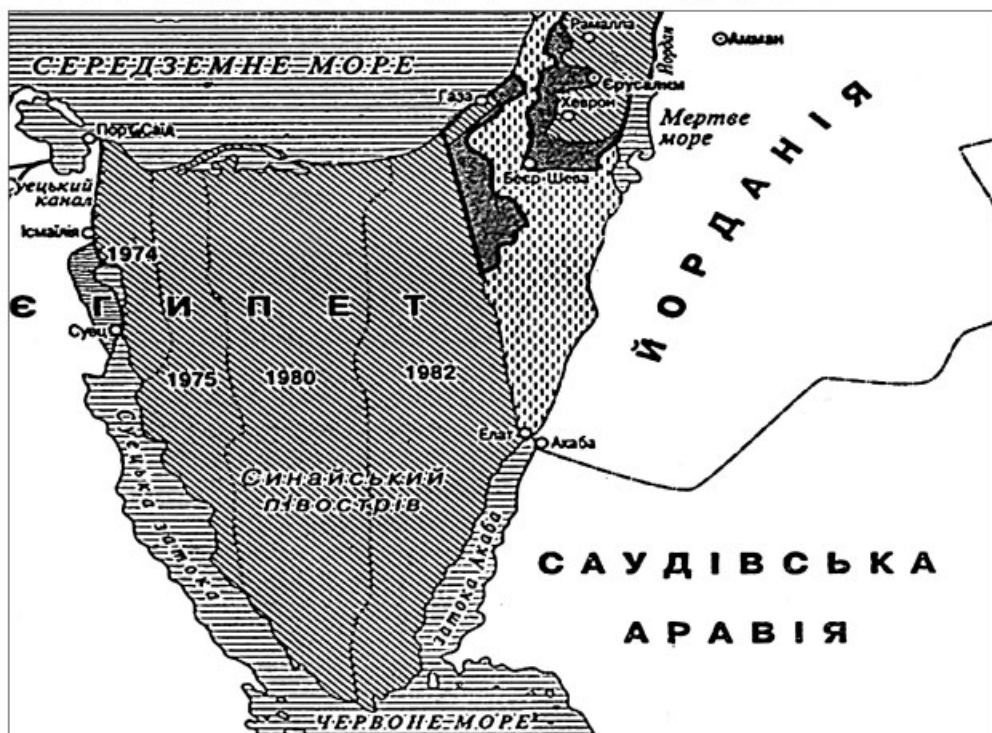
- А** 1, 2, 4  
**Б** 1, 3, 5  
**В** 2, 4, 5  
**Г** 4, 5, 6

А	Б	В	Г
<input type="checkbox"/>	<input type="checkbox"/>	<input type="checkbox"/>	<input type="checkbox"/>

## ВАРІАНТ 2

У завданнях 1–8 запропоновано чотири варіанти відповідей, серед яких треба обрати ОДИН ПРАВИЛЬНИЙ

1. Якого процесу стосуються дати, вказані на картосхемі?



- А Етапи окупації ізраїльськими військами Синайського півострова  
 Б Етапи виведення ізраїльських військ із Синайського півострова  
 В Етапи мирного врегулювання Близькосхідної проблеми  
 Г Проведення переговорів щодо мирного врегулювання арабо-ізраїльського конфлікту

А Б В Г

--	--	--	--

2. Укажіть рік призначення А. Гітлера рейхсканцлером Німеччини

- А 1928 р.  
 Б 1929 р.  
 В 1931 р.  
 Г 1933 р.

А Б В Г

--	--	--	--

3. Розташуйте події в хронологічній послідовності

1. Підписання Маастрихтського договору
2. «Оксамитова» революція в Чехословаччині
3. Об'єднання Німеччини
4. Розпад Організації Варшавського договору

- А** 1, 4, 2, 3  
**Б** 2, 1, 3, 4  
**В** 2, 3, 4, 1  
**Г** 4, 3, 1, 2

А	Б	В	Г
<input type="checkbox"/>	<input type="checkbox"/>	<input type="checkbox"/>	<input type="checkbox"/>

4. Яка партія, заснована в 1900 р., стала новою політичною силою у Великій Британії?

- А** Консервативна партія  
**Б** Ліберальна партія  
**В** Лейбористська партія  
**Г** Соціал-демократична партія

А	Б	В	Г
<input type="checkbox"/>	<input type="checkbox"/>	<input type="checkbox"/>	<input type="checkbox"/>

5. На якому фото зображено першого президента незалежної Росії?



**А**



**Б**



**В**



**Г**

А	Б	В	Г
<input type="checkbox"/>	<input type="checkbox"/>	<input type="checkbox"/>	<input type="checkbox"/>

6. Укажіть причини початку процесу деколонізації після Другої світової війни

1. Загострення суперечностей провідних країн світу в колоніальній сфері
2. Демократичні революції в країнах Східної Європи
3. Згорання національно-визвольного руху в країнах Африки та Азії
4. Демократичні зміни в політичному устрої країн Західної Європи
5. Економічна вигода від вкладення капіталу в розвиток промислових і сільськогосподарських підприємств
6. Розрядка міжнародної напруженості

- А** 1, 3  
**Б** 2, 3  
**В** 3, 6  
**Г** 4, 5

А	Б	В	Г
<input type="checkbox"/>	<input type="checkbox"/>	<input type="checkbox"/>	<input type="checkbox"/>

7. Які з названих подій стосуються аншлюсу Австрії?

1. Висування німецьким керівництвом ультиматуму про скасування всенародного голосування та відставку уряду країни
2. Ліквідація у країні дипломатичних місій Великої Британії, Франції та США
3. Розроблення німецьким керівництвом плану «Грюн»
4. Створення профашистської партії «Національна єдність»
5. Звернення канцлера Артура Зейсса-Інкварта до Німеччини з проханням про допомогу для встановлення в країні порядку
6. Підписання Мюнхенської угоди

- А** 1, 2, 3  
**Б** 1, 2, 5  
**В** 1, 3, 4  
**Г** 3, 4, 6

А Б В Г

--	--	--	--

**8. Які з наведених тверджень стосуються діяльності прем'єр-міністра Великої Британії Маргарет Тетчер?**

1. Запровадження політики «нового лейборизму»
2. Скорочення державних витрат на соціальні програми (житлове будівництво, охорону здоров'я, освіту)
3. Приватизація державних підприємств та муніципального житла
4. Створення парламентів Шотландії, Уельсу та Північної Ірландії
5. Націоналізація промислових підприємств
6. Проведення реформи податкової системи

- А** 1, 2, 4  
**Б** 2, 4, 5  
**В** 2, 3, 6  
**Г** 3, 5, 6

А Б В Г

--	--	--	--

**Завдання 9** передбачає визначення назви документа, події, явища, про які йдеться

**9. Визначте назву військового плану, уривок з якого наведено**

*«Німецькі збройні сили повинні бути готові до того, щоб іще до закінчення війни проти Англії блискавичною воєнною операцією перемогти радянську Росію.*

*Військові маси російської армії, що перебувають у західній частині Росії, мають бути знищені в сміливих операціях з глибоким просуванням танкових частин. Треба перешкодити відступу боєдатних частин у простори російської території...»*

**Завдання 10** передбачає складання розгорнутої письмової відповіді за планом:

- 1) наведіть короткі відомості про автора та обставини (час, місце) створення джерела, узагальніть, про що йдеться в документі;
- 2) визначте, як автор ставиться до описуваних подій, процесів, явищ або історичних діячів, з'ясуйте значення подій і явищ, про які йдеться в джерелі;
- 3) поміркуйте, у чому полягає історичне значення джерела, сформулюйте власне ставлення до описаних подій, процесів, явищ або історичних діячів.

**10. Проаналізуйте історичне джерело та дайте йому оцінку**

*Корнеліус Райан «Про висадку союзників у Нормандії»*

*«Перші учасники дня "Д", майже 18 тисяч американців, англійців і канадців, зайняли фланги нормандського поля бою. Між ними про-*

лягли п'ять ділянок узбережжя, призначеного для висадки, сюди з-поза морського горизонту висувався потужний союзницький флот, що налічував п'ять тисяч бойових кораблів.

Поволі, але вірно план величезного наступу почав виконуватися, однак німці, як і раніше, залишалися сліпі. Для цього було багато причин. Нестача даних авіаційної розвідки (лише декілька літаків-розвідників вилетіло з німецьких аеродромів у попередні тижні, і всі їх було збито); вперта віра німців у те, що висадка англо-американців відбудеться в Па-де-Кале, безладдя і плутанина у вказівках власного керівництва і, нарешті, невміння розшифровувати телеграми противника. Усе це відіграло свою роль. Навіть радари на станціях стеження підвели німців цієї ночі. Більше двох годин минуло із часу висадки перших англо-американських парашутистів, і тільки після цього німецьке командування почало усвідомлювати, що відбувається щось важливе».

У завданнях 11–12\* запропоновано чотири варіанти відповідей, серед яких треба обрати ОДИН ПРАВИЛЬНИЙ

11. Які з наведених понять характеризують період «холодної війни»?

- А Берлінська криза, «розрядка», рух Опору
- Б Карибська криза, «розрядка», рух антиглобалістів
- В Берлінська криза, «розрядка», Карибська криза
- Г Рух Опору, Берлінська криза, рух антиглобалістів

А	Б	В	Г
<input type="checkbox"/>	<input type="checkbox"/>	<input type="checkbox"/>	<input type="checkbox"/>

12. Які з наведених тверджень стосуються чеського державного і політичного діяча Вацлава Клауса?

1. Автор економічних реформ, розпочатих у Чеській і Словацькій Федеративній Республіці (ЧСФР) у 1990 р.
2. Перший президент Чеської Республіки
3. Президент Словаччини
4. Голова першого уряду Чеської Республіки
5. Очолював Громадську демократичну партію (ГДП)
6. Лідер «Празької весни»

- А 1, 2, 6
- Б 1, 4, 5
- В 2, 3, 5
- Г 2, 4, 6

А	Б	В	Г
<input type="checkbox"/>	<input type="checkbox"/>	<input type="checkbox"/>	<input type="checkbox"/>



## ВАРІАНТ 3

У завданнях 1–8 запропоновано чотири варіанти відповідей, серед яких треба обрати ОДИН ПРАВИЛЬНИЙ

1. Якою цифрою позначено на картосхемі Німеччини території, що передавалися Франції за умовами Версальського договору 1919 р.?



- А 1  
Б 2  
В 3  
Г 4

А Б В Г

--	--	--	--

2. Укажіть дату підписання радянсько-німецького договору про ненапад (пакту Молотова–Ріббентропа)

- А 31 березня 1939 р.  
Б 17 квітня 1939 р.  
В 23 серпня 1939 р.  
Г 29 вересня 1939 р.

А Б В Г

--	--	--	--

3. Розташуйте назви мирних договорів у хронологічній послідовності їх укладання

- |                 |          |            |
|-----------------|----------|------------|
| 1. Тріанонський | <b>А</b> | 1, 3, 4, 2 |
| 2. Версальський | <b>Б</b> | 2, 4, 1, 3 |
| 3. Севрський    | <b>В</b> | 2, 3, 4, 1 |
| 4. Нейський     | <b>Г</b> | 4, 1, 3, 2 |

**А Б В Г**

--	--	--	--

4. Яка з вказаних подій відбулася в період перебування при владі президента США Дж. Кеннеді?

- А** Карибська криза  
**Б** Операція «Буря в пустелі»  
**В** Створення НАТО  
**Г** Початок радянсько-афганського військового конфлікту

**А Б В Г**

--	--	--	--

5. На якому фото зображено радянського політика, під час перебування якого при владі відбулася Карибська криза?



**А Б В Г**

--	--	--	--

6. Укажіть наслідки демократичних революцій у східноєвропейських країнах кінця 1980-х років

1. Початок «перебудови» в СРСР
2. Ліквідація радянської моделі соціалізму, встановлення демократичних режимів
3. Ліквідація монархічної форми правління в більшості східноєвропейських держав
4. Трансформація та розширення НАТО
5. Створення Організації Варшавського договору
6. Утвердження принципів планової економіки в країнах Східної Європи

- А** 1, 2  
**Б** 1, 3  
**В** 2, 4  
**Г** 5, 6

**А Б В Г**

--	--	--	--

7. Які з наведених заходів характеризують період «розрядки» міжнародної напруженості?

1. Підписання Договору про обмеження систем протиракетної оборони (ПРО) між СРСР і США
2. Підписання Паризької хартії для нової Європи
3. Виведення радянських військ з Афганістану
4. Підписання Конвенції про заборону розроблення, виробництва та накопичення запасів бактеріологічної (біологічної) й токсичної зброї та їхнє знищення
5. Зруйнування Берлінського муру
6. Підписання Договору про обмеження підземних випробувань ядерної зброї

**А** 1, 2, 5

**Б** 1, 4, 5

**В** 1, 4, 6

**Г** 3, 5, 6

А Б В Г

--	--	--	--

8. Які з наведених тверджень стосуються французького президента Шарля де Голля?

1. Перший Президент П'ятої республіки
2. У зовнішній політиці здійснював курс на зближення із США
3. Під час Другої світової війни організував у Лондоні рух «Вільна Франція» (пізніше «Бойова Франція»)
4. Прихильник парламентської форми державного правління
5. Був прем'єр-міністром колабораціоністського уряду Віші
6. За Конституцією Франції 1958 р. отримав повноваження глави держави, голови виконавчої влади і головнокомандувача збройних сил

**А** 1, 2, 4

**Б** 1, 3, 5

**В** 1, 3, 6

**Г** 2, 5, 6

А Б В Г

--	--	--	--

**Завдання 9** передбачає визначення назви документа, події, явища, про які йдеться

9. Про що йдеться в наведеному уривку з документа?

*«Стаття 42. Німеччині забороняється утримувати чи споруджувати укріплення на лівому березі Рейну, а також на правому березі Рейну на захід від лінії, проведеної за 50 км на схід від усієї річки.»*

*Стаття 43. Водночас забороняються в зоні, визначеній у ст. 42, зосередження збройних сил як постійних, так і тимчасових, а також будь-які військові маневри, хоч би якого виду вони були, і зберігання будь-яких матеріальних засобів для мобілізації».*

---



---



---



У завданнях 11–12\* запропоновано чотири варіанти відповідей, серед яких треба обрати ОДИН ПРАВИЛЬНИЙ

**11.** Визначте правильний перелік понять, які характеризують становище темношкірого населення США у 1950–1960-х роках

- А** Громадянська рівноправність, дискримінація, терор, «чорні бунти», роздільне навчання, толерантність
- Б** Расова нерівність, дискримінація, «полювання на відьом», роздільне навчання, толерантність, «чорні бунти»
- В** Громадянська рівноправність, дискримінація, терор, «чорні бунти», «маккартизм», роздільне навчання
- Г** Расова нерівність, дискримінація, «довге гаряче літо», роздільне навчання, терор, «чорні бунти»

А Б В Г

--	--	--	--

**12.** Які з наведених тверджень стосуються британського військового діяча Б. Монтгомері?

1. Очолював Штаб союзних військово-морських сил під час висадки військ США та Великої Британії у Франції у червні 1944 р.
2. Мав звання фельдмаршала
3. Брав участь у боях британських військ у Північній Африці під Ель-Аламейном
4. Здійснював загальне керівництво силами вторгнення під час операції «Оверлорд»
5. Командував десантом союзників під час операції «Оверлорд»
6. Командувач французької бронетанкової дивізії, що брала участь у визволенні Парижа

- А** 1, 2, 4
- Б** 2, 3, 5
- В** 2, 4, 6
- Г** 4, 5, 6

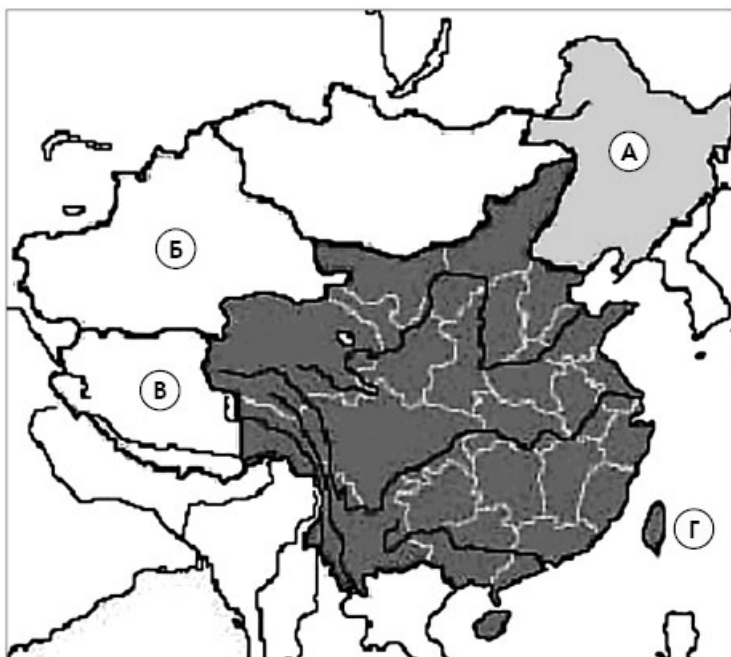
А Б В Г

--	--	--	--

## ВАРІАНТ 4

У завданнях 1–8 запропоновано чотири варіанти відповідей, серед яких треба обрати ОДИН ПРАВИЛЬНИЙ

1. Укажіть, якою літерою позначено на картосхемі регіон Східної Азії, що не увійшов до складу Китайської Народної Республіки



А Б В Г

--	--	--	--

2. Визначте дату терористичного нападу на Всесвітній торговий центр у Нью-Йорку

А 1 вересня 1998 р.  
 Б 21 вересня 1999 р.  
 В 11 березня 2000 р.  
 Г 11 вересня 2001 р.

А Б В Г

--	--	--	--

3. Установіть хронологічну послідовність створення вказаних організацій

1. Організація Варшавського договору  
 2. НАТО  
 3. Організація Об'єднаних Націй  
 4. Європейський Союз

А 1, 3, 4, 2  
 Б 2, 3, 4, 1  
 В 3, 2, 1, 4  
 Г 4, 1, 3, 2

А Б В Г

--	--	--	--

4. Який із зазначених заходів було проведено в рамках експерименту «культурна революція» у Китаї?

- А** Створення сільськогосподарських комун  
**Б** Створення загонів «червоних охоронців» (хунвейбінів)  
**В** Створення нової писемної мови «байхуа»  
**Г** Модернізація системи державного управління

А Б В Г

--	--	--	--

5. На якому фото зображено лідера незалежної польської профспілки «Солидарність»?



А



Б



В



Г

А Б В Г

--	--	--	--

6. Укажіть причини загострення міжнародних відносин у 1970–1980-х роках

1. Підписання СРСР та США договорів ОСВ-1 та ОСВ-2
2. Розробка у США програми СОІ (Стратегічної оборонної ініціативи)
3. Вторгнення радянських військ до Афганістану
4. Скликання Наради з питань безпеки і співробітництва в Європі
5. Підписання Гельсінської угоди 1975 р.
6. Збільшення соціальних виступів у США внаслідок війни у В'єтнамі

- А** 1, 5  
**Б** 2, 3  
**В** 4, 5  
**Г** 4, 6

А Б В Г

--	--	--	--

7. Визначте умови підписання Версальського мирного договору

1. Передача Саару під управління Ліги Націй
2. Перехід австрійського флоту до союзників
3. Заборона загальної військової повинності в Німеччині
4. Створення демілітаризованої зони на схід від Рейну
5. Припинення існування Австро-Угорської монархії
6. Повернення Франції Ельзасу та Лотарингії

- А** 1, 2, 3  
**Б** 2, 3, 4  
**В** 3, 4, 5  
**Г** 3, 4, 6

А Б В Г

--	--	--	--

8. Які із заходів стосуються економічної політики президента США Ф.Д. Рузвельта?

1. Реформування банківської системи
2. Запровадження «сухого закону»
3. Скасування системи громадських робіт
4. Надання державної допомоги незахищеним верствам населення
5. Відмова від концепції державного регулювання економіки
6. Реформування системи оподаткування, підвищення податку на надприбутки

А 1, 2, 3

Б 1, 3, 5

В 1, 4, 6

Г 2, 3, 4

А	Б	В	Г
<input type="checkbox"/>	<input type="checkbox"/>	<input type="checkbox"/>	<input type="checkbox"/>

**Завдання 9** передбачає визначення назви документа, події, явища, про які йдеться

9. Визначте назву документа, уривок з якого наведено

*«3. Форми евакуації буде встановлено в деталях міжнародною комісією, що складається з представників Німеччини, Сполученого королівства, Франції, Італії та Чехословаччини.*

*4. Поетапно зайняття німецькими військами районів з переважно німецьким населенням починається з 1 жовтня. Інша область, що має здебільшого німецький характер, буде негайно визнана згаданою вище міжнародною комісією і буде зайнята німецькими військами до 10 жовтня».*

**Завдання 10** передбачає складання розгорнутої письмової відповіді за планом:

- 1) наведіть короткі відомості про автора та обставини (час, місце) створення джерела, узагальніть, про що йдеться в документі;
- 2) визначте, як автор ставиться до описуваних подій, процесів, явищ або історичних діячів, з'ясуйте значення подій і явищ, про які йдеться в джерелі;
- 3) поміркуйте, у чому полягає історичне значення джерела, сформулюйте власне ставлення до описаних подій, процесів, явищ або історичних діячів.

10. Проаналізуйте уривок з книжки та дайте йому оцінку

*З книжки Пола Джонса «Сучасність: світ із двадцятих до дев'яностих років»*

*«Французи полегшили життя Гітлеру. Вони не хотіли війни. Акт про перемир'я було підписано маршалом Петеном, якому було вже вісімдесят п'ять років, але він був найшанованішим французьким генералом, оскільки солдати вважали, що під його командуванням у*



них найбільше шансів залишитися живими. Петен був найбільш популярним правителем від часів Наполеона. Він утілював у собі антиромантизм, бажання відкинути історичні та глобальні зобов'язання, прагнення до спокійного й замкнутого життя, яке тоді оволоділо Францією. Перші дні існування уряду Петена, до складу якого входили військові й державні службовці, без політиків, викликали справжню ейфорію у Франції, як Гітлер 1933 р. в Німеччині».

---



---



---



---



---



---



---



---

У завданнях 11–12\* запропоновано чотири варіанти відповідей, серед яких треба обрати ОДИН ПРАВИЛЬНИЙ

**11. Які терміни стосуються епохи сталінізму в СРСР?**

- А** «Ворог народу», «ждановщина», «лисенківщина», репресії, депортація  
**Б** «Ждановщина», «лисенківщина», «брежнєвщина», репресії, депортація  
**В** «Ворог народу», гласність, «лисенківщина», репресії, депортація  
**Г** «Ворог народу», «перебудова», «лисенківщина», репресії, «відлига»

А Б В Г

--	--	--	--

**12. Які з наведених тверджень стосуються китайського державного і політичного діяча Ден Сяопіна?**

- Один з організаторів студентських маніфестацій у 1989 р. на площі Тяньаньмень в Пекіні
- У 1956–1966 рр. був генеральним секретарем ЦК Комуністичної партії Китаю
- Один з найближчих соратників Мао Цзедуна
- Автор соціально-економічних експериментів «великий стрибок» та «культурна революція»
- Був репресований під час «культурної революції» в Китаї та реабілітований після смерті Мао Цзедуна
- «Архітектор» економічних реформ, розпочатих у Китаї з 1979 р.

- А** 1, 2, 4  
**Б** 2, 3, 5  
**В** 2, 5, 6  
**Г** 3, 5, 6

А Б В Г

--	--	--	--

**ВАРІАНТ 5**

У завданнях 1–8 запропоновано чотири варіанти відповідей, серед яких треба обрати **ОДИН ПРАВИЛЬНИЙ**

1. Коли відбувалися події, позначені на картосхемі?



- А Вересень 1939 р.
- Б Квітень 1940 р.
- В Листопад 1942 р.
- Г Червень 1944 р.

А	Б	В	Г
<input type="checkbox"/>	<input type="checkbox"/>	<input type="checkbox"/>	<input type="checkbox"/>

2. Визначте дату нападу Японії на Перл-Харбор

- А 30 жовтня 1941 р.
- Б 7 грудня 1941 р.
- В 1 липня 1942 р.
- Г 19 червня 1942 р.

А	Б	В	Г
<input type="checkbox"/>	<input type="checkbox"/>	<input type="checkbox"/>	<input type="checkbox"/>

3. Розташуйте події Першої світової війни в хронологічній послідовності

1. Приєднання Італії до Антанти
2. Оголошення Великою Британією війни Німеччині
3. Верденська битва
4. Створення єдиного командування військ Антанти під керівництвом маршала Фоша

- А** 1, 3, 4, 2  
**Б** 2, 1, 3, 4  
**В** 3, 2, 4, 1  
**Г** 4, 1, 3, 2

А Б В Г

--	--	--	--

4. Яке поняття характеризує політику «воєнного комунізму» в радянській Росії?

- А** Концесія  
**Б** Продподаток  
**В** Прозрозкладка  
**Г** Індустріалізація

А Б В Г

--	--	--	--

5. Під час якої міжнародної конференції було зроблено це фото?



- А** Вашингтонська конференція  
**Б** Тегеранська конференція  
**В** Потсдамська конференція  
**Г** Кримська (Ялтинська) конференція

А Б В Г

--	--	--	--

## 6. Укажіть причини початку «холодної війни»

1. Запровадження «плану Маршалла»
2. Ліквідація Організації Варшавського договору
3. Перетворення СРСР та США на наддержави і виникнення між ними протиріч відносно повоєнного облаштування світу
4. Підписання пакту Молотова–Ріббентропа
5. Встановлення радянської моделі тоталітарного суспільства в країнах Східної Європи
6. Проголошення США програми Стратегічної оборонної ініціативи (СОІ)

А 1, 2

Б 2, 4

В 3, 5

Г 4, 6

А Б В Г

--	--	--	--

## 7. Які з наведених заходів характеризують політику «соціалістичної орієнтації» у країнах Азії, Африки і Латинської Америки?

1. Наявність значного державного сектору
2. Скорочення витрат на центральне управління
3. Насильницьке кооперування селянства
4. Створення авторитарних політичних структур
5. Наявність значних громадянських свобод
6. Зовнішньополітична орієнтація на країни Західної Європи

А 1, 2, 4

Б 1, 3, 4

В 2, 3, 5

Г 3, 4, 6

А Б В Г

--	--	--	--

## 8. Які з наведених тверджень стосуються президента США Дж. Ф. Кеннеді?

1. Лідер Республіканської партії США
2. Основою його діяльності стала програма «Нові рубежі», спрямована на зміцнення позицій США на міжнародній арені
3. Автор програми економічних реформ «Новий курс»
4. Під час його перебування при владі виникла загроза початку ядерної війни через розгортання Карибської кризи
5. Започаткував програму Стратегічної оборонної ініціативи (СОІ)
6. Трагічно загинув 22 листопада 1963 р.

А 1, 2, 4

Б 2, 3, 5

В 2, 4, 5

Г 2, 4, 6

А Б В Г

--	--	--	--

**Завдання 9** передбачає визначення назви документа, події, явища, про які йдеться

**9.** Визначте, у якому році відбувалися події, описані в наведеному уривку з документа

*«Один з найкращих шансів було втрачено біля Ель-Аламейна. На мою думку, у цьому кульмінаційному пункті війни ми були ближчими до перемоги, ніж будь-коли. Потрібно було небагато, щоб захопити Александрію і рушити на Суецький канал».*

---



---



---

**Завдання 10** передбачає складання розгорнутої письмової відповіді за планом:

- 1)** наведіть короткі відомості про автора та обставини (час, місце) створення джерела, узагальніть, про що йдеться в документі;
- 2)** визначте, як автор ставиться до описуваних подій, процесів, явищ або історичних діячів, з'ясуйте значення подій і явищ, про які йдеться в джерелі;
- 3)** поміркуйте, у чому полягає історичне значення джерела, сформулюйте власне ставлення до описаних подій, процесів, явищ або історичних діячів.

**10.** Проаналізуйте історичне джерело та дайте йому оцінку

*З промови У. Черчілля у м. Фултон. 5 березня 1946 р.*

*«Від Штеттина на Балтиці до Трієста на Адріатиці на континент спустилася залізна завіса. За цією лінією сховані всі скарби стародавніх країн Центральної та Східної Європи, Варшава, Берлін, Прага, Відень, Будапешт, Белград, Бухарест, Софія – всі ці знамениті міста й населення цих країн знаходяться в радянській зоні та всі підкоряються тією чи іншою мірою не лише радянському впливу, а й дедалі зростаючому контролю з боку Москви...*

*В усіх цих країнах переважають поліцейські уряди і дотепер у них не існує ніякої справжньої демократії...*

*Росіяни понад усе захоплюються силою, і нема нічого менш важливого для них, ніж військова слабкість. Тому наша стара доктрина рівноваги сил виявилася недієздатною. Ми не повинні робити ставку на незначну перевагу в силі, оскільки це може викликати бажання поміритися силами».*

---



---



---

У завданнях 11–12\* запропоновано чотири варіанти відповідей, серед яких треба обрати ОДИН ПРАВИЛЬНИЙ

11. Які з наведених понять характеризують напрямки живопису другої половини ХХ ст.?

- А Постмодернізм, гіперреалізм, абстрактний експресіонізм  
 Б Гіперреалізм, сентименталізм, класицизм  
 В Абстрактний експресіонізм, класицизм, постмодернізм  
 Г Класицизм, постмодернізм, сентименталізм

А	Б	В	Г
<input type="checkbox"/>	<input type="checkbox"/>	<input type="checkbox"/>	<input type="checkbox"/>

12. Які з тверджень стосуються болгарського державного і політичного діяча Георгія Димитрова?

- Останній генеральний секретар Комінтерну
- Обіймав посаду президента Болгарії
- Був головою ЦК Болгарської робітничої партії (комуністів) (БРП(к))
- Очолив у 1944 р. уряд Вітчизняного фронту
- У 1946 р. став головою уряду Болгарії
- У 1989 р. став засновником болгарського Союзу демократичних сил (СДС)

- А 1, 2, 4  
 Б 1, 3, 5  
 В 2, 4, 5  
 Г 3, 5, 6

А	Б	В	Г
<input type="checkbox"/>	<input type="checkbox"/>	<input type="checkbox"/>	<input type="checkbox"/>

## ВАРІАНТ 6

У завданнях 1–8 запропоновано чотири варіанти відповідей, серед яких треба обрати ОДИН ПРАВИЛЬНИЙ

1. Території яких держав виділено на картосхемі темним кольором?



- А** Держави, які в 1949 р. стали засновницями Ради Європи  
**Б** Держави, що отримали економічну допомогу за «планом Маршалла»  
**В** Держави, які в 1951 р. підписали у Парижі Договір про створення Європейського об'єднання вугілля та сталі  
**Г** Держави, які в 1957 р. підписали в Римі Договір про створення Європейського економічного співтовариства (ЄЕС)

А Б В Г

--	--	--	--

2. Визначте дату початку наступальної операції радянських військ під Сталінградом

- А** 19 листопада 1942 р.  
**Б** 1 січня 1942 р.  
**В** 2 лютого 1943 р.  
**Г** 5 липня 1943 р.

А Б В Г

--	--	--	--

3. Розташуйте події Першої світової війни в хронологічній послідовності

1. Битва під м. Іпр
2. Битва на р. Соммі
3. Ютландська битва
4. Битва на р. Марні

**A** 2, 1, 3, 4

**Б** 3, 4, 2, 1

**В** 4, 3, 1, 2

**Г** 4, 1, 3, 2

**A B B Г**

--	--	--	--

4. Яке з вказаних рішень було прийнято на Берлінській (Потсдамській) конференції?

**A** Припинення діяльності Ліги Націй

**Б** Відкриття Другого фронту в Європі

**В** Створення антигітлерівської коаліції

**Г** Заснування Ради міністрів закордонних справ СРСР, США, Великої Британії, Франції та Китаю для підготовки мирних угод з Німеччиною та її союзниками

**A B B Г**

--	--	--	--


5. На якому фото зображено діяча, який намагався досягти незалежності своєї країни ненасильницькими методами боротьби?



**A**



**Б**



**В**



**Г**

**A B B Г**

--	--	--	--

6. Укажіть наслідки Другої світової війни

1. Припинення «холодної війни»
2. Посилення антиколоніального руху в країнах Африки та Азії
3. Завершення процесу євроінтеграції
4. Встановлення прорадянських режимів у країнах Східної Європи
5. Початок демократичних перетворень у країнах Східної Європи
6. Посилення міжнародного авторитету Ліги Націй

**A** 1, 3

**Б** 2, 4

**В** 3, 5

**Г** 5, 6

**A B B Г**

--	--	--	--



7. Які з наведених тверджень характеризують явище тоталітаризму?

1. Посилення зовнішньоекономічної діяльності країни
2. Панування однопартійної системи та проголошення культу вождя
3. Тотальний контроль держави над економікою та суспільством
4. Приватизація великих промислових підприємств
5. Запровадження принципів вільної конкуренції в економічній сфері
6. Злиття партійного та державного апарату

**A** 1, 3, 4

**B** 2, 3, 6

**B** 2, 4, 5

**Г** 3, 4, 5

A B B Г

--	--	--	--

8. Які заходи характеризують економічну політику адміністрації президента США Б. Клінтона?

1. Девальвація національної валюти
2. Збільшення асигнувань на програму Стратегічної оборонної ініціативи
3. Зменшення податкового тиску на середній прошарок суспільства
4. Надання податкових пільг підприємствам, які створювали нові робочі місця
5. Згортання інвестицій у федеральні програми
6. Проведення реформи системи охорони здоров'я

**A** 1, 2, 3

**B** 2, 3, 4

**B** 3, 4, 6

**Г** 4, 5, 6

A B B Г

--	--	--	--

**Завдання 9** передбачає визначення назви документа, події, явища, про які йдеться

9. Укажіть, про які події йдеться в наведеному уривку з документа

*«Правила порушили всі, незалежно від "політичної правоти" кожної зі сторін. Слободан Мілошевич надто сильно утиснув права албанців, скасувавши їхню автономію. Албанці порушили закони Республіки Сербії та основні засади демократії, намагаючись за допомогою зброї здійснити амбітне прагнення створити незалежну державу в Косово. Відповідно НАТО під патронатом США бомбардуваннями втрутилось у внутрішню проблему Югославії, порушивши основні принципи дипломатії. Про те, хто скільки нагрівив, поки що не йдеться. Була війна, яку програли всі».*

---



---



---



---



У завданнях 11–12\* запропоновано чотири варіанти відповідей, серед яких треба обрати ОДИН ПРАВИЛЬНИЙ

**11.** Визначте перелік військових подій, які відносяться до першого періоду Другої світової війни (1 вересня 1939 р. – 21 червня 1941 р.)

1. Битва під Ель-Аламейном
2. Радянсько-фінська війна
3. Окупація Німеччиною Норвегії та Данії
4. Окупація Німеччиною Бельгії та Голландії
5. Оборона Москви
6. Агресія Німеччини на Балканах

**А** 1, 2, 3, 4

**Б** 2, 3, 4, 6

**В** 2, 3, 5, 6

**Г** 3, 4, 5, 6

А Б В Г

--	--	--	--

**12.** Які заходи належать до освітньо-культурних реформ іранського державного і політичного діяча Реза-шаха Пехлеві?

1. Прийняття закону про обов'язкову початкову освіту
2. Заснування світських шкіл
3. Прийняття закону про обов'язкову вищу освіту
4. Відкриття в країні середніх і вищих навчальних закладів
5. Заміна арабської абетки латинізованою
6. Відміна державної цензури в літературі

**А** 1, 2, 4

**Б** 1, 3, 4

**В** 1, 3, 5

**Г** 2, 4, 6

А Б В Г

--	--	--	--

## ВАРІАНТ 7

У завданнях 1–8 запропоновано чотири варіанти відповідей, серед яких треба обрати ОДИН ПРАВИЛЬНИЙ

1. Якими цифрами позначено на картосхемі території, що відійшли до Польщі за рішенням Потсдамської конференції 1945 р.?



- А 1, 2, 3  
 Б 1, 2, 4  
 В 1, 3, 4  
 Г 2, 3, 4

А Б В Г

--	--	--	--

2. Укажіть, коли було сформовано перший лейбористський уряд Великої Британії

- А Лютий 1918 р.  
 Б Січень 1924 р.  
 В Травень 1926 р.  
 Г Грудень 1926 р.

А Б В Г

--	--	--	--

3. Розташуйте в хронологічній послідовності міжнародні конференції, проведені після Першої світової війни

1. Гаазька конференція  
 2. Генуезька конференція  
 3. Локарнська конференція  
 4. Вашингтонська конференція

- А** 4, 2, 1, 3  
**Б** 3, 1, 4, 2  
**В** 1, 3, 2, 4  
**Г** 4, 3, 1, 2

А Б В Г

--	--	--	--


4. Яка подія відбулася на першому етапі «холодної війни»?

- А** Війна в Кореї  
**Б** Радянсько-афганський конфлікт  
**В** Агресія США у В'єтнамі  
**Г** Зведення Берлінського муру


А Б В Г

--	--	--	--

5. Визначте перелік імен художників, що є авторами наведених картин




1



2



3



4

- А** 1 – С. Далі, 2 – К. Малевич, 3 – В. Кандинський, 4 – П. Пікассо  
**Б** 1 – К. Малевич, 2 – С. Далі, 3 – П. Пікассо, 4 – В. Кандинський  
**В** 1 – П. Пікассо, 2 – К. Малевич,  
 3 – В. Кандинський, 4 – С. Далі  
**Г** 1 – С. Далі, 2 – В. Кандинський,  
 3 – П. Пікассо, 4 – К. Малевич

А Б В Г

--	--	--	--

6. Укажіть причини вступу США в Першу світову війну

1. Великі прибутки від надання матеріальної допомоги країнам Антанти
2. Підписання угоди з Німеччиною
3. Намагання послабити вплив Японії на Далекому Сході

4. Підписання між Росією та Центральними державами Брест-Литовського мирного договору
5. Намагання подолати внутрішньополітичну кризу
6. Загострення суперечностей між США та Німеччиною в колоніальній сфері

**A** 1, 2  
**Б** 1, 3  
**В** 2, 4  
**Г** 5, 6

A	Б	В	Г
<input type="checkbox"/>	<input type="checkbox"/>	<input type="checkbox"/>	<input type="checkbox"/>

7. Які заходи характеризують економічну політику в США під назвою «рейганоміка»?

1. Зниження податків у США на 30%
2. Скорочення бюджету Пентагону
3. Збільшення частки наукоємних галузей промисловості
4. Зменшення особистих доходів американських громадян
5. Технічне переоснащення підприємств, запровадження в промисловість новітніх досягнень науково-технічного прогресу
6. Збільшення витрат на державний апарат

**A** 1, 2, 4  
**Б** 1, 3, 5  
**В** 2, 3, 4  
**Г** 3, 4, 6

A	Б	В	Г
<input type="checkbox"/>	<input type="checkbox"/>	<input type="checkbox"/>	<input type="checkbox"/>

8. Визначте заходи, здійснені французьким урядом у період перебування Ф. Міттерана на посаді президента Франції

1. Націоналізація французьких великих банків і промислових підприємств
2. Збільшення витрат на соціальні програми
3. Скорочення інфляції та зростання курсу франка
4. Часткова децентралізація влади
5. Розширення державного сектору економіки
6. Прийняття законів про права французьких працівників і профспілок

**A** 1, 2, 4  
**Б** 1, 4, 6  
**В** 2, 4, 5  
**Г** 3, 5, 6

A	Б	В	Г
<input type="checkbox"/>	<input type="checkbox"/>	<input type="checkbox"/>	<input type="checkbox"/>

**Завдання 9** передбачає визначення назви документа, події, явища, про які йдеться

9. Укажіть місце проведення конференції, на якій було підписано документ, уривок з якого наведено

*«Згідно із цим наші відповідні уряди через представників, що ... представили свої повноваження, знайдені в необхідній формі, погоди-*

лися із цим Статутом Організації Об'єднаних Націй і цим засновують організацію під назвою "Об'єднані Нації».

---



---

**Завдання 10** передбачає складання розгорнутої письмової відповіді за планом:

- 1)** наведіть короткі відомості про автора та обставини (час, місце) створення джерела, узагальніть, про що йдеться в документі;
- 2)** визначте, як автор ставиться до описуваних подій, процесів, явищ або історичних діячів, з'ясуйте значення подій і явищ, про які йдеться в джерелі;
- 3)** поміркуйте, у чому полягає історичне значення джерела, сформулюйте власне ставлення до описаних подій, процесів, явищ або історичних діячів.

**10.** Проаналізуйте уривок з книжки та дайте йому оцінку

*З книжки Л. Шебаршина «Рука Москви.  
Записки начальника радянської розвідки»*

*«... Індіра Ганді була видатним державним діячем і жорстким політиком. Вона тримала в покорі все керівництво правлячої партії та безжально викидала за борт тих, хто вичерпав свою корисність або чия лояльність викликала в неї сумніви. Проте Індіра не була диктатором у демократичній країні. Вона чутливо реагувала на прояви громадської думки, рахувалася з опозицією, з мінливими настроями у парламенті та власній партії.*

*На закритих нарадах покійний прем'єр-міністр полюбляла нагадувати, що в держави не існує постійних друзів і ворогів, постійними є лише національні інтереси. Саме це й було основою її патріотичної зовнішньої політики».*

---



---



---



---



---



---



---



---



---



---

У завданнях 11–12\* запропоновано чотири варіанти відповідей, серед яких треба обрати ОДИН ПРАВИЛЬНИЙ

11. Визначте перелік понять, які характеризують період наростання кризових явищ 1950–1970-х років у країнах Східної Європи

- А** Економічні реформи, приватизація, лібералізація, революція, комуністичний режим, дисидентський рух  
**Б** Економічні реформи, «перебудова», лібералізація, планово-адміністративна система, комуністичний режим, дисидентський рух  
**В** Економічні реформи, лібералізація, реабілітація, планово-адміністративна система, комуністичний режим, дисидентський рух  
**Г** Економічні реформи, приватизація, лібералізація, планово-адміністративна система, комуністичний режим, дисидентський рух

А	Б	В	Г
<input type="checkbox"/>	<input type="checkbox"/>	<input type="checkbox"/>	<input type="checkbox"/>

12. Які з наведених тверджень характеризують американського проповідника Мартіна Лютера Кінга?

- Лідер руху за громадянські права темношкірого населення в США 1960-х років
- Лауреат Нобелівської премії миру 1964 р.
- Лідер Африканського національного конгресу
- Вбивство цього діяча стало причиною масових афроамериканських повстань у 1968 р.
- Став першим темношкірим президентом США
- У 1994 р. став президентом Південноафриканської Республіки

- А** 1, 2, 4  
**Б** 1, 3, 5  
**В** 2, 4, 6  
**Г** 3, 5, 6

А	Б	В	Г
<input type="checkbox"/>	<input type="checkbox"/>	<input type="checkbox"/>	<input type="checkbox"/>



## ВАРІАНТ 8

У завданнях 1–8 запропоновано чотири варіанти відповідей, серед яких треба обрати ОДИН ПРАВИЛЬНИЙ

1. Якою цифрою позначено на картосхемі Югославії місце етнічного конфлікту, розпочатого в 1992 р.?



- А 1  
Б 2  
В 3  
Г 4

А	Б	В	Г

2. Визначте дату оголошення Австро-Угорщиною війни Сербії

- А 28 червня 1914 р.  
Б 28 липня 1914 р.  
В 1 серпня 1914 р.  
Г 4 серпня 1914 р.

А	Б	В	Г

3. Розташуйте в хронологічній послідовності міжнародні конференції, проведені під час Другої світової війни

- Потсдамська конференція
- Конференція в Сан-Франциско
- Тегеранська конференція
- Кримська (Ялтинська) конференція

- А** 2, 1, 3, 4  
**Б** 3, 4, 2, 1  
**В** 1, 3, 2, 4  
**Г** 4, 3, 1, 2

А	Б	В	Г
<input type="text"/>	<input type="text"/>	<input type="text"/>	<input type="text"/>

4. Який захід було здійснено урядом Народного фронту у Франції?

- А** Надання виборчих прав жінкам  
**Б** Проведення фінансової реформи  
**В** Націоналізація військової промисловості  
**Г** Заборона діяльності фашистських ліг

А	Б	В	Г
<input type="text"/>	<input type="text"/>	<input type="text"/>	<input type="text"/>

5. Хто із зображених діячів був обраний на посаду президента США від Демократичної партії?



- А** 1, 2, 3  
**Б** 1, 2, 4  
**В** 1, 3, 4  
**Г** 2, 3, 4

А	Б	В	Г
<input type="text"/>	<input type="text"/>	<input type="text"/>	<input type="text"/>

6. Укажіть результати проведення Потсдамської конференції (17 липня – 2 серпня 1945 р.)

- Створення системи чотиристоронньої окупації Німеччини: СРСР, США, Великою Британією та Францією
- Створення Рейнської демілітаризованої зони
- Капітуляція Німеччини
- Денонсація пакту про нейтралітет між СРСР та Японією
- Створення Ради міністрів закордонних справ СРСР, США, Великої Британії, Франції та Китаю для підготовки мирних угод з Німеччиною та союзниками
- Відкриття Другого фронту в Європі

- А** 1, 3  
**Б** 1, 5  
**В** 2, 3  
**Г** 4, 6

А	Б	В	Г
<input type="text"/>	<input type="text"/>	<input type="text"/>	<input type="text"/>

7. Укажіть положення Сен-Жерменського мирного договору (10 вересня 1919 р.)

- Розпад Австро-Угорської імперії на декілька самостійних держав
- Заборона Австрії мати військово-морський флот і військову авіацію
- Заборона загальної військової повинності в Німеччині
- Створення демілітаризованої зони на схід від Рейну

5. Капітуляція Австрії  
 6. Передача Чехословаччині Богемії, Моравії і Сілезії
- А** 1, 3, 4  
**Б** 1, 2, 6  
**В** 3, 4, 5  
**Г** 2, 5, 6

А	Б	В	Г
<input type="checkbox"/>	<input type="checkbox"/>	<input type="checkbox"/>	<input type="checkbox"/>

**8.** Які твердження стосуються відомого британського державного та політичного діяча Д. Ллойд Джорджа?

1. Очолював британську делегацію на Паризькій мирній конференції 1919–1920 рр.  
 2. Автор програми «14 пунктів»  
 3. Останній прем'єр-міністр Великої Британії від Ліберальної партії  
 4. За його правління Індія отримала статус домініону Великої Британії  
 5. Лейтмотивом діяльності його уряду було гасло «Розбудити Велику Британію!»  
 6. Виступав проти підписання Версальського мирного договору

- А** 1, 2, 4  
**Б** 2, 3, 4  
**В** 1, 3, 5  
**Г** 3, 4, 6

А	Б	В	Г
<input type="checkbox"/>	<input type="checkbox"/>	<input type="checkbox"/>	<input type="checkbox"/>

**Завдання 9** передбачає визначення назви документа, події, явища, про які йдеться

**9.** Визначте автора наведеного уривку

*«За нашого життя ми маємо шанс стати суспільством не тільки потужним і багатим, але досягти більшого, дійти до Великого Суспільства. Велике Суспільство спирається на заможності і свободі для всіх. Воно вимагає ліквідування злиднів і несправедливості».*

---



---



---



---



---

Завдання 10 передбачає складання розгорнутої письмової відповіді за планом:

- 1)** наведіть короткі відомості про автора та обставини (час, місце) створення джерела, узагальніть, про що йдеться в документі;  
**2)** визначте, як автор ставиться до описуваних подій, процесів, явищ або історичних діячів, з'ясуйте значення подій і явищ, про які йдеться в джерелі;



У завданнях 11–12\* запропоновано чотири варіанти відповідей, серед яких треба обрати ОДИН ПРАВИЛЬНИЙ

**11.** Визначте перелік понять, які характеризують повосний політичний та суспільно-економічний розвиток Великої Британії

- А** Лейборизм, «рейганоміка», стерлінгова зона, тред-юніони, колоніальна імперія, «тетчеризм»  
**Б** Лейборизм, «економічне диво», стерлінгова зона, тред-юніони, деколонізація, «тетчеризм»  
**В** Комунізм, «економічне диво», стерлінгова зона, тред-юніони, колоніальна імперія, «тетчеризм»  
**Г** Комунізм, «економічне диво», стерлінгова зона, тред-юніони, деколонізація, «рейганоміка»

А	Б	В	Г
<input type="checkbox"/>	<input type="checkbox"/>	<input type="checkbox"/>	<input type="checkbox"/>

**12.** Які з наведених тверджень стосуються американського драматурга Ю. О'Ніла?

- Представник американського театрального мистецтва, твори якого визначили новий шлях розвитку театру в США
- Автор п'єси «Довга подорож у ніч»
- Автор п'єси «Трамвай "Бажання"»
- Лауреат Нобелівської премії з літератури 1936 р.
- Представник європейської «драми абсурду»
- Відомий американський кіноактор 1930–1940-х років

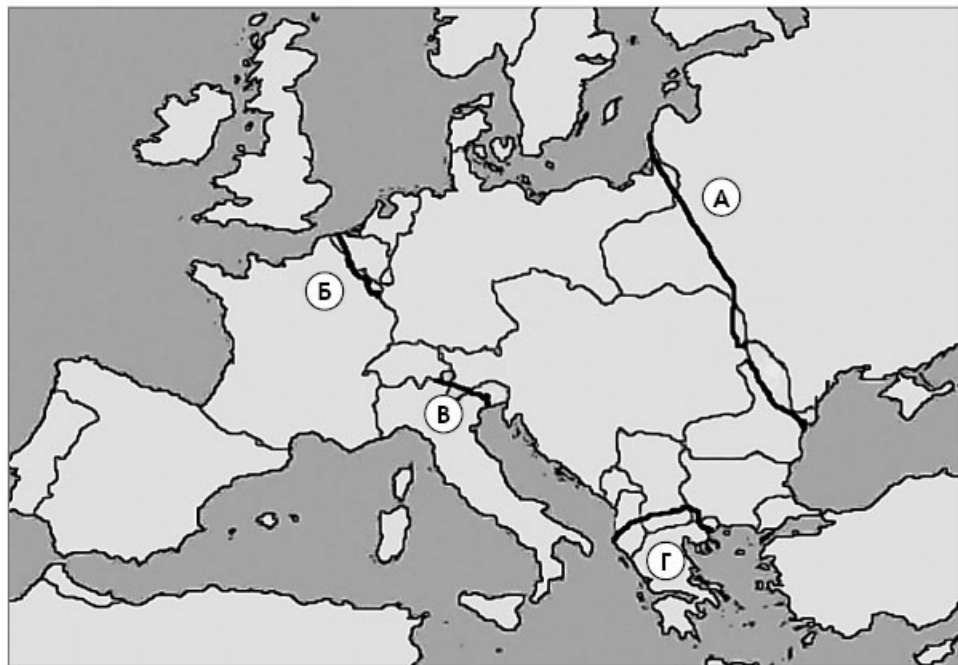
- А** 1, 2, 4  
**Б** 1, 2, 6  
**В** 2, 4, 5  
**Г** 2, 3, 6

А	Б	В	Г
<input type="checkbox"/>	<input type="checkbox"/>	<input type="checkbox"/>	<input type="checkbox"/>

## ВАРІАНТ 9

У завданнях 1–8 запропоновано чотири варіанти відповідей, серед яких треба обрати ОДИН ПРАВИЛЬНИЙ

1. Якою літерою на картосхемі Першої світової війни позначено Східний фронт?



А	Б	В	Г
<input type="checkbox"/>	<input type="checkbox"/>	<input type="checkbox"/>	<input type="checkbox"/>

2. Визначте рік підписання Заключного акту Наради з питань безпеки і співробітництва в Європі (м. Гельсінкі)

- А 1971 р.  
Б 1973 р.  
В 1975 р.  
Г 1977 р.

А	Б	В	Г
<input type="checkbox"/>	<input type="checkbox"/>	<input type="checkbox"/>	<input type="checkbox"/>

3. Установіть хронологічну послідовність подій Другої світової війни

1. Курська битва
2. Напад японської авіації на воєнно-морську базу США Перл-Харбор
3. Атомне бомбардування міст Хіросіма і Нагасакі
4. Відкриття Другого фронту в Європі

- А 1, 3, 4, 2  
Б 2, 1, 4, 3  
В 3, 2, 1, 4  
Г 3, 4, 1, 2

А	Б	В	Г
<input type="checkbox"/>	<input type="checkbox"/>	<input type="checkbox"/>	<input type="checkbox"/>

4. Визначте ізраїльського прем'єр-міністра, який став лауреатом Нобелівської премії миру за внесок в урегулювання Близькосхідної проблеми

**А** Б. Нетаньяху  
**Б** Є. Барак  
**В** І. Рабін  
**Г** А. Шарон

А Б В Г

--	--	--	--

5. Коли відбувалася зображена на фото подія?

**А** Липень 1943 р.  
**Б** Жовтень 1943 р.  
**В** Червень 1944 р.  
**Г** Травень 1945 р.



А Б В Г

--	--	--	--

6. Укажіть передумови «Великої депресії» в США

- Відмова США від вступу до Ліги Націй
- Протекціоністська політика держави
- Криза перевиробництва
- Неспроможність задовольнити високий попит населення на товари
- Надання «дешевих» кредитів населенню
- Зовнішній борг Великій Британії та Франції

**А** 1, 3  
**Б** 2, 4  
**В** 3, 5  
**Г** 5, 6

А Б В Г

--	--	--	--

7. Які заходи характеризують режим «воєнного комунізму» в СРСР?

- Встановлення тотального державного контролю над економікою
- Організація кооперативів
- Використання праці наймитів на селі
- Введення продрозкладки
- Переведення підприємств на госпрозрахунок
- Скасування грошового обміну, запровадження карткової системи

**А** 1, 3, 5  
**Б** 1, 4, 6  
**В** 2, 4, 5  
**Г** 3, 4, 6

А Б В Г

--	--	--	--

8. Які з наведених тверджень стосуються прем'єр-міністра Великої Британії У. Черчілля?

- Прем'єр-міністр Великої Британії в 1940–1945 рр., 1951–1955 рр.
- Один з лідерів Лейбористської партії Великої Британії

3. Учасник Паризької мирної конференції 1919–1920 рр.
4. Один з ініціаторів створення антигітлерівської коаліції з США та СРСР
5. Автор відомої промови в м. Фултон, яка ознаменувала початок «холодної війни»
6. Один з творців Версальської системи

**А** 1, 3, 4

**Б** 1, 4, 5

**В** 2, 4, 6

**Г** 4, 5, 6

А Б В Г

--	--	--	--

**Завдання 9** передбачає визначення назви документа, події, явища, про які йдеться

9. Укажіть, у якому році було підписано договір, уривок з якого наведено

*«...1. Об'єднана Німеччина матиме територію Німецької Демократичної Республіки, Федеративної Республіки Німеччини та всього Берліна... Підтвердження остаточного характеру кордонів об'єднаної Німеччини є суттєвою частиною мирного влаштування в Європі...*

*5. Уряди Сполученого королівства Великої Британії та Північної Ірландії, Сполучених Штатів Америки, Союзу Радянських Соціалістичних Республік і Французької Республіки офіційно беруть до уваги відповідні зобов'язання та заяви урядів Німецької Демократичної Республіки і Федеративної Республіки Німеччини і заявляють, що з їхнім здійсненням підтверджено остаточний характер кордонів об'єднаної Німеччини».*

**Завдання 10** передбачає складання розгорнутої письмової відповіді за планом:

- 1) наведіть короткі відомості про автора та обставини (час, місце) створення джерела, узагальніть, про що йдеться в документі;
- 2) визначте, як автор ставиться до описуваних подій, процесів, явищ або історичних діячів, з'ясуйте значення подій і явищ, про які йдеться в джерелі;
- 3) поміркуйте, у чому полягає історичне значення джерела, сформулюйте власне ставлення до описаних подій, процесів, явищ або історичних діячів.

10. Проаналізуйте уривок з промови та дайте йому оцінку

*З промови президента США Дж. Ф. Кеннеді 10 червня 1963 р. у Вашингтонському університеті*

*«Сполучені Штати не домагаються "Рах Амерікана", накидаючи його іншим державам за допомогою зброї. В епоху, коли великі держави мають ядерну зброю, тотальна війна є абсурдом. Це є абсурдом тому, що один-єдиний ядерний заряд у десять разів перевищує силу всіх снарядів, випущених союзниками під час Другої світової війни. Тотальна війна є абсурдною тому, що смертельно отруєні продукти ядерного*





У завданнях 11–12\* запропоновано чотири варіанти відповідей, серед яких треба обрати ОДИН ПРАВИЛЬНИЙ

**11. Визначте перелік договорів, які стосуються процесу економічної та політичної інтеграції країн Західної Європи в повоснний період**

1. «План Маршалла»
2. Договір про створення Європейського об'єднання вугілля та сталі
3. Римський договір
4. Маастрихтська угода
5. Дейтонська угода
6. Лісабонський договір

**А** 1, 2, 4, 5

**Б** 1, 2, 3, 5

**В** 2, 3, 4, 6

**Г** 3, 4, 5, 6

А Б В Г

--	--	--	--

**12. Які з наведених тверджень стосуються індійського державного і політичного діяча Джавахарлала Неру?**

1. Засновник партії «Джаната парті»
2. Ініціатор створення незалежної сикхської держави Халістан
3. Перший прем'єр-міністр незалежної Індії
4. Загинув від рук сикхських екстремістів у 1984 р.
5. Здійснював економічний курс, спрямований на розвиток трьох секторів економіки: державного, приватного та змішаного
6. Один із засновників Руху неприєднання

**А** 1, 2, 4

**Б** 1, 3, 4

**В** 2, 5, 6

**Г** 3, 5, 6

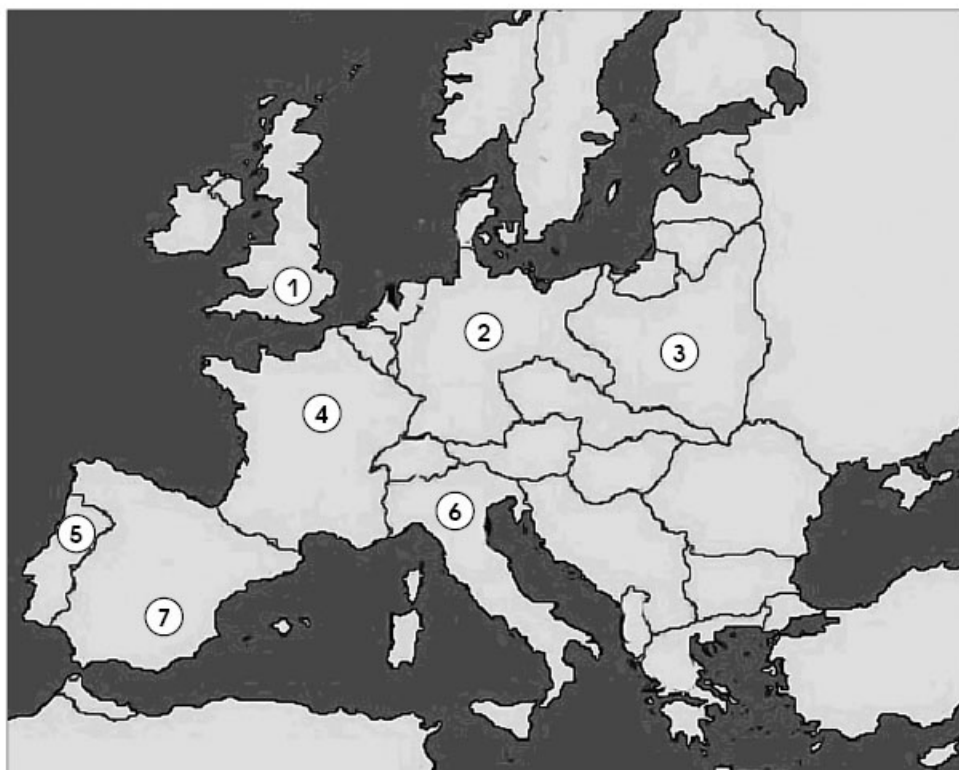
А Б В Г

--	--	--	--

## ВАРІАНТ 10

У завданнях 1–8 запропоновано чотири варіанти відповідей, серед яких треба обрати ОДИН ПРАВИЛЬНИЙ

1. Якими цифрами позначено на картосхемі країни, у яких у 1930-х роках було встановлено тоталітарні та диктаторські режими?



- А 1, 3, 4  
 Б 3, 4, 6  
 В 2, 5, 6  
 Г 5, 6, 7

А Б В Г

--	--	--	--

2. Визначте дату підписання Антикомінтернівського пакту

- А 25 листопада 1936 р.  
 Б 25 липня 1937 р.  
 В 15 жовтня 1938 р.  
 Г 15 березня 1939 р.

А Б В Г

--	--	--	--

3. Установіть хронологічну послідовність історичних подій другої половини ХХ ст.

1. Об'єднання Німеччини
2. Карибська криза
3. Проголошення П'ятої республіки у Франції
4. Початок «холодної війни»

- А** 2, 3, 1, 4  
**Б** 3, 1, 4, 2  
**В** 4, 3, 2, 1  
**Г** 4, 1, 2, 3

А	Б	В	Г

4. Яка подія стала офіційним приводом до початку Першої світової війни?

- А** Створення Троїстого союзу  
**Б** Революція в Росії  
**В** Вбивство в Сараєво ерцгерцога Франца Фердинанда  
**Г** Призначення Шліффена начальником німецького генерального штабу

А	Б	В	Г

5. На якому фото зображено вождя італійських фашистів?



А



Б



В



Г

А	Б	В	Г

6. Які факти, свідчили про розрядку міжнародної напруженості на початку 1970-х років?

1. Підписання договорів ОСВ-1 та ОСВ-2
2. Розробка у США програми СОІ (Стратегічної оборонної ініціативи)
3. Економічна криза 1973–1974 рр. та послаблення контролю західних країн над своїми зонами впливу
4. Проведення Наради з питань безпеки і співробітництва в Європі
5. Розміщення в країнах Східної Європи ракет малого радіуса дії
6. Виведення радянських військ з Афганістану

- А** 1, 4  
**Б** 2, 3  
**В** 4, 5  
**Г** 5, 6

А	Б	В	Г

7. Укажіть характерні риси політики «великого стрибка» у Китаї

1. Піднесення китайської економіки
2. Ліквідація ринків та заборона торгівлі, безплатний розподіл продовольства
3. Відмова від централізованого директивного плану і перехід до ринкової економіки
4. Створення в сільському господарстві «народних комун», які замінили кооперативи

5. Форсована індустріалізація  
 6. Створення невеликих приватних підприємств у торгівлі та сфері обслуговування

**A** 1, 2, 4  
**Б** 2, 3, 5  
**В** 1, 3, 6  
**Г** 2, 4, 5

A B B Г

--	--	--	--

8. Які з наведених тверджень стосуються періоду перебування М. Хрущова на посаді першого секретаря ЦК КПРС та голови Ради Міністрів СРСР?

1. Початок процесу «десталінізації»  
 2. Запровадження галузевого принципу управління економікою  
 3. Значне скорочення державного і партійного апарату  
 4. Часткова лібералізація суспільного життя і реабілітація жертв сталінських репресій  
 5. Виникнення альтернативних політичних партій  
 6. Ліквідація галузевих міністерств і створення раднаргоспів

**A** 1, 2, 5  
**Б** 1, 4, 5  
**В** 1, 4, 6  
**Г** 3, 5, 6

A B B Г

--	--	--	--

**Завдання 9** передбачає визначення назви документа, події, явища, про які йдеться

9. Визначте автора виступу, уривок з якого наведено

*«Я не претендую на право автора ідеї створення народних комун, я лише вніс пропозицію... Я... закликав до масової виплавки 10,7 млн тонн сталі, і якщо ви схвалювали це, теж можете розділити зі мною частину провини... Весь світ проти досвіду народних комун... Може, ми зазнали цілковитої поразки? Ми зазнали лише часткової поразки».*

**Завдання 10** передбачає складання розгорнутої письмової відповіді за планом:

- 1) наведіть короткі відомості про автора та обставини (час, місце) створення джерела, узагальніть, про що йдеться в документі;  
 2) визначте, як автор ставиться до описуваних подій, процесів, явищ або історичних діячів, з'ясуйте значення подій і явищ, про які йдеться в джерелі;  
 3) поміркуйте, у чому полягає історичне значення джерела, сформулюйте власне ставлення до описаних подій, процесів, явищ або історичних діячів.



У завданнях 11–12\* запропоновано чотири варіанти відповідей, серед яких треба обрати ОДИН ПРАВИЛЬНИЙ

**11.** Визначте перелік понять, які відносяться до періоду існування прорадянських режимів у країнах Східної Європи

- А** Коаліційний уряд, комуністична партія, індустріалізація, кооперація, національна рада, культ вождя, приватизація  
**Б** Комуністична партія, індустріалізація, кооперація, Рада Європи, націоналізація  
**В** Рада економічної взаємодопомоги, комуністична партія, індустріалізація, кооперація, національна рада, культ вождя  
**Г** Рада економічної взаємодопомоги, комуністична партія, приватизація, індустріалізація, поміщицьке землеволодіння, націоналізація

А Б В Г

--	--	--	--

**12.** Які з наведених тверджень стосуються чеського державного і політичного діяча В. Гавела?

- У листопаді 1989 р. очолив Громадянський форум у Чехословаччині
- У 1979 р. організував нелегальну Балтійську вільну профспілку
- Один із засновників загальнонаціональної польської профспілки «Солідарність»
- Один з ініціаторів руху «Хартія-77»
- У грудні 1989 р. обраний президентом Чехословаччини
- У грудні 1990 р. обраний президентом Республіки Польща

- А** 1, 4, 5  
**Б** 2, 3, 4  
**В** 2, 4, 5  
**Г** 2, 3, 6

А Б В Г

--	--	--	--

## ВАРІАНТ 11

У завданнях 1–8 запропоновано чотири варіанти відповідей, серед яких треба обрати ОДИН ПРАВИЛЬНИЙ

1. Якими цифрами позначено на картосхемі країни, що входили до складу Антанти напередодні Першої світової війни?



- А 1, 2, 3  
 Б 1, 3, 4  
 В 1, 3, 4  
 Г 3, 5, 6

А Б В Г

--	--	--	--

2. Укажіть дату відкриття Другого фронту в Європі

- А 30 травня 1942 р.  
 Б 3 вересня 1943 р.  
 В 6 червня 1944 р.  
 Г 4 лютого 1945 р.

А Б В Г

--	--	--	--

3. Розташуйте в хронологічній послідовності події історії Німеччини 1920–1930-х років

- Окупація Руру французькими та бельгійськими військами
- Утворення Ради народних уповноважених (РНУ)
- Встановлення нацистської диктатури
- Прийняття Веймарської конституції

- А 1, 4, 3, 2  
 Б 3, 1, 4, 2  
 В 2, 4, 1, 3  
 Г 4, 3, 2, 1

А Б В Г

--	--	--	--



4. Яка з названих міжнародних конференцій відбулася під час Другої світової війни?

- А** Генуезька
- Б** Тегеранська
- В** Паризька
- Г** Рапальська

А Б В Г

--	--	--	--

5. Укажіть фото радянського державного діяча, з політичним курсом якого пов'язані поняття «перебудова», «прискорення», «гласність», «нове політичне мислення»



**А**



**Б**



**В**



**Г**

А Б В Г

--	--	--	--

6. Укажіть наслідки «Руху 4 травня» 1919 р. у Китаї

1. Створення партії Гоміндан
2. Встановлення колоніальної залежності Китаю від Японії
3. Зняття з посад прояпонськи налаштованих китайських сановників
4. Повалення монархічного правління в Китаї
5. Відмова китайського уряду підписати Версальський мирний договір
6. Проголошення незалежності Китаю та утворення КНР

- А** 1, 3
- Б** 2, 3
- В** 3, 5
- Г** 4, 6

А Б В Г

--	--	--	--

7. Визначте риси, притаманні новій економічній політиці (неп) у СРСР

1. Повна націоналізація промислових підприємств
2. Запровадження продподатку
3. Переведення підприємств на госпрозрахунок
4. Запровадження безгрошових розрахунків та прямого товарообміну
5. Передача землі в оренду
6. Державна монополія на заготівлю та продаж збіжжя

- А** 1, 2, 4
- Б** 1, 3, 5
- В** 2, 3, 5
- Г** 3, 4, 6

А Б В Г

--	--	--	--

**8. Які з наведених тверджень стосуються президента США Р. Рейгана?**

1. Президент США 1981–1989 рр.
2. Завдяки вдалій політиці президентської адміністрації у США відбулося значне економічне зростання
3. Лідер Демократичної партії США
4. Прихильник стратегії жорсткого державного регулювання економіки
5. У період його перебування при владі економічна система США зазнала глибокої кризи
6. У 1983 р. проголосив СРСР «імперією зла» та оголосив про початок довгострокової програми Стратегічної оборонної ініціативи (СОІ)

**А** 1, 2, 3**Б** 2, 3, 5**В** 1, 2, 6**Г** 3, 4, 6

А	Б	В	Г
<input type="checkbox"/>	<input type="checkbox"/>	<input type="checkbox"/>	<input type="checkbox"/>

**Завдання 9** передбачає визначення назви документа, події, явища, про які йдеться

**9. Визначте назву якої країни пропущено в уривку з документа**

*«Стаття 1. Інші держави, що домовляються... згодні:*

*1. Поважати суверенітет, незалежність і територіальну та адміністративну недоторканність \_\_\_\_\_.*

*3. Використати свій вплив з метою справжнього встановлення та підтримання принципу "рівних можливостей" для торгівлі й промисловості всіх націй на всій території \_\_\_\_\_.*

*Стаття 3. У цілях дієвішого застосування принципу "відчинених дверей", тобто рівності можливостей, що відкриваються в \_\_\_\_\_ для торгівлі й промисловості ... держави, що домовляються, погодилися у тому, що вони не шукатимуть, а рівно не підтримуватимуть своїх громадян у пошуках: угод, що могли б сприяти встановленню на їхню користь будь-якої загальної вищості в правах стосовно торгового чи економічного розвитку в будь-якому певному районі \_\_\_\_\_*

**Завдання 10** передбачає складання розгорнутої письмової відповіді за планом:

**1)** наведіть короткі відомості про автора та обставини (час, місце) створення джерела, узагальніть, про що йдеться в документі;

**2)** визначте, як автор ставиться до описуваних подій, процесів, явищ або історичних діячів, з'ясуйте значення подій і явищ, про які йдеться в джерелі;

**3)** поміркуйте, у чому полягає історичне значення джерела, сформулюйте власне ставлення до описаних подій, процесів, явищ або історичних діячів.



У завданнях 11–12\* запропоновано чотири варіанти відповідей, серед яких треба обрати ОДИН ПРАВИЛЬНИЙ

11. Які з вказаних явищ характерні для повоєнної історії Японії?

- А** «Великий стрибок», «економічне диво», «зелена революція»  
**Б** «Економічне диво», патерналізм, обмеження влади імператора  
**В** «Зелена революція», патерналізм, «культурна революція»  
**Г** «Культурна революція», обмеження влади імператора, «великий стрибок»

А	Б	В	Г
<input type="checkbox"/>	<input type="checkbox"/>	<input type="checkbox"/>	<input type="checkbox"/>

12. Які з наведених тверджень стосуються румунського державного і політичного діяча Н. Чаушеску?

- Перший секретар ЦК Румунської комуністичної партії з 1965 р.
- Обіймав посаду президента Румунії
- Ініціював вихід Румунії з Організації Варшавського договору та Ради економічної взаємодопомоги
- Підтримував процес «перебудови» в СРСР
- У результаті державного перевороту був усунутий від влади і засуджений до страти
- Один з ініціаторів введення військ ОВД до Чехословаччини у 1968 р.

- А** 1, 2, 5  
**Б** 1, 3, 6  
**В** 2, 4, 5  
**Г** 3, 4, 6

А	Б	В	Г
<input type="checkbox"/>	<input type="checkbox"/>	<input type="checkbox"/>	<input type="checkbox"/>

## ВАРІАНТ 12

У завданнях 1–8 запропоновано чотири варіанти відповідей, серед яких треба обрати ОДИН ПРАВИЛЬНИЙ

1. Якими цифрами позначено на картосхемі країни, що зникли з політичної карти світу протягом 1980–1990-х років?



- А 1, 2, 3, 5  
 Б 2, 3, 4, 5  
 В 2, 4, 6, 7  
 Г 4, 5, 6, 7

А Б В Г

--	--	--	--

2. Коли було укладено пакт Бріана-Келлога?

- А 6 лютого 1922 р.  
 Б 16 квітня 1922 р.  
 В 16 серпня 1924 р.  
 Г 27 серпня 1928 р.

А Б В Г

--	--	--	--

3. Розташуйте в хронологічній послідовності події, які відбулися наприкінці і після завершення Першої світової війни

1. Проведення Вашингтонської конференції
2. Підписання Комп'єнського перемир'я
3. Початок роботи Паризької мирної конференції
4. Підписання Версальського мирного договору

- А 1, 3, 4, 2  
 Б 2, 1, 4, 3  
 В 2, 3, 4, 1  
 Г 4, 2, 1, 3

А Б В Г

--	--	--	--

4. Який захід було здійснено «національним» урядом Р. Макдональда, сформованим у Великій Британії у 1931 р.?

- A** Збільшення розміру допомоги безробітним  
**Б** Націоналізація шахт і залізниць  
**В** Скасування золотого стандарту фунта стерлінгів  
**Г** Запровадження податку на капітал

А	Б	В	Г
<input type="checkbox"/>	<input type="checkbox"/>	<input type="checkbox"/>	<input type="checkbox"/>

5. Визначте імена політичних діячів, зображених на фото



- A** Б. Нетаньяху, Р. Рейган, Я. Арафат  
**Б** І. Рабін, Дж. Буш, Я. Арафат  
**В** І. Рабін, Б. Клінтон, Я. Арафат  
**Г** І. Рабін, Б. Клінтон, Х. Мубарак

А	Б	В	Г
<input type="checkbox"/>	<input type="checkbox"/>	<input type="checkbox"/>	<input type="checkbox"/>

6. Укажіть наслідки Першої світової війни

1. Початок світової економічної кризи («Великої депресії»)
2. Ізоляція Великої Британії та Франції від участі в міжнародній політиці
3. Зростання впливу США в Тихоокеанському басейні
4. Розпад Російської, Німецької, Австро-Угорської та Османської імперій
5. Крах світової колоніальної системи
6. Утвердження провідної ролі Великої Британії та Франції у світовій політиці

- A** 1, 3  
**Б** 2, 5  
**В** 3, 4  
**Г** 3, 6

А	Б	В	Г
<input type="checkbox"/>	<input type="checkbox"/>	<input type="checkbox"/>	<input type="checkbox"/>

**7. Визначте характерні риси реформ Ден Сяопіна у Китаї**

1. Відмова від централізованого директивного плану і перехід до ринкової економіки
2. Ліквідація ринків та заборона торгівлі, безплатний розподіл продовольства
3. Усуспільнення засобів виробництва та особистого майна громадян країни
4. Модернізація системи управління відповідно до вимог науково-технічної революції
5. Надання селянам землі в довгострокову оренду
6. Створення в сільському господарстві «народних комун», які замінили кооперативи

**А** 1, 2, 4**Б** 1, 3, 6**В** 1, 4, 5**Г** 3, 4, 5

А Б В Г

--	--	--	--

**8. Які з наведених тверджень стосуються Першого секретаря ЦК КПРС М. Горбачова?**

1. Входив до складу Державного комітету з надзвичайного стану (ДКНС)
2. У березні 1985 р. став Першим секретарем ЦК КПРС
3. Перший президент СРСР
4. У період його перебування при владі почався новий етап «холодної війни»
5. Після його приходу до влади розпочався період «перебудови»
6. Був учасником зустрічі в Біловезькій пущі 8 грудня 1991 р.

**А** 1, 3, 4**Б** 2, 3, 4**В** 2, 3, 5**Г** 3, 5, 6

А Б В Г

--	--	--	--

**Завдання 9** передбачає визначення назви документа, події, явища, про які йдеться

**9. Визначте назву конференції, де було підписано Декларацію, уривок з якої наведено**

*«Ми, Президент Сполучених Штатів, Прем'єр-міністр Великої Британії і Прем'єр Радянського Союзу, висловлюємо нашу рішучість у тому, що наші країни працюватимуть спільно як під час війни, так і в наступний мирний час.»*

*Що стосується війни, представники наших військових штабів брали участь у переговорах за круглим столом, і ми погодили наші плани знищення німецьких збройних сил. Ми дійшли повної згоди щодо масштабу і строків операцій, які будуть здійснені зі сходу, заходу і півдня.»*





У завданнях 11–12\* запропоновано чотири варіанти відповідей, серед яких треба обрати ОДИН ПРАВИЛЬНИЙ

**11.** Які з наведених понять відносяться до періоду переходу від конфронтації до співробітництва в міжнародних відносинах 1970–1980-х років?

- А** «Нове політичне мислення», Організація з питань безпеки і співробітництва в Європі, програма НАТО «Партнерство заради миру»  
**Б** Організація з питань безпеки і співробітництва в Європі, біполярний світ, «розрядка»  
**В** «Розрядка», біполярний світ, «нове політичне мислення»  
**Г** Біполярний світ, програма НАТО «Партнерство заради миру», «нове політичне мислення»

А Б В Г

--	--	--	--

**12.** Які з вказаних реформ були проведені першим турецьким президентом Мустафою Кемалем Ататюрком?

1. Дозволено вільну діяльність опозиційних партій
2. Відокремлено церкву від держави
3. Заборонено громадянський шлюб
4. Дозволено багатозлюбність
5. Запровадження європейського календаря і системи літочислення
6. Встановлено світське судочинство за європейським зразком

- А** 1, 2, 4  
**Б** 1, 4, 5  
**В** 2, 5, 6  
**Г** 3, 5, 6

А Б В Г

--	--	--	--

## ВАРІАНТ 13

У завданнях 1–8 запропоновано чотири варіанти відповідей, серед яких треба обрати ОДИН ПРАВИЛЬНИЙ

1. Якими цифрами позначено на картосхемі країни, що входили до Троїстого союзу напередодні Першої світової війни?



- А 1, 3, 4  
 Б 1, 4, 5  
 В 2, 5, 6  
 Г 3, 4, 6

А	Б	В	Г
<input type="checkbox"/>	<input type="checkbox"/>	<input type="checkbox"/>	<input type="checkbox"/>

2. У якому році було підписано Договір про Європейський Союз в м. Маастрихт?

- А 1990 р.  
 Б 1992 р.  
 В 1994 р.  
 Г 1996 р.

А	Б	В	Г
<input type="checkbox"/>	<input type="checkbox"/>	<input type="checkbox"/>	<input type="checkbox"/>

3. Установіть хронологічну послідовність подій, які відбулися напередодні Другої світової війни

1. Вступ німецьких військ до Австрії
2. Напад Італії на Ефіопію
3. Підписання пакту Молотова–Ріббентропа
4. Підписання Мюнхенської угоди

- А 2, 1, 4, 3  
 Б 2, 3, 1, 4  
 В 3, 4, 1, 2  
 Г 4, 2, 3, 1

А	Б	В	Г
<input type="checkbox"/>	<input type="checkbox"/>	<input type="checkbox"/>	<input type="checkbox"/>

4. Визначте ім'я голови ЦК КПК Китаю, автора експерименту під назвою «великий стрибок»

- А** Юань Шікай
- Б** Чан Кайші
- В** Мао Цзедун
- Г** Цзян Цземін

А Б В Г

--	--	--	--

5. Коли відбувалися зображені на фото події?



- А** 11 вересня 2001 р.
- Б** 7 жовтня 2001 р.
- В** 5 лютого 2003 р.
- Г** 20 березня 2003 р.

А Б В Г

--	--	--	--

6. Укажіть наслідки підписання Мюнхенської угоди

1. Передання Судетської області Німеччині
2. Створення автономної Судетської області у складі Чехословаччини
3. Проголошення Чехословаччини республікою
4. Проголошення незалежності Чехословаччини
5. Передання Угорщині частини Словаччини та Закарпаття
6. Початок ліквідації Чехословацької держави

- А** 1, 2, 4
- Б** 2, 3, 5
- В** 3, 4, 6
- Г** 1, 5, 6

А Б В Г

--	--	--	--

7. Які заходи були здійснені у Великій Британії першим лейбористським урядом Р. Макдональда?

1. Збільшення розміру допомоги безробітним
2. Націоналізація шахт і залізниць
3. Зменшення мита на окремі товари
4. Збільшення видатків на житлове будівництво
5. Запровадження податку на капітал
6. Ліквідація державних органів контролю за економікою

**А** 1, 3, 4

**Б** 2, 3, 5

**В** 3, 5, 6

**Г** 4, 5, 6

А Б В Г

--	--	--	--

8. Які з наведених тверджень стосуються польського політичного діяча Леха Валенси?

1. У листопаді 1989 р. очолив Громадянський форум
2. У 1979 р. організував нелегальну Балтійську вільну профспілку
3. Один із засновників загальнонаціональної польської профспілки «Солідарність»
4. Один з ініціаторів руху «Хартія-77»
5. У грудні 1989 р. обраний президентом Чехословаччини
6. У грудні 1990 р. обраний президентом Республіки Польща

**А** 1, 4, 5

**Б** 2, 3, 4

**В** 2, 4, 5

**Г** 2, 3, 6

А Б В Г

--	--	--	--

**Завдання 9** передбачає визначення назви документа, події, явища, про які йдеться

9. Укажіть назву міста, де було підписано договір, уривок з якого наведено

*«Стаття 1. Даний договір знаменує собою новий етап у процесі створення як ніколи раніше згуртованого союзу народів Європи, у якому рішення приймаються якомога відкритіше і максимально наближено до громадянина.*

*Союз засновується на базі Європейського співтовариства, доповненого сферами політики і формами співробітництва, відповідно до даного договору».*

---



---



---



---



---



У завданнях 11–12\* запропоновано чотири варіанти відповідей, серед яких треба обрати ОДИН ПРАВИЛЬНИЙ

**11. Визначте африканські країни, які здобули незалежність до початку Другої світової війни**

1. Єгипет
2. Намібія
3. Ефіопія
4. Ліберія
5. Зімбабве
6. Південно-Африканський Союз

**А** 1, 2, 3, 5

**Б** 1, 3, 4, 6

**В** 2, 3, 4, 5

**Г** 3, 4, 5, 6

А	Б	В	Г
<input type="checkbox"/>	<input type="checkbox"/>	<input type="checkbox"/>	<input type="checkbox"/>

**12. Які з наведених тверджень стосуються індійського державного і політичного діяча І. Ганді?**

1. Найближча соратниця Магатми Ганді
2. У 1966–1977 рр. обіймала посаду прем'єр-міністра Індії
3. Лідер опозиційної партії «Джаната парті»
4. У 1978 р. оголосила про створення нової партії – Індійського національного конгресу
5. У період її правління було проголошено незалежність Індії
6. У 1984 р. загинула від рук сикхських терористів

**А** 1, 2, 3

**Б** 2, 3, 4

**В** 2, 4, 5

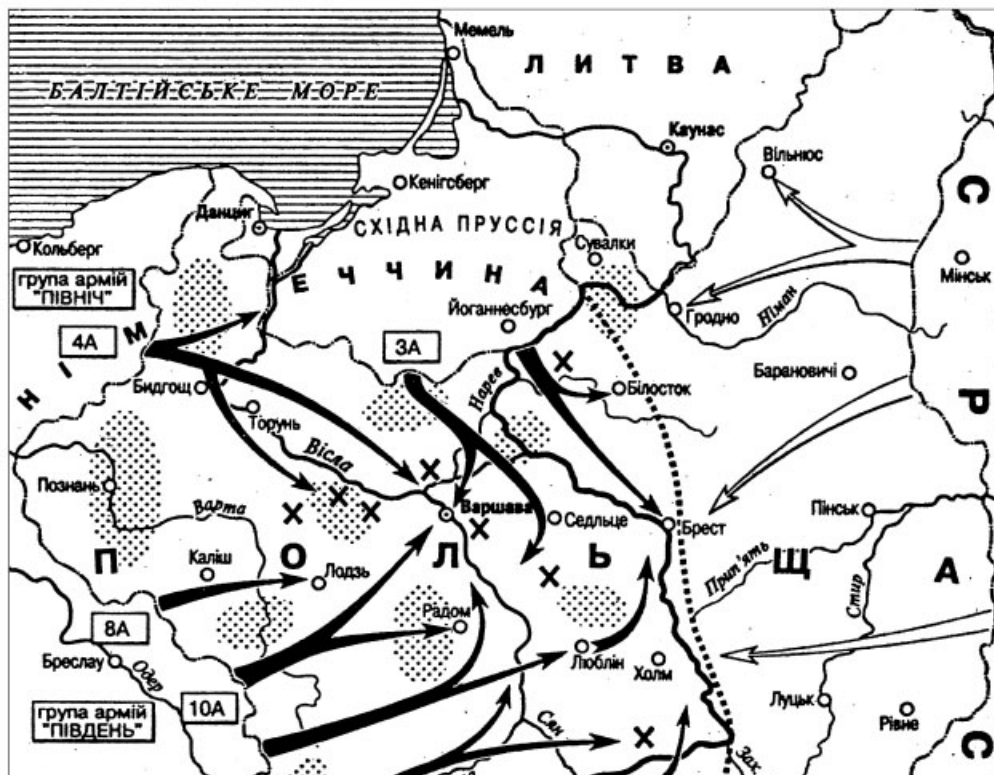
**Г** 2, 4, 6

А	Б	В	Г
<input type="checkbox"/>	<input type="checkbox"/>	<input type="checkbox"/>	<input type="checkbox"/>

## ВАРІАНТ 14

У завданнях 1–8 запропоновано чотири варіанти відповідей, серед яких треба обрати ОДИН ПРАВИЛЬНИЙ

1. Військові події якого періоду Другої світової війни позначено на картосхемі?



- А Вересень 1939 р.  
 Б Червень 1941 р.  
 В Липень 1943 р.  
 Г Червень 1944 р.

А Б В Г

--	--	--	--

2. Визначте дату початку радянсько-афганської війни

- А 27 грудня 1979 р.  
 Б 3 січня 1980 р.  
 В 14 квітня 1988 р.  
 Г 15 лютого 1989 р.

А Б В Г

--	--	--	--

3. Розташуйте в хронологічній послідовності події Першої світової війни

1. Створення спільного командування країн Антанти
2. Брусиловський прорив
3. Комп'єнське перемир'я
4. «Верденська м'ясорубка»

- А 1, 3, 2, 4  
 Б 2, 3, 4, 1  
 В 2, 4, 1, 3  
 Г 3, 1, 2, 4

А	Б	В	Г

4. Яка з подій відбулася під час перебування Д. Лллойд Джорджа на посаді прем'єр-міністра Великої Британії?

- А Визнання незалежності Індії  
 Б Надання статусу домініону Ірландії  
 В Створення незалежних урядів у Бірмі, Пакистані, Шрі-Ланці  
 Г Створення шотландського парламенту і Асамблеї Уельсу

А	Б	В	Г

5. Хто із зображених на фото історичних діячів є автором концепції «Європа Батьківщини»?



А	Б	В	Г

6. Укажіть причини західнонімецького «економічного дива»

- Збереження промислового потенціалу західної частини країни
- Висока заробітна плата робітників та скорочення робочого тижня
- Значне зростання капіталовкладень у військову промисловість у 1950-х роках
- Нааявність дешевої робочої сили, особливо після репатріації німців зі Східної Пруссії та інших районів
- Надання Західній Німеччині фінансової допомоги за «планом Маршалла»
- Регулювання державними структурами господарської діяльності західнонімецьких підприємств

- А 1, 3, 4  
 Б 1, 4, 5  
 В 2, 3, 5  
 Г 3, 5, 6

А	Б	В	Г

7. Укажіть риси, притаманні демократичній системі

- Механізм жорсткого державного регулювання економіки
- Перетворення партійної ідеології на державну



3. Існування багатопартійної системи
4. Встановлення культу вождя
5. Розвиток ринкових економічних відносин
6. Захист державою громадянських прав

**А** 1, 2, 3

**Б** 1, 3, 5

**В** 2, 4, 6

**Г** 3, 5, 6

А Б В Г

--	--	--	--

- 8.** Які з наведених тверджень стосуються відомого французького політичного та державного діяча Ж. Клемансо?

1. Голова Паризької мирної конференції 1919 р.
2. Автор програми «14 пунктів»
3. Прихильник гегемонії Франції у Європі
4. Лідер Радикальної партії Франції
5. Голова уряду Народного фронту у Франції
6. Лідер Комуністичної партії Франції

**А** 1, 2, 3

**Б** 1, 3, 4

**В** 2, 5, 6

**Г** 4, 5, 6

А Б В Г

--	--	--	--

**Завдання 9** передбачає визначення назви документа, події, явища, про які йдеться

- 9.** Про які події йдеться в наведеному уривку з документа?

*«...24 жовтня навантажені ракетами радянські судна досягли лінії карантину й зупинилися. Але залишалось прибрати встановлені ракети. Отже, наступного дня президент Кеннеді телеграфував Хрущову, вимагаючи "відновлення попереднього становища" (тобто виведення ракет). Хрущов надіслав дві відповіді. У першій, від 26 жовтня, висловлювалася згода в обмін на американську гарантію, що США не нападуть на Кубу... Кеннеді проігнорував другого листа і прийняв угоду про ненапад, запропоновану у першому. Саме на основі цього 28 жовтня Хрущов погодився вивести ракети».*

---



---



---



---



---



---



---



---



---



---



У завданнях 11–12\* запропоновано чотири варіанти відповідей, серед яких треба обрати ОДИН ПРАВИЛЬНИЙ

**11.** Визначте перелік понять, які характеризують період президентства в США Г. Трумена

- А** «Справедливий курс», страйк солідарності, примусовий арбітраж трудових конфліктів, корупція, інфляція, реконверсія  
**Б** «Справедливий курс», монетаризм, примусовий арбітраж трудових конфліктів, корупція, інфляція, конверсія  
**В** «Новий курс», страйк солідарності, примусовий арбітраж трудових конфліктів, корупція, інфляція, конверсія  
**Г** «Новий курс», примусовий арбітраж трудових конфліктів, «маккартизм», корупція, інфляція, реконверсія

А Б В Г

--	--	--	--

**12.** Які з наведених тверджень стосуються архітектора Ле Корбюзьє?

1. Видатний архітектор ХХ ст.
2. Архітектор багатьох споруд у новій столиці Бразилії – м. Бразиліа
3. Спроекував нову столицю штату Пенджаб – Чандігарх
4. Збудував будинок Сіднейської опери в столиці Австралії
5. Спроекував готельні комплекси «Хілтон» і «Форум»
6. Збудував капелу Нотр-Дам-дю-О в Рошані

- А** 1, 4, 5  
**Б** 1, 3, 6  
**В** 2, 4, 5  
**Г** 2, 3, 6

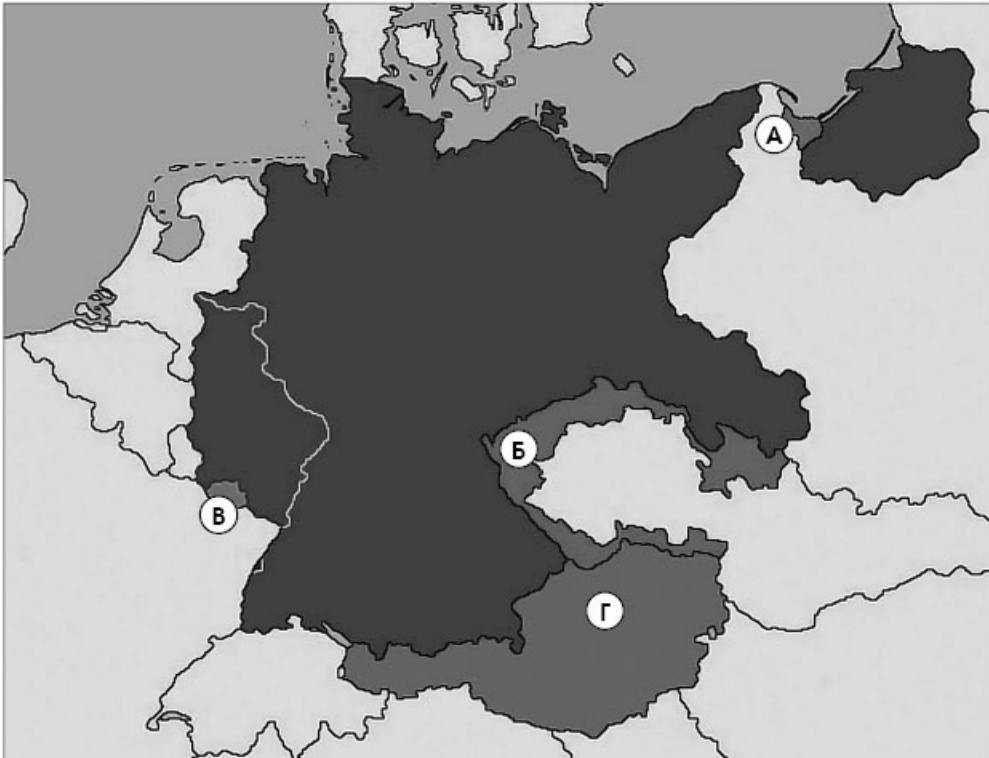
А Б В Г

--	--	--	--

## ВАРІАНТ 15

У завданнях 1–8 запропоновано чотири варіанти відповідей, серед яких треба обрати ОДИН ПРАВИЛЬНИЙ

1. Якою літерою позначено на картосхемі території, які стали причиною скликання Мюнхенської конференції 1938 р.?



А	Б	В	Г
<input type="checkbox"/>	<input type="checkbox"/>	<input type="checkbox"/>	<input type="checkbox"/>

2. Укажіть дату створення військово-політичного блоку НАТО

А 25 квітня 1945 р.  
 Б 4 квітня 1949 р.  
 В 5 березня 1953 р.  
 Г 14 травня 1955 р.

А	Б	В	Г
<input type="checkbox"/>	<input type="checkbox"/>	<input type="checkbox"/>	<input type="checkbox"/>

3. Установіть хронологічну послідовність подій, які відбулися перед початком Другої світової війни

1. Аншлюс Австрії
2. Розпад Чехословацької держави
3. Підписання німецько-радянського пакту про ненапад
4. Початок англо-франко-радянських переговорів

- А** 1, 2, 4, 3
- Б** 1, 3, 4, 2
- В** 3, 2, 4, 1
- Г** 4, 1, 2, 3

А	Б	В	Г

4. Автором якої економічної стратегії вважається федеральний канцлер ФРН Л. Ерхард?

- А** «Третій шлях»
- Б** «Новий курс»
- В** «Шокова терапія»
- Г** «Соціальне ринкове господарство»

А	Б	В	Г

5. На якому фото зображено прем'єр-міністра Великої Британії, якій було надано характеристику «залізна леді»?



А	Б	В	Г

6. Укажіть причини початку Першої світової війни

1. Створення Версальсько-Вашингтонської системи
2. Протистояння між демократичними та тоталітарними державами
3. Мілітаризація економіки провідних країн світу та початок гонки озброєнь
4. Загострення суперечностей між великими державами внаслідок «Великої депресії»
5. Прорахунки в діяльності Ліги Націй
6. Прагнення правлячих кіл провідних країн світу подолати внутрішньополітичну кризу

- А** 1, 3
- Б** 2, 4
- В** 2, 5
- Г** 3, 6

А	Б	В	Г

7. Визначте характерні риси суспільно-політичного життя Франції в 1920–1930-х роках

1. Прихід до влади правих сил
2. Встановлення однопартійної системи
3. Наростання загрози фашизму
4. Зростання впливу Соціалістичної партії на політичне життя країни

5. Встановлення диктатури пролетаріату  
 6. Діяльність уряду Народного фронту  
**А** 1, 2, 4  
**Б** 3, 4, 6  
**В** 2, 3, 5  
**Г** 3, 4, 5

А	Б	В	Г
<input type="checkbox"/>	<input type="checkbox"/>	<input type="checkbox"/>	<input type="checkbox"/>

**8.** Які з наведених тверджень стосуються основних завдань зовнішньої політики Франції за президентства Шарля де Голля?

1. Проголошення принципу «Європа Батьківщин»  
 2. Зміцнення самостійності і незалежності Франції  
 3. Сприяння розбудові соціалізму в СРСР  
 4. Послаблення впливу США в Європі  
 5. Ізоляція Франції від континентальних проблем  
 6. Глобальна європейська інтеграція відповідно до концепції «Європа Батьківщин»

- А** 1, 2, 4  
**Б** 1, 3, 4  
**В** 1, 3, 5  
**Г** 2, 4, 6

А	Б	В	Г
<input type="checkbox"/>	<input type="checkbox"/>	<input type="checkbox"/>	<input type="checkbox"/>

**Завдання 9** передбачає визначення назви документа, події, явища, про які йдеться

**9.** Визначте назву документа, уривок з якого наведено

*«Стаття 160. ...німецька армія не повинна налічувати більше семи дивізій піхоти і трьох дивізій кавалерії ...загальна чисельність... не повинна перевищувати ста тисяч осіб... Загальний чисельний склад офіцерів... не повинен перевищувати чотирьох тисяч...*

*Німецький Великий Генеральний штаб та будь-які інші подібні формування будуть розпущені та не можуть відновлюватися в жодній формі...*

*Стаття 181. ...сили німецького флоту не повинні перевищувати в озброєних суднах: 6 броненосців, 6 легких крейсерів, 12 контр-міноносців, 12 міноносців...*

*Вони не повинні мати ніяких підводних суден...*

*Стаття 198. Військові сили Німеччини не повинні мати ніякої військової чи морської авіації...»*

---



---



---



---



---



---



---



У завданнях 11–12\* запропоновано чотири варіанти відповідей, серед яких треба обрати ОДИН ПРАВИЛЬНИЙ

**11.** Визначте перелік військових подій, які відносяться до другого періоду Другої світової війни (22 червня 1941 р. – 18 листопада 1942 р.)

1. Смоленська битва
2. Оборона англійцями Ель-Аламейна
3. Московська битва
4. Наступальний період Сталінградської битви
5. Оборона Севастополя
6. Висадка союзних військ у Нормандії

**А** 1, 2, 3, 5

**Б** 1, 2, 4, 6

**В** 2, 3, 4, 5

**Г** 3, 4, 5, 6

А	Б	В	Г
<input type="checkbox"/>	<input type="checkbox"/>	<input type="checkbox"/>	<input type="checkbox"/>

**12.** Які з наведених тверджень стосуються південноафриканського політика Нельсона Мандели?

1. Президент ПАР
2. За його правління в ПАР відбулися масові арешти білого населення
3. Американський проповідник і лідер руху за громадянські права 1960-х років
4. Лідер Африканського національного конгресу
5. Був засуджений до довічного ув'язнення
6. Створив і очолив союз церковних організацій «Конференція керівництва християн Півдня»

**А** 1, 2, 6

**Б** 2, 3, 5

**В** 1, 4, 5

**Г** 2, 4, 6

А	Б	В	Г
<input type="checkbox"/>	<input type="checkbox"/>	<input type="checkbox"/>	<input type="checkbox"/>





