

Р.В. Гладковський, А.І. Довгань, Н.І. Забуга, Л.Б. Паламарчук, В.В. Сovenко

ЗБІРНИК ЗАВДАНЬ

для
державної підсумкової атестації
з географії

*Рекомендовано Міністерством освіти і науки,
молоді та спорту України*

11
клас

Київ
Центр навчально-методичної літератури
2012

ПОЯСНЮВАЛЬНА ЗАПИСКА

Збірник завдань охоплює зміст чинної навчальної програми шкільного предмета «Географія». Основна мета посібника – забезпечити об'єктивне оцінювання навчальних досягнень випускників під час проведення державної підсумкової атестації з географії за курс основної та старшої школи за допомогою різномірних завдань.

До збірника входить 20 варіантів атестаційних робіт. Кожен варіант налічує 30 тестових завдань різних типів і рівнів складності, зокрема з вибором однієї правильної відповіді, на визначення відповідності та на визначення правильної послідовності. Крім тестових завдань, кожен варіант містить одне завдання на контурній карті і чотири завдання відкритого типу, одне з яких (під номером 34*) призначене лише для учнів, що навчаються за програмою профільного рівня. Відповідно учні профільних класів не виконують завдання відкритого типу під номером 32 чи 33 (за вибором учня).

Під час виконання атестаційної роботи користуватися атласами та іншими джерелами картографічних знань не дозволяється.

Отже, кожен варіант атестаційної роботи (яку виконає кожен учень) складається з 34 завдань, на його виконання відводиться 90 хвилин.

• **Тестові завдання з вибором однієї правильної відповіді** (завдання 1–20) використовують для оцінювання знань географічних понять, термінів, умінь працювати із джерелами інформації. У завданнях такого типу пропонується чотири варіанти відповідей, з яких правильною є лише одна. Завдання вважається виконаним правильно, якщо в бланку відповідей позначено тільки одну відповідь. Якщо позначено два або більше варіанти відповідей, навіть якщо серед них є правильний, завдання вважається виконаним неправильно. Правильну відповідь на кожне таке завдання оцінюють 0,5 бала.

Приклад завдання з вибором однієї правильної відповіді:

1. Вкажіть регіони України з найбільш забрудненим навколишнім середовищем:
А. Донбас і Придніпров'я.
Б. Київська та Черкаська області.
В. АР Крим і Одеська область.
Г. Волинська і Львівська області.

Правильна відповідь:

1	А	Б	В	Г
	X			

• **Тестові завдання на визначення відповідності** (завдання 21–25) передбачають вибір взаємопов'язаних понять, явищ, процесів і встановлення між ними логічних зв'язків. Якщо в бланку відповідей записано всі правильні комбінації цифр і літер, завдання оцінюється 2 балами. Відповідно за одну правильно визначену відповідність – 0,5 бала, за дві – 1 бал, за три – 1,5 бала.

Приклад тестового завдання на визначення відповідності:

1. Знайдіть відповідність між тектонічними структурами та формами рельєфу, які з ними пов'язані:

1. Волино-Подільська плита.	А. Приазовська височина.
2. Український щит.	Б. Закарпатська низовина.
3. Донецька складчаста споруда.	В. Причорноморська низовина.
4. Закарпатська западина.	Г. Волинська височина.
	Д. Донецький кряк.

Правильна відповідь:

1	А	Б	В	Г	Д
1				X	
2	X				
3					X
4		X			

• **Тестові завдання на визначення правильної послідовності** (завдання 26–30). Виконуючи завдання такого типу, потрібно розташувати географічні об'єкти, події, природні та суспільні процеси і явища у правильній часовій або просторовій послідовності й записати цю послідовність у бланк відповіді. Такі завдання вважають виконаними правильно, якщо в бланку відповідей записані всі правильні комбінації цифр і літер.

За правильно визначену послідовність максимальна оцінка – 1 бал. Послідовно розташовані 2 об'єкти чи поняття – 0,5 бала. Послідовність повністю порушена – 0 балів.

Приклад тестового завдання на визначення правильної послідовності:

1. Розташуйте найвищі точки рівнинної частини України в порядку зростання їхніх висот:

А. Берда.
Б. Камула.

В. Бельмак-Могила.
Г. Могила-Мечетна.

Правильна відповідь:

1	А	Б	В	Г
1	×			
2		×		
3				×
4			×	

• **Завдання відкритого типу** (завдання 31–34*) передбачають розгорнуту відповідь на поставлені запитання з відповідним записом у бланку відповідей. Ці завдання дають змогу перевірити вміння учнів висловлювати власні думки, наводити аргументи, складати географічні характеристики, описувати географічні процеси і явища, робити висновки, застосовувати знання і вміння у новій ситуації; порівнювати географічні об'єкти і явища; пояснювати розвиток і просторове поширення географічних процесів і явищ на основі виділення їх істотних ознак; встановлювати риси подібності та відмінності, переваг і недоліків природних та економічних умов.

Завдання під номером 34 (позначене зірочкою) виконують учні, які навчаються у класах профільного рівня. Відповідно учні профільних класів не виконують завдання відкритого типу 32 або 33 (за вибором учня). Загальна кількість завдань однакова для всіх учнів, які виконують атестаційну роботу.

За правильну, повну й аргументовану відповідь максимальна оцінка 6 балів за кожне завдання. Відповідно оціночний бал знижуватиметься залежно від правильності і повноти відповіді, наявності помилок, неточностей, недоліків в учнівській відповіді, а також кількості коректур, які зробить вчитель.

• **Завдання на контурній карті** (завдання 35) передбачає нанесення на карту інформації відповідно до завдання та розробку легенди карти. Це завдання дає змогу перевірити картографічну грамотність і знання особливостей просторового розміщення об'єктів і явищ. Під час виконання завдання потрібно розробити легенду карти за всіма правилами і картографічними вимогами, а потім виконати завдання на контурній карті. У деяких випадках можна скористатись чернеткою, якщо легенда карти буде складною. Виконуючи завдання на контурній карті, всі позначення і записи потрібно робити тією самою ручкою, що й інші завдання.

За правильно виконану роботу на контурній карті передбачено максимальну оцінку 6 балів. За відсутність легенди карти, неправильно оформлені умовні позначення, неправильно й неточно позначені об'єкти і явища оцінка відповідно знижується.

Пропоновані завдання орієнтовані на перевірку рівня досягнень учнів за 12-бальною шкалою оцінювання навчальних досягнень. Будь-який бал, що набрав учень, є позитивним, тобто оцінювання ґрунтується на принципі позитивізму. Максимально можливий бал за правильно виконаний варіант атестаційної роботи становить 49 балів. Оцінка учня залежить від кількості правильних відповідей на тестові завдання та якості виконання теоретичних завдань і завдання на контурній карті.

Пропонуємо набрати бали переводити в оцінки, користуючись такою таблицею:

Відповідність отриманих балів оцінкам за 12-бальною шкалою

Бали	1–3	4–6	7–9	10–12	13–15	16–19	20–25	26–31	32–37	38–43	44–46	47–49
Оцінка	1	2	3	4	5	6	7	8	9	10	11	12

Для проведення державної підсумкової атестації вчитель самостійно вибирає варіанти завдань, а також визначає кількість варіантів, які використовуватиме в одному класі, зважаючи на те, що кожен учень має виконати один варіант тестових завдань із цього збірника.

У збірнику подається зразок бланка відповіді, який вчитель може скопіювати в необхідній кількості. Відповіді на завдання відкритого типу учні виконують на окремих проштампованих навчальним закладом аркушах, які додаються до заготовлених бланків відповідей.

Матеріали збірника вчитель може використовувати також для підготовки до державної підсумкової атестації випускників і під час проведення поточного оцінювання. Учні можуть використовувати матеріали збірника під час підготовки до уроків і державної підсумкової атестації.

Варіант 1

I. Завдання з вибором однієї правильної відповіді

1. Визначте, що є предметом вивчення географії:
- А. Будова Землі.
 Б. Географічна оболонка.
 В. Природа і суспільство Землі.
 Г. Весь світ.
2. Вкажіть, кого називають «батьком географії»:
- А. Геродота.
 Б. Страбона.
 В. Ератосфена.
 Г. Платона.
3. Визначте, яким буде числовий масштаб, коли відомо, що іменованій масштаб становить в 1 см – 100 км:
- А. 1:1000.
 Б. 1:10 000.
 В. 1:100 000.
 Г. 1:10 000 000.
4. Вкажіть, від чого найбільше залежить температура повітря:
- А. Від атмосферного тиску.
 Б. Від напрямку вітрів.
 В. Від стану поверхні Землі.
 Г. Від кута падіння сонячних променів.
5. Вкажіть пустелю Африки, на території якої у липні холодніше, ніж у січні:
- А. Калахарі.
 Б. Гобі.
 В. Атакама.
 Г. Сахара.
6. Виберіть неправильне твердження щодо материка Південна Америка:
- А. Над значною частиною материка панують вологі екваторіальні повітряні маси.
 Б. Вологі повітряні маси з Атлантичного океану приносять південно-східні і північно-східні пасати.
 В. На клімат західного узбережжя материка має вплив Перуанська течія.
 Г. Гвіанська і Бразильська течії сприяють зменшенню кількості опадів.
7. Виберіть правильне твердження щодо материка Австралія:
- А. Переважаючі середньомісячні температури взимку і влітку нижче +10 °С.
 Б. Найвологіший клімат на заході материка.
 В. Клімат материка малопридатний для життя людини.
 Г. У тропічному кліматичному поясі виділяють дві кліматичні області: тропічну пустельну і тропічну вологу.
8. Вкажіть, який з термінів, що характеризує чинники формування клімату, є «зайвим»:
- А. Температура повітря.
 Б. Сонячна радіація.
 В. Циркуляція атмосфери.
 Г. Підстильна поверхня.

9. Зазначте, водами яких морів омивається територія України:

- А. Чорного і Балтійського.
- Б. Азовського й Мармурового.
- В. Чорного й Азовського.
- Г. Азовського і Середземного.

9 А Б В Г

10. Вкажіть епоху горотворення, під час якої утворилися Кримські гори:

- А. Герцинська.
- Б. Байкальська.
- В. Альпійська.
- Г. Каледонська.

10 А Б В Г

11. Визначте похил річки Сіверський Донець завдовжки 1053 км, якщо її витік розташований на висоті 200 м, а гирло – на висоті 5,5 м над рівнем моря:

- А. 38 см/км.
- Б. 49 см/км.
- В. 74 см/км.
- Г. 18 см/км.

11 А Б В Г

12. Виберіть показник, який лежить в основі поділу території на фізико-географічні країни:

- А. Особливості геоморфологічної будови території.
- Б. Співвідношення тепла та вологи.
- В. Ступінь континентальності клімату.
- Г. Спільність тектонічної будови та макрорельєфу.

12 А Б В Г

13. Зазначте, як називають різницю коефіцієнтів прибулих і вибулих у розрахунку на тисячу осіб населення:

- А. Сальдо міграції.
- Б. Коефіцієнт міграції.
- В. Імміграція.
- Г. Еміграція.

13 А Б В Г

14. Оберіть групу регіонів України з найбільш забрудненим навколишнім середовищем:

- А. Донбас і Придніпров'я.
- Б. Київська і Черкаська області.
- В. АР Крим і Одеська область.
- Г. Волинська і Львівська області.

14 А Б В Г

15. Вкажіть правильне поєднання економічного району України і його спеціалізацію:

- А. Столичний – гірничодобувна галузь.
- Б. Причорноморський – лісове господарство.
- В. Північно-Східний – чорна металургія.
- Г. Подільський – сільське господарство.

15 А Б В Г

16. Вкажіть галузь спеціалізації рослинництва Полісся:

- А. Виноградарство.
- Б. Льонарство.
- В. Буряківництво.
- Г. Баштанництво.

16 А Б В Г

17. Виберіть правильне визначення поняття «територіальні води»:

- А. Це акваторія за межами 12 морських миль.
- Б. Це морські води, що прилягають до суходолу в межах 12 морських миль.
- В. Це акваторія на відстані 200 миль від берега.
- Г. Це акваторія, вільна для проходу іноземних суден.

17 А Б В Г



18. Вкажіть ознаки федеративної держави:

- А. Поглиблення економічних зв'язків та інтернаціоналізація господарського життя країни.
- Б. Наявність єдиної конституції і системи органів державної влади.
- В. Наявність самоврядних територій, які мають певну юридичну і політичну самостійність.
- Г. Наявність адміністративно-територіальних одиниць, що не мають ознак державного суверенітету.

18 А Б В Г

--	--	--	--

19. Оберіть правильний варіант ланцюга «сільськогосподарська культура – чинник розміщення – район вирощування»:

- А. Пшениця – переважно чорноземні та сірі лісові ґрунти помірного клімату – Європа (Франція, Україна), Азія (Китай, Казахстан).
- Б. Цукровий буряк – помірна зона, ґрунти переважно чорноземи – Північна Африка.
- В. Бавовник – субтропічна, тропічна, субекваторіальна зона – Центральна і Західна Австралія.
- Г. Льон – підзолисті ґрунти помірного поясу – Північна Індія, Східна Бразилія.

19 А Б В Г

--	--	--	--

20. Виберіть правильну характеристику особливостей населення Китаю:

- А. Багатонаціональна країна, 2/3 населення проживає на сході країни, у релігійному складі – конфуціанці та представники тотемізму і ламаїзму.
- Б. Однонаціональна країна, 2/3 населення проживає на заході країни, у релігійному складі – буддисти, синтоїсти, православні.
- В. Населення по території розміщене рівномірно, двонаціональна держава, у релігійному складі – атеїсти, буддисти, конфуціанці.
- Г. У країні проживає 20 % населення планети, переважають представники однієї нації, у релігійному складі – атеїсти, буддисти, конфуціанці.

20 А Б В Г

--	--	--	--

II. Завдання на визначення відповідності

У завданнях 21–25 до кожного із завдань, позначених цифрою, доберіть правильну відповідь, позначену буквою. Потім відповідність цифр і букв перенесіть у бланк відповідей.

21. Визначте відповідність між країнами і материками, де вони розташовані:

- | | |
|-------------------------|----------------------|
| 1. Монголія. | А. Австралія. |
| 2. Лівія. | Б. Євразія. |
| 3. Аргентина. | В. Африка. |
| 4. Австралійський Союз. | Г. Південна Америка. |
| | Д. Північна Америка. |

21 А Б В Г Д

1				
2				
3				
4				

22. Визначте відповідність між гірськими системами й материками, на яких вони розташовані:

- | | |
|--------------|----------------------|
| 1. Анди. | А. Австралія. |
| 2. Атлас. | Б. Євразія. |
| 3. Аппалачі. | В. Африка. |
| 4. Альпи. | Г. Північна Америка. |
| | Д. Південна Америка. |

22 А Б В Г Д

1				
2				
3				
4				

23. Визначте відповідність між крайніми точками України та їхніми координатами:

1. с. Грем'яч, Чернігівська обл.
2. мис Сарич, АР Крим.
3. с. Соломонове (околиці м. Чоп), Закарпатська обл.
4. с. Червона Зірка, Луганська обл.

- А. $49^{\circ}15'$ пн. ш. і $40^{\circ}13'$ сх. д.
- Б. $48^{\circ}05'$ пн. ш. і $22^{\circ}08'$ сх. д.
- В. $44^{\circ}23'$ пн. ш. і $33^{\circ}44'$ сх. д.
- Г. $52^{\circ}22'$ пн. ш. і $33^{\circ}11'$ сх. д.
- Д. $48^{\circ}23'$ пн. ш. і $31^{\circ}11'$ сх. д.

23	А	Б	В	Г	Д
1					
2					
3					
4					

24. Знайдіть відповідність між назвами областей України та обрисами їхніх територій:

1. Дніпропетровська.
2. Одеська.
3. Київська.
4. Закарпатська.



24	А	Б	В	Г	Д
1					
2					
3					
4					

25. Вкажіть відповідність між назвами монархічних держав і формами монархічного правління:

- | | |
|--------------|-----------------|
| 1. Малайзія. | А. Королівство. |
| 2. Катар. | Б. Султанат. |
| 3. Японія. | В. Емірат. |
| 4. Норвегія. | Г. Імперія. |
| | Д. Герцогство. |

25	А	Б	В	Г	Д
1					
2					
3					
4					

III. Завдання на визначення правильної послідовності

У завданнях 26–30 розташуйте в логічній послідовності явища, об'єкти, процеси і т.д. Потім послідовність розташування букв перенесіть у бланк відповідей.

26. Розташуйте послідовно за довжиною річки світу, починаючи з найдовшої:

- А. Ніл.
- Б. Волга.
- В. Міссісіпі.
- Г. Амазонка.

26	А	Б	В	Г
1				
2				
3				
4				

27. Розташуйте послідовно за годинниковою стрілкою крайні точки Австралії, починаючи з північної:

- А. мис Південно-Східний.
- Б. мис Байрон.
- В. мис Стіп-Пойнт.
- Г. мис Йорк.

27	А	Б	В	Г
1				
2				
3				
4				





28. Розташуйте послідовно з півночі на південь зональні типи ґрунтів України:

- А. Чорноземи.
- Б. Дерново-підзолисті.
- В. Сірі лісові.
- Г. Каштанові.

28	А	Б	В	Г
1				
2				
3				
4				

29. Розташуйте країни Європи в послідовності зменшення їхніх площ:

- А. Німеччина.
- Б. Україна.
- В. Франція.
- Г. Велика Британія.

29	А	Б	В	Г
1				
2				
3				
4				

30. Зазначте правильну послідовність напрямків розвитку сільського господарства (починаючи з провідного), що забезпечать збільшення виробництва сільськогосподарської продукції у світі та вирішення продовольчої проблеми:

- А. Підвищення біологічної продуктивності Світового океану і широке використання аквакультури.
- Б. Підвищення родючості ґрунтів (досягнення агромеліорації і агрохімії).
- В. Введення більш продуктивних порід домашньої худоби.
- Г. Підвищення врожайності сільськогосподарських культур.

30	А	Б	В	Г
1				
2				
3				
4				

IV. Завдання відкритого типу

Завдання 31–34* передбачають розгорнуту відповідь на поставлені запитання з відповідним записом у бланку відповідей.

- 31. Назвіть основні об'єкти політичної карти світу за політико-територіальними ознаками та дайте їх короткі характеристики (визначення).
- 32. Перелічіть основні демографічні проблеми України.
- 33. Що таке місцевий і поясний час? У чому їх різниця?
- 34*. Охарактеризуйте міжнародний туризм як галузь світового господарства. Наведіть приклади основних туристських макрорегіонів світу.

V. Завдання на контурній карті

Завдання 35 має картографічний характер і передбачає нанесення на карту інформації відповідно до завдання та розробку легенди карти (записи на карті й легенда подаються тим самим кольором ручки, яким виконується все тестове завдання).

- 35.** Нанесіть на контурну карту елементи берегової лінії Африки (Середземне і Червоне моря; Гвінейська і Аденська затоки; Мозамбіцька і Гібралтарська протоки; о. Мадагаскар; п-ів Сомалі).



Варіант 2

I. Завдання з вибором однієї правильної відповіді

1. Зазначте, що є основною метою сучасних географічних досліджень:
- А. Відкриття і освоєння нових земель на планеті Земля.
 - Б. Пошук корисних копалин у надрах материків і океанів.
 - В. Дослідження земної кори в межах Світового океану й Антарктиди.
 - Г. Наукове обґрунтування шляхів раціонального природокористування.
- 1 А Б В Г
□ □ □ □
2. Вкажіть, яким кольором позначають гірські системи на географічних картах:
- А. Синім.
 - Б. Зеленим.
 - В. Жовтим.
 - Г. Коричневим.
- 2 А Б В Г
□ □ □ □
3. Визначте, яким буде числовий масштаб, коли відомо, що іменований масштаб становить в 1 см – 50 км:
- А. 1:500.
 - Б. 1:5000.
 - В. 1:50 000.
 - Г. 1:5 000 000
- 3 А Б В Г
□ □ □ □
4. Зазначте, характерні ознаки тропосфери:
- А. Формуються сріблясті хмари і полярне сяйво.
 - Б. Містить 80 % повітря і майже всю водяну пару.
 - В. Повітряна оболонка Землі, пов'язана з нею силою тяжіння, бере участь у добовому і річному русі планети.
 - Г. Містить озоновий шар.
- 4 А Б В Г
□ □ □ □
5. Вкажіть назву течії Світового океану, щодо якої вживають вислів «ревучі сорокові»:
- А. Гольфстрім.
 - Б. Західних Вітрів.
 - В. Перуанська.
 - Г. Північноатлантична.
- 5 А Б В Г
□ □ □ □
6. Оберіть неправильне твердження:
- А. В основі Африки лежить Африкано-Аравійська платформа.
 - Б. Австралійська платформа є частиною Індо-Австралійської плити.
 - В. В основі Антарктиди лежить Антарктична платформа.
 - Г. В основі всієї Євразії лежить Євразійська літосферна плита.
- 6 А Б В Г
□ □ □ □
7. Оберіть неправильне твердження щодо материка Південна Америка:
- А. Озеро Тітікака – найбільше високогірне озеро світу.
 - Б. Єхидна та качкодзьоб водяться лише в Південній Америці.
 - В. У річок переважає дощовий тип живлення.
 - Г. Парана – друга за величиною річка материка.
- 7 А Б В Г
□ □ □ □
8. Вкажіть назву найвищої точки Західної Європи:
- А. Монблан.
 - Б. Ельбрус.
 - В. Говерла.
 - Г. Джомолунгма.
- 8 А Б В Г
□ □ □ □

9. Виберіть із запропонованих об'єктів крайню східну точку України:

- А. с. Соломонове (околиці м. Чоп).
- Б. с. Червона Зірка
- В. с. Грем'яч.
- Г. мис Сарич.

9 А Б В Г

--	--	--	--

10. Зазначте, які форми рельєфу в Україні охоплюють більшу частину зони Степу:

- А. Низовини.
- Б. Височини.
- В. Гірські області.
- Г. Кряжі.

10 А Б В Г

--	--	--	--

11. Вкажіть, яка з перелічених річок є типово рівнинною річкою в Україні:

- А. Прут.
- Б. Черемош.
- В. Десна.
- Г. Дністер.

11 А Б В Г

--	--	--	--

12. Виберіть із запропонованих фізико-географічних одиниць України природну зону:

- А. Українські Карпати.
- Б. Лісостеп.
- В. Київське Полісся.
- Г. Сухий степ.

12 А Б В Г

--	--	--	--

13. Вкажіть найбільшу за населенням область України:

- А. Харківська.
- Б. Донецька.
- В. Одеська.
- Г. Дніпропетровська.

13 А Б В Г

--	--	--	--

14. Зазначте, які заходи передбачає реструктуризація промисловості:

- А. Приватизацію промислових підприємств.
- Б. Підвищення рівня кваліфікації працівників.
- В. Пріоритетний розвиток найбільш високотехнологічних галузей.
- Г. Розширення ресурсної бази галузей промисловості.

14 А Б В Г

--	--	--	--

15. Вкажіть галузь спеціалізації Придніпровського економічного району України:

- А. Нафтова промисловість.
- Б. Чорна металургія.
- В. Буряківництво.
- Г. Виноградарство.

15 А Б В Г

--	--	--	--

16. Оберіть групу економічних районів України, які мають найпотужніше машинобудування:

- А. Донецький, Придніпровський, Столичний.
- Б. Донецький, Придніпровський, Північно-Західний.
- В. Придніпровський, Північно-Східний, Столичний.
- Г. Карпатський, Подільський, Придніпровський.

16 А Б В Г

--	--	--	--

17. Оберіть групу європейських монархій, столиці яких є морськими портами:

- А. Данія, Швеція, Норвегія.
- Б. Бельгія, Іспанія, Ватикан.
- В. Ліхтенштейн, Люксембург, Велика Британія.
- Г. Монако, Андорра, Нідерланди.

17 А Б В Г

--	--	--	--



18. Оберіть варіант, у якому зазначено правильний перелік країн із числа «Великої сімки»:

- А. Італія, Іспанія, Японія, США.
- Б. Велика Британія, Німеччина, Франція.
- В. Канада, Росія, США.
- Г. Росія, Китай, Японія.

18	А	Б	В	Г

19. Оберіть варіант, у якому перелічені основні галузі тваринництва економічно розвинутих країн:

- А. Екстенсивне пасовищне скотарство, вівчарство, бджільництво.
- Б. Племінне конярство, верблюдовництво, вівчарство.
- В. М'ясне і молочне скотарство на базі кормовиробництва.
- Г. Пасовищне оленярство, собаківництво, форельне господарство.

19	А	Б	В	Г

20. Вкажіть особливості спеціалізації та експорту продукції гірничорудної промисловості країн Латинської Америки:

- А. Ямайка, Суринам, Гайяна – залізна руда.
- Б. Мексика, Венесуела, Трінідад і Тобаго – нафта.
- В. Бразилія, Венесуела, Еквадор – мідні руди.
- Г. Аргентина, Перу, Колумбія – алмази, топази, кварц.

20	А	Б	В	Г

II. Завдання на визначення відповідності

У завданнях 21–25 до кожного із завдань, позначених цифрою, доберіть правильну відповідь, позначену буквою. Потім відповідність цифр і букв перенесіть у бланк відповідей.

21. Визначте відповідність між країнами і материками, де вони розташовані:

- 1. Казахстан.
- 2. Алжир.
- 3. Мексика.
- 4. Болівія.
 - А. Південна Америка.
 - Б. Євразія.
 - В. Африка.
 - Г. Північна Америка.
 - Д. Австралія.

21	А	Б	В	Г	Д
1					
2					
3					
4					

22. Визначте відповідність між типами ґрунтів і природними зонами, для яких вони характерні:

- 1. Коричневі.
- 2. Червоно-жовті фералітні.
- 3. Пустельні тропічні.
- 4. Червоно-бурі.
 - А. Вологі екваторіальні ліси.
 - Б. Вічнозелені твердолисті ліси і чагарники.
 - В. Савани і рідколісся.
 - Г. Лісостеп і степ.
 - Д. Напівпустелі і пустелі.

22	А	Б	В	Г	Д
1					
2					
3					
4					

23. Вкажіть відповідність між картографічними проекціями та їхніми ознаками:

1. Рівнокутні.
2. Рівновеликі.
3. Азимутальні.
4. Довільні.
 - А. Мають усі види спотворень.
 - Б. Зберігають без спотворень кути.
 - В. Не спотворюють площ.
 - Г. Проектування здійснюється на поверхню конуса.
 - Д. Проектування здійснюється на площину.

23	А	Б	В	Г	Д
1					
2					
3					
4					

24. Вкажіть відповідність між неметалевими корисними копалинами та їхніми найбільшими родовищами в Україні:

1. Сірка.
2. Калійна сіль.
3. Графіт.
4. Кухонна сіль.
 - А. Артемівське родовище (Донецька обл.).
 - Б. Калуське родовище (Івано-Франківська обл.).
 - В. Роздольське родовище (Львівська обл.).
 - Г. Завалівське родовище (Кіровоградська обл.).
 - Д. Клесівське родовище (Рівненська обл.).

24	А	Б	В	Г	Д
1					
2					
3					
4					

25. Вкажіть відповідність між назвами міжнародних організацій і метою їхньої діяльності:

1. ООН.
2. ЄС.
3. НАТО.
4. ОПЕК.
 - А. Контроль за цінами на нафту і за нафтовими ресурсами в інтересах економічного розвитку країн-членів.
 - Б. Забезпечення свободи і безпеки всіх членів політичними і військовими засобами, об'єднання зусиль, спрямованих на організацію колективної оборони.
 - В. Підтримка міжнародного співробітництва у сфері валютної політики, сприяння росту міжнародної торгівлі.
 - Г. Підтримка миру й міжнародної безпеки. Розвиток відносин між націями на основі поваги до принципів рівноправ'я і самовизначення держав світу.
 - Д. Утворення економічного і валютного союзу, здійснення спільної зовнішньої політики.

25	А	Б	В	Г	Д
1					
2					
3					
4					

III. Завдання на визначення правильної послідовності

У завданнях 26–30 розташуйте в логічній послідовності явища, об'єкти, процеси і т.д. Потім послідовність розташування букв перенесіть у бланк відповідей.

26. Вкажіть послідовність розташування гірських систем за висотою у порядку зменшення їхньої висоти:

- А. Анди.
- Б. Гімалаї.
- В. Альпи.
- Г. Урал.

26	А	Б	В	Г
1				
2				
3				
4				





27. Розташуйте послідовно за годинниковою стрілкою крайні точки Північної Америки, починаючи з північної:
- мис Мерчісон.
 - мис Мар'ято.
 - мис Сент-Чарльз.
 - мис Принца Уельського.
28. Вкажіть послідовність зміни поясів ґрунтово-рослинного покриву Українських Карпат, починаючи від їхнього підніжжя:
- Буково-смерекові ліси.
 - Криволісся та ялівці.
 - Полонини.
 - Дубово-букові ліси.
29. Розташуйте послідовно національні етнічні меншини України в порядку збільшення їхньої чисельності:
- Кримські татари.
 - Білоруси.
 - Молдавани.
 - Росіяни.
30. Вкажіть правильну послідовність причин і наслідків, що формують глобальну екологічну проблему, пов'язану з потеплінням клімату:
- Збільшення площ пустельних територій.
 - Збільшення кількості теплових електростанцій.
 - Зміна газової структури атмосфери.
 - Посилення явища «парникового ефекту».

27

	А	Б	В	Г
1				
2				
3				
4				

28

	А	Б	В	Г
1				
2				
3				
4				

29

	А	Б	В	Г
1				
2				
3				
4				

30

	А	Б	В	Г
1				
2				
3				
4				

IV. Завдання відкритого типу

Завдання 31–34* передбачають розгорнуту відповідь на поставлені запитання з відповідним записом у бланку відповідей.

31. Вкажіть пострадянські країни, охарактеризуйте головні особливості господарства цих країн.
32. Складіть схему взаємозв'язків автомобілебудування з іншими галузями господарства.
33. Які підходи до класифікації та типи карт ви знаєте?
- 34*. Розкрийте суть і види глобалізації в різних сферах суспільного життя.

V. Завдання на контурній карті

Завдання 35 має картографічний характер і передбачає нанесення на карту інформації відповідно до завдання та розробку легенди карти (записи на карті й легенда подаються тим самим кольором ручки, яким виконується все тестове завдання).

35. Позначте на контурній карті внутрішні води Північної Америки (річки: Міссурі, Колумбія, Маккензі, Юкон, Колорадо; озера: Верхнє, Мічиган, Гурон, Ері, Онтаріо, Велике Солоне).



Варіант 3

I. Завдання з вибором однієї правильної відповіді

1. Зазначте, столиця якої держави розташована найближче до Гринвіцького меридіана:
- А. Великої Британії.
 Б. Німеччини.
 В. Франції.
 Г. Бельгії.
2. Зазначте, що є проявом внутрішніх сил Землі:
- А. Робота річок.
 Б. Рухи літосфери.
 В. Робота льодовиків.
 Г. Робота вітру.
3. Вкажіть, що таке план місцевості:
- А. Невелика карта, що зображує в масштабі ділянку місцевості.
 Б. Зображення умовними знаками та в масштабі невеликої ділянки місцевості.
 В. Зображення умовними знаками великої ділянки місцевості.
 Г. Карта, що має невеликий масштаб.
4. Вкажіть основну причину виникнення течій у Світовому океані:
- А. Припливи і відпливи.
 Б. Рельєф морського дна.
 В. Вплив Місяця і Сонця.
 Г. Постійні вітри.
5. Визначте, як називають мешканців пустелі Сахара:
- А. Туареги.
 Б. Малагасійці.
 В. Бушмени.
 Г. Пігмеї.
6. Назвіть чинник, який не впливає на солоність океанічних вод:
- А. Річковий стік.
 Б. Танення криги.
 В. Життєдіяльність живих організмів.
 Г. Кількість опадів.
7. Вкажіть, на якому материка немає діючих вулканів:
- А. Антарктида.
 Б. Австралія.
 В. Південна Америка.
 Г. Північна Америка.
8. Вкажіть, в якій гірській системі у висотних поясах простежуються всі зональні типи природних комплексів світу:
- А. Альпи.
 Б. Гімалаї.
 В. Аппалачі.
 Г. Скандинавські гори.

1 А Б В Г

--	--	--	--

2 А Б В Г

--	--	--	--

3 А Б В Г

--	--	--	--

4 А Б В Г

--	--	--	--

5 А Б В Г

--	--	--	--

6 А Б В Г

--	--	--	--

7 А Б В Г

--	--	--	--

8 А Б В Г

--	--	--	--

9. Виберіть із запропонованих об'єктів крайню північну точку України:

- А. с. Соломонове (околиці м. Чоп).
- Б. с. Червона Зірка.
- В. с. Грем'яч.
- Г. мис Сарич.

9 А Б В Г

10. Виберіть серед зазначених форм рельєфу Кримських гір лаколіт:

- А. Аюдаг.
- Б. Чатирдаг.
- В. Карадаг.
- Г. Ай-Петрі.

10 А Б В Г

11. Назвіть регіон України, в якому найбільша густота річкової мережі:

- А. Придніпровська низовина.
- Б. Українські Карпати.
- В. Причорноморська низовина.
- Г. Донецький кряж.

11 А Б В Г

12. Вкажіть найбільший за площею фізико-географічний край лісостепової природної зони України:

- А. Середньоросійський.
- Б. Лівобережно-Дніпровський.
- В. Західноукраїнський.
- Г. Дністровсько-Дніпровський.

12 А Б В Г

13. Зазначте, який із процесів належить до природних змін чисельності населення:

- А. Народжуваність.
- Б. Імміграція.
- В. Еміграція.
- Г. Механічний рух населення.

13 А Б В Г

14. Визначте правильний варіант ланцюга «галузь – підприємство – основний чинник розміщення» для міста Києва:

- А. Харчова промисловість – кондитерська фабрика «Світоч» – споживач.
- Б. Машинобудування – авіазавод КНТК «Антонов» – кваліфіковані кадри.
- В. Металургійна промисловість – комбінат «Криворіжсталь ОАО Арселор Міттал Кривий Ріг» – мінеральні ресурси.
- Г. Паливна промисловість – НПЗ «ЛіНОС» – транспортно-географічне положення.

14 А Б В Г

15. Вкажіть область України, яка спеціалізується на виробництві облицювальних матеріалів із граніту:

- А. Чернігівська.
- Б. Полтавська.
- В. Одеська.
- Г. Житомирська.

15 А Б В Г

16. Вкажіть, яке українське місто є найбільшим вантажним портом на Азовському морі:

- А. Маріуполь.
- Б. Бердянськ.
- В. Генічеськ.
- Г. Приморськ.

16 А Б В Г





17. Оберіть варіант, у якому перелічені країни нової індустріалізації:

- А. Республіка Корея, Тайвань, Сінгапур.
- Б. Польща, Чехія, Угорщина.
- В. Колумбія, Еквадор, Ямайка.
- Г. ОАЕ, Бахрейн, Катар.

17 А Б В Г

--	--	--	--

18. Виберіть характерну ознаку таких країн, як М'янма, Бутан, Афганістан, Ефіопія, Сомалі:

- А. Високі темпи зростання ВВП, широке використання досягнень НТП.
- Б. Індустріальний тип економіки, структурна перебудова промисловості і суспільства.
- В. Натуральне господарство, майже не розвиваються промисловість і експортні галузі.
- Г. Високі показники ВВП на душу населення завдяки туризму.

18 А Б В Г

--	--	--	--

19. Оберіть варіант, який вказує на наймасштабніші в світі експортні перевезення цукру:

- А. З Південної Африки в Японію.
- Б. З Куби в Росію.
- В. З Мексики в США.
- Г. З Бразилії в Європу.

19 А Б В Г

--	--	--	--

20. Вкажіть характерні тенденції розвитку зовнішньоекономічних зв'язків Японії:

- А. Перехід від орієнтації на торгівлю технологіями до орієнтації на міжнародну туристичну діяльність.
- Б. Перехід від орієнтації на зовнішню торгівлю до орієнтації на інвестиційну діяльність.
- В. Перехід від орієнтації на імпорт сировини до орієнтації на її експорт у зв'язку з відкриттям нових потужних сировинних баз.
- Г. Перехід від орієнтації на інвестиційну діяльність до орієнтації на залучення зарубіжних технологій і нових наукових розробок.

20 А Б В Г

--	--	--	--

II. Завдання на визначення відповідності

У завданнях 21–25 до кожного із завдань, позначених цифрою, доберіть правильну відповідь, позначену буквою. Потім відповідність цифр і букв перенесіть у бланк відповідей.

21. Визначте відповідність між півостровами і материками, частиною яких вони є:

- | | |
|-----------------|----------------------|
| 1. Аравійський. | А. Австралія. |
| 2. Сомалі. | Б. Північна Америка. |
| 3. Лабрадор. | В. Африка. |
| 4. Кейп-Йорк. | Г. Євразія. |
| | Д. Південна Америка. |

21 А Б В Г Д

1				
2				
3				
4				

22. Вкажіть відповідність між формами рельєфу Євразії та їхніми назвами:

- | | |
|-----------------|-------------------|
| 1. Височина. | А. Прикаспійська. |
| 2. Гори. | Б. Подільська. |
| 3. Плоскогір'я. | В. Гобі. |
| 4. Низовина. | Г. Декан. |
| | Д. Гімалаї. |

22 А Б В Г Д

1				
2				
3				
4				

23. Вкажіть відповідність між тектонічними структурами та корисними копалинами, що з ними пов'язані:

- Український щит.
- Дніпровсько-Донецька западина.
- Причорноморська западина.
- Донецька складчаста структура.
 - Нафта.
 - Кам'яна сіль.
 - Сірка.
 - Кам'яне вугілля.
 - Буре вугілля.

23	А	Б	В	Г	Д
1					
2					
3					
4					

24. Визначте відповідність між містами та їхніми основними функціями:

- Київ, Донецьк, Харків.
- Алупка, Євпаторія, Бердянськ.
- Ясинувата, Жмеринка, Ковель.
- Тернопіль, Вінниця, Полтава.
 - Прикордонні міста.
 - Обласні центри.
 - Транспортні центри.
 - Найбільші наукові, освітні, культурні, багатогалузеві промислові центри.
 - Міста-курорти.

24	А	Б	В	Г	Д
1					
2					
3					
4					

25. Вкажіть відповідність між назвами країн і назвами історико-географічних регіонів:

- Монголія.
- Індонезія.
- Туреччина.
- Швейцарія.
 - Північна Європа.
 - Південно-Західна Азія.
 - Південно-Східна Азія.
 - Східна Азія.
 - Західна Європа.

25	А	Б	В	Г	Д
1					
2					
3					
4					

III. Завдання на визначення правильної послідовності

У завданнях 26–30 розташуйте в логічній послідовності явища, об'єкти, процеси і т.д. Потім послідовність розташування букв перенесіть у бланк відповідей.

26. Розташуйте послідовно за величиною площ океани світу, починаючи з найбільшого:

- Північний Льодовитий.
- Тихий.
- Індійський.
- Атлантичний.

26	А	Б	В	Г
1				
2				
3				
4				

27. Вкажіть послідовність епох горотворення:

- Каледонська.
- Альпійська.
- Байкальська.
- Герцинська.

27	А	Б	В	Г
1				
2				
3				
4				





28. Розташуйте послідовно зональні типи ґрунтів України за вмістом гумусу, починаючи з найменшого показника:
- Каштанові.
 - Чорноземи типові.
 - Дерново-підзолисті.
 - Чорноземи південні.
29. Розташуйте послідовно із заходу на схід центри легкої промисловості в Україні:
- Чернігів.
 - Тернопіль.
 - Житомир.
 - Харків.
30. Вкажіть правильну послідовність умов, які визначають (починаючи з основної) пропорційний економічний розвиток для подолання відсталості країн, що розвиваються:
- Поступальний і пропорційний розвиток.
 - Реалізація досягнень науково-технічного прогресу.
 - Вибір шляху економічних перетворень.
 - Інтеграція в світове господарство.

28	А	Б	В	Г
1				
2				
3				
4				

29	А	Б	В	Г
1				
2				
3				
4				

30	А	Б	В	Г
1				
2				
3				
4				

IV. Завдання відкритого типу

Завдання 31–34* передбачають розгорнуту відповідь на поставлені запитання з відповідним записом у бланку відповідей.

31. Дайте перелік найважливіших національних інтересів, які зобов'язана захищати держава.
32. Назвіть та охарактеризуйте основні галузі невиробничої сфери України.
33. Хто з українських учених зробив значний внесок у становлення і розвиток вітчизняної географії?
- 34*. Розкрийте вплив клімату на економіку країни. Охарактеризуйте кліматичні і космічні ресурси майбутнього.

V. Завдання на контурній карті

Завдання 35 має картографічний характер і передбачає нанесення на карту інформації відповідно до завдання й розробку легенди карти (записи на карті й легенда подаються тим самим кольором ручки, яким виконується все тестове завдання).

35. Нанесіть на контурну карту елементи рельєфу Південної Америки (низовини: Амазонська, Оріноцька, Ла-Платська; плоскогір'я: Бразильське, Гвіанське; гори: Анди, г. Аконкагуа).



Варіант 4

I. Завдання з вибором однієї правильної відповіді

1. Вкажіть спосіб зображення території, якщо воно виконане у масштабі 1: 2000, це:
- А. План місцевості.
Б. Географічна карта.
В. Топографічна карта.
Г. Малюнок місцевості.
2. Зазначте, який напрямок показують паралелі:
- А. Південь – Схід.
Б. Південь – Північ.
В. Північ – Захід.
Г. Захід – Схід.
3. Оберіть правильний перелік планетарних форм рельєфу:
- А. Материка та западини.
Б. Гори, рівнини, річки, вулкани, долини, моря.
В. Сукупність форм земної поверхні, що утворені під дією внутрішніх і зовнішніх процесів.
Г. Усе те, що бачимо на поверхні Землі.
4. Вкажіть, які бувають острови за походженням:
- А. Материкові, вулканічні, коралові.
Б. Материкові, атоли, грязеві.
В. Материкові, осадові, магматичні.
Г. Вулканічні, магматичні, осадові.
5. Вкажіть, який абсолютний мінімум зимових температур зафіксований у Північно-Східній Азії:
- А. -52° .
Б. -67° .
В. -71° .
Г. -58° .
6. Вкажіть, яка з проток є найширшою у світі:
- А. Малаккська.
Б. Дрейка.
В. Мозамбіцька.
Г. Берингова.
7. Визначте географічні координати об'єкта, якщо Полярну зірку в ньому видно на відстані 81° від точки зеніту, а місцевий час випереджає час Лондона на 2 год 36 хв:
- А. 81° пн. ш., 39° зх. д.
Б. 9° пн. ш., 39° сх. д.
В. 81° пн. ш., 39° сх. д.
Г. 9° пн. ш., 39° зх. д.
8. Визначте варіант, у якому правильно вказані основні форми рельєфу:
- А. Гори, рівнини.
Б. Океанічні западини, підводні рівнини, гори.
В. Яри, річкові долини, рівнини.
Г. Материка, океанічні западини, гори.
9. Визначте країну, з якою Україна має морський і суходільний кордон:
- А. Молдова.
Б. Болгарія.
В. Росія.
Г. Угорщина.

10. Зазначте, яка частка території України припадає на низовини:

- А. 50 %.
- Б. 70 %.
- В. 90 %.
- Г. 10 %.

10 А Б В Г

11. Зазначте, до басейну якої річки належать притоки Тетерів, Рось, Псел, Ворскла:

- А. Дністер.
- Б. Дунай.
- В. Дон.
- Г. Дніпро.

11 А Б В Г

12. Виберіть з перелічених об'єктів природно-заповідного фонду України природний заповідник:

- А. Шацький.
- Б. Дунайський.
- В. «Медобори».
- Г. Чорноморський.

12 А Б В Г

13. Зазначте, якому історико-географічному краю відповідає більша частина території Львівської, Івано-Франківської та Тернопільської областей:

- А. Галичина.
- Б. Буковина.
- В. Бессарабія.
- Г. Волинь.

13 А Б В Г

14. Вкажіть чинник, що є провідним для розташування основних центрів чорної металургії України:

- А. Наявність водних ресурсів.
- Б. Наявність запасів залізної руди і коксівного вугілля.
- В. Наявність великих електростанцій.
- Г. Наявність трудових ресурсів.

14 А Б В Г

15. Вкажіть основні райони розміщення гірничо-хімічної галузі України:

- А. Поділля і Передкарпаття.
- Б. Передкарпаття і Причорномор'я.
- В. Поділля і Придніпров'я.
- Г. Причорномор'я і Закарпаття.

15 А Б В Г

16. Вкажіть країну, яка є найбільшим торговельним партнером України:

- А. США.
- Б. Росія.
- В. Німеччина.
- Г. Польща.

16 А Б В Г

17. Оберіть варіант, у якому вказано найхарактерніші для Азії особливості розвитку:

- А. Найбільший вплив на економічні і політичні процеси мають такі міждержавні утворення, як ЄС і НАТО.
- Б. Найбільший вплив мають дві високорозвинуті держави, у регіоні існує єдина соціалістична держава.
- В. Характерні велика різниця в рівнях розвитку країн, значна диференціація регіональних проблем, які мають свої особливості.
- Г. Триває епоха громадянських війн і міжетнічних конфліктів, найвпливовіша організація ОАЄ.

17 А Б В Г



18. Вкажіть європейські країни, що є членами НАТО, але не є членами ЄС:

- А. Швеція, Фінляндія.
- Б. Франція, Німеччина.
- В. Ісландія, Норвегія.
- Г. Бельгія, Нідерланди.

18	А	Б	В	Г

19. Вкажіть важливу особливість розвитку транспорту в епоху НТР, з якою пов'язують інтенсифікацію і збільшення масштабів вантажних перевезень:

- А. Збільшення вантажопідйомності автомобілів, створення нових видів двигунів.
- Б. Підвищення вантажопідйомності і швидкості літаків цивільної авіації.
- В. Створення нових транспортних шляхів в Азії та Африці.
- Г. Контейнеризація перевезень і формування морських «транспортних мостів».

19	А	Б	В	Г

20. Оберіть правильний варіант, що характеризує розвиток транспорту Японії:

- А. Зовнішні перевезення забезпечуються виключно морським і повітряним транспортом.
- Б. Зовнішні перевезення забезпечуються виключно автомобільним транспортом.
- В. Внутрішні перевезення пасажирів забезпечуються виключно автомобільним транспортом.
- Г. Внутрішні перевезення вантажів забезпечуються виключно залізничним і річковим транспортом.

20	А	Б	В	Г

II. Завдання на визначення відповідності

У завданнях 21–25 до кожного із завдань, позначених цифрою, доберіть правильну відповідь, позначену буквою. Потім відповідність цифр і букв перенесіть у бланк відповідей.

21. Визначте відповідність між протоками і частинами Світового океану, які вони сполучають:

- 1. Берингова.
- 2. Магелланова.
- 3. Керченська.
- 4. Гібралтарська.
 - А. Тихий і Атлантичний.
 - Б. Середземне море і Атлантичний океан.
 - В. Тихий і Північний Льодовитий океан.
 - Г. Чорне і Азовське моря.
 - Д. Північне і Балтійське моря.

21	А	Б	В	Г	Д
1					
2					
3					
4					

22. Вкажіть відповідність між гідрологічними об'єктами та їхніми назвами.

- 1. Озеро.
- 2. Затока.
- 3. Протока.
- 4. Річка.
 - А. Аляска.
 - Б. Онтаріо.
 - В. Маккензі.
 - Г. Гольфстрім.
 - Д. Берингова.

22	А	Б	В	Г	Д
1					
2					
3					
4					

23. Вкажіть відповідність між взаємозв'язаними типами і формами рельєфу:

1. Техногенний.
2. Морський акумулятивний.
3. Карстовий.
4. Льодовиковий.
 - А. Піщані коси.
 - Б. Ками.
 - В. Лійки.
 - Г. Терикони.
 - Д. Надзаплавні тераси.

23	А	Б	В	Г	Д
1					
2					
3					
4					

24. Вкажіть відповідність між економічними районами і головними промисловими підприємствами:

1. Столичний (Київ).
2. Донецький (Горлівка).
3. Північно-Східний (Харків).
4. Придніпровський (Дніпропетровськ).
 - А. Кондитерська фабрика «РОШЕН».
 - Б. КБ «Південмаш».
 - В. Концерн «Стирол».
 - Г. Виробниче об'єднання «Турбоатом».
 - Д. Фабрика «ВАТРА».

24	А	Б	В	Г	Д
1					
2					
3					
4					

25. Вкажіть відповідність між назвами країн, що є вогнищами конфліктів чи спірними територіями, та історико-географічними регіонами:

1. Ліван.
2. Західна Сахара.
3. Індія (штати Джамму й Кашмір).
4. Східний Тимор.
 - А. Південно-Західна Азія.
 - Б. Південна Азія.
 - В. Північна Африка.
 - Г. Центральна Азія.
 - Д. Західна Європа.

25	А	Б	В	Г	Д
1					
2					
3					
4					

III. Завдання на визначення правильної послідовності

У завданнях 26–30 розташуйте в логічній послідовності явища, об'єкти, процеси і т. д. Потім послідовність розташування букв перенесіть у бланк відповідей.

26. Визначте послідовність розташування озер за величиною їхніх площ, починаючи з найбільшого:

- А. Байкал.
- Б. Аральське море.
- В. Каспійське море.
- Г. Танганьїка.

26	А	Б	В	Г
1				
2				
3				
4				

27. Розташуйте послідовно материки та частини світу залежно від їхньої лісистості (у % від загальної площі), починаючи від найменшого показника:

- А. Європа.
- Б. Австралія.
- В. Північна Америка.
- Г. Південна Америка.

27	А	Б	В	Г
1				
2				
3				
4				



V. Завдання на контурній карті

Завдання 35 має картографічний характер і передбачає нанесення на карту інформації відповідно до завдання та розробку легенди карти (записи на карті й легенда подаються тим самим кольором ручки, яким виконується все тестове завдання).

35. Розробіть легенду і позначте на контурній карті 2 центри авіабудування та 3 центри автомобілебудування України.



Варіант 5

I. Завдання з вибором однієї правильної відповіді

1. Вкажіть, який із шарів атмосфери є найближчим до поверхні Землі, його ще називають «кухнею погоди»:
- А. Мезосфера.
Б. Термосфера.
В. Стратосфера.
Г. Тропосфера.
- 1 А Б В Г
2. Визначте, якими лініями на карті з'єднують точки з однаковою висотою над рівнем моря:
- А. Ізогісами.
Б. Изобарами.
В. Ізогістами.
Г. Пунктирами.
- 2 А Б В Г
3. Оберіть варіант відповіді, де правильно показано напрямок вітру (залежно від показника атмосферного тиску):
- А. 740 → 760 мм.
Б. 760 → 737 мм.
В. 735 → 756 мм.
Г. 756 → 762 мм.
- 3 А Б В Г
4. Визначте, яке море є внутрішнім:
- А. Чорне.
Б. Жовте.
В. Чукотське.
Г. Саргасове.
- 4 А Б В Г
5. Вкажіть острів, який належить до групи Великих Антильських островів.
- А. Шпіцберген.
Б. Ньюфаундленд.
В. Куба.
Г. Гренландія.
- 5 А Б В Г
6. Вкажіть «зайвий» термін серед переліку тектонічних структур, яким відповідають рівнини:
- А. Платформа.
Б. Рухливий пояс.
В. Щит.
Г. Плита.
- 6 А Б В Г
7. Вкажіть, який з океанів посідає друге місце за кількістю островів:
- А. Тихий.
Б. Атлантичний.
В. Північний Льодовитий.
Г. Індійський.
- 7 А Б В Г
8. Визначте протяжність материка Африка з півночі на південь по 20° сх. д., якщо крайні точки на цьому меридіані мають географічну широту – 32° пн. ш. і 35° пд. ш.:
- А. 3552 км.
Б. 333 км.
В. 7437 км.
Г. 3885 км.
- 8 А Б В Г

9. Зазначте, з якими країнами на сході Україна не має спільних кордонів:

- А. Росія, Туреччина.
- Б. Росія, Молдова.
- В. Польща, Росія.
- Г. Польща, Угорщина.

9 А Б В Г

--	--	--	--

10. Зазначте, яка низовина розташована на півдні України:

- А. Поліська.
- Б. Закарпатська.
- В. Придніпровська.
- Г. Причорноморська.

10 А Б В Г

--	--	--	--

11. Зазначте, яке озеро України найбільше за площею:

- А. Ялпуг.
- Б. Світязь.
- В. Синевир.
- Г. Липовецьке.

11 А Б В Г

--	--	--	--

12. Виберіть одиницю природного районування, яку виділяють у межах гірських країн:

- А. Фізико-географічні краї.
- Б. Природні зони.
- В. Фізико-географічні області.
- Г. Підзони.

12 А Б В Г

--	--	--	--

13. Визначте, у якого з міст України географічна довгота буде більшою:

- А. Харків.
- Б. Донецьк.
- В. Луганськ.
- Г. Запоріжжя.

13 А Б В Г

--	--	--	--

14. Вкажіть, який з наведених нижче термінів відповідає визначенню «сукупність підприємств, установ і закладів, які виробляють однорідну продукцію чи надають подібні послуги»:

- А. Галузь господарства.
- Б. Національна економіка.
- В. Інфраструктура.
- Г. Міжгалузевий комплекс.

14 А Б В Г

--	--	--	--

15. Вкажіть, у якому місті розташоване найпотужніше підприємство важкого машинобудування в Україні:

- А. Харків.
- Б. Київ.
- В. Краматорськ.
- Г. Павлоград.

15 А Б В Г

--	--	--	--

16. Вкажіть, як називається нафтопровід, який збудовано в Україні за часів незалежності:

- А. «Дружба».
- Б. «Одеса–Броди».
- В. «Північний потік».
- Г. «Долина–Дрогобич».

16 А Б В Г

--	--	--	--

17. Виберіть групу європейських країн, що є членами Європейського Союзу, але не є членами НАТО:

- А. Ісландія, Норвегія.
- Б. Ірландія, Фінляндія.
- В. Австрія, Данія.
- Г. Італія, Греція.

17 А Б В Г

--	--	--	--





18. Оберіть правильний варіант переліку відновних вичерпних ресурсів:

- А. Сонячна радіація, вітер, атмосферне повітря.
- Б. Енергія припливів і відпливів.
- В. Вугілля, нафта, газ.
- Г. Родючі ґрунти, рослинність і фауна.

18 А Б В Г

--	--	--	--

19. Вкажіть правильну відповідь, яка пояснює причину зосередження значної частки тоннажу морського флоту світу в Панамі, Ліберії, Греції, Кіпрі:

- А. Ці країни мають розвинене сучасне модернізоване суднобудування.
- Б. На ці країни припадає половина світового експорту суден у світі.
- В. Ці країни мають найбільші порти світу.
- Г. Це країни «зручного» прапора з пільговим режимом оподаткування.

19 А Б В Г

--	--	--	--

20. Оберіть варіант відповіді, що характеризує агропромисловий комплекс Японії:

- А. Забезпечує більше половини потреб країни в продовольстві; має яскраво виражену приміську й зональну спеціалізацію.
- Б. Забезпечує повністю потреби країни в продовольстві; має інтенсивний і зональний характер.
- В. Не забезпечує потреби країни в продовольстві; має екстенсивне споживацького характеру землеробство.
- Г. Забезпечує потреби країни в продовольстві; має високо-товарне тваринництво експортного характеру.

20 А Б В Г

--	--	--	--

II. Завдання на визначення відповідності

У завданнях 21–25 до кожного із завдань, позначених цифрою, доберіть правильну відповідь, позначену буквою. Потім відповідність цифр і букв перенесіть у бланк відповідей.

21. Вкажіть відповідність між морями і океанами, до яких вони належать:

- | | |
|----------------|--------------------------|
| 1. Балтійське. | А. Тихий. |
| 2. Чукотське. | Б. Північний Льодовитий. |
| 3. Охотське. | В. Індійський. |
| 4. Аравійське. | Г. Атлантичний. |
| | Д. Південний. |

21 А Б В Г Д

1				
2				
3				
4				

22. Визначте відповідність між материками та їхніми характеристиками:

- | | |
|----------------------|--------------------|
| 1. Африка. | А. Найвологіший. |
| 2. Південна Америка. | Б. Найбільший. |
| 3. Антарктида. | В. Найхолодніший. |
| 4. Австралія. | Г. Найспекотніший. |
| | Д. Найсухіший. |

22 А Б В Г Д

1				
2				
3				
4				

23. Вкажіть відповідність між тектонічними структурами і корисними копалинами, що з ними пов'язані:

- | | |
|-----------------------------------|-----------------------|
| 1. Карпатська складчаста споруда. | А. Поліметалеві руди. |
| 2. Дніпровсько-Донецька западина. | Б. Залізні руди. |
| 3. Причорноморська западина. | В. Природний газ. |
| 4. Український щит. | Г. Нафта. |
| | Д. Кам'яне вугілля. |

23 А Б В Г Д

1				
2				
3				
4				

24. Вкажіть відповідність між поняттями та їхнім тлумаченням:

1. Кооперування.
2. Економічна інтеграція.
3. Комбінування.
4. Спеціалізація.
 - А. Процес ітернаціоналізації господарського життя, зближення, об'єднання економік ряду країн.
 - Б. Зосередження основної діяльності підприємства на виробництві вузького кола продукції.
 - В. Об'єднання технологічно пов'язаних між собою підприємств, продукція одного з яких є напівфабрикатом або матеріалом для іншого.
 - Г. Витрати підприємства на виробництво і реалізацію продукції.
 - Д. Виробничі зв'язки між підприємствами спрямовані на виробництво певного продукту.

24	А	Б	В	Г	Д
1					
2					
3					
4					

25. Вкажіть відповідність між назвами країн і типами країн за рівнем економічного розвитку:

1. Північна Корея.
2. Австралійський Союз.
3. Саудівська Аравія.
4. Фінляндія.
 - А. Малі промислово розвинуті країни.
 - Б. Країни, що розвиваються.
 - В. Розвинуті країни «переселенського типу».
 - Г. Країни централізованої економіки.
 - Д. Країни «Великої сімки».

25	А	Б	В	Г	Д
1					
2					
3					
4					

III. Завдання на визначення правильної послідовності

У завданнях 26–30 розташуйте в логічній послідовності явища, об'єкти, процеси і т.д. Потім послідовність розташування букв перенесіть у бланк відповідей.

26. Вкажіть хронологічну послідовність геологічних ер, починаючи з найдавнішої:

- А. Архейська.
- Б. Кайнозойська.
- В. Палеозойська.
- Г. Мезозойська.

26	А	Б	В	Г
1				
2				
3				
4				

27. Розташуйте послідовно із заходу на схід острови Євразії:

- А. Великобританія.
- Б. Сахалін.
- В. Сицилія.
- Г. Нова Земля.

27	А	Б	В	Г
1				
2				
3				
4				

28. Розташуйте послідовно гідрологічні об'єкти вздовж уявної лінії «північний захід – південний схід»:

- А. Дністровське водосховище.
- Б. Озеро Донузлав
- В. Озеро Світязь.
- Г. Хаджибейський лиман.

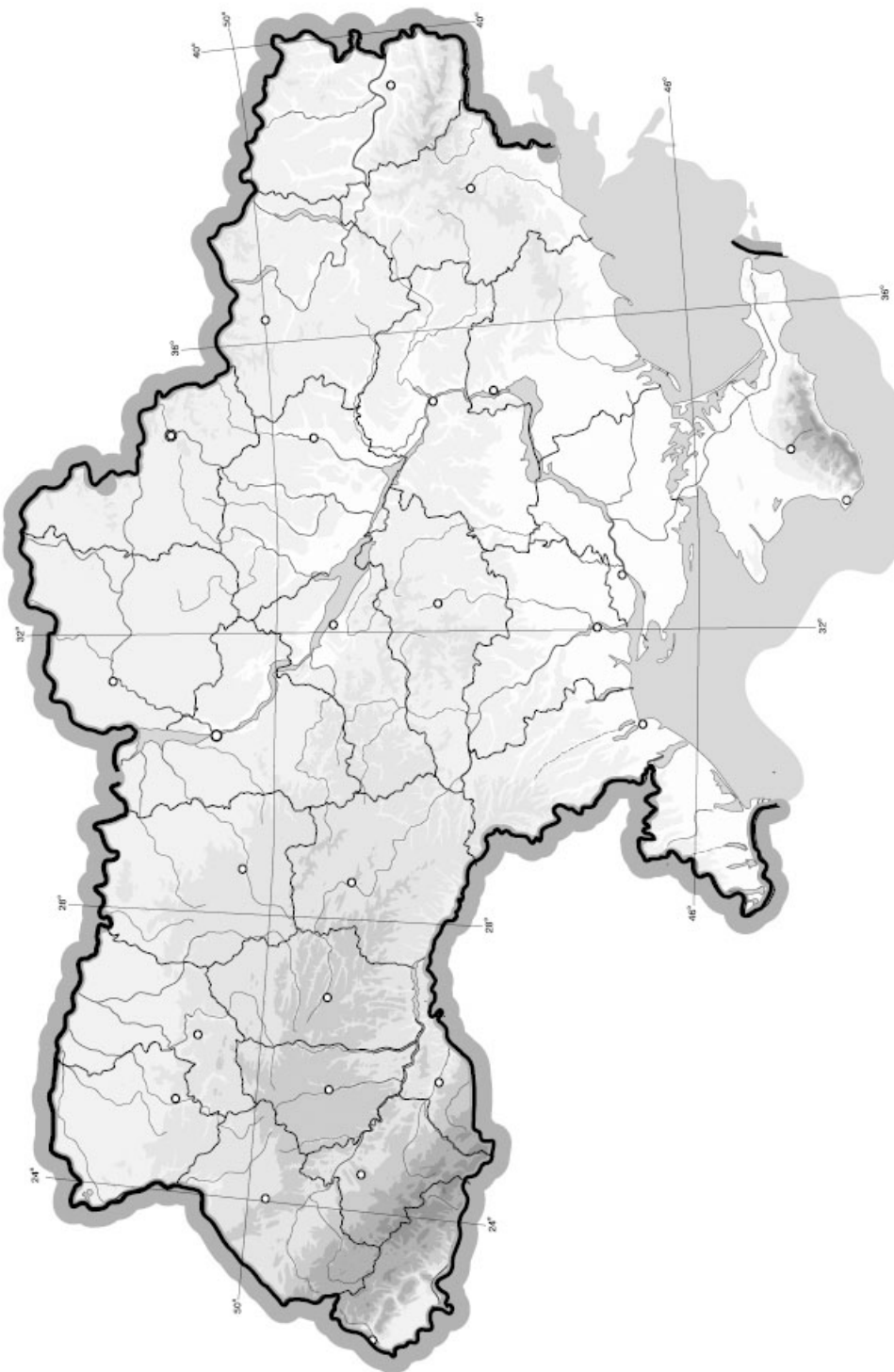
28	А	Б	В	Г
1				
2				
3				
4				



V. Завдання на контурній карті

Завдання 35 має картографічний характер і передбачає нанесення на карту інформації відповідно до завдання та розробку легенди карти (записи на карті й легенда подаються тим самим кольором ручки, яким виконується все тестове завдання).

35. За допомогою умовних знаків позначте на контурній карті найважливіші вугільні та нафтогазові басейни України.



Варіант 6

I. Завдання з вибором однієї правильної відповіді

1. Вкажіть назву лінії, від якої обчислюють географічну довготу:
- А. Екватор.
Б. Тропіки.
В. 180-й меридіан.
Г. Початковий меридіан.
2. Виберіть правильні географічні координати м. Києва:
- А. 51° пн. ш., 31° сх. д.
Б. 90° пн. ш., 100° зх. д.
В. 40° пд. ш., 80° сх. д.
Г. 90° пд. ш., 120° зх. д.
3. Визначте, який океан є найбільшим за площею:
- А. Індійський.
Б. Північний Льодовитий.
В. Тихий.
Г. Атлантичний.
4. Оберіть групу метаморфічних гірських порід:
- А. Базальт, пемза.
Б. Кам'яна, калійна сіль.
В. Мармур, гнейс.
Г. Торф, вугілля.
5. Визначте річку, в якій повінь настає в липні–серпні:
- А. Амур.
Б. Дніпро.
В. Волга.
Г. Парагвай.
6. Вкажіть, правильно місцеву назву зони степів Північної Америки:
- А. Сельва.
Б. Парамос.
В. Льянос.
Г. Прерії.
7. Визначте протяжність Австралії із заходу на схід по Південному тропіку, якщо на цій широті довжина дуги 1° становить приблизно 102 км, а географічна довгота крайніх точок 114° сх. д. та 151° сх. д.:
- А. 2397 км.
Б. 3774 км.
В. 4205 км.
Г. 3010 км.
8. Виберіть правильне твердження:
- А. У поясах високого атмосферного тиску переважають низхідні рухи повітря і випадає велика кількість опадів.
Б. У поясах високого атмосферного тиску переважають висхідні рухи повітря і випадає мала кількість опадів.
В. У поясах високого атмосферного тиску переважають низхідні рухи повітря і випадає мала кількість опадів.
Г. У поясах високого атмосферного тиску переважають висхідні рухи повітря і випадає велика кількість опадів.

9. Зазначте, у якій частині Європи розташована Україна:

- А. Північна Європа.
- Б. Центрально-Східна Європа.
- В. Західна Європа.
- Г. Південна Європа.

9 А Б В Г

10. Оберіть найбільший залізорудний басейн в Україні:

- А. Керченський.
- Б. Кременчуцький.
- В. Білозерський.
- Г. Криворізький.

10 А Б В Г

11. Вкажіть, яке з названих водосховищ розташоване на р. Південний Буг:

- А. Ладизинське.
- Б. Червонооскільське.
- В. Дніпродзержинське.
- Г. Печенізьке.

11 А Б В Г

12. Оберіть варіант, у якому перелічено лише антропогенні ландшафти:

- А. Шахти, болота, зорані поля.
- Б. Населені пункти, дороги, заплави річок.
- В. Заповідники, озера, сіножаті.
- Г. Кар'єри, водосховища, меліоративні системи.

12 А Б В Г

13. Оберіть варіант, у якому перелічені країни – члени міжнародної організації ГУАМ:

- А. Грузія, Україна, Азербайджан, Молдова.
- Б. Греція, Узбекистан, Афганістан, Мальта.
- В. Габон, Уганда, Ангола, Мавританія.
- Г. Грузія, Узбекистан, Азербайджан, Молдова.

13 А Б В Г

14. Вкажіть, яку з галузей відносять до важкої промисловості:

- А. Чорна металургія.
- Б. Текстильна промисловість.
- В. Олійно-жирова промисловість.
- Г. Кондитерська промисловість.

14 А Б В Г

15. Вкажіть, який чинник є визначальним для розміщення підприємств сільськогосподарського машинобудування:

- А. Екологічний.
- Б. Дешева електроенергія.
- В. Наявність споживача.
- Г. Наявність трудових ресурсів.

15 А Б В Г

16. Вкажіть, до якої мовної сім'ї належить українська мова:

- А. Уральської.
- Б. Семіто-хамітської.
- В. Індосвропейської.
- Г. Алтайської.

16 А Б В Г

17. Виберіть серед запропонованих прикладів заходи з раціонального використання мінеральних ресурсів:

- А. Збільшення масштабів видобутку.
- Б. Освоєння нових родовищ.
- В. Збільшення масштабів використання.
- Г. Глибока утилізація промислових і побутових відходів.

17 А Б В Г



18. Оберіть тип транспортної системи, характерний для України:

- А. Система північноамериканського типу.
- Б. Система європейського типу.
- В. Система країн СНД.
- Г. Система азіатського типу.

18 А Б В Г

--	--	--	--

19. Зазначте, які особливості характерні для металургії Японії:

- А. Має незначну частку в промисловому виробництві, сировина довізна, центри Касіма, Гої, Сакаї.
- Б. Посідає провідні позиції в промисловому виробництві світу, сировина довізна, центри – Кавасаки, Тіба, Фукуяма.
- В. Малорозвинута галузь через відсутність сировини і палива.
- Г. Високорозвинута галузь, у розміщенні орієнтована на центральну частину острова Хоккайдо, на місцеві сировинні ресурси.

19 А Б В Г

--	--	--	--

20. Визначте характерні особливості китайського експорту:

- А. Значна частка наукоємної продукції машинобудування і продукції авіакосмічної галузі.
- Б. Переважає вивіз продукції гірничовидобувної, легкої промисловості і сільського господарства.
- В. Переважає продукція важкої промисловості та автомобілебудування.
- Г. Переважає продукція АПК і суднобудування.

20 А Б В Г

--	--	--	--

II. Завдання на визначення відповідності

У завданнях 21–25 до кожного із завдань, позначених цифрою, доберіть правильну відповідь, позначену буквою. Потім відповідність цифр і букв перенесіть у бланк відповідей.

21. Вкажіть відповідність між гірськими системами і материками, на яких вони розташовані:

- | | |
|------------------|----------------------|
| 1. Гімалаї. | А. Африка. |
| 2. Кордильєри. | Б. Північна Америка. |
| 3. Анди. | В. Євразія. |
| 4. Масив Вінсон. | Г. Південна Америка. |
| | Д. Антарктида. |

21 А Б В Г Д

1				
2				
3				
4				

22. Вкажіть відповідність між материками та їхніми найвищими точками:

- | | |
|----------------------|------------------|
| 1. Африка. | А. Монблан. |
| 2. Австралія. | Б. Мак-Кінлі. |
| 3. Північна Америка. | В. Аконкагуа. |
| 4. Південна Америка. | Г. Косцюшко. |
| | Д. Кіліманджаро. |

22 А Б В Г Д

1				
2				
3				
4				

23. Визначте відповідність між тектонічними структурами та формами рельєфу, які з ними пов'язані:

- | | |
|------------------------------------|--|
| 1. Причорноморська западина. | |
| 2. Дніпровсько-Донецька западина. | |
| 3. Воронезький кристалічний масив. | |
| 4. Скіфська платформа. | |
| А. Придніпровська низовина. | |
| Б. Середньоросійська височина. | |
| В. Північнокримська низовина. | |
| Г. Донецький кряж. | |
| Д. Причорноморська низовина. | |

23 А Б В Г Д

1				
2				
3				
4				

24. Вкажіть відповідність між країнами – сусідами України та річками, якими проходить державний кордон:

- | | |
|--------------|------------------------------|
| 1. Угорщина. | А. Сіверський Донець. |
| 2. Росія. | Б. Тиса. |
| 3. Польща. | В. Дніпро. |
| 4. Білорусь. | Г. Західний Буг. |
| | Д. Прут. |

24	А	Б	В	Г	Д
1					
2					
3					
4					

25. Вкажіть відповідність між назвами нафтогазових родовищ і регіонами, до яких вони приурочені:

- | | |
|---------------------------|----------------------------------|
| 1. Район Перської затоки. | А. Південно-Східна Азія. |
| 2. Західний Сибір. | Б. Західна Європа. |
| 3. Північноморський. | В. Північна Азія. |
| 4. Суматранський. | Г. Південно-Західна Азія. |
| | Д. Північна Африка. |

25	А	Б	В	Г	Д
1					
2					
3					
4					

III. Завдання на визначення правильної послідовності

У завданнях 26–30 розташуйте в логічній послідовності явища, об'єкти, процеси і т.д. Потім послідовність розташування букв перенесіть у бланк відповідей.

26. Вкажіть послідовність дій під час окомірного знімання місцевості:

- А.** Визначення відстаней до об'єктів на місцевості.
Б. Визначення масштабу знімання.
В. Орієнтування планшету за сторонами світу.
Г. Визначення напрямків на об'єкти місцевості.

26	А	Б	В	Г
1				
2				
3				
4				

27. Розташуйте послідовно із заходу на схід острови Євразії:

- А.** Калімантан.
Б. Сицилія.
В. Шрі-Ланка.
Г. Ірландія.

27	А	Б	В	Г
1				
2				
3				
4				

28. Визначте послідовність, у якій річки впадають у Чорне море, починаючи із заходу:

- А.** Дніпро.
Б. Дунай.
В. Дністер.
Г. Південний Буг.

28	А	Б	В	Г
1				
2				
3				
4				

29. Розташуйте послідовно країни в порядку збільшення в них чисельності української діаспори:

- А.** Росія.
Б. Бразилія.
В. Канада.
Г. США.

29	А	Б	В	Г
1				
2				
3				
4				



V. Завдання на контурній карті

Завдання 35 має картографічний характер і передбачає нанесення на карту інформації відповідно до завдання та розробку легенди карти (записи на карті й легенда подаються тим самим кольором ручки, яким виконується все тестове завдання).

- 35.** Нанесіть на контурну карту сировинну базу та основні райони чорної металургії України (чотири родовища залізних руд, основну паливну базу та райони розвитку металургії).



Варіант 7

I. Завдання з вибором однієї правильної відповіді

1. Вкажіть, де найчастіше зароджуються землетруси:
- А. На рівнинах.
 - Б. У зоні зіткнення літосферних плит у період горотворення.
 - В. На дні Світового океану.
 - Г. На будь-якій території Землі.
- 1 А Б В Г
2. Зазначте, що таке літосферна плита:
- А. Тверда оболонка Землі.
 - Б. Рухома ділянка земної кори.
 - В. Давня стійка ділянка земної кори.
 - Г. Великий блок літосфери, що повільно ковзає по в'язкій речовині мантиї.
- 2 А Б В Г
3. Зазначте, яка форма рельєфу океанічного дна не належить до ложа океану:
- А. Глибоководні рівнини.
 - Б. Материкова обмілина.
 - В. Серединно-океанічні хребти.
 - Г. Глибоководні жолоби.
- 3 А Б В Г
4. Вкажіть, яка з річок є найповноводнішою:
- А. Дніпро.
 - Б. Волга.
 - В. Янцзи.
 - Г. Амазонка.
- 4 А Б В Г
5. Вкажіть материк, на якому розташований найвищий водоспад світу:
- А. Північна Америка.
 - Б. Африка.
 - В. Євразія.
 - Г. Південна Америка.
- 5 А Б В Г
6. Вкажіть, у якій парі моря не належать до басейну Атлантичного океану:
- А. Балтійське і Карибське.
 - Б. Саргасове і Середземне.
 - В. Саргасове і Аравійське.
 - Г. Чорне і Карибське.
- 6 А Б В Г
7. Визначте протяжність Південної Америки з півночі на південь по 70° зх. д., якщо географічна широта точок становить 12° пн. ш. та 55° пд. ш.:
- А. 7437 км.
 - Б. 6105 км.
 - В. 1332 км.
 - Г. 4773 км.
- 7 А Б В Г
8. Визначте, який нахил має Земля до площини орбіти:
- А. $23^\circ 27'$.
 - Б. $66^\circ 33'$.
 - В. $30^\circ 27'$.
 - Г. $59^\circ 33'$.
- 8 А Б В Г
9. Вкажіть назву держави, з якою Україна має найдовший кордон на суходолі:
- А. Білорусь.
 - Б. Росія.
 - В. Польща.
 - Г. Молдова.
- 9 А Б В Г

10. Зазначте, на якій платформі розташований Український кристалічний щит:

- А. Західноєвропейська.
- Б. Східноєвропейська.
- В. Сибірська.
- Г. Скіфська.

10 А Б В Г

11. Вкажіть, яке з озер України є найвисокогірнішим:

- А. Синевир.
- Б. Бребенескул.
- В. Липовецьке.
- Г. Несамовите.

11 А Б В Г

12. Виберіть з перелічених об'єктів природно-заповідного фонду України національний парк:

- А. Поліський.
- Б. Шацький.
- В. Асканія-Нова.
- Г. Ялтинський.

12 А Б В Г

13. Вкажіть країну, якій Україна поступається за розмірами території:

- А. Німеччина.
- Б. Грузія.
- В. Казахстан.
- Г. Еквадор.

13 А Б В Г

14. Вкажіть назву поселення, в якому розташоване одне мале або середнє промислове підприємство:

- А. Промисловий пункт.
- Б. Промисловий вузол.
- В. Промисловий центр.
- Г. Промислова агломерація.

14 А Б В Г

15. Зазначте, в якому місті України розташований глиноземний завод:

- А. Дніпропетровськ.
- Б. Донецьк.
- В. Запоріжжя.
- Г. Миколаїв.

15 А Б В Г

16. Вкажіть регіон України, для якого характерна найгустіша мережа залізниць:

- А. Донецький.
- Б. Полісся.
- В. Крим.
- Г. Причорномор'я.

16 А Б В Г

17. Виберіть групу країн, що володіють найбільшими запасами металевих корисних копалин:

- А. Франція, Німеччина, Канада, Італія.
- Б. США, Австралія, Китай, Росія, Канада.
- В. Бразилія, ДРК, Алжир, ПАР.
- Г. Росія, Україна, Угорщина, Польща.

17 А Б В Г

18. Виберіть серед переліку запропонованих видів земельних ресурсів ті, які мають найбільшу частку в структурі земельного фонду країн Європи:

- А. Антропогенна забудова.
- Б. Природоохоронні території.
- В. Природні луки і пасовища.
- Г. Оброблювальні землі.

18 А Б В Г





19. Вкажіть, яка з міжнародних проток має найвищі показники напруженості руху суден:

- А. Баб-ель-Мандебська.
- Б. Ересун.
- В. Ла-Манш.
- Г. Дрейка.

19	А	Б	В	Г

20. Визначте спеціалізацію сільського господарства країн Південної і Південно-Східної Азії:

- А. Платанційне господарство, вирощування цитрусових культур.
- Б. Споживацьке землеробство, вирощування поливного рису.
- В. Споживацьке землеробство, вирощування сорго.
- Г. Богарне землеробство, вирощування кукурудзи.

20	А	Б	В	Г

II. Завдання на визначення відповідності

У завданнях 21–25 до кожного із завдань, позначених цифрою, доберіть правильну відповідь, позначену буквою. Потім відповідність цифр і букв перенесіть у бланк відповідей.

21. Вкажіть відповідність між низовинами і материками, на яких вони розташовані:

- | | |
|----------------------|----------------------|
| 1. Амазонська. | А. Африка. |
| 2. Велика Китайська. | Б. Північна Америка. |
| 3. Міссісіпська. | В. Євразія. |
| 4. Дельта Нілу. | Г. Південна Америка. |
| | Д. Австралія. |

21	А	Б	В	Г	Д
1					
2					
3					
4					

22. Вкажіть відповідність між назвами річкових систем і водоспадами, які на них утворилися:

- | | |
|--------------------|-----------------|
| 1. Басейн Парани. | А. Ніагарський. |
| 2. Замбезі. | Б. Анхель. |
| 3. Басейн Оріноко. | В. Вікторія. |
| 4. Конго. | Г. Ігуасу. |
| | Д. Лівінгстона. |

22	А	Б	В	Г	Д
1					
2					
3					
4					

23. Визначте відповідність між типами корисних копалин України та їхніми родовищами:

- 1. Кам'яне вугілля.
- 2. Нафта.
- 3. Залізна руда.
- 4. Кам'яна сіль.
 - А. Артемівське.
 - Б. Кременчуцьке.
 - В. Павлоградське.
 - Г. Стебницьке.
 - Д. Прилуцьке.

23	А	Б	В	Г	Д
1					
2					
3					
4					

24. Вкажіть відповідність між країнами – сусідами України та формами рельєфу, по яких проходять державні кордони:

- | | |
|--------------|---------------------------------------|
| 1. Польща. | А. Закарпатська низовина. |
| 2. Росія. | Б. Розточчя. |
| 3. Молдова. | В. Поліська низовина. |
| 4. Білорусь. | Г. Середньоросійська височина. |
| | Д. Причорноморська низовина. |

24	А	Б	В	Г	Д
1					
2					
3					
4					

25. Вкажіть відповідність між назвами вугільних басейнів світу й регіонами, до яких вони приурочені:

- | | |
|-----------------|-----------------------------|
| 1. Аппалацький. | А. Східна Європа. |
| 2. Кузнецький. | Б. Західна Європа. |
| 3. Рурський. | В. Північна Азія. |
| 4. Печорський. | Г. Східна Азія. |
| | Д. Північна Америка. |

25	А	Б	В	Г	Д
1					
2					
3					
4					

III. Завдання на визначення правильної послідовності

У завданнях 26–30 розташуйте в логічній послідовності явища, об'єкти, процеси і т.д. Потім послідовність розташування букв перенесіть у бланк відповідей.

26. Розмістіть у хронологічній послідовності події:

- А.** Навколосвітня подорож Фернана Магеллана.
Б. Перша подорож Христофора Колумба.
В. Відкриття Абедем Тасманом Австралії.
Г. Подорож Ібн Батути.

26	А	Б	В	Г
1				
2				
3				
4				

27. Розташуйте послідовно із заходу на схід півострови Євразії:

- А.** Балканський.
Б. Мала Азія.
В. Піренейський.
Г. Апеннінський.

27	А	Б	В	Г
1				
2				
3				
4				

28. Розташуйте послідовно в напрямку з півдня на північ озера України:

- А.** Світязь.
Б. Синевир.
В. Ялпуг.
Г. Сасик.

28	А	Б	В	Г
1				
2				
3				
4				



V. Завдання на контурній карті

Завдання 35 має картографічний характер і передбачає нанесення на карту інформації відповідно до завдання та розробку легенди карти (записи на карті й легенда подаються тим самим кольором ручки, яким виконується все тестове завдання).

- 35.** Нанесіть на контурну карту сировинну базу і центри кольорової металургії України (позначити родовища нікелю, титану, ртуті, алюмінію, золота і центри виплавки цих металів).



Варіант 8

I. Завдання з вибором однієї правильної відповіді

1. Зазначте, що таке вітер:
- А. Горизонтальний рух повітря з області високого тиску в область низького тиску.
 - Б. Горизонтальний рух повітря з області низького тиску в область високого тиску.
 - В. Горизонтальний рух повітря з півночі на південь.
 - Г. Горизонтальний рух повітря із заходу на схід.
2. Зазначте, як називають найвищий рівень води в річці:
- А. Межень.
 - Б. Паводок.
 - В. Повінь.
 - Г. Шторм.
3. Оберіть варіант, у якому вказано правильний перелік вмісту основних газів в атмосфері:
- А. Кисень – 78 %, азот – 21 %, вуглекислий газ – 0,03 %.
 - Б. Кисень – 21 %, азот – 78 %, вуглекислий газ – 0,03 %.
 - В. Кисень – 21 %, азот – 78 %, вуглекислий газ – 3 %.
 - Г. Кисень – 8 %, азот – 3 %, вуглекислий газ – 21 %.
4. Зазначте, що таке екватор:
- А. Найбільший меридіан.
 - Б. Уявна лінія, що ділить Землю на Західну і Східну півкулі.
 - В. Уявна лінія, що ділить Землю на дві півкулі – Північну і Південну.
 - Г. Найкоротша паралель.
5. Визначте, який з термінів у переліку народів Африки є «зайвим»:
- А. Індійці.
 - Б. Пігмеї.
 - В. Нілоти.
 - Г. Ефіопи.
6. Вкажіть, якого походження Гавайські острови:
- А. Материкового.
 - Б. Вулканічного.
 - В. Коралового.
 - Г. Намивного.
7. Визначте протяжність материка Північна Америка з півночі на південь, використовуючи дані про географічні координати точок (69° пн. ш., 120° зх. д. і 34° пн. ш., 120° зх. д.):
- А. 11433 км.
 - Б. 2870 км.
 - В. 8250 км.
 - Г. 3885 км.
8. Оберіть варіант, у якому вказано зональні природні комплекси:
- А. Зона вологих екваторіальних лісів, помірний географічний пояс.
 - Б. Арктичний географічний пояс, Африка.
 - В. Східноєвропейська рівнина, Анди.
 - Г. Зона мішаних лісів, Індійський океан.

1 А Б В Г

--	--	--	--

2 А Б В Г

--	--	--	--

3 А Б В Г

--	--	--	--

4 А Б В Г

--	--	--	--

5 А Б В Г

--	--	--	--

6 А Б В Г

--	--	--	--

7 А Б В Г

--	--	--	--

8 А Б В Г

--	--	--	--

9. Назвіть країну, яка має найкоротший суходільний кордон з Україною:

- А. Молдова.
Б. Білорусь.
В. Словаччина.
Г. Румунія.

9 А Б В Г
□ □ □ □

10. Оберіть умовний знак, яким на карті позначають Абазівське, Семенівське, Єфремівське, Шебелинське родовища:

- А. ▲ В. ▲
Б. ■ Г. △

10 А Б В Г
□ □ □ □

11. Визначте похил річки Сули завдовжки 363 км, якщо її витік розташований на висоті 155 м, а гирло – на висоті 80 м над рівнем моря:

- А. 58 см/км.
Б. 44 см/км.
В. 21 см/км.
Г. 64 см/км.

11 А Б В Г
□ □ □ □

12. Оберіть правильне визначення поняття «полонини»:

- А. Карпатські ліси.
Б. Степові ділянки лісостепу.
В. Гірські луки в Кримських горах.
Г. Гірські луки в Карпатах.

12 А Б В Г
□ □ □ □

13. Вкажіть назву економічного району, у межах якого розташована крайня західна точка України:

- А. Карпатський.
Б. Північно-Західний.
В. Подільський.
Г. Причорноморський.

13 А Б В Г
□ □ □ □

14. Оберіть варіант, у якому перелічено галузі, що мають найбільшу в Україні частку виготовленої промислової продукції:

- А. Машинобудування, чорна металургія, харчова й легка промисловість.
Б. Харчова, хімічна і легка промисловість.
В. Чорна металургія, паливна, легка і хімічна промисловість.
Г. Кольорова і чорна металургія, легка й лісова промисловість.

14 А Б В Г
□ □ □ □

15. Вкажіть форму організації виробництва, що має таке визначення – «організація виробничих зв'язків між підприємствами для випуску певної продукції»:

- А. Комбінування.
Б. Кооперування.
В. Концентрація.
Г. Спеціалізація.

15 А Б В Г
□ □ □ □

16. Вкажіть гірськолижні курорти України:

- А. Косів, Коломия, Добромиль.
Б. Моршин, Трускавець, Свалява.
В. Львів, Івано-Франківськ, Чернівці.
Г. «Буковель», «Драгобрат», Славське.

16 А Б В Г
□ □ □ □



17. Оберіть серед запропонованих прикладів основну проблему, пов'язану з використанням земельних ресурсів світу:

- А. Деградація українських чорноземів.
- Б. Спустелення земель.
- В. Засолення земель.
- Г. Заболочення земель.

17	А	Б	В	Г

18. Вкажіть основну причину деградації лісових ресурсів у країнах, що розвиваються:

- А. Використання деревини на дрова.
- Б. Експорт тропічної деревини і використання її для потреб целюлозно-паперової промисловості.
- В. Розчищення земель для міських і транспортних потреб, а особливо для підсічно-вогневого землеробства.
- Г. Деградація лісів через кислотні опади.

18	А	Б	В	Г

19. Зазначте, які види транспорту відіграли особливо важливу роль в освоєнні континентів і формуванні світового господарства:

- А. Автомобільний і повітряний.
- Б. Повітряний і трубопровідний.
- В. Залізничний і автомобільний.
- Г. Морський і залізничний.

19	А	Б	В	Г

20. Зазначте, який регіон світу за образним висловом завжди «пахне порохом і нафтою»:

- А. Південно-Східної Азії.
- Б. Близького і Середнього Сходу.
- В. Південної Азії.
- Г. Східної Азії.

20	А	Б	В	Г

II. Завдання на визначення відповідності

У завданнях 21–25 до кожного із завдань, позначених цифрою, доберіть правильну відповідь, позначену буквою. Потім відповідність цифр і букв перенесіть у бланк відповідей.

21. Вкажіть відповідність між дією зовнішніх сил природи і наслідками їхньої діяльності:

- 1. Дія Сонця.
- 2. Дія вітру.
- 3. Дія води.
- 4. Діяльність живих організмів.
 - А. Бархани і дюни.
 - Б. Невеликі острови, коси, яри.
 - В. Руйнування гірських порід (брили, уламки, щебінь).
 - Г. Нори, купини.
 - Д. Терикони, вали, кар'єри.

21	А	Б	В	Г	Д
1					
2					
3					
4					

22. Вкажіть відповідність між назвами професій науковців і напрямками їхніх досліджень:

- 1. Геологи.
- 2. Геоморфологи.
- 3. Гляціологи.
- 4. Метеорологи.
- А. Склад гірських порід.
- Б. Крижаний покрив.
- В. Спостереження за погодою.
- Г. Дослідження рельєфу.
- Д. Води океанів.

22	А	Б	В	Г	Д
1					
2					
3					
4					

23. Визначте відповідність між причинно-наслідковими зв'язками, які виникають як результат впливу фізико-географічного положення України на особливості її природних умов:

1. Розташування в помірних широтах.
2. Значна протяжність із заходу на схід.
3. Переважання рівнинного рельєфу.
4. Широтна протяжність Кримських гір.
 - А. Формування субтропічного клімату на ПБК.
 - Б. Зменшення впливу морського повітря і посилення сухості клімату в східному напрямку.
 - В. Вільний рух повітряних мас з різними властивостями.
 - Г. Посилений вплив арктичних повітряних мас протягом року.
 - Д. Формування контрастної сезонної зміни температур.

23	А	Б	В	Г	Д
1					
2					
3					
4					

24. Вкажіть відповідність між сучасними назвами обласних центрів України та їхніми назвами в минулому:

1. Донецьк.
 2. Кіровоград.
 3. Дніпропетровськ.
 4. Луганськ.
- А. Катеринослав.
 - Б. Єлизаветград.
 - В. Ворошиловград.
 - Г. Юзівка.
 - Д. Жданов.

24	А	Б	В	Г	Д
1					
2					
3					
4					

25. Вкажіть відповідність між назвою мінеральної сировини і країною, що володіє її найбільшими запасами:

1. Алюмінієві руди.
 2. Залізні руди.
 3. Мідні руди.
 4. Золото.
- А. ПАР.
 - Б. Бразилія.
 - В. Австралія.
 - Г. Чилі.
 - Д. Індія.

25	А	Б	В	Г	Д
1					
2					
3					
4					

III. Завдання на визначення правильної послідовності

У завданнях 26–30 розташуйте в логічній послідовності явища, об'єкти, процеси і т.д. Потім послідовність розташування букв перенесіть у бланк відповідей.

26. Визначте хронологічну послідовність розвитку географічних знань про Землю:

- А. Відкриття Д. Кука в Тихому океані.
- Б. Створення Птолемеєм карти світу.
- В. Створення М. Бехаймом першого глобуса.
- Г. Відкриття Р. Пірі Північного географічного полюса.

26	А	Б	В	Г
1				
2				
3				
4				

27. Розташуйте послідовно з півдня на північ моря, що омивають східні береги Європи:

- А. Жовте.
- Б. Охотське.
- В. Східнокитайське.
- Г. Японське.

27	А	Б	В	Г
1				
2				
3				
4				



V. Завдання на контурній карті

Завдання 35 має картографічний характер і передбачає нанесення на карту інформації відповідно до завдання та розробку легенди карти (записи на карті й легенда подаються тим самим кольором ручки, яким виконується все тестове завдання).

35. Нанесіть на контурну карту елементи берегової лінії, рельєфу та внутрішні води Австралії (моря: Коралове, Тасманове, Арафурське; затоки: Велика Австралійська, Карпентарія; о-ви: Тасманія, Великий Бар'єрний риф, Нова Зеландія, Нова Гвінея; п-ів Кейп-Йорк).



Варіант 9

I. Завдання з вибором однієї правильної відповіді

1. Вкажіть назву найглибшого на Землі озера:

- А. Балхаш.
Б. Байкал.
В. Гурон.
Г. Танганьїка.

1 А Б В Г
□ □ □ □

2. Вкажіть основну особливість ґрунтів, яка відрізняє їх від гірських порід:

- А. Вологість.
Б. Структура.
В. Родючість.
Г. Кислотність.

2 А Б В Г
□ □ □ □

3. Виберіть групу країн, які розташовані в Європі:

- А. Польща, Німеччина, Франція, Іспанія.
Б. Угорщина, Туреччина, Сирія, Конго.
В. Швеція, Австрія, Австралійський Союз, Ліберія.
Г. Румунія, Італія, Ліван, Бразилія.

3 А Б В Г
□ □ □ □

4. Оберіть групу найчисленніших народів світу:

- А. Росіяни, українці, англійці.
Б. Китайці, турки, австралійці.
В. Китайці, індонезійці, французи.
Г. Китайці, хіндустанці, американці.

4 А Б В Г
□ □ □ □

5. Виберіть море Світового океану, в якому солоність води є найменшою:

- А. Середземне.
Б. Карське.
В. Чорне.
Г. Японське.

5 А Б В Г
□ □ □ □

6. Вкажіть, яка з карт є дрібномасштабною:

- А. 1 : 10 000.
Б. 1 : 200 000.
В. 1 : 500 000.
Г. 1 : 1 000 000.

6 А Б В Г
□ □ □ □

7. Вкажіть, яка з річок Північної Америки утворює Великий Каньйон:

- А. Міссісіпі.
Б. Святого Лаврентія.
В. Ніагара.
Г. Колорадо.

7 А Б В Г
□ □ □ □

8. Виберіть варіант, у якому вказано зональні природні комплекси:

- А. Географічні пояси, природні країни.
Б. Материки, океани.
В. Природні зони, природні країни.
Г. Географічні пояси, природні зони.

8 А Б В Г
□ □ □ □

9. Зазначте, який вид корисних копалин поширений у межах Українського щита:

- А. Кам'яна сіль.
Б. Нафта і природний газ.
В. Залізна руда.
Г. Сірка.

10 А Б В Г
□ □ □ □



10. Визначте крайню точку України, позначену на карті стрілкою:

- А. с. Соломонове (околиці м. Чоп).
- Б. с. Червона Зірка.
- В. с. Грем'яч.
- Г. мис Сарич.

9 А Б В Г

--	--	--	--

11. Оберіть відповідь, яка характеризує континентальний тип річного розподілу опадів:

- А. Кількість опадів не має закономірного розподілу протягом року.
- Б. Кількість опадів холодного періоду перевищує кількість опадів у теплий період.
- В. Кількість опадів однакова в холодний і теплий періоди.
- Г. Кількість опадів теплого періоду перевищує кількість опадів у холодний період.

11 А Б В Г

--	--	--	--

12. Оберіть правильне визначення терміна «падіння річки»:

- А. Кількість води, що проходить через переріз річки за одиницю часу.
- Б. Відношення похилу річки до довжини.
- В. Різниця між абсолютними висотами витoku і гирла річки.
- Г. Різниця між абсолютними висотами вододілу і русла річки.

12 А Б В Г

--	--	--	--

13. Зазначте, хто є фундатором української національної школи географії, засновником першого науково-дослідного інституту географії та картографії:

- А. Петро Погребняк.
- Б. Павло Тутковський.
- В. Василь Докучаєв.
- Г. Степан Рудницький.

13 А Б В Г

--	--	--	--

14. Вкажіть область України, для якої характерна найвища частка зайнятих у сільському господарстві:

- А. Тернопільська.
- Б. Одеська.
- В. Дніпропетровська.
- Г. Полтавська.

14 А Б В Г

--	--	--	--





15. Визначте групу економічних районів України, на які припадає значна частка товарного виробництва сільськогосподарської продукції:
- А. Донецький, Столичний.
Б. Подільський, Північно-Східний.
В. Придніпровський, Столичний.
Г. Карпатський, Причорноморський.
16. Вкажіть основну функцію рекреаційної галузі:
- А. Забезпечення духовного збагачення населення.
Б. Підвищення освітнього рівня населення.
В. Підвищення професійного рівня населення.
Г. Оздоровлення населення.
17. Оберіть показники, характерні для країн першого типу відтворення:
- А. Високі механічний приріст і смертність, невисокий природний приріст.
Б. Невисокі народжуваність, смертність і природний приріст.
В. Високі народжуваність, смертність і природний приріст.
Г. Високі народжуваність і природний приріст, невисока смертність.
18. Вкажіть характерні особливості спеціалізації та експорту продукції гірничорудної промисловості країн Африки:
- А. Ліберія, Мавританія – залізні руди.
Б. Нігер, Габон – золото.
В. ПАР, Замбія, ДРК – нафта.
Г. Алжир, Нігерія, Лівія – уран.
19. Вкажіть регіон світу, що лідирує за витратами на зарубіжний туризм:
- А. Англо-Америка.
Б. Країни Океанії.
В. Латинська Америка.
Г. Європа.
20. Оберіть правильну характеристику транспорту Росії:
- А. Провідна роль у перевезеннях вантажів і пасажирів належить автомобільному транспорту.
Б. У європейській частині транспортна мережа має радіально концентричний малюнок.
В. Значну частку перевезення вантажів забезпечує повітряний транспорт.
Г. У сибірській частині Росії транспортна мережа більш густа, ніж у європейській.

15 А Б В Г

--	--	--	--

16 А Б В Г

--	--	--	--

17 А Б В Г

--	--	--	--

18 А Б В Г

--	--	--	--

19 А Б В Г

--	--	--	--

20 А Б В Г

--	--	--	--

II. Завдання на визначення відповідності

У завданнях 21–25 до кожного із завдань, позначених цифрою, доберіть правильну відповідь, позначену буквою. Потім відповідність цифр і букв перенесіть у бланк відповідей.

21. Визначте відповідність між вулканами і частинами світу, де вони розташовані:
- | | |
|----------------------|----------------------|
| 1. Везувій. | А. Північна Америка. |
| 2. Ключевська Сопка. | Б. Європа. |
| 3. Кіліманджаро. | В. Азія. |
| 4. Орисаба. | Г. Африка. |
| | Д. Австралія. |

21 А Б В Г Д

1				
2				
3				
4				

22. Вкажіть відповідність між тектонічними структурами і формами рельєфу на материк Північна Америка:

1. Канадський щит.
2. Область герцинської та каледонської складчастості.
3. Область мезозойської і кайнозойської складчастості.
4. Палеозойська платформа.
 - А. Примексиканська низовина.
 - Б. Аппалачі.
 - В. Центральні рівнини.
 - Г. Лаврентійська височина.
 - Д. Кордильєри.

22	А	Б	В	Г	Д
1					
2					
3					
4					

23. Визначте відповідність між тектонічними структурами і формами рельєфу, які з ними пов'язані:

1. Волино-Подільська плита.
2. Український щит.
3. Донецька складчаста споруда.
4. Закарпатська западина.
 - А. Приазовська височина.
 - Б. Закарпатська низовина.
 - В. Причорноморська низовина.
 - Г. Волинська височина.
 - Д. Донецький кряж.

23	А	Б	В	Г	Д
1					
2					
3					
4					

24. Визначте відповідність між підприємствами будівельної промисловості та центрами виробництва, в яких вони розміщені:

1. Цементна промисловість.
 2. Скляна промисловість.
 3. Порцеляно-фаянсова промисловість.
 4. Промисловість збірних залізобетонних і бетонних конструкцій.
- А. Здолбунів.
 - Б. Запоріжжя.
 - В. Коростень.
 - Г. Маріуполь.
 - Д. Березани.

24	А	Б	В	Г	Д
1					
2					
3					
4					

25. Визначте відповідність між регіонами світу і характером земельних ресурсів:

1. Південна Америка.
2. Африка.
3. Західна і Центральна Європа.
4. Азія.
 - А. Значна частка сільськогосподарських угідь та висока ефективність використання земель за низької частки неродючих і незручних земель.
 - Б. Найбільша в світі частка лісів.
 - В. Величезні території відносять до аридних, земельні ресурси мають низький потенціал.
 - Г. Найбільша у світі частка лісів і пасовищ.
 - Д. Наявність значних засушливих або перезвожених територій і близько 50 % гірських площ.

25	А	Б	В	Г	Д
1					
2					
3					
4					

III. Завдання на визначення правильної послідовності

У завданнях 26–30 розташуйте в логічній послідовності явища, об'єкти, процеси і т. д. Потім послідовність розташування букв перенесіть у бланк відповідей.

26. Визначте послідовність розміщення внутрішніх шарів Землі, починаючи від поверхні:

- А. Ядро.
- Б. Земна кора.
- В. Астеносфера.
- Г. Мантія.

26	А	Б	В	Г
1				
2				
3				
4				





27. Розташуйте послідовно гірські системи Євразії, починаючи з найвищої:

- А. Уральські гори.
- Б. Гімалаї.
- В. Карпати.
- Г. Альпи.

27	А	Б	В	Г
1				
2				
3				
4				

28. Розташуйте форми рельєфу в порядку зменшення відсотка території, яку вони займають в Україні:

- А. Гори.
- Б. Низовини.
- В. Рівнини.
- Г. Височини.

28	А	Б	В	Г
1				
2				
3				
4				

29. Вкажіть послідовність розташування залізрудних басейнів в Україні з півночі на південь:

- А. Керченський.
- Б. Кременчуцький.
- В. Білозерський.
- Г. Криворізький.

29	А	Б	В	Г
1				
2				
3				
4				

30. Вкажіть правильну послідовність електростанцій світу за їхньою часткою у світовому виробництві електроенергії (починаючи з найважливіших):

- А. Вітрові, сонячні, геотермальні та ін. електростанції.
- Б. Теплові електростанції.
- В. Атомні електростанції.
- Г. Гідроелектростанції.

30	А	Б	В	Г
1				
2				
3				
4				

IV. Завдання відкритого типу

Завдання 31–34* передбачають розгорнуту відповідь на поставлені запитання з відповідним записом у бланку відповідей.

- 31. Охарактеризуйте зміни в паливно-енергетичному балансі світу, що відбулися в ХХ ст.
- 32. Назвіть і охарактеризуйте основні кліматотвірні чинники, які формують клімат України.
- 33. Охарактеризуйте основні експортні галузі економіки України. На які країни припадає найбільша частка експорту з України?
- 34*. Розкрийте особливості кількісних і якісних змін на політичній карті світу в новітній період.

V. Завдання на контурній карті

Завдання 35 має картографічний характер і передбачає нанесення на карту інформації відповідно до завдання та розробку легенди карти (записи на карті й легенда подаються тим самим кольором ручки, яким виконується все тестове завдання).

- 35.** За допомогою умовних знаків нанесіть на контурну карту України найважливіші родовища рудних корисних копалин (5 родовищ кольорових металів, 4 родовища чорних металів).



Варіант 10

I. Завдання з вибором однієї правильної відповіді

1. Зазначте, що є найбільшим природним комплексом Землі:

- А. Біосфера.
 Б. Географічна оболонка.
 В. Гідросфера.
 Г. Літосфера.

1 А Б В Г

--	--	--	--

2. Вкажіть державу, в якій українська діаспора є найбільшою:

- А. Російська Федерація.
 Б. США.
 В. Канада.
 Г. Польща.

2 А Б В Г

--	--	--	--

3. Виберіть групу країн, які розташовані в Азії:

- А. Непал, Китай, Алжир, Аргентина.
 Б. Росія, Іран, Індія, Канада.
 В. Узбекистан, В'єтнам, Ірак, Японія.
 Г. Корея, Індонезія, Мексика, Перу.

3 А Б В Г

--	--	--	--

4. Оберіть групу країн світу, в яких проживає найбільша кількість людей:

- А. Китай, Індія, США, Індонезія.
 Б. Китай, Індія, Україна, Білорусь.
 В. Китай, Японія, Польща, Венесуела.
 Г. Китай, Індія, Росія, Ватикан.

4 А Б В Г

--	--	--	--

5. Вкажіть серед зазначених озер солоне:

- А. Ейр.
 Б. Ері.
 В. Тітікака.
 Г. Чад.

5 А Б В Г

--	--	--	--

6. Вкажіть, яка рівнина Євразії приурочена до молодій платформі:

- А. Східноєвропейська.
 Б. Велика Китайська.
 В. Плато Декан.
 Г. Західносибірська

6 А Б В Г

--	--	--	--

7. Вкажіть, як розташовуються степи Північної Америки:

- А. У широтному напрямку.
 Б. У горах.
 В. На прибережних рівнинах.
 Г. У меридіональному напрямку.

7 А Б В Г

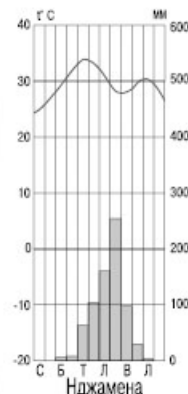
--	--	--	--

8. Вкажіть назву кліматичного поясу чи типу клімату, який характеризує діаграма:

- А. Екваторіальний пояс.
 Б. Субекваторіальний пояс.
 В. Тропічний пояс, пустельна область.
 Г. Тропічний пояс, волога область.

8 А Б В Г

--	--	--	--



9. Визначте, на скільки хвилин відрізняється місцевий час Львова (24° сх. д.) та Одеси (30°30' сх. д.):

- А. 6 хв 30 с.
 Б. 13 хв.
 В. 24 хв 30с.
 Г. 26 хв.

9 А Б В Г

--	--	--	--

10. Зазначте, які геологічні відклади в Україні є наймолодшими:

- А. Докембрійські.
- Б. Кайнозойські.
- В. Мезозойські.
- Г. Палеозойські.

10 А Б В Г

11. Зазначте, який тип повітряних мас переважає на території України:

- А. Помірні континентальні повітряні маси.
- Б. Тропічні континентальні повітряні маси.
- В. Помірні морські повітряні маси з Атлантичного океану.
- Г. Арктичні повітряні маси.

11 А Б В Г

12. Визначте назву водного об'єкта, на який вказує стрілка на карті:



- А. Каховське водосховище.
- Б. Дніпровське водосховище.
- В. Кременчуцьке водосховище.
- Г. Дністрівське водосховище.

12 А Б В Г

13. Оберіть пару міст України, що мають особливий статус:

- А. Київ і Севастополь.
- Б. Сімферополь і Севастополь.
- В. Київ і Харків.
- Г. Київ і Донецьк.

13 А Б В Г

14. Зазначте, на які галузі припадає найбільша кількість зайнятих у господарстві України:

- А. Сільське господарство і торгівля.
- Б. Фінансові послуги та охорона здоров'я.
- В. Освіта і будівництво.
- Г. Будівництво і транспорт.

14 А Б В Г

15. Вкажіть продукт, який утворюється в результаті повторного переплавлення чавуну:

- А. Сталь.
- Б. Прокат.
- В. Кокс.
- Г. Вогнетриви.

15 А Б В Г

16. Вкажіть місто, у якому розташований найбільший міжнародний аеропорт в Україні:

- А. Київ.
- Б. Бориспіль.
- В. Донецьк.
- Г. Сімферополь.

16 А Б В Г



17. Вкажіть напрямки демографічної політики в країнах другого типу відтворення:
- Виплати грошових субсидій сім'ям.
 - Збільшення часу відпусток по вагітності та догляду за дітьми.
 - Санітарно-гігієнічна пропаганда та пропаганда проти-заплідних засобів.
 - Надання пільг для придбання житла, ділянок під будову, транспортних засобів.
18. Оберіть варіант, у якому правильно вказано експортні галузі промисловості Канади:
- Гірничодобувна, кольорова металургія, енергетика, лісова, целюлозно-паперова та зернове господарство.
 - Нафтодобувна, газова, вугільна промисловість.
 - Харчова, легка, літакобудування.
 - Виноробна, цукрова, борошномельно-круп'яна, текстильна.
19. Вкажіть найбільш розвинуту форму міжнародних економічних зв'язків:
- Міжнародна торгівля.
 - Торгівля послугами.
 - Кредитно-фінансові зв'язки.
 - Науково-технічні зв'язки.
20. Оберіть варіант, в якому правильно охарактеризовано рослинництво Росії та географія цієї галузі:
- Виноградарство, садівництво – провідні галузі при-міської спеціалізації – Підмосковні райони.
 - Пшениця – провідна зернова культура – підзолисті ґрунти Нечорноземної смуги Росії.
 - Соняшник – провідна олійна культура – чорноземи Північного Кавказу, Центрального Чорнозем'я.
 - Льон – провідна технічна культура – Західний Сибір Росії.

17 А Б В Г

18 А Б В Г

19 А Б В Г

20 А Б В Г

II. Завдання на визначення відповідності

У завданнях 21–25 до кожного із завдань, позначених цифрою, доберіть правильну відповідь, позначену буквою. Потім відповідність цифр і букв перенесіть у бланк відповідей.

21. Визначте відповідність гірських порід за походженням:

- Магматичні.
- Метаморфічні.
- Осадкові уламкові.
- Осадкові органогенні.
 - Базальт.
 - Вапняк.
 - Гнейс.
 - Алюмінієва руда.
 - Щебінь, галька.

21 А Б В Г Д
 1
 2
 3
 4

22. Визначте відповідність між озерами та походженням їхніх улоговин:

- Байкал.
- Аральське.
- Маракайбо.
- Синевир.
- Залишкове.
- Лагунне.
- Льодовикове.
- Тектонічне.
- Загатне.

22 А Б В Г Д
 1
 2
 3
 4

23. Вкажіть відповідність між зазначеними типами та формами рельєфу:

- | | |
|---------------------|---------------------|
| 1. Денудаційний. | А. Пагорби-останці. |
| 2. Водно-ерозійний. | Б. Дюни. |
| 3. Алювіальний. | В. Печери. |
| 4. Карстовий. | Г. Яри. |
| | Д. Заплави. |

23	А	Б	В	Г	Д
1					
2					
3					
4					

24. Визначте відповідність між економічними районами України, позначеними на картосхемі цифрами, та їхніми назвами:



24	А	Б	В	Г	Д
1					
2					
3					
4					

- А. Столичний.
 Б. Причорноморський.
 В. Північно-Східний.
 Г. Карпатський.
 Д. Придніпровський

25. Визначте відповідність між регіонами світу та характерними для них особливостями релігійного та національного складу населення:

- | | |
|---------------------------|---|
| 1. Східна Азія. | А. Переважають протестанти, значна частка емігрантів з Європи. |
| 2. Південно-Західна Азія. | Б. Переважають католики, більшість народів – представники індоєвропейської мовної сім'ї. |
| 3. Західна Європа. | В. Переважають буддисти і конфуціанці, значна частка атеїстів, у національному складі переважають представники китайсько-тибетської мовної сім'ї. |
| 4. Англо-Америка. | Г. Переважають протестанти, у національному складі значна частка народів алтайської та семіто-хамітської мовної сім'ї. |
| | Д. Переважають мусульмани, у національному складі переважають арабські народи, турки, курди. |

25	А	Б	В	Г	Д
1					
2					
3					
4					



III. Завдання на визначення правильної послідовності

У завданнях 26–30 розташуйте в логічній послідовності явища, об'єкти, процеси і т.д. Потім послідовність розташування букв перенесіть у бланк відповідей.

26. Вкажіть послідовність розташування шарів у внутрішній будові Землі, починаючи від поверхні:

А. Гранітний.
Б. Базальтовий.
В. Осадочний.
Г. Астеносфера.

26	А	Б	В	Г
1				
2				
3				
4				

27. Розташуйте форми рельєфу за часом їх утворення, починаючи з найдавнішої:

А. Анди.
Б. Гори Забайкалля.
В. Уральські гори.
Г. Скандинавські гори.

27	А	Б	В	Г
1				
2				
3				
4				

28. Розташуйте тектонічні структури послідовно в порядку їх формування:

А. Донецька складчаста структура.
Б. Український щит.
В. Волино-Подільська плита.
Г. Карпатська складчаста система.

28	А	Б	В	Г
1				
2				
3				
4				

29. Розмістіть столиці країн Європи у порядку віддаленості їх від Києва:

А. Братислава.
Б. Варшава.
В. Мінськ.
Г. Прага.

29	А	Б	В	Г
1				
2				
3				
4				

30. Визначте послідовність галузей промисловості за швидкістю темпів розвитку, починаючи з незначних:

А. Програмне забезпечення та виробництво мікропроцесорів.
Б. Виробництво бавовняних і вовняних тканин.
В. Паровозо- і тепловозобудування.
Г. Виробництво вантажних і легкових автомобілів.

30	А	Б	В	Г
1				
2				
3				
4				

IV. Завдання відкритого типу

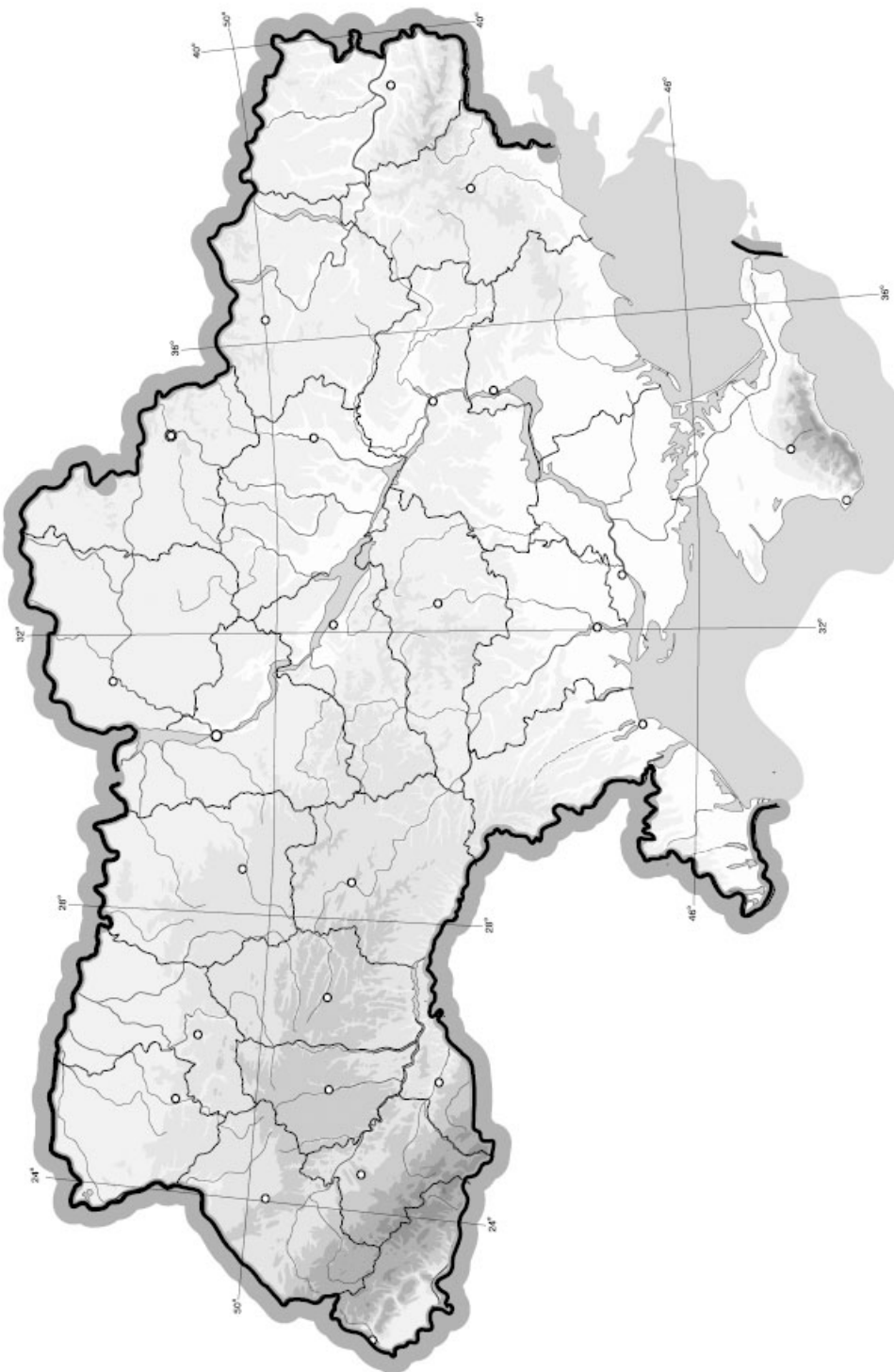
Завдання 31–34* передбачають розгорнуту відповідь на поставлені запитання з відповідним записом у бланку відповідей.

31. Дайте коротку оцінку динаміки розвитку чорної металургії світу. Чи збігається розміщення сировинних баз з розміщенням основних центрів металургійного виробництва? Поясніть з'ясовані особливості географії чорної металургії світу.
32. Перелічіть і охарактеризуйте найбільші річкові басейни України.
33. Відобразіть схематично галузі тваринництва України та охарактеризуйте їх.
- 34*. Державний кордон, його функції. Назвіть етапи встановлення державних кордонів. Функції державного кордону України.

V. Завдання на контурній карті

Завдання 35 має картографічний характер і передбачає нанесення на карту інформації відповідно до завдання та розробку легенди карти (записи на карті й легенда подаються тим самим кольором ручки, яким виконується все тестове завдання).

35. Позначте височинні форми рельєфу України та найвищі точки позначених височин.



Варіант 11

I. Завдання з вибором однієї правильної відповіді

1. Зазначте, яка з перелічених гірських систем розташована в Північній Америці:
- А. Кордильєри.
Б. Анди.
В. Кавказ.
Г. Гімалаї.
2. Визначте форми рельєфу, які утворюються як наслідок творчої роботи моря:
- А. Печери.
Б. Бархани.
В. Пляжі.
Г. Терикони.
3. Оберіть групу країн, які розташовані в Африці:
- А. Єгипет, Японія, Аргентина, Чилі.
Б. Ангола, Малі, Чад, Ефіопія.
В. Танзанія, Уругвай, Куба, Таїланд.
Г. Намібія, Замбія, Судан, Еквадор.
4. Вкажіть варіант, що відповідає визначенню поняття «людські раси»:
- А. Групи людей, що проживають на одному материку.
Б. Групи людей, що розмовляють однією мовою.
В. Групи людей, що мають схожі зовнішні ознаки.
Г. Групи людей, що сповідують одну релігію.
5. Вкажіть, хто першим досягнув Південного полюса:
- А. Руаль Амундсен.
Б. Джеймс Кук.
В. Фадей Беллінсгаузен.
Г. Роберт Скотт.
6. Визначте, якою буде відносна висота між найвищим і найнижчим об'єктами на материку Євразія:
- А. 8850 м.
Б. 8450 м.
В. 9250 м.
Г. 9050 м.
7. Вкажіть, яка частина гідросфери концентрує найбільшу кількість прісної води:
- А. р. Міссісіпі.
Б. Великі Північноамериканські озера.
В. Льодовики Гренландії.
Г. Льодовий покрив Антарктиди.
8. Вкажіть назву кліматичного поясу чи типу клімату, який характеризує діаграма:
- А. Субекваторіальний пояс.
Б. Тропічний пояс, область пустельного клімату.
В. Помірний пояс, область морського клімату.
Г. Помірний пояс, область континентального клімату.

1 А Б В Г

--	--	--	--

2 А Б В Г

--	--	--	--

3 А Б В Г

--	--	--	--

4 А Б В Г

--	--	--	--

5 А Б В Г

--	--	--	--

6 А Б В Г

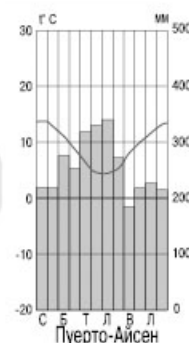
--	--	--	--

7 А Б В Г

--	--	--	--

8 А Б В Г

--	--	--	--



9. Зазначте, як називається час серединного меридіана певного часового поясу:

- А. Місцевий.
- Б. Поясний.
- В. Літній.
- Г. Декретний.

9 А Б В Г

10. Вкажіть, який з перелічених басейнів чи районів не є залізорудним:

- А. Криворізький.
- Б. Нікопольський.
- В. Кременчуцький.
- Г. Білозерський.

10 А Б В Г

11. Оберіть неправильне твердження щодо використання одного з метеорологічних приладів:

- А. Термометром вимірюють температуру повітря.
- Б. Барометром вимірюють випаровуваність.
- В. Флюгером визначають напрямок і силу вітру.
- Г. Гігрометром вимірюють вологість повітря.

11 А Б В Г

12. Оберіть назву водного об'єкта, на який вказує стрілка на карті:



- А. Кременчуцьке водосховище.
- Б. Дніпровське водосховище.
- В. Каховське водосховище.
- Г. Київське водосховище.

12 А Б В Г

13. Визначте обласний центр Волинської області:

- А. Ковель.
- Б. Володимир-Волинський.
- В. Луцьк.
- Г. Нововолинськ.

13 А Б В Г

14. Вкажіть, яких за віком осіб відносять до економічно-активного населення:

- А. 15–70 років.
- Б. 16–60 років.
- В. 18–55 років.
- Г. 14–60 років.

14 А Б В Г

15. Вкажіть, який із центрів видобутку вугілля не розташований у межах Донецького кам'яновугільного басейну:

- А. Макіївка.
- Б. Красноармійськ.
- В. Єнакієве.
- Г. Червоноград.

15 А Б В Г





16. Зазначте, в яких двох українських містах діє метрополітен:

- А. Київ і Дніпропетровськ.
- Б. Ялта і Миколаїв.
- В. Донецьк і Харків.
- Г. Сімферополь і Львів.

16 А Б В Г

--	--	--	--

17. Виберіть з переліку групу країн світу, що мають високу частку іммігрантів:

- А. Німеччина, Франція, Ліберія.
- Б. Китай, Індія, Монголія.
- В. Алжир, Лівія, Єгипет.
- Г. Казахстан, Грузія, Мексика.

17 А Б В Г

--	--	--	--

18. Оберіть з переліку країн групу найбільших у світі міжнародних інвесторів:

- А. ФРН, Франція, Італія.
- Б. Республіка Корея, Тайвань, Сінгапур.
- В. Кувейт, ОАЕ, Саудівська Аравія.
- Г. США, Японія, Велика Британія.

18 А Б В Г

--	--	--	--

19. Оберіть варіант, у якому правильно охарактеризовано машинобудування Росії:

- А. Має потужну авіакосмічну промисловість, космодроми в Плісецьку і Капустиному Яру.
- Б. Має розвинутий військово-промисловий комплекс з районом зосередження на Далекому Сході.
- В. Має розвинутий військово-промисловий комплекс з районом зосередження на Уралі і Півночі Росії.
- Г. Має потужну авіакосмічну промисловість, космодром у Байконурі.

19 А Б В Г

--	--	--	--

20. Оберіть варіант, у якому правильно охарактеризовано особливості розвитку транспорту Індії:

- А. Провідну роль у внутрішніх перевезеннях пасажирів відіграє повітряний транспорт.
- Б. Провідну роль в експортних перевезеннях відіграє автомобільний транспорт.
- В. Основну роль відіграють залізниці, а також має значення гужовий, в'ючний, мускульна енергія людини.
- Г. Основну роль відіграють автомобілі, що забезпечені сучасними автобусами, інфраструктурою та транспортними засобами.

20 А Б В Г

--	--	--	--

II. Завдання на визначення відповідності

У завданнях 21–25 до кожного із завдань, позначених цифрою, доберіть правильну відповідь, позначену буквою. Потім відповідність цифр і букв перенесіть у бланк відповідей.

21. Вкажіть відповідність між назвами ізоліній та їхніми визначеннями:

- 1. Горизонталі.
- 2. Ізобари.
- 3. Ізотерми.
- 4. Ізогіети.

- А. Лінії, що з'єднують точки на карті з однаковою температурою.
- Б. Лінії, що з'єднують точки на карті з однаковою абсолютною висотою.
- В. Лінії, що з'єднують точки на карті з однаковим атмосферним тиском.
- Г. Лінії, що з'єднують точки на карті з однаковою кількістю атмосферних опадів.
- Д. Лінії, що з'єднують точки з однаковою глибиною.

21 А Б В Г Д

1					
2					
3					
4					

22. Вкажіть відповідність між річками та басейнами, до яких вони належать:

- | | |
|------------|---|
| 1. Волга. | А. Басейн внутрішнього стоку. |
| 2. Ніл. | Б. Басейн Атлантичного океану. |
| 3. Печора. | В. Басейн Північного Льодовитого океану. |
| 4. Хуанхе. | Г. Басейн Тихого океану. |
| | Д. Басейн Індійського океану. |

22 А Б В Г Д

1				
2				
3				
4				

23. Визначте відповідність між видами корисних копалин та їхніми родовищами:

- | | |
|----------------------|---------------------------------------|
| 1. Калійна сіль. | А. Роздольське. |
| 2. Ртуть. | Б. Микитівське. |
| 3. Залізна руда. | В. Оленівське (Донецька обл.). |
| 4. Флюси і доломіти. | Г. Калуське. |
| | Д. Білозерське. |

23 А Б В Г Д

1				
2				
3				
4				

24. Вкажіть відповідність між паливними корисними копалинами та їхніми найбільшими басейнами й родовищами в Україні:

- | | |
|---------------------|---|
| 1. Буре вугілля. | А. Львівсько-Волинський басейн. |
| 2. Нафта і газ. | Б. Дніпровсько-Донецька провінція. |
| 3. Кам'яне вугілля. | В. Дніпровський басейн. |
| 4. Торф. | Г. Тетерівське родовище (Київська обл.). |
| | Д. Бовтиське родовище (Кіровоградська обл.). |

24 А Б В Г Д

1				
2				
3				
4				

25. Визначте відповідність між групами країн і характером структури їх національного складу:

- | | |
|---------------------------------------|--|
| 1. Ісландія, Ірландія, Норвегія. | А. Багатонаціональні країни з етнічно різнорідним національним складом. |
| 2. Велика Британія, Франція, Іспанія. | Б. Однонаціональні країни. |
| 3. Бельгія, Канада, Кіпр. | В. Країни з різким переважаанням однієї нації, але за наявності більш-менш значних національних меншин. |
| 4. Індія, Росія, Швейцарія. | Г. Країни зі складним національним складом, але етнічно відносно однорідні. |
| | Д. Двонаціональні країни. |

25 А Б В Г Д

1				
2				
3				
4				

III. Завдання на визначення правильної послідовності

У завданнях 26–30 розташуйте в логічній послідовності явища, об'єкти, процеси і т.д. Потім послідовність розташування букв перенесіть у бланк відповідей.

26. Розташуйте вулкани послідовно з півночі на південь:

- | |
|-----------------------------|
| А. Кіліманджаро. |
| Б. Везувій. |
| В. Гекла. |
| Г. Ключевська Сопка. |

26 А Б В Г

1				
2				
3				
4				





27. Розташуйте материки за їхніми розмірами, починаючи з найбільшого:
- Африка.
 - Південна Америка.
 - Антарктида.
 - Австралія.
28. Розташуйте послідовно форми рельєфу, починаючи з верхів'я р. Дністер:
- Розточчя.
 - Товтри.
 - Гологори.
 - Опілля.
29. Розташуйте послідовно за людністю міста, починаючи з меншого показника:
- Кривий Ріг.
 - Маріуполь.
 - Мелітополь.
 - Миколаїв.
30. Визначте послідовність регіонів світу у порядку зростання їхньої економічної могутності та значимості у світовому господарстві:
- Північна Америка – економіка США і Канади.
 - Азіатсько-Тихоокеанський регіон – субрегіони Японія і Китай.
 - Північна Євразія – країни СНД.
 - Західна Європа – країни ЄС.

27	А	Б	В	Г
1				
2				
3				
4				

28	А	Б	В	Г
1				
2				
3				
4				

29	А	Б	В	Г
1				
2				
3				
4				

30	А	Б	В	Г
1				
2				
3				
4				

IV. Завдання відкритого типу

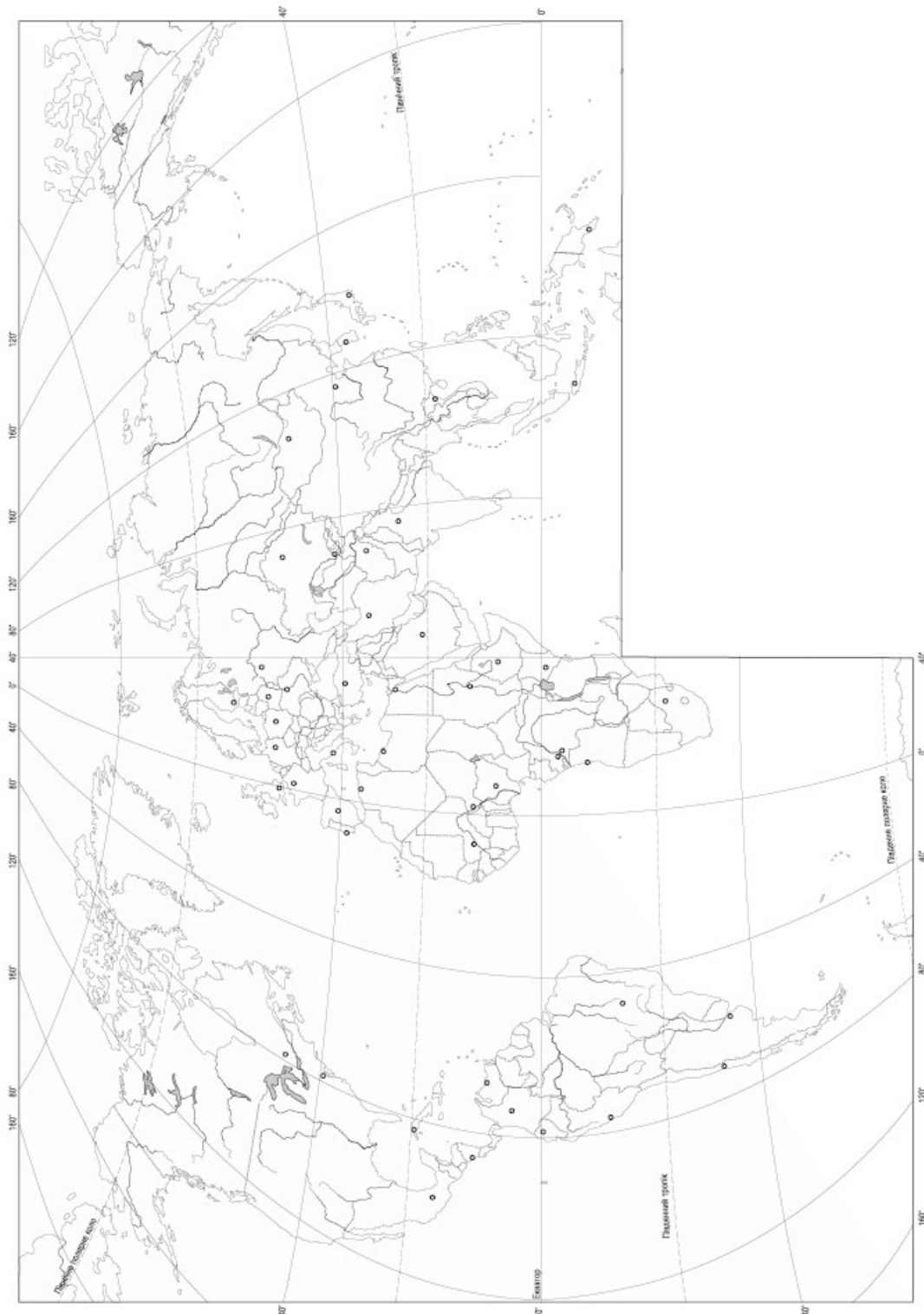
Завдання 31–34* передбачають розгорнуту відповідь на поставлені запитання з відповідним записом у бланку відповідей.

31. Охарактеризуйте природно-ресурсний потенціал Західної Європи.
32. Охарактеризуйте живлення і особливості режиму рівнинних і гірських річок України. Наведіть приклади.
33. Визначте причини нерівномірного розміщення та депопуляції населення в Україні.
- 34*. Назвіть і коротко охарактеризуйте сучасні методи, які використовують у географічних дослідженнях.

V. Завдання на контурній карті

Завдання 35 має картографічний характер і передбачає нанесення на карту інформації відповідно до завдання та розробку легенди карти (записи на карті й легенда подаються тим самим кольором ручки, яким виконується все тестове завдання).

35. Позначте на контурній карті федеративні держави в Америці та Азії.



Варіант 12

I. Завдання з вибором однієї правильної відповіді

1. Визначте, яка з перелічених гірських систем розташована в Австралії:
- А. Тянь-Шань.
 Б. Атлас.
 В. Великий Вододільний хребет.
 Г. Кавказ.
- 1 А Б В Г
2. Зазначте, чому в Кримських горах немає льодовиків:
- А. Місцевий клімат дуже теплий.
 Б. Гори молоді – льодовики не встигли ще утворитись.
 В. Снігова лінія розташована вище, ніж найвища точка Кримських гір.
 Г. Вплив господарської діяльності людей.
- 2 А Б В Г
3. Оберіть групу країн, які розташовані в Південній Америці:
- А. Колумбія, Венесуела, Мексика, Канада.
 Б. Аргентина, Болівія, Парагвай, Намібія.
 В. Чилі, Бразилія, Еквадор, Гайана.
 Г. Уругвай, Панама, Кенія, Мавританія.
- 3 А Б В Г
4. Вкажіть (на 2011 р.) кількість мешканців нашої планети:
- А. 10,5 млрд осіб.
 Б. 12,7 млрд осіб.
 В. 7 млрд осіб.
 Г. 4,5 млрд осіб.
- 4 А Б В Г
5. Вкажіть спільні риси таких течій: Гвінейська, Бенгельська, Бразильська, Гольфстрім:
- А. Теплі течії.
 Б. Холодні течії.
 В. Розташовані в Атлантичному океані.
 Г. Розташовані в Тихому океані.
- 5 А Б В Г
6. Визначте літосферну плиту, у межах якої не розташована Євразія:
- А. Євразійська.
 Б. Північноамериканська.
 В. Індо-Австралійська.
 Г. Наска.
- 6 А Б В Г
7. Оберіть неправильне визначення:
- А. Сельва – вологі екваторіальні ліси Африки.
 Б. Прерії – степи в Північній Америці.
 В. Пампа – субтропічний степ у Південній Америці.
 Г. Скреби – непрохідні зарості вічнозелених чагарників у напівпустелях Австралії.
- 7 А Б В Г
8. Оберіть варіант, у якому правильно вказано причини літньої повені на річках Амудар'я і Сирдар'я:
- А. Мусонні дощі.
 Б. Танення льодовиків у горах.
 В. Літні зливи.
 Г. Періодичне підняття рівня ґрунтових вод.
- 8 А Б В Г
9. Визначте, на скільки хвилин відрізняється місцевий час Черкас (32° сх. д.) і Харкова (36° сх. д.):
- А. 10 хв.
 Б. 12 хв.
 В. 16 хв.
 Г. 4 хв.
- 9 А Б В Г

10. Вкажіть, у межах якої форми рельєфу розташований географічний центр України:

- А. Придніпровська височина.
- Б. Придніпровська низовина.
- В. Подільська височина.
- Г. Закарпатська низовина.

10 А Б В Г

11. Визначте, який тип клімату характерний для східної частини України:

- А. Різкоконтинентальний.
- Б. Помірно континентальний.
- В. Морський.
- Г. Середземноморський.

11 А Б В Г

12. Оберіть назву водного об'єкта, на який вказує стрілка на карті:



12 А Б В Г

- А. р. Молочна.
- Б. р. Сіверський Донець.
- В. р. Ворскла.
- Г. р. Кальміус.

13. Визначте дату приєднання Закарпаття до складу Української РСР:

- А. 1940 р.
- Б. 1939 р.
- В. 1954 р.
- Г. 1945 р.

13 А Б В Г

14. Вкажіть область, для якої характерна найгустіша мережа сільських населених пунктів:

- А. Тернопільська.
- Б. Донецька.
- В. Хмельницька.
- Г. Львівська.

14 А Б В Г

15. Визначте площу, яку охоплюють населені пункти з житловою, промисловою і транспортною забудовою, якщо вона становить понад 5 % від загальної площі України:

- А. 60,37 тис. км².
- Б. 35,37 тис. км².
- В. 30,19 тис. км².
- Г. 45,34 тис. км².

15 А Б В Г

16. Вкажіть місто, у якому розміщене виробництво азотних добрив:

- А. Луцьк.
- Б. Житомир.
- В. Тернопіль.
- Г. Рівне.

16 А Б В Г





17. Зазначте, що впливає на спеціалізацію господарства в міжнародному поділі праці:

- А. Закон ринкової рівноваги.
- Б. Закон порівняльних переваг.
- В. Закон попиту і пропозиції.
- Г. Закон альтернативної вартості.

17 А Б В Г

--	--	--	--

18. Вкажіть основні чинники розвитку машинобудування – провідної галузі промисловості Європи:

- А. Наявність потужної паливної бази та розвинутої чорної металургії.
- Б. Розвинута наукова база, інфраструктура й висококваліфіковані трудові ресурси.
- В. Тяжіння до столичних агломерацій та потужних ТЕС.
- Г. Формування в цій галузі потужних транснаціональних корпорацій.

18 А Б В Г

--	--	--	--

19. Оберіть варіант, у якому правильно вказано сполучення продукції транспортно-машинобудування Росії та центрів його розвитку:

- А. Морські судна – Санкт-Петербург, Мурманськ.
- Б. Легкові автомобілі – Набережні Челни, Волгоград.
- В. Автобуси – Тобольськ, Воронеж.
- Г. Літаки – Тольятті, Нижній Новгород.

19 А Б В Г

--	--	--	--

20. Оберіть варіант, у якому правильно охарактеризовано особливості розвитку транспорту Австралії:

- А. Розвинуті архаїчні види транспорту, вузькоколіїні залізниці.
- Б. Активно розвиваються сучасні види залізничного транспорту: монорельсові швидкісні залізниці, безколісні потяги на магнітній подушці.
- В. Внутрішній водний транспорт конкурує з трубопровідним і забезпечує значну частку перевезення вантажів.
- Г. Особливе значення мають трансконтинентальні залізниці й шосейні дороги, повітряний транспорт.

20 А Б В Г

--	--	--	--

II. Завдання на визначення відповідності

У завданнях 21–25 до кожного із завдань, позначених цифрою, доберіть правильну відповідь, позначену буквою. Потім відповідність цифр і букв перенесіть у бланк відповідей.

21. Вкажіть відповідність між числовим значенням азимута і напрямком (стодоною горизонту):

- 1. 90° .
 - 2. 360° .
 - 3. 270° .
 - 4. 180° .
- А. Схід.
 - Б. Південь.
 - В. Північ.
 - Г. Захід.
 - Д. Північний захід.

21 А Б В Г Д

1				
2				
3				
4				

22. Вкажіть відповідність між тектонічними структурами та формами рельєфу на материків Євразія:

1. Область герцинської складчастості.
2. Область каледонської складчастості.
3. Сибірська платформа.
4. Область кайнозойської складчастості.
 - А. Скандинавські гори.
 - Б. Західносибірська рівнина.
 - В. Уральські гори.
 - Г. Альпи.
 - Д. Середньосибірське плоскогір'я.

22 А Б В Г Д

1				
2				
3				
4				

23. Вкажіть відповідність між заповідниками і областями, у межах яких вони розташовані:

1. Дунайський.
2. Поліський.
3. Карпатський.
4. Асканія-Нова.
- А. Закарпатська.
- Б. Херсонська.
- В. Чернівецька.
- Г. Одеська.
- Д. Житомирська.

23 А Б В Г Д

1				
2				
3				
4				

24. Вкажіть відповідність між містами й адміністративно-територіальними одиницями України, у межах яких вони розташовані:

1. Євпаторія.
2. Новгород-Сіверський.
3. Алчевськ.
4. Умань.
- А. Черкаська обл.
- Б. Донецька обл.
- В. Чернігівська обл.
- Г. АР Крим.
- Д. Київська обл.

24 А Б В Г Д

1				
2				
3				
4				

25. Визначте відповідність між видом структури світового господарства та елементами її формування:

1. Галузева.
2. Соціально-економічна.
3. Функціонально-господарська.
4. Територіальна.
 - А. Формується промисловими поясами (Тихоокеанський), промисловими районами (Рур, Приозерний), промисловими агломераціями.
 - Б. Формується галузями виробничої та невиробничої сфери.
 - В. Формується військово-промисловими, науково-виробничими, атомно-енергетичними, аерокосмічними комплексами.
 - Г. Формується державно-корпоративними комплексами, ТНК.
 - Д. Формується міжнародними фондами, партійними організаціями.

25 А Б В Г Д

1				
2				
3				
4				

III. Завдання на визначення правильної послідовності

У завданнях 26–30 розташуйте в логічній послідовності явища, об'єкти, процеси і т.д. Потім послідовність розташування букв перенесіть у бланк відповідей.

26. Розташуйте послідовно витoki названих річок з півночі на південь:

- А. Інд.
- Б. Янцзи.
- В. Волга.
- Г. Парана.

26 А Б В Г

1				
2				
3				
4				





27. Розташуйте послідовно висотні пояси Альп, починаючи від підніжжя:
- Хвойні ліси.
 - Субальпійські луки.
 - Широколисті ліси.
 - Мішані ліси.
28. Розташуйте у хронологічній послідовності (від найдавніших часів) учених за часом їхніх досліджень території України:
- Володимир Вернадський.
 - Птолемей.
 - Геродот.
 - Павло Чубинський.
29. Вкажіть послідовність розташування водосховищ, що побудовані на Дніпрі, з півдня на північ:
- Київське.
 - Кременчуцьке.
 - Каховське.
 - Дніпровське.
30. Розмістіть країни в порядку зростання чисельності населення:
- Нігерія.
 - Китай.
 - США.
 - Індія.

27	А	Б	В	Г
1				
2				
3				
4				

28	А	Б	В	Г
1				
2				
3				
4				

29	А	Б	В	Г
1				
2				
3				
4				

30	А	Б	В	Г
1				
2				
3				
4				

IV. Завдання відкритого типу

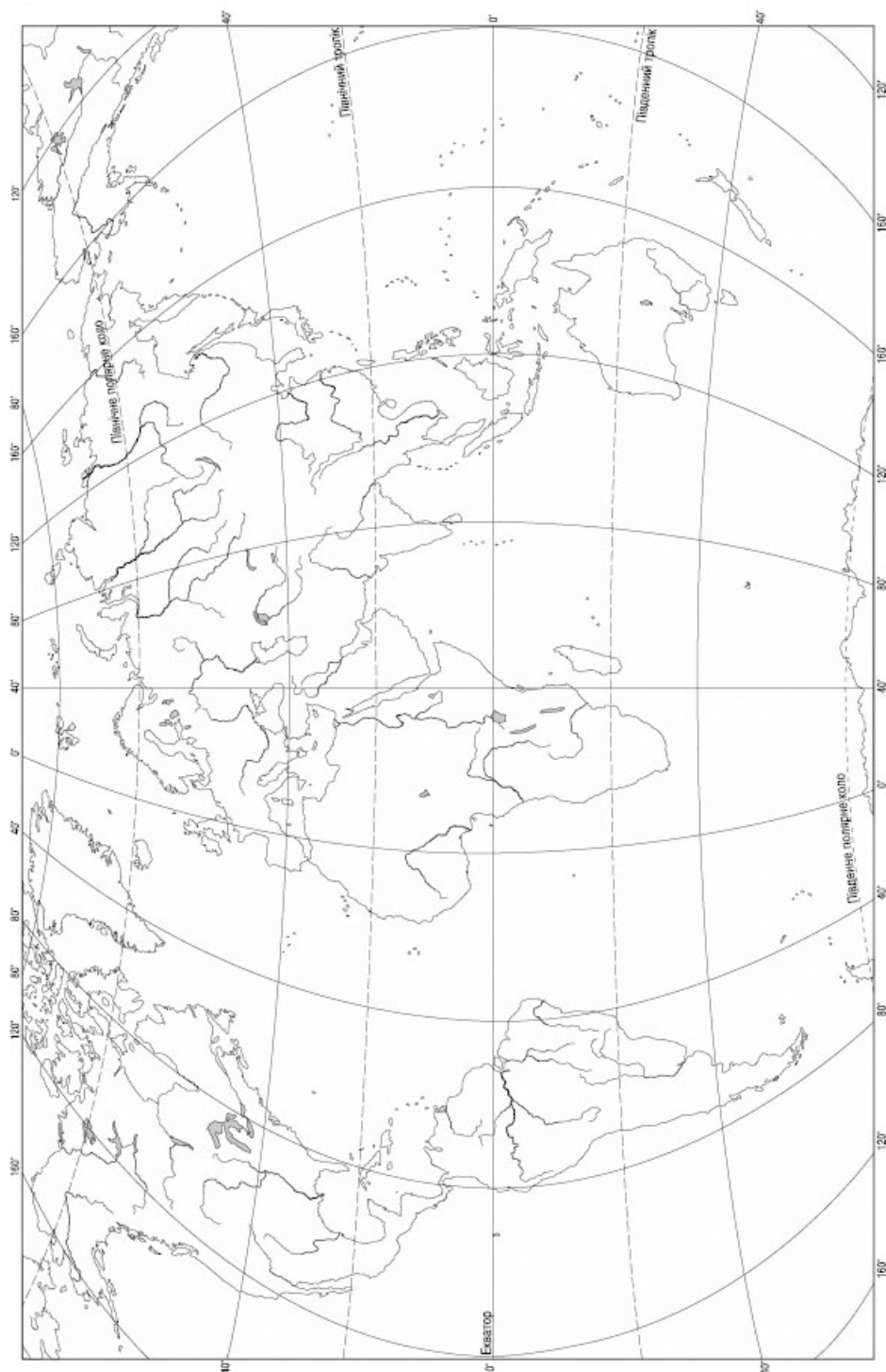
Завдання 31–34* передбачають розгорнуту відповідь на поставлені запитання з відповідним записом у бланку відповідей.

31. Дайте коротку характеристику обробної промисловості США.
32. Визначте найпоширеніші типи озер на території України. Наведіть приклади.
33. Дайте характеристику геополітичного положення України, оцініть його позитивні й негативні риси.
- 34*. Порівняйте і зіставте екзогенні та ендегенні джерела енергії. Наведіть приклади їхньої взаємодії.

V. Завдання на контурній карті

Завдання 35 має картографічний характер і передбачає нанесення на карту інформації відповідно до завдання та розробку легенди карти (записи на карті та легенда подаються тим самим кольором ручки, яким виконується все тестове завдання).

35. Позначте на карті, використовуючи умовні знаки, 5 країн з назвами найбільших буровугільних і кам'яновугільних басейнів світу.



Варіант 13

I. Завдання з вибором однієї правильної відповіді

1. Визначте, який з перелічених островів омивається водами двох океанів:
- А. Гренландія.
Б. Шрі-Ланка.
В. Нова Земля.
Г. Мадагаскар.
- 1 А Б В Г
2. Вкажіть причину утворення постійних вітрів на Землі:
- А. Існування поясів високого і низького тиску.
Б. Різниця в температурі повітря.
В. Складний характер рельєфу Землі.
Г. Нерівномірний розподіл опадів.
- 2 А Б В Г
3. Вкажіть назву науки, яка вивчає походження різноманітних форм рельєфу:
- А. Геологія.
Б. Геоморфологія.
В. Кліматологія.
Г. Гідрологія.
- 3 А Б В Г
4. Пригадайте, що таке ґрунт:
- А. Ґрунт – це гірські породи і мінерали.
Б. Ґрунт – це верхній пухкий шар Землі, що обробляється.
В. Ґрунт – це перегній, перероблений рослинами і тваринами.
Г. Ґрунт – це верхній пухкий родючий шар гірських порід.
- 4 А Б В Г
5. Вкажіть, у скількох півкулях розташований материк Африка:
- А. 2.
Б. 1.
В. 4.
Г. 3.
- 5 А Б В Г
6. Вкажіть природну зону, у якій переважають підзолисті ґрунти:
- А. Широколисті ліси.
Б. Тундра.
В. Тайга.
Г. Степ.
- 6 А Б В Г
7. Визначте, якого висотного поясу немає в Гімалаях:
- А. Субекваторіальних вічнозелених лісів.
Б. Вічних снігів і льодовиків.
В. Альпійських лук.
Г. Пустель і напівпустель.
- 7 А Б В Г
8. Зазначте, яке озеро Північної Америки належить до залишкових або реліктових:
- А. Велике Солоне.
Б. Вінніпег.
В. Гурон.
Г. Нікарагуа.
- 8 А Б В Г
9. Визначте, на скільки хвилин відрізняється місцевий час Чернівців (26° сх. д.) і Миколаєва (32° сх. д.):
- А. 12 хв.
Б. 24 хв.
В. 6 хв.
Г. 30 хв.
- 9 А Б В Г

10. Оберіть правильне твердження, що стосується печери Мармурової:

- А. Найдовша печера України.
- Б. Мас еолове походження.
- В. Розташована на Поділлі.
- Г. Мас карстове походження.

10 А Б В Г

11. Зазначте, які повітряні маси найбільше впливають на формування клімату України:

- А. Арктичні.
- Б. Тропічні.
- В. Помірні.
- Г. Субтропічні.

11 А Б В Г

12. Вкажіть назву річки, на яку вказує стрілка на карті:



- А. Південний Буг.
- Б. Дністер.
- В. Інгулець.
- Г. Прут.

12 А Б В Г

13. Вкажіть країну з якою Україна має найкоротший суходільний кордон:

- А. Словаччина.
- Б. Словенія.
- В. Угорщина.
- Г. Польща.

13 А Б В Г

14. Визначте варіант, у якому вказано електростанції, що належать до одного типу:

- А. Зміївська і Південноукраїнська.
- Б. Хмельницька і Ладижинська.
- В. Бурштинська і Старобешівська.
- Г. Каховська і Рівненська.

14 А Б В Г

15. Визначте за обрисами території, яка адміністративна область зображена на картосхемі:

- А. Закарпатська.
- Б. Черкаська.
- В. Донецька.
- Г. Київська.



15 А Б В Г

16. Вкажіть державу, з якої до України прибуває найбільша кількість іноземних туристів:

- А. Італія.
- Б. США.
- В. Польща.
- Г. Росія.

16 А Б В Г





17. Зазначте, яка риса характеризує розміщення промисловості в епоху НТР:
- Збільшення частки і поширення галузей добувної промисловості.
 - Переорієнтація базових матеріаломістких галузей промисловості від орієнтації на місцеву сировину до орієнтації на ринки збуту готової продукції.
 - Зміщення галузей переробної промисловості у внутрішні райони.
 - Деконцентрація промисловості і зниження темпів урбанізації.
18. Оберіть неправильне поєднання назви регіону, технополісу та університету, на базі якого він виник:
- США – Силіконова долина – Сан-Франциско – Стенфордський університет.
 - Велика Британія – «Дорога № 128» – Бостон – Масачусетський технологічний інститут.
 - ФРН – «Ізар Веллі» – Мюнхенський університет.
 - Японія – Цукуба – Токіо – Токійський університет.
19. Вкажіть варіант, у якому названо галузі, що формують середньоевропейський тип сільського господарства:
- Переважання рослинництва (рисосіяння, вирощування цитрусових, винограду).
 - Переважання інтенсивного молочного тваринництва і вирощування кормових культур.
 - Переважання галузей птахівництва з кормовиробництвом.
 - Переважання молочного і м'ясо-молочного тваринництва, а також свинарства і птахівництва.
20. Оберіть варіант, що правильно характеризує чинник розвитку та географію чорної металургії Росії:
- Центральна база – руди і паливо довізні; центри – Челябінськ, Барнаул.
 - Сибірська база – власна сировина; центри – Череповець, Липецьк, Новий Оскол.
 - Уральська база – власна руда; паливо – довізне – Кузбас, Казахстан; центри – Магнітогорськ, Нижній Тагіл, Новотроїцьк.
 - Центральна база – руди КМА; паливо – довізне з Донбасу і Печори; центри – Іркутськ, Братськ, Челябінськ.

17 А Б В Г

--	--	--	--

18 А Б В Г

--	--	--	--

19 А Б В Г

--	--	--	--

20 А Б В Г

--	--	--	--

II. Завдання на визначення відповідності

У завданнях 21–25 до кожного із завдань, позначених цифрою, доберіть правильну відповідь, позначену буквою. Потім відповідність цифр і букв перенесіть у бланк відповідей.

21. Вкажіть відповідність між географічними приладами та їхнім призначенням:
- Флюгер.
 - Компас.
 - Курвіметр.
 - Термометр.
- Прилад, що вказує напрямок північ–південь.
 - Прилад, за допомогою якого визначають температуру повітря.
 - Прилад, за допомогою якого визначають напрямки і силу вітру.
 - Прилад для вимірювання на карті довжини річки, дороги, кордону тощо.
 - Прилад для вимірювання висоти.

21 А Б В Г Д

1				
2				
3				
4				

22. Визначте відповідність між давніми докембрійськими платформами та рівнинами, що їм відповідають, на материках Євразія:

1. Сибірська.
2. Індостанська.
3. Китайсько-Корейська.
4. Східноєвропейська.
 - А. Велика Китайська рівнина.
 - Б. Західносибірська рівнина.
 - В. Плоскогір'я Декан.
 - Г. Східноєвропейська рівнина.
 - Д. Середньосибірське плоскогір'я.

22	А	Б	В	Г	Д
1					
2					
3					
4					

23. Визначте відповідність між термінами і їх визначеннями:

1. Платформа.
2. Щит.
3. Рухомий пояс.
4. Плита.
 - А. Видовжена ділянка земної кори, у межах якої тривалий час відбувалися давні й відбуваються сучасні рухи земної кори.
 - Б. Відносно стійка, вирівняна ділянка літосфери.
 - В. Піднята аж до земної поверхні ділянка кристалічного фундаменту платформи.
 - Г. Глибоко увігнута ділянка земної кори.
 - Д. Ділянка платформи, де фундамент занурений на глибину і всюди перекритий осадовим чохлам.

23	А	Б	В	Г	Д
1					
2					
3					
4					

24. Визначте відповідність між історико-географічними землями й адміністративними областями, що повністю або частково входять до їхнього складу:

- | | |
|---------------|-----------------|
| 1. Донщина. | А. Сумська. |
| 2. Сіверщина. | Б. Чернівецька. |
| 3. Буковина. | В. Житомирська. |
| 4. Таврія. | Г. Херсонська. |
| | Д. Донецька. |

24	А	Б	В	Г	Д
1					
2					
3					
4					

25. Визначте відповідність між типами електростанцій і країнами, які мають найбільші масштаби виробництва і споживання даного виду енергії:

1. Теплові електростанції.
2. Гідроелектростанції.
3. Атомні електростанції.
4. Геотермальні, сонячні, вітрові, припливні електростанції.
 - А. Франція, США, Японія.
 - Б. США, Філіппіни, Мексика.
 - В. Канада, Бразилія, Норвегія.
 - Г. США, Китай, Росія.
 - Д. Казахстан, Парагвай, Венесуела.

25	А	Б	В	Г	Д
1					
2					
3					
4					



III. Завдання на визначення правильної послідовності

У завданнях 26–30 розташуйте в логічній послідовності явища, об'єкти, процеси і т.д. Потім послідовність розташування букв перенесіть у бланк відповідей.

26. Розташуйте послідовно витoki названих річок із заходу на схід, починаючи від нульового меридіана:

А. Єнісей.
Б. Парана.
В. Дніпро.
Г. Янцзи.

26	А	Б	В	Г
1				
2				
3				
4				

27. Розташуйте послідовно із заходу на схід природні об'єкти, які розділяють Євразію і Африку:

А. Суецький канал.
Б. Баб-ель-Мандебська протока.
В. Червоне море.
Г. Аденська затока.

27	А	Б	В	Г
1				
2				
3				
4				

28. Розташуйте послідовно географічні карти у порядку збільшення розміру території, яка на них зображується:

А. Карта Криму.
Б. Карта Донецького економічного району.
В. Карта Львова.
Г. Карта Дніпровсько-Донецької нафтогазової області.

28	А	Б	В	Г
1				
2				
3				
4				

29. Розташуйте послідовно зі сходу на захід центри авіаційної промисловості в Україні:

А. Запоріжжя.
Б. Дніпропетровськ.
В. Київ.
Г. Харків.

29	А	Б	В	Г
1				
2				
3				
4				

30. Визначте правильну хронологічну послідовність характерних ознак процесу урбанізації в сучасному світі:

А. Прискорений ріст міського населення і поширення урбанізації практично у всіх регіонах світу.
Б. Формування міських агломерацій і мегалополісів.
В. Відтік міського населення у передмістя – субурбанізація, поширення міського способу життя у сільській місцевості.
Г. Прискорений ріст міського населення в Європі та Північній Америці.

30	А	Б	В	Г
1				
2				
3				
4				

IV. Завдання відкритого типу

Завдання 31–34* передбачають розгорнуту відповідь на поставлені запитання з відповідним записом у бланку відповідей.

31. Дайте коротку характеристику експортних галузей Канади.
32. Складіть схему галузевої структури промисловості України. Охарактеризуйте одну з галузей на вибір.
33. Наведіть приклади екологічних проблем Донецького економічного району.
34*. Розкрийте основні ідеї вчення В. Вернадського про біосферу.

V. Завдання на контурній карті

Завдання 35 має картографічний характер і передбачає нанесення на карту інформації відповідно до завдання та розробку легенди карти (записи на карті й легенда подаються тим самим кольором ручки, яким виконується все тестове завдання).

35. Позначте на контурній карті найважливіші родовища нерудних корисних копалин України (калійна та кам'яна сіль, сірка, граніт).



Варіант 14

I. Завдання з вибором однієї правильної відповіді

1. Визначте, який із перелічених об'єктів є одночасно і материком, і частиною світу:
 А. Європа.
 Б. Африка.
 В. Америка.
 Г. Азія.
2. Зазначте, що є кліматотвірним чинником:
 А. Характер підстильної поверхні.
 Б. Геологічна будова території.
 В. Внутрішні сили Землі.
 Г. Розмаїття рослинного світу.
3. Вкажіть море, що належить до басейну Атлантичного океану:
 А. Середземне.
 Б. Аравійське.
 В. Охотське.
 Г. Біле.
4. Оберіть правильне визначення терміна «підземні води»:
 А. Води, що залягають глибоко в надрах літосфери.
 Б. Води, що залягають у товщі земної кори.
 В. Це лише мінеральні води.
 Г. Це лише артезіанські води.
5. Вкажіть, хто з європейців завершив відкриття морського шляху до Індії та проїшов уздовж східного узбережжя Африки:
 А. Христофор Колумб.
 Б. Фернан Магеллан.
 В. Давід Лівінгстон.
 Г. Васко да Гама.
6. Вкажіть, яка з течій розташована не в Атлантичному океані:
 А. Перуанська.
 Б. Гвінейська.
 В. Гвіанська.
 Г. Канарська.
7. Вкажіть, який з півостровів Північної Америки розташований на західному узбережжі:
 А. Каліфорнія.
 Б. Лабрадор.
 В. Флорида.
 Г. Юкатан.
8. Виберіть правильне твердження:
 А. Вулкани Гекла, Етна, Ключевська Сопка лежать у межах Тихоокеанського сейсмічного поясу.
 Б. Альпи – найвища гірська система Європи.
 В. У західній частині Євразії добре виражена мусонна циркуляція.
 Г. Річка Євфрат належить до басейну Атлантичного океану.



9. Оберіть правильне визначення терміна «літній час»:

- А. Система відліку часу, яка збігається з поясным часом.
- Б. Система відліку часу на 1 год назад відносно поясного часу.
- В. Система відліку часу на 1 год вперед відносно поясного часу.
- Г. Система відліку часу на основі реального сонячного часу у відповідній місцевості.

9 А Б В Г

10. Вкажіть максимальну висоту Кримських гір:

- А. 515 м.
- Б. 2061 м.
- В. 1545 м.
- Г. 1234 м.

10 А Б В Г

11. Визначте річну кількість опадів для м. Запоріжжя, якщо величина випаровуваності за рік становить 800 мм, а коефіцієнт зволоження дорівнює 0,63:

- А. 404 мм.
- Б. 800 мм.
- В. 608 мм.
- Г. 504 мм.

11 А Б В Г

12. Виберіть тип живлення, характерний для гірського типу річок України:

- А. Сніговий.
- Б. Дощовий.
- В. Льодовиковий.
- Г. Змішаний.

12 А Б В Г

13. Вкажіть назву міжнародної організації, серед засновників якої була Україна:

- А. НАТО.
- Б. ЄС.
- В. ООН.
- Г. СОТ.

13 А Б В Г

14. Вкажіть регіон України з найбільш строкатим національним складом населення:

- А. Одеська обл.
- Б. АР Крим.
- В. Житомирська обл.
- Г. Луганська обл.

14 А Б В Г

15. Вкажіть область, у якій розташована Теребле-Ріцька ГЕС:

- А. Львівська.
- Б. Івано-Франківська.
- В. Закарпатська.
- Г. Чернівецька.

15 А Б В Г

16. Зазначте, які типи навчальних закладів відносять до загальноосвітніх:

- А. Технікуми, коледжі, професійно-технічні училища.
- Б. Університети, інститути, академії.
- В. Школи, ліцеї, гімназії.
- Г. Дитячі садки, ясла, будинки творчості.

16 А Б В Г



17. Вкажіть тенденції, що характеризують сучасні міжнародні торговельні відносини:
- Зростання темпів торгівлі сировиною і продовольством.
 - Розширення обміну послугами, інформацією, науково-технічною документацією.
 - Збільшення масштабів торгівлі вугіллям і чорними металами.
 - Збільшення частки африканських країн у торгівлі продовольством.
18. Оберіть групу країн – лідерів з видобутку нафти:
- США, Мексика, ФРН.
 - Саудівська Аравія, Іран, ОАЕ.
 - Росія, Норвегія, Франція.
 - Китай, Індонезія, Нігерія.
19. Вкажіть найважливіші чинники розміщення підприємств хімічної промисловості Німеччини:
- Власна гірничо-хімічна промисловість.
 - Траси нафтопроводів і портові міста.
 - Лояльне природоохоронне законодавство.
 - Наявність висококваліфікованих кадрів.
20. Вкажіть сучасну особливість розвитку електроенергетики Росії:
- Провідну роль відіграють нетрадиційні джерела північних і північно-східних районів Росії.
 - Провідну роль відіграють АЕС, збудовані в останні 50 років минулого століття.
 - Провідну роль відіграють ГЕС Західного Сибіру, що використовують потужні гідроресурси регіону.
 - Провідну роль відіграють ТЕС (70 %), що працюють на різних видах палива.

II. Завдання на визначення відповідності

У завданнях 21–25 до кожного із завдань, позначених цифрою, доберіть правильну відповідь, позначену буквою. Потім відповідність цифр і букв перенесіть у бланк відповідей.

21. Визначте відповідність між географічними картами та їхнім змістом і призначенням:
- Загальногеографічні карти.
 - Тематичні карти.
 - Туристичні карти.
 - Науково-довідкові карти.
 - Показують розміщення лише чітко визначених для даної карти об'єктів: природних явищ чи населення, господарства чи об'єктів культури.
 - Призначені для виконання за їх допомогою досліджень, отримання детальної, достовірної інформації.
 - З однаковою деталісттю відображають усі географічні об'єкти місцевості: рельєф, річки, озера, ґрунти, рослинний і тваринний світ, населені пункти, шляхи сполучення, господарські об'єкти.
 - Відображено історичні пам'ятки, музеї, заповідники, готелі тощо.
 - Позначено лінії укріплень, напрямки руху військ.

21	А	Б	В	Г	Д
1					
2					
3					
4					

22. Визначте відповідність між річками Північної Америки та їхніми характеристиками:

1. Колорадо.
2. Міссурі.
3. Маккензі.
4. Міссісіпі.

- А. Річку назвали на честь шотландського мандрівника.
- Б. Утворює один з найглибших у світі каньйонів.
- В. Найбільша річка материка.
- Г. У перекладі з мови індіанців означає «Вода, що гуркоче».
- Д. У перекладі з мови індіанців означає «Велика каламутна вода».

22	А	Б	В	Г	Д
1					
2					
3					
4					

23. Визначте відповідність між населеними пунктами та середньорічною кількістю опадів на їхній території:

- | | |
|-----------------|------------|
| 1. Ужгород. | А. 650 мм. |
| 2. Рівне. | Б. 350 мм. |
| 3. Черкаси. | В. 550 мм. |
| 4. Сімферополь. | Г. 750 мм. |
| | Д. 450 мм. |

23	А	Б	В	Г	Д
1					
2					
3					
4					

24. Вкажіть відповідність між старими та сучасними назвами адміністративних одиниць України:

- | | |
|---------------------------|---------------------------|
| 1. Сталінська обл. | А. АР Крим. |
| 2. Ворошиловградська обл. | Б. Івано-Франківська обл. |
| 3. Кримська обл. | В. Луганська обл. |
| 4. Станіславська обл. | Г. Кіровоградська обл. |
| | Д. Донецька обл. |

24	А	Б	В	Г	Д
1					
2					
3					
4					

25. Вкажіть відповідність між відомими металургійними базами, центрами, країнами світу та чинниками, що вплинули на їхнє формування:

- | | |
|------------------------------------|--|
| 1. Рур, Пітсбург, Донбас, Сілезія. | А. Споживач (міні-заводи) і ринки збуту. |
| 2. Лотарингія, Кривий Ріг, Урал. | Б. Місцева сировинна і паливна бази. |
| 3. Філадельфія, Дюнкерк, Таранто. | В. Місцеві залізородні бази. |
| 4. Арабські держави. | Г. Шляхи перевезення руд і палива. |
| | Д. Особливі науково-технологічні досягнення. |

25	А	Б	В	Г	Д
1					
2					
3					
4					

III. Завдання на визначення правильної послідовності

У завданнях 26–30 розташуйте в логічній послідовності явища, об'єкти, процеси і т.д. Потім послідовність розташування букв перенесіть у бланк відповідей.

26. Розташуйте послідовно названі столиці країн з півночі на південь:

- А. Анкара.
- Б. Київ.
- В. Осло.
- Г. Москва.

26	А	Б	В	Г
1				
2				
3				
4				





27. Розташуйте послідовно з північного сходу на південний захід природні об'єкти, що є межею між Європою та Азією:
- Річка Емба.
 - Уральські гори.
 - Протока Дарданелли.
 - Протока Босфор.
28. Розташуйте міста України у напрямку зменшення місцевого часу:
- Запоріжжя.
 - Одеса.
 - Миколаїв.
 - Херсон.
29. Розташуйте послідовно економічні райони України у порядку зменшення в них частки українців:
- Столичний.
 - Причорноморський.
 - Подільський.
 - Придніпровський.
30. Визначте правильну послідовність основних споживачів води в порядку збільшення масштабів споживання у світі:
- Сільське господарство.
 - Водосховища.
 - Промисловість.
 - Комунальне господарство.

27	А	Б	В	Г
1				
2				
3				
4				

28	А	Б	В	Г
1				
2				
3				
4				

29	А	Б	В	Г
1				
2				
3				
4				

30	А	Б	В	Г
1				
2				
3				
4				

IV. Завдання відкритого типу

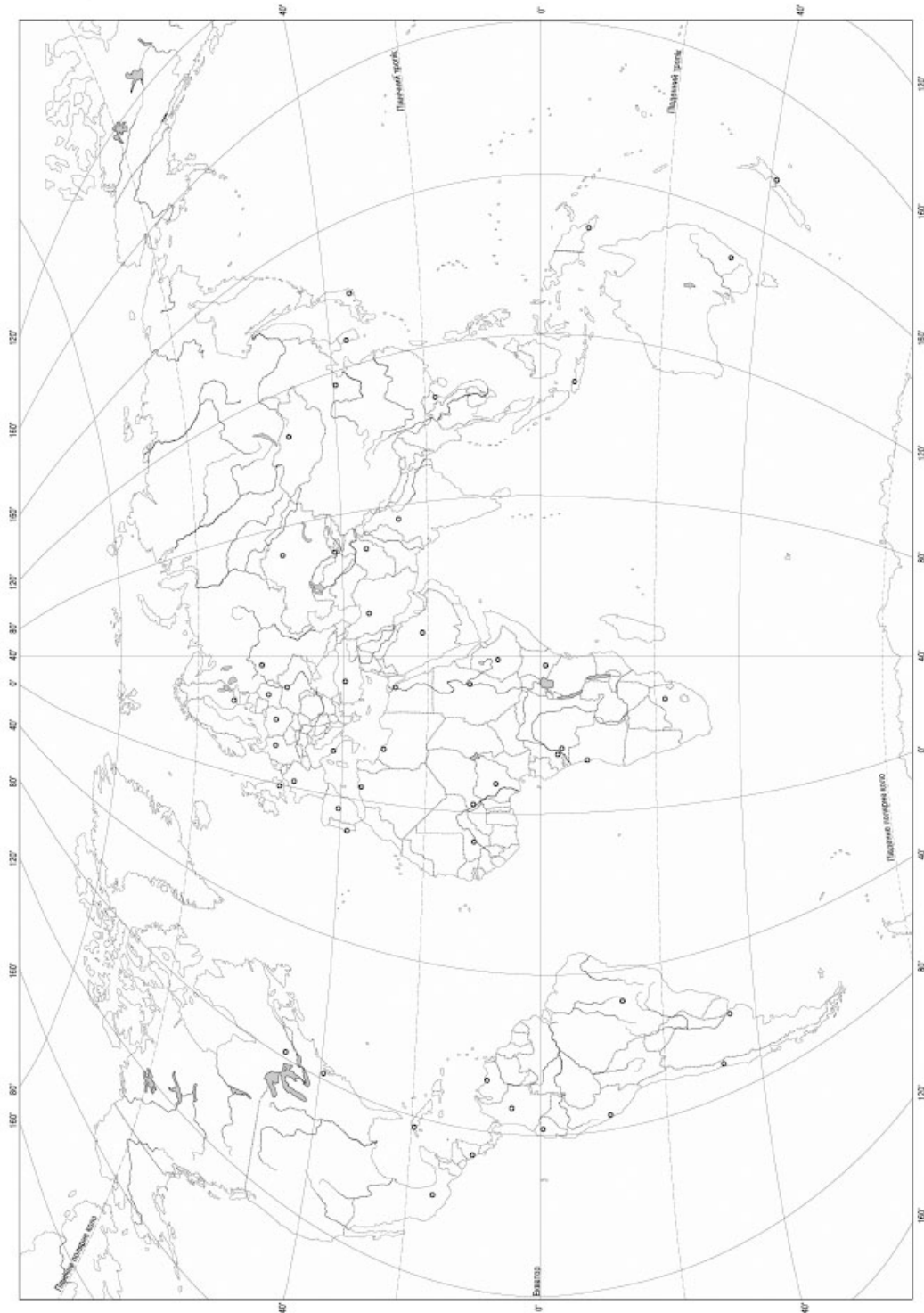
Завдання 31–34* передбачають розгорнуту відповідь на поставлені запитання з відповідним записом у бланку відповідей.

31. Дайте характеристику транспорту Японії.
32. Поясніть мету створення водосховищ. Наведіть приклади. Вкажіть на екологічні проблеми, які супроводжують експлуатацію водосховищ на Дніпрі.
33. Зазначте основні типи міст за функціями (наведіть приклади в Україні).
- 34*. Назвіть, за якими ознаками класифікують географічні карти. Наведіть приклади сфер, де вони застосовуються.

V. Завдання на контурній карті

Завдання 35 має картографічний характер і передбачає нанесення на карту інформації відповідно до завдання та розробку легенди карти (записи на карті й легенда подаються тим самим кольором ручки, яким виконується все тестове завдання).

35. Позначте на контурній карті по 5 найбільших мегалополісів і агломерацій світу.



Варіант 15

I. Завдання з вибором однієї правильної відповіді

1. Визначте, які природні ресурси належать до відновлюваних:
- А. Мінеральні.
Б. Земельні.
В. Рекреаційні.
Г. Кліматичні.
2. Вкажіть океан, у якому найчастіше спостерігається таке грізне явище природи, як цунамі:
- А. Індійський.
Б. Атлантичний.
В. Тихий.
Г. Північний Льодовитий.
3. Вкажіть море, що належить до басейну Індійського океану:
- А. Філіппінське.
Б. Жовте.
В. Аравійське.
Г. Середземне.
4. Оберіть варіант, у якому дано правильне визначення поняття «болото»:
- А. Надмірно зволожена територія без наявності в ньому торфу.
Б. Надмірно зволожена ділянка суходолу із шаром торфу завтовшки понад 30 см.
В. Надмірно зволожена територія, яка заросла різними вологолюбними рослинами.
Г. Надмірно зволожена частина долини річки.
5. Вкажіть, який з перелічених об'єктів не є частиною світу.
- А. Північна Америка.
Б. Африка.
В. Європа.
Г. Австралія.
6. Вкажіть, хто з учених досліджував у Південній Америці центри походження культурних рослин:
- А. Америго Веспуччі.
Б. Христофор Колумб.
В. Микола Вавилов.
Г. Александр Гумбольдт.
7. Вкажіть, яка з океанічних течій є найдовшою:
- А. Гольфстрім.
Б. Перуанська.
В. Південна Пасатна.
Г. Західних Вітрів.
8. Визначте регіон Євразії, для якого є типовими подані в таблиці ґрунти, рослини, тварини:
- | Ґрунти | Рослини | Тварини |
|--------------------|------------------------------------|----------------------------|
| Дерново-підзолисті | Ялина, сосна, дуб, ясен, бук, липа | Косуля, кабан, вовк, бобер |
- А. Лісостеп.
Б. Лісотундра.
В. Мішані ліси.
Г. Тайга.



9. Визначте, яку площу займає Україна на карті півкуль із масштабом 1:22 000 000, якщо її площа становить 604 тис. км²:
- А. 12,5 см².
 Б. 1,25 см².
 В. 2,76 см².
 Г. 27,6 см².
10. Вкажіть максимальну висоту Українських Карпат:
- А. 515 м.
 Б. 2061 м.
 В. 1545 м.
 Г. 1234 м.
11. Визначте річну кількість опадів для Львова, якщо величина випаровуваності за рік становить 530 мм, а коефіцієнт зволоження дорівнює 1,17:
- А. 800 мм.
 Б. 620 мм.
 В. 700 мм.
 Г. 530 мм.
12. Вкажіть озеро, яке має льодовикове походження:
- А. Донузлав.
 Б. Синевир.
 В. Світязь.
 Г. Бребенескул.
13. Оберіть правильне визначення терміна «субурбанізація»:
- А. Процес зростання кількості міст, міського населення.
 Б. Процес збільшення і розвитку приміської зони великих міст.
 В. Процес переїзду міських жителів у сільські населені пункти.
 Г. Процес переїзду міських жителів з малих міст у великі.
14. Визначте форму сучасного адміністративного устрою і форму правління в Україні:
- А. Унітарна парламентсько-президентська республіка.
 Б. Унітарна президентсько-парламентська республіка.
 В. Федеративна президентська республіка.
 Г. Федеративна парламентська республіка.
15. Вкажіть основний район поширення вівчарства в Україні:
- А. Передкарпаття.
 Б. Придніпров'я.
 В. Карпати.
 Г. Полісся.
16. Вкажіть назву рудних ресурсів, за запасами яких Україна посідає одне з провідних місць у світі:
- А. Алюмінієві руди.
 Б. Мідні руди.
 В. Марганцеві руди.
 Г. Нікелеві руди.

9 А Б В Г

--	--	--	--

10 А Б В Г

--	--	--	--

11 А Б В Г

--	--	--	--

12 А Б В Г

--	--	--	--

13 А Б В Г

--	--	--	--

14 А Б В Г

--	--	--	--

15 А Б В Г

--	--	--	--

16 А Б В Г

--	--	--	--





17. Вкажіть причину, яка пояснює незначні масштаби торгівлі вугіллям:

- А. Паливо має невисоку калорійність, тому перевезення витратні й не вигідні.
- Б. Запаси в основному зосереджені в країнах, що розвиваються, тому масштаби видобутку незначні.
- В. Запаси в основному зосереджені в розвинутих країнах, які мають значні масштаби внутрішнього споживання.
- Г. Насипний характер вантажів створює проблеми під час морських перевезень.

17 А Б В Г

--	--	--	--

18. Виберіть район, у якому зосереджено понад половину світових запасів нафти:

- А. Північна Америка.
- Б. Країни Близького й Середнього Сходу.
- В. Північна Африка.
- Г. Західний Сибір.

18 А Б В Г

--	--	--	--

19. Вкажіть, чому річковий транспорт Німеччини має значну частку у перевезеннях вантажів, забезпечуючи внутрішні й зовнішні зв'язки держави:

- А. Північний напрямок течії річок, що збігається з напрямками перевезень.
- Б. Дешевий характер перевезень і навігація протягом року.
- В. Формування системи судноплавних каналів, що з'єднують судноплавні частини річок, забезпечуючи дешевий вихід до морів Атлантики.
- Г. Екологічна чистота і високий ступінь безпеки перевезень.

19 А Б В Г

--	--	--	--

20. Вкажіть сучасну особливість розвитку паливної промисловості Росії:

- А. Значні перспективи розвитку газової промисловості має Підмосков'я.
- Б. Видобуток нафтових ресурсів стає все менш пріоритетним напрямком у зв'язку з розвитком енергозберігаючих технологій.
- В. У країні поступово згортаються проекти будівництва нових магістральних трубопроводів.
- Г. Нафта, газ стають переважно експортною продукцією, тому частка вугілля зростає.

20 А Б В Г

--	--	--	--

II. Завдання на визначення відповідності

У завданнях 21–25 до кожного із завдань, позначених цифрою, доберіть правильну відповідь, позначену буквою. Потім відповідність цифр і букв перенесіть у бланк відповідей.

21. Встановіть відповідність між номенклатурою топографічних карт і їх масштабом:

- 1. М – 36 – 142 – В – в – 1.
 - 2. М – 36 – 142.
 - 3. М – 38 – 142 – В.
 - 4. М – 38 – 142 – В – в.
- А. 1 : 200 000.
 - Б. 1 : 100 000.
 - В. 1 : 50 000.
 - Г. 1 : 10 000.
 - Д. 1 : 25 000.

21 А Б В Г Д

1				
2				
3				
4				

22. Вкажіть відповідність між типами ґрунтів і природними зонами на материку Північна Америка:

1. Дерново-підзолисті.
 2. Підзолисті.
 3. Коричневі.
 4. Бурі лісові.
- А.** Широколистих лісів.
Б. Напівпустель і пустель.
В. Мішаних лісів.
Г. Твердолистих вічнозелених лісів і чагарників.
Д. Хвойних лісів.

22	А	Б	В	Г	Д
1	<input type="checkbox"/>	<input type="checkbox"/>	<input type="checkbox"/>	<input type="checkbox"/>	<input type="checkbox"/>
2	<input type="checkbox"/>	<input type="checkbox"/>	<input type="checkbox"/>	<input type="checkbox"/>	<input type="checkbox"/>
3	<input type="checkbox"/>	<input type="checkbox"/>	<input type="checkbox"/>	<input type="checkbox"/>	<input type="checkbox"/>
4	<input type="checkbox"/>	<input type="checkbox"/>	<input type="checkbox"/>	<input type="checkbox"/>	<input type="checkbox"/>

23. Визначте відповідність між населеними пунктами і середньорічною кількістю опадів на їхній території:

1. Львів.
 2. Запоріжжя.
 3. Суми.
 4. Луцьк.
- А.** 450 мм.
Б. 550 мм.
В. 350 мм.
Г. 750 мм.
Д. 650 мм.

23	А	Б	В	Г	Д
1	<input type="checkbox"/>	<input type="checkbox"/>	<input type="checkbox"/>	<input type="checkbox"/>	<input type="checkbox"/>
2	<input type="checkbox"/>	<input type="checkbox"/>	<input type="checkbox"/>	<input type="checkbox"/>	<input type="checkbox"/>
3	<input type="checkbox"/>	<input type="checkbox"/>	<input type="checkbox"/>	<input type="checkbox"/>	<input type="checkbox"/>
4	<input type="checkbox"/>	<input type="checkbox"/>	<input type="checkbox"/>	<input type="checkbox"/>	<input type="checkbox"/>

24. Визначте відповідність між містами-мільйонерами в Україні та чисельністю їх населення (за даними перепису населення 2001 р.):

1. Київ.
 2. Одеса.
 3. Харків.
 4. Дніпропетровськ.
- А.** 2,7 млн осіб.
Б. 1,45 млн осіб.
В. 1,1 млн осіб.
Г. 1 млн осіб.
Д. 5 млн осіб.

24	А	Б	В	Г	Д
1	<input type="checkbox"/>	<input type="checkbox"/>	<input type="checkbox"/>	<input type="checkbox"/>	<input type="checkbox"/>
2	<input type="checkbox"/>	<input type="checkbox"/>	<input type="checkbox"/>	<input type="checkbox"/>	<input type="checkbox"/>
3	<input type="checkbox"/>	<input type="checkbox"/>	<input type="checkbox"/>	<input type="checkbox"/>	<input type="checkbox"/>
4	<input type="checkbox"/>	<input type="checkbox"/>	<input type="checkbox"/>	<input type="checkbox"/>	<input type="checkbox"/>

25. Визначте відповідність між регіонами і країнами світу та їхньою спеціалізацією в галузі хімічної промисловості:

1. Західна Європа.
 2. Північна Америка (США, Канада).
 3. Японія.
 4. СНД.
- А.** Сірчана кислота, пластмаси, хімволокна.
Б. Мінеральні добрива й інша продукція основної хімії.
В. Виключно гірничо-хімічне виробництво.
Г. Значна частка виробництв «тонкої хімії» – фармацевтика, парфумерія, фототовари і т. п.
Д. Газохімічні виробництва, агрохімікати.

25	А	Б	В	Г	Д
1	<input type="checkbox"/>	<input type="checkbox"/>	<input type="checkbox"/>	<input type="checkbox"/>	<input type="checkbox"/>
2	<input type="checkbox"/>	<input type="checkbox"/>	<input type="checkbox"/>	<input type="checkbox"/>	<input type="checkbox"/>
3	<input type="checkbox"/>	<input type="checkbox"/>	<input type="checkbox"/>	<input type="checkbox"/>	<input type="checkbox"/>
4	<input type="checkbox"/>	<input type="checkbox"/>	<input type="checkbox"/>	<input type="checkbox"/>	<input type="checkbox"/>

III. Завдання на визначення правильної послідовності

У завданнях 26–30 розташуйте в логічній послідовності явища, об'єкти, процеси і т. д. Потім послідовність розташування букв перенесіть у бланк відповідей.

26. Розташуйте послідовно названі столиці країн із заходу на схід:

- А.** Париж.
- Б.** Пекін.
- В.** Токію.
- Г.** Варшава.

26	А	Б	В	Г
1	<input type="checkbox"/>	<input type="checkbox"/>	<input type="checkbox"/>	<input type="checkbox"/>
2	<input type="checkbox"/>	<input type="checkbox"/>	<input type="checkbox"/>	<input type="checkbox"/>
3	<input type="checkbox"/>	<input type="checkbox"/>	<input type="checkbox"/>	<input type="checkbox"/>
4	<input type="checkbox"/>	<input type="checkbox"/>	<input type="checkbox"/>	<input type="checkbox"/>





27. Розташуйте із заходу на схід кліматичні області помірного кліматичного поясу на материк Північна Америка:
- А. Помірно континентальний.
 Б. Морський.
 В. Континентальний.
 Г. Мусонний.
28. Розташуйте послідовно області України у порядку зменшення кількості опадів:
- А. Кіровоградська.
 Б. Луганська.
 В. Тернопільська.
 Г. Закарпатська.
29. Вкажіть послідовність країн за їхньою часткою в загальному обсязі іноземних інвестицій в Україну, починаючи з найбільшого показника:
- А. Німеччина.
 Б. Росія.
 В. Кіпр.
 Г. Нідерланди.
30. Визначте правильну послідовність збільшення частки видів водних ресурсів у загальних запасах води на планеті:
- А. Підземні води.
 Б. Води річок.
 В. Вода в льодовиках.
 Г. Вода в озерах.

27	А	Б	В	Г
1				
2				
3				
4				

28	А	Б	В	Г
1				
2				
3				
4				

29	А	Б	В	Г
1				
2				
3				
4				

30	А	Б	В	Г
1				
2				
3				
4				

IV. Завдання відкритого типу

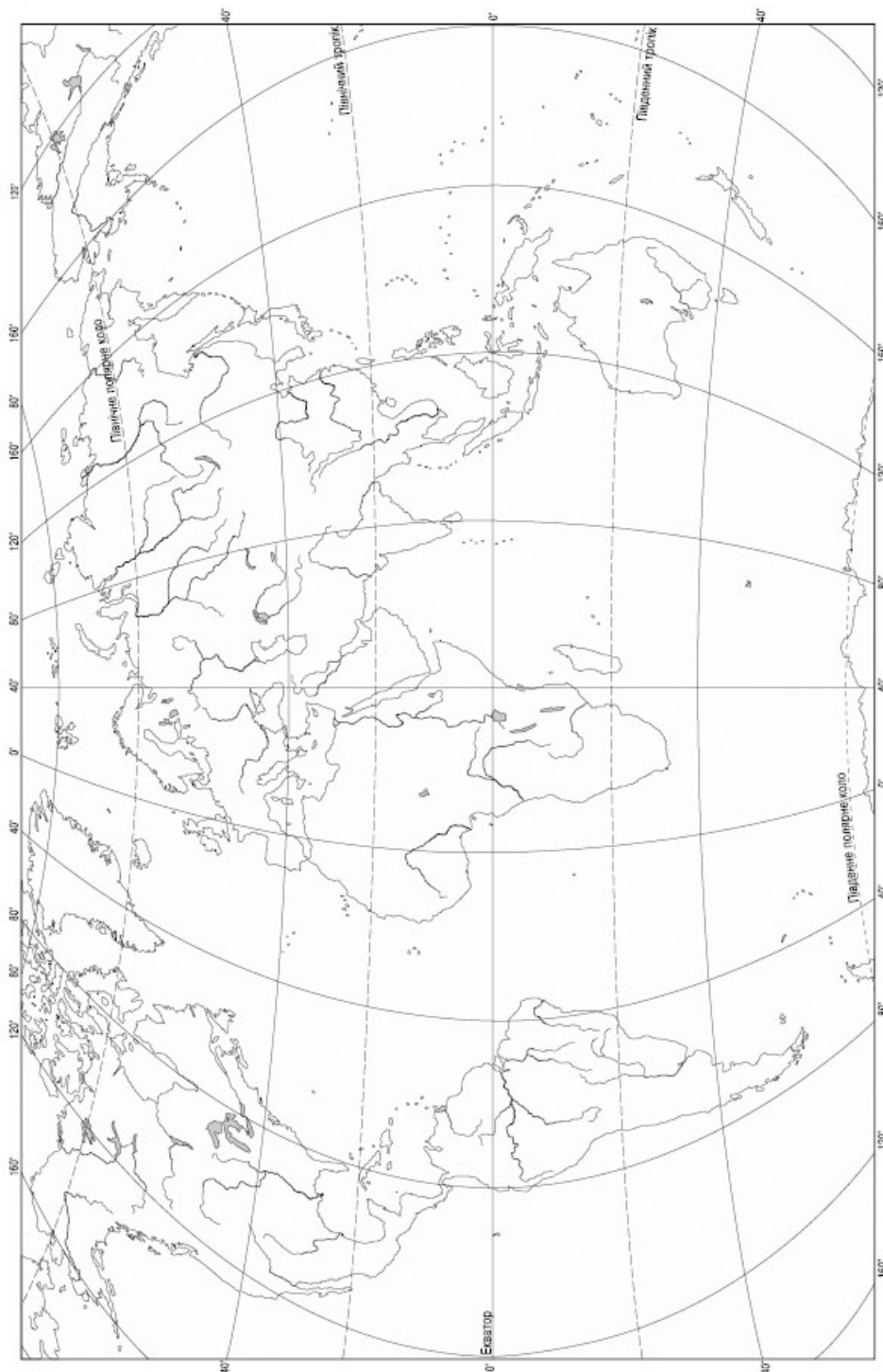
Завдання 31–34* передбачають розгорнуту відповідь на поставлені запитання з відповідним записом у бланку відповідей.

31. Дайте коротку характеристику і вкажіть особливості географії сільського господарства Китаю.
32. Поясніть взаємозв'язок між компонентами природи на прикладі одного з ландшафтів.
33. Дайте характеристику та опишіть географію трудових ресурсів України.
- 34*. Що таке індекс розвитку людського потенціалу? Проаналізуйте його структуру.

V. Завдання на контурній карті

Завдання 35 має картографічний характер і передбачає нанесення на карту інформації відповідно до завдання та розробку легенди карти (записи на карті й легенда подаються тим самим кольором ручки, яким виконується все тестове завдання).

35. Нанесіть на контурну карту світу острови: Великобританія, Мадагаскар, Суматра, Вогняна земля – та протоки, які відділяють їх від материка.



Варіант 16

I. Завдання з вибором однієї правильної відповіді

1. Укажіть, яка з названих країн Америки має вихід до трьох океанів:

- А. Канада.
Б. Бразилія.
В. Чилі.
Г. Мексика.

1 А Б В Г
□ □ □ □

2. Зазначте, хто відкрив Австралію:

- А. Фернан Магеллан.
Б. Абель Тасман.
В. Христофор Колумб.
Г. Васко да Гама.

2 А Б В Г
□ □ □ □

3. Вкажіть море, що належить до Тихого океану:

- А. Берингове.
Б. Аравійське.
В. Чорне.
Г. Карибське.

3 А Б В Г
□ □ □ □

4. Вкажіть найбільше за площею прісноводне озеро світу:

- А. Байкал.
Б. Верхнє.
В. Ладозьке.
Г. Синеvir.

4 А Б В Г
□ □ □ □

5. Оберіть варіант, у якому правильно дається визначення, що таке Антарктика:

- А. Прибережні океанічні води разом з островами біля Антарктиди.
Б. Прибережні океанічні води разом з островами і материком Антарктида.
В. Єдиний материк, який повністю розташований у полярних широтах.
Г. Єдиний материк, частина якого лежить у полярних широтах.

5 А Б В Г
□ □ □ □

6. Вкажіть, який з названих об'єктів не відділяє два материки:

- А. Гібралтарська протока.
Б. Протока Дрейка.
В. Берингова протока.
Г. Магелланова протока.

6 А Б В Г
□ □ □ □

7. Оберіть помилкове твердження:

- А. Перуанська течія сприяє зменшенню кількості опадів на узбережжі.
Б. Вулкан Еребус в Антарктиді є діючим.
В. Від країв Антарктиди до її центру дмуть стокові вітри.
Г. Кількість висотних поясів у горах залежить від їх широтного розташування і висоти хребтів.

7 А Б В Г
□ □ □ □

8. Виберіть варіант, де правильно вказані тварини, що живуть в Антарктиді:

- А. Білі ведмеді, пінгвіни, гаги.
Б. Вівцебики, альбатроси, полярні сови.
В. Моржі, білі ведмеді, карибу.
Г. Пінгвіни, тюлені, альбатроси.

8 А Б В Г
□ □ □ □

9. Виберіть проекцію, в якій створена дана карта:



- А. Конічна рівнопрямійна.
- Б. Циліндрична.
- В. Азимутальна пряма.
- Г. Азимутальна поперечна.

9 А Б В Г

--	--	--	--

10. Оберіть групу корисних копалин, що належать до руд чорних металів:

- А. Поліметалеві та мідні.
- Б. Титанові та нікелеві.
- В. Залізні та марганцеві.
- Г. Боксити та ртутні.

10 А Б В Г

--	--	--	--

11. Оберіть епоху горотворення, в яку остаточно сформувалися Карпатська і Кримська гірські споруди:

- А. Альпійська.
- Б. Герцинська.
- В. Каледонська.
- Г. Байкальська.

11 А Б В Г

--	--	--	--

12. Виберіть варіант, у якому перелічено об'єкти, що не належать до берегової лінії Чорного моря:

- А. Тендрівська коса і Каламітська затока.
- Б. Балаклавська бухта і острів Джарилгач.
- В. Каркінітська затока і острів Зміїний.
- Г. Коса Бірючий острів і Бердянська затока.

12 А Б В Г

--	--	--	--

13. З'ясуйте, яка область в Україні найбільша за площею:

- А. Київська.
- Б. Харківська.
- В. Миколаївська.
- Г. Одеська.

13 А Б В Г

--	--	--	--

14. Оберіть з переліку місто-мільйонер:

- А. Донецьк.
- Б. Запоріжжя.
- В. Львів.
- Г. Дніпропетровськ.

14 А Б В Г

--	--	--	--

15. Вкажіть назву науки, яка вивчає навколишнє природне середовище щодо його придатності для існування живих організмів і проживання населення:

- А. Геоєкологія.
- Б. Геоморфологія.
- В. Геологія.
- Г. Гідрологія.

15 А Б В Г

--	--	--	--





16. Вкажіть область в Україні, на яку припадає до 75 % виробництва хмелю:

- А. Київська.
- Б. Хмельницька.
- В. Полтавська.
- Г. Житомирська.

16 А Б В Г

17. Виберіть групу країн світу, що мають найвищий рівень урбанізації:

- А. Східний Тимор, Лаос, Непал.
- Б. Судан, Сомалі, Чад.
- В. Бразилія, Австралія, Лівія.
- Г. Монако, Сінгапур, Ватикан.

17 А Б В Г

18. Вкажіть характерні особливості розвитку транспорту Великої Британії:

- А. Морський транспорт відіграє важливу роль тільки в міжнародних перевезеннях.
- Б. Трубопровідний починає розвиватись, але частка поки що незначна.
- В. У вантажних внутрішніх перевезеннях лідирує залізничний транспорт.
- Г. Повітряний транспорт за внутрішніми перевезеннями пасажирів посідає перше місце у Західній Європі, а за міжнародними поступається тільки США.

18 А Б В Г

19. Оберіть варіант, у якому правильно вказано експортні товари Німеччини та торговельні партнери:

- А. Машини і обладнання; 3/4 торговельних операцій припадає на економічно розвинуті країни (ЄС і США).
- Б. Сировина і напівфабрикати; торговельні партнери – країни, що розвиваються.
- В. Енергоносії (нафта, газ); торговельні партнери – Росія та інші країни СНД.
- Г. Автомобілі, оптика, роботи; торговельні партнери – Японія, Сінгапур.

19 А Б В Г

20. Вкажіть причину концентрації населення і виробництва в європейській частині Росії:

- А. Смуга концентрації населення збігається з урбанізованими зонами світового значення, які сформувалися наприкінці минулого століття.
- Б. Смуга концентрації населення збігається з районами трудомісткого сільського господарства.
- В. Смуга концентрації населення збігається з районами старого промислового і землеробського освоєння зі сприятливими природними умовами клімату.
- Г. Смуга концентрації населення збігається з зоною інтенсивного розвитку скотарства і масштабної меліорації у зоні Нечорнозем'я Росії.

20 А Б В Г

II. Завдання на визначення відповідності

У завданнях 21–25 до кожного із завдань, позначених цифрою, доберіть правильну відповідь, позначену буквою. Потім відповідність цифр і букв перенесіть у бланк відповідей.

21. Визначте відповідність між поняттями та їхнім змістом:

- 1. Глобус.
- 2. Географічна карта.
- 3. План.
- 4. Космічний знімок.

- А.** Фотографія ділянки Землі з іншого небесного тіла чи Космосу.
Б. Зменшена модель Землі.
В. Креслення місцевості, виконане в умовних знаках й у великому масштабі.
Г. Зменшене, узагальнене зображення Землі, виконане в певному масштабі та проекції з урахуванням форми Землі.
Д. Зображення поверхні, вид збоку з урахуванням перспективи.

21 А Б В Г Д

1					
2					
3					
4					

22. Визначте відповідність між діючими вулканами та островами й півостровами, на яких вони розташовані:

- | | |
|----------------------|------------------------------|
| 1. Гекла. | А. Зондські о-ви. |
| 2. Везувій. | Б. о. Ісландія. |
| 3. Ключевська Сопка. | В. о. Сицилія. |
| 4. Кракатау. | Г. Апеннінський п-ів. |
| | Д. П-ів Камчатка. |

22 А Б В Г Д

1					
2					
3					
4					

23. Визначте відповідність між річками й річковими басейнами, до яких вони належать:

- | | |
|------------|--|
| 1. Самара. | А. Басейн р. Десна. |
| 2. Оскіл. | Б. Басейн р. Дніпро. |
| 3. Інгул. | В. Басейн р. Дністер. |
| 4. Збруч. | Г. Басейн р. Південний Буг. |
| | Д. Басейн р. Сіверський Донець. |

23 А Б В Г Д

1					
2					
3					
4					

24. Вкажіть відповідність між областями України та особливостями їх географічного положення:

- | | |
|--|--|
| 1. Волинська. | |
| 2. Тернопільська. | |
| 3. Миколаївська. | |
| 4. Закарпатська. | |
| А. Має спільний державний кордон з чотирма країнами Європейського Союзу. | |
| Б. Південна частина області омивається водами Чорного моря. | |
| В. Має спільний державний кордон з країною-членом ЄС та країною-членом СНД. | |
| Г. Майже вся східна межа області проходить по річці Збруч. | |
| Д. Має державний кордон з Росією. | |

24 А Б В Г Д

1					
2					
3					
4					

25. Визначте відповідність між галузями тваринництва та країнами – лідерами з поголів'я:

- | | |
|---|--|
| 1. Скотарство. | |
| 2. Свинарство. | |
| 3. Вівчарство. | |
| 4. Конярство. | |
| А. Іран, Ірак, Туреччина, ОАЕ. | |
| Б. Бразилія, Індія, Китай, США. | |
| В. Китай, Бразилія, Мексика, США. | |
| Г. Австралія, Індія, Китай, Нова Зеландія. | |
| Д. Китай, США, Німеччина, Україна. | |

25 А Б В Г Д

1					
2					
3					
4					



III. Завдання на визначення правильної послідовності

У завданнях 26–30 розташуйте в логічній послідовності явища, об'єкти, процеси і т.д. Потім послідовність розташування букв перенесіть у бланк відповідей.

26. Розташуйте послідовно названі столиці країн з півдня на північ:

А. Токіо.
Б. Канберра.
В. Гельсінкі.
Г. Тегеран.

26	А	Б	В	Г
1				
2				
3				
4				

27. Вкажіть, у якій послідовності європейці відкрили материки:

А. Південна Америка.
Б. Австралія.
В. Антарктида.
Г. Північна Америка.

27	А	Б	В	Г
1				
2				
3				
4				

28. Розташуйте послідовно області, які мають вихід до моря, починаючи від о. Зміїний:

А. Запорізька.
Б. Миколаївська.
В. Донецька.
Г. Одеська.

28	А	Б	В	Г
1				
2				
3				
4				

29. Розташуйте послідовно стадії виробництва чорних металів, починаючи з першої:

А. Виробництво чавуну.
Б. Видобуток залізної руди.
В. Виробництво прокату.
Г. Виробництво сталі.

29	А	Б	В	Г
1				
2				
3				
4				

30. Визначте правильну послідовність залучення мінеральних ресурсів протягом існування людської цивілізації:

А. Вугілля, нафта, газ.
Б. Залізо, мідь, золото, срібло.
В. Мідь, олово, золото.
Г. Алюміній, хром, нікель, магній.

30	А	Б	В	Г
1				
2				
3				
4				

IV. Завдання відкритого типу

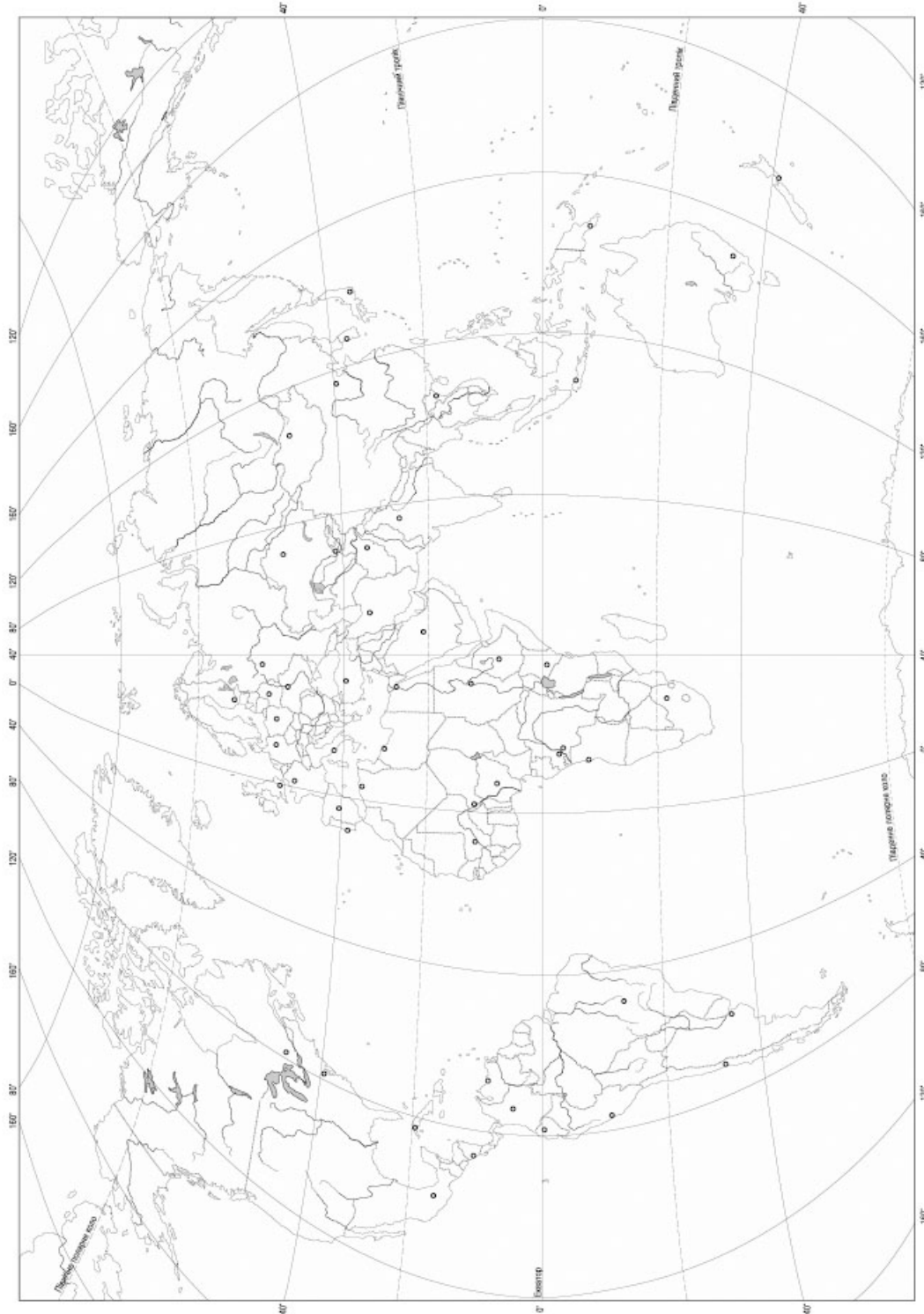
Завдання 31–34* передбачають розгорнуту відповідь на поставлені запитання з відповідним записом у бланку відповідей.

31. Охарактеризуйте паливну промисловість Росії.
32. Охарактеризуйте основні категорії територій і об'єктів природно-заповідного фонду України. Наведіть відомі вам приклади.
33. Охарактеризуйте географію галузей основної хімії України. Вкажіть характерні проблеми розвитку і розміщення галузі.
- 34*. Охарактеризуйте рекреаційні ресурси світу. Наведіть приклади об'єктів Всесвітньої спадщини у світі та Україні.

V. Завдання на контурній карті

Завдання 35 має картографічний характер і передбачає нанесення на карту інформації відповідно до завдання та розробку легенди карти (записи на карті та легенда подаються тим самим кольором ручки, яким виконується все тестове завдання).

35. Розробіть легенду карти і позначте трійку країн – світових лідерів за запасами залізної руди, з експорту сировини й виробництва сталі.



Варіант 17

I. Завдання з вибором однієї правильної відповіді

1. Вкажіть, коли було відкрито материк Антарктида:

- А. 1820 р.
 Б. 1519 р.
 В. 1642 р.
 Г. 1920 р.

1 А Б В Г

2. Вкажіть море, що належить до Північного Льодовитого океану:

- А. Середземне.
 Б. Жовте.
 В. Карське.
 Г. Аравійське.

2 А Б В Г

3. Визначте, яку широту має Південний полюс:

- А. 90° пн. ш.
 Б. 90° пд. ш.
 В. 0° ш.
 Г. 80° пд. ш.

3 А Б В Г

4. Вкажіть найбільше за площею солоне озеро світу:

- А. Байкал.
 Б. Танганьїка.
 В. Аральське море.
 Г. Каспійське море.

4 А Б В Г

5. Зазначте, який материк омивається водами усіх чотирьох океанів:

- А. Антарктида.
 Б. Євразія.
 В. Північна Америка.
 Г. Австралія.

5 А Б В Г

6. Зазначте, яка природна зона в Австралії має найбільшу площу:

- А. Вічнозелених перемінно-вологих лісів.
 Б. Саван і рідколісся.
 В. Пустель і напівпустель.
 Г. Мішаних лісів.

6 А Б В Г

7. Вкажіть, які два озера з'єднує річка Ніагара:

- А. Мічиган і Ері.
 Б. Ері й Онтаріо.
 В. Гурон і Ері.
 Г. Гурон і Мічиган.

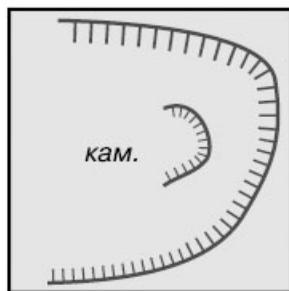
7 А Б В Г

8. Виберіть правильне твердження:

- А. Першим досяг Південного полюса Р. Скотт 14 грудня 1911 р.
 Б. Першим досяг Південного полюса Р. Амундсен 14 грудня 1911 р.
 В. Першим досяг Південного полюса Р. Скотт 18 січня 1912 р.
 Г. Першим досяг Південного полюса Р. Амундсен 18 січня 1912 р.

8 А Б В Г

9. Виберіть із запропонованого переліку об'єкт, який відповідає даному умовному знаку:



- А. Скелі-останці.
- Б. Болото.
- В. Яр.
- Г. Кар'єр.

9 А Б В Г

--	--	--	--

10. Вкажіть тектонічну структуру, яка лежить в основі Придніпровської низовини:

- А. Причорноморська западина.
- Б. Дніпровсько-Донецька западина.
- В. Український щит.
- Г. Волино-Подільська плита.

10 А Б В Г

--	--	--	--

11. Вкажіть форму рельєфу, яка позначена на карті штрихуванням:

- А. Приазовська височина.
- Б. Подільська височина.
- В. Українські Карпати.
- Г. Придніпровська височина.



11 А Б В Г

--	--	--	--

12. Назвіть відомого вченого, який досліджував ґрунти в Україні:

- А. Володимир Вернадський.
- Б. Василь Докучаєв.
- В. Олександр Восійков.
- Г. Павло Тутковський.

12 А Б В Г

--	--	--	--

13. Вкажіть кількість адміністративних одиниць, що утворюють систему адміністративно-територіального устрою України:

- А. 25.
- Б. 24.
- В. 27.
- Г. 26.

13 А Б В Г

--	--	--	--





14. Вкажіть область, у якій найвищий рівень урбанізації в Україні:
- А. Київська.
 Б. Дніпропетровська.
 В. Донецька.
 Г. Луганська.
- 14 А Б В Г
15. Вкажіть найпотужнішу АЕС України:
- А. Запорізька.
 Б. Південноукраїнська.
 В. Хмельницька.
 Г. Рівненська.
- 15 А Б В Г
16. Вкажіть, яка технічна культура охоплює найбільші посівні площі в Україні:
- А. Соняшник.
 Б. Ріпак.
 В. Цукровий буряк.
 Г. Льон-довгунець.
- 16 А Б В Г
17. Вкажіть, чому частка виплавки і 90 % споживання кольорових металів припадає на розвинуті країни:
- А. Значні запаси руд кольорових металів.
 Б. Лоаяльне екологічне законодавство.
 В. Наявність енергетичних потужностей і значні потреби розвинутого машинобудування.
 Г. Зниження потреб і металомісткості виробів у країнах, що розвиваються.
- 17 А Б В Г
18. Вкажіть причину, яка пояснює збільшення питомої ваги країн третього світу в хімічному виробництві:
- А. Наявність потужного енергетичного потенціалу.
 Б. Значні масштаби сировинних ресурсів.
 В. Загострення екологічних проблем і застосування більш жорстких екологічних санкцій у розвинутих країнах.
 Г. Збільшення в структурі хімічної промисловості частки виробництв, що переробляють сировину.
- 18 А Б В Г
19. Вкажіть перелік мінеральних ресурсів, за яким Франція посідає провідне місце серед країн Європи:
- А. Нафта, газ, вугілля.
 Б. Фосфорити, апатити, сірка.
 В. Мідні та поліметалеві руди.
 Г. Залізні руди, боксити, калійні солі, уран.
- 19 А Б В Г
20. Укажіть варіант, у якому правильно вказано експортні товари Італії та торговельні партнери:
- А. Нафта, газ, вугілля; партнери – Росія, країни СНД.
 Б. Електротехніка, електроніка, роботи; партнери – країни ЄС.
 В. Вантажні автомобілі, автобуси, ракетокосмічне обладнання; партнери – США, Канада, Латинська Америка.
 Г. Сталь, автомобілі, судна, побутова електроніка; партнери – країни ЄС, США, Японія.
- 20 А Б В Г

II. Завдання на визначення відповідності

У завданнях 21–25 до кожного із завдань, позначених цифрою, доберіть правильну відповідь, позначену буквою. Потім відповідність цифр і букв перенесіть у бланк відповідей.

21. Визначте відповідність між паралелями на карті та значеннями їхньої широти:

- | | |
|---------------------------|----------------------|
| 1. Північне Полярне коло. | A. 23° пд. ш. |
| 2. Південний тропік. | B. 66° пн. ш. |
| 3. Південне Полярне коло. | B. 23° пн. ш. |
| 4. Північний тропік. | Г. 66° пд. ш. |
| | Д. 90° пн. ш. |

21	A	B	B	Г	Д
1					
2					
3					
4					

22. Визначте відповідність між річками і басейнами, до яких вони належать:

- | | |
|------------|--|
| 1. Ельба. | A. Внутрішнього стоку. |
| 2. Меконг. | B. Північного Льодовитого океану. |
| 3. Волга. | B. Тихого океану. |
| 4. Ганг. | Г. Атлантичного океану. |
| | Д. Індійського океану. |

22	A	B	B	Г	Д
1					
2					
3					
4					

23. Визначте відповідність між типами озер за походженням і назвами водних об'єктів України:

- | | |
|-----------------|------------------------|
| 1. Заплавне. | A. Сасик. |
| 2. Карстове. | B. Світязь. |
| 3. Льодовикове. | B. Бребенескул. |
| 4. Вулканічне. | Г. Липовецьке. |
| | Д. Ялпуг. |

23	A	B	B	Г	Д
1					
2					
3					
4					

24. Вкажіть відповідність між промисловими центрами й економічними районами України:

- | | |
|--------------------------------------|-----------------------------|
| 1. Рубіжне, Харцизьк. | A. Придніпровський. |
| 2. Дрогобич, Калуш. | B. Карпатський. |
| 3. Тернопіль, Кам'янець-Подільський. | B. Донецький. |
| 4. Дніпродзержинськ, Мелітополь. | Г. Подільський. |
| | Д. Причорноморський. |

24	A	B	B	Г	Д
1					
2					
3					
4					

25. Вкажіть відповідність між експортно-імпортними операціями та країнами, для яких вони характерні:

- | | |
|--------------------------|----------------------------|
| 1. Реекспорт чаю. | A. Кот-д'Івуар. |
| 2. Експорт зеленого чаю. | B. Індія. |
| 3. Експорт кави. | B. Китай. |
| 4. Експорт какао. | Г. Бразилія. |
| | Д. Велика Британія. |

25	A	B	B	Г	Д
1					
2					
3					
4					



III. Завдання на визначення правильної послідовності

У завданнях 26–30 розташуйте в логічній послідовності явища, об'єкти, процеси і т. д. Потім послідовність розташування букв перенесіть у бланк відповідей.

26. Розташуйте послідовно столиці країн зі сходу на захід:

- А. Париж.
- Б. Улан-Батор.
- В. Тегеран.
- Г. Токіо.

26	А	Б	В	Г
1				
2				
3				
4				

27. Розташуйте із заходу на схід річки Євразії:

- А. Єнісей.
- Б. Волга.
- В. Дунай.
- Г. Лена.

27	А	Б	В	Г
1				
2				
3				
4				

28. Розташуйте види підстильної поверхні в порядку зменшення величини її альбедо:

- А. Сніг.
- Б. Ліс.
- В. Чорнозем.
- Г. Степ.

28	А	Б	В	Г
1				
2				
3				
4				

29. Розташуйте назви кольорових металів у порядку зменшення їх запасів в Україні:

- А. Нікель.
- Б. Алюміній.
- В. Титан.
- Г. Цинк.

29	А	Б	В	Г
1				
2				
3				
4				

30. Визначте правильну послідовність процесів взаємодії природи і суспільства, що призводять до екологічних проблем:

- А. Забруднення навколишнього середовища.
- Б. Освоєння нових територій.
- В. Збільшення обсягів видобутку ресурсів.
- Г. Повернення відходів виробництва у навколишнє середовище.

30	А	Б	В	Г
1				
2				
3				
4				

IV. Завдання відкритого типу

Завдання 31–34* передбачають розгорнуту відповідь на поставлені запитання з відповідним записом у бланку відповідей.

- 31. Дайте коротку характеристику обробної промисловості ФРН.
- 32. Охарактеризуйте географію несприятливих погодно-кліматичних явищ в Україні.
- 33. Розкрийте роль української транспортної системи в здійсненні міжнародних перевезень.
- 34*. Що таке депресивні регіони? Проаналізуйте рівні депресивності різних регіонів України.

V. Завдання на контурній карті

Завдання 35 має картографічний характер і передбачає нанесення на карту інформації відповідно до завдання та розробку легенди карти (записи на карті й легенда подаються тим самим кольором ручки, яким виконується все тестове завдання).

35. Позначте на контурній карті монархічні держави Європи.



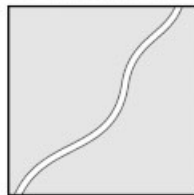
Варіант 18

I. Завдання з вибором однієї правильної відповіді

1. Вкажіть, коли розпочалась перша навколосвітня подорож:
- А. 1920 р.
Б. 1492 р.
В. 1519 р.
Г. 1111 р.
2. Визначте, яку широту має Північний полюс:
- А. 90° пд. ш.
Б. 0° пн. ш.
В. 90° пн. ш.
Г. 80° пн. ш.
3. Укажіть, які хвилі утворюються в океані під впливом сили тяжіння Місяця:
- А. Цунамі.
Б. Штормові.
В. Припливні.
Г. Прибійні.
4. Виберіть правильне визначення поняття «озеро»:
- А. Заповнені водою западини суходолу, що зв'язані протоками з морем і океаном.
Б. Заповнені водою западини суходолу, що не зв'язані протоками з морем, океаном.
В. Мілководна частина моря, океану, затоки.
Г. Заповнені водою западини суходолу, що періодично висихають.
5. Зазначте, який природоохоронний об'єкт розташований не в Африці:
- А. Серенгеті.
Б. Нгоронгоро.
В. Ігуасу.
Г. Кагера.
6. Вкажіть дослідника, ім'я якого не пов'язане з відкриттям Австралії:
- А. Віллем Янсзон.
Б. Абел Тасман.
В. Джеймс Кук.
Г. Давід Лівінгстон.
7. Вкажіть, яка річка має басейн, площа якого дорівнює площі Австралії:
- А. Амазонка.
Б. Ніл.
В. Міссісіпі.
Г. Меконг.
8. Оберіть групу тварин, що мешкають в Австралії:
- А. Кенгуру, нанду, капібара.
Б. Тапір, броненосець, ему.
В. Єхидна, качкодзьоб, динго.
Г. Колібрі, піраньї, пекарі.
9. Вкажіть тектонічну структуру, яка лежить в основі Придніпровської низовини:
- А. Причорноморська западина.
Б. Дніпровсько-Донецька западина.
В. Український щит.
Г. Волино-Подільська плита.

10. Виберіть із запропонованих назв ту, яка відповідає даному умовному знаку:

- А. Польова дорога.
- Б. Автомобільна дорога без покриття.
- В. Автомобільна дорога з покриттям.
- Г. Залізниця одноколійна.



10 А Б В Г

--	--	--	--

11. Зазначте, яку форму рельєфу позначено на карті:



- А. Донецький кряж.
- Б. Придніпровська низовина.
- В. Середньоросійська височина.
- Г. Придніпровська височина.

11 А Б В Г

--	--	--	--

12. З'ясуйте, які ґрунти характерні для півдня лісостепу і півночі степу в Україні:

- А. Підзолисті.
- Б. Сірі лісові.
- В. Чорноземи.
- Г. Каштанові.

12 А Б В Г

--	--	--	--

13. Оберіть групу країн – членів НАТО, з якими Україна має суходільний кордон:

- А. Польща, Словаччина, Угорщина, Румунія.
- Б. Німеччина, Чехія, Хорватія, Словенія.
- В. Естонія, Латвія, Литва, Норвегія.
- Г. Болгарія, Греція, Албанія, Туреччина.

13 А Б В Г

--	--	--	--

14. Оберіть термін, який відповідає визначенню «розподіл населення на території»:

- А. Агломерація.
- Б. Урбанізація.
- В. Розселення.
- Г. Густота населення.

14 А Б В Г

--	--	--	--

15. Вкажіть у переліку область України, у якій видобувають найбільші обсяги природного газу:

- А. Івано-Франківська.
- Б. Чернігівська.
- В. Харківська.
- Г. Львівська.

15 А Б В Г

--	--	--	--

16. Вкажіть, на які культури припадає основна частка в структурі посівних площ України:

- А. Зернові.
- Б. Технічні.
- В. Овочеві.
- Г. Баштанні.

16 А Б В Г

--	--	--	--



17. Вкажіть регіон світу, де в релігійному складі переважають християни:

- А. Африка.
 Б. Америка.
 В. Південно-Західна Азія.
 Г. Східна Азія.

17 А Б В Г

18. Вкажіть ознаку, що характеризує сільське господарство в епоху НТР:

- А. У сільському господарстві розвинутих країн переважають галузі рослинництва, а тваринництво має допоміжний характер.
 Б. У сільському господарстві розвинутих країн зайнято більше 2/3 економічно активного населення.
 В. У сільському господарстві розвинутих країн переважають галузі тваринництва інтенсивного характеру.
 Г. Общинне землеволодіння країн, що розвиваються, є основою для розвитку сучасного плантаційного господарства.

18 А Б В Г

19. Оберіть варіант, у якому правильно охарактеризовано особливості розвитку та географію енергетики Франції:

- А. Більша частка електроенергії виробляється на ГЕС, розташованих на півдні країни.
 Б. Більша частка електроенергії виробляється на ТЕС, що споруджені в районах найбільших агломерацій країни.
 В. Більша частка електроенергії виробляється на АЕС, які розміщені на узбережжі Ла-Маншу і долинах Рони і Луари.
 Г. Більша частка електроенергії виробляється на електростанціях, що працюють на нетрадиційних джерелах і розміщені на півночі і півдні країни.

19 А Б В Г

20. Вкажіть причину низької частки наукоємних галузей промисловості в структурі господарства Італії:

- А. Значна державна власність і висока монополізація промислового виробництва, відсутність відомих у світі університетів.
 Б. Залежність енергетики і обробної промисловості від імпортової сировини.
 В. Значні територіальні відмінності, які характерні для господарського комплексу країни.
 Г. Низький рівень забезпечення галузей промисловості електроенергією, пов'язаний з дефіцитом енергоносіїв.

20 А Б В Г

II. Завдання на визначення відповідності

У завданнях 21–25 до кожного із завдань, позначених цифрою, доберіть правильну відповідь, позначену буквою. Потім відповідність цифр і букв перенесіть у бланк відповідей.

21. Знайдіть відповідність між точками на карті та їхніми координатами:

- | | |
|---------------------|-------------------------|
| 1. Екватор. | А. 90° пн. ш. |
| 2. Північний полюс. | Б. 90° пд. ш. |
| 3. Південний полюс. | В. 51° пн.ш.; 31° сх.д. |
| 4. Місто Київ. | Г. 0° ш. |
| | Д. 31° пн.ш.; 51° сх.д. |

21 А Б В Г Д

1	<input type="checkbox"/>	<input type="checkbox"/>	<input type="checkbox"/>	<input type="checkbox"/>
2	<input type="checkbox"/>	<input type="checkbox"/>	<input type="checkbox"/>	<input type="checkbox"/>
3	<input type="checkbox"/>	<input type="checkbox"/>	<input type="checkbox"/>	<input type="checkbox"/>
4	<input type="checkbox"/>	<input type="checkbox"/>	<input type="checkbox"/>	<input type="checkbox"/>

22. Визначте відповідність між океанами та їхніми характерними рисами.

1. Північний Льодовитий.
2. Індійський.
3. Атлантичний.
4. Тихий.
 - А. Розташований найглибший океанічний жолоб.
 - Б. До басейну океану належить найсолоніше море світу.
 - В. Розташований Бермудський трикутник.
 - Г. Зовсім немає океанічних хребтів.
 - Д. Посідає друге місце за кількістю островів.

22	А	Б	В	Г	Д
1					
2					
3					
4					

23. Визначте відповідність між типами озер за походженням улоговини і запропонованими прикладами:

1. Лиманне.
2. Заплавне.
3. Загатне.
4. Вулканічне.
 - А. Синевир.
 - Б. Кагул.
 - В. Світязь.
 - Г. Синє.
 - Д. Сасик.

23	А	Б	В	Г	Д
1					
2					
3					
4					

24. Визначте відповідність між економічними районами й адміністративними областями України:

1. Подільський.
2. Північно-Східний.
3. Донецький.
4. Центральний.
 - А. Волинська, Рівненська.
 - Б. Донецька, Луганська.
 - В. Кіровоградська, Черкаська.
 - Г. Сумська, Харківська.
 - Д. Вінницька, Тернопільська, Хмельницька.

24	А	Б	В	Г	Д
1					
2					
3					
4					

25. Визначте відповідність між регіонами світу та особливостями землеволодіння, характером сільського господарства та спеціалізацією рослинництва:

1. Північна Америка (США).
2. Південна Америка (Бразилія).
3. Східна Азія (Китай).
4. Центральна Африка (Чад).
 - А. Общинне землеволодіння; споживацький характер виробництва; просо, сорго, бавовна.
 - Б. Фермерське господарювання; ринкова орієнтація виробництва; пшениця, кукурудза.
 - В. Латифундистське землеволодіння; плантаційне експортоорієнтоване виробництво; кава, какао, цукрова тростина.
 - Г. Парцелярне землеволодіння (менше 1 га на людину); ринкова і споживацька орієнтація виробництва; рис, гаолян, рапс, соя.
 - Д. Державна власність; споживацький характер виробництва; банани, ананаси, батат, ямс.

25	А	Б	В	Г	Д
1					
2					
3					
4					



III. Завдання на визначення правильної послідовності

У завданнях 26–30 розташуйте в логічній послідовності явища, об'єкти, процеси і т. д. Потім послідовність розташування букв перенесіть у бланк відповідей.

26. Розмістіть послідовно шари атмосфери, починаючи від поверхні Землі:

А. Стратосфера.
Б. Тропосфера.
В. Мезосфера.
Г. Іоносфера.

26	А	Б	В	Г
1				
2				
3				
4				

27. Розташуйте із заходу на схід озера Євразії:

А. Каспійське море.
Б. Байкал.
В. Балхаш.
Г. Мертве море.

27	А	Б	В	Г
1				
2				
3				
4				

28. Визначте послідовність зміни висотних поясів Українських Карпат, починаючи від їх підніжжя:

А. Буково-смерекові ліси.
Б. Криволісся та ялівці.
В. Полонини.
Г. Дубово-букові ліси.

28	А	Б	В	Г
1				
2				
3				
4				

29. Розташуйте галузі господарства України у порядку зменшення зайнятих у них працівників:

А. Охорона здоров'я.
Б. Промисловість.
В. Сільське господарство.
Г. Фінансовий сектор.

29	А	Б	В	Г
1				
2				
3				
4				

30. Вкажіть хронологічну послідовність розширення Європейського Союзу на прикладі запропонованого переліку країн:

А. Франція, Бельгія, Нідерланди, Ірландія.
Б. Румунія, Болгарія.
В. Фінляндія, Швеція.
Г. Словаччина, Польща, Угорщина.

30	А	Б	В	Г
1				
2				
3				
4				

IV. Завдання відкритого типу

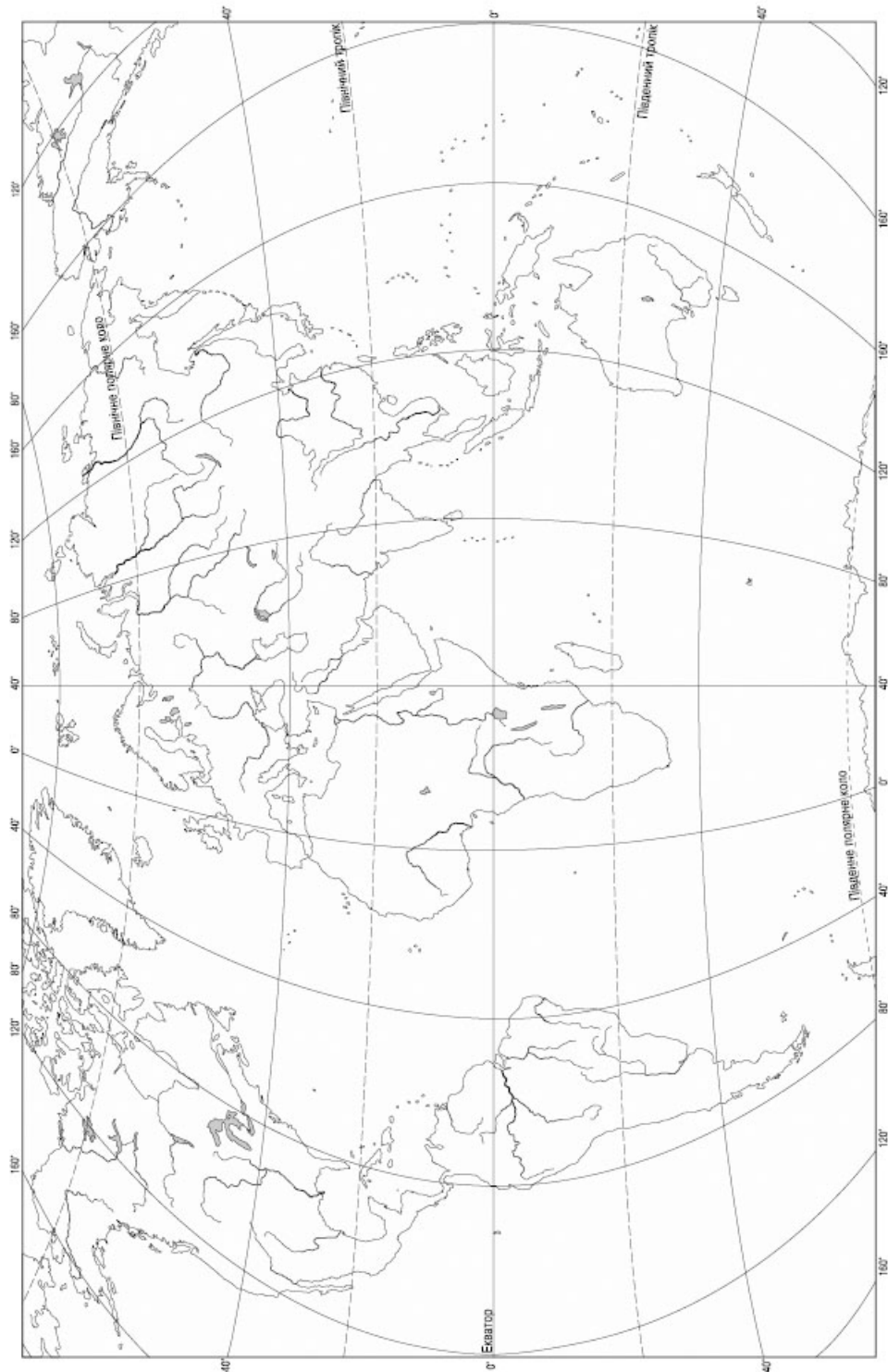
Завдання 31–34* передбачають розгорнуту відповідь на поставлені запитання з відповідним записом у бланку відповідей.

31. Назвіть галузі промисловості Франції, які спираються на використання власних природних ресурсів.
32. Спрогнозуйте зміни клімату в Криму за відсутності Кримських гір.
33. Зазначте причини територіальних відмінностей у рівнях урбанізації в різних регіонах України.
- 34*. Розкрийте сутність поняття «міжнародні відносини». Наведіть приклади глобальних і регіональних міжнародних відносин.

V. Завдання на контурній карті

Завдання 35 має картографічний характер і передбачає нанесення на карту інформації відповідно до завдання та розробку легенди карти (записи на карті та легенда подаються тим самим кольором ручки, яким виконується все тестове завдання).

35. Позначте на контурній карті світу річки: Ніл, Амазонка, Міссісіпі, Конго, Нігер, Маккензі, Мурей, Волга, Дунай, Дніпро.



Варіант 19

I. Завдання з вибором однієї правильної відповіді

1. Визначте, для створення якої карти використовують пряму азимутальну проекцію:
- А. Карта України.
Б. Карта Євразії.
В. Карта Антарктиди.
Г. Карта півкуль.
2. Укажіть, яка протока єднає два океани:
- А. Гібралтарська.
Б. Магелланова.
В. Босфор.
Г. Керченська.
3. Визначте, яку форму має планета Земля:
- А. Сфероїд.
Б. Еліпсоїд.
В. Куля.
Г. Геоїд.
4. Зазначте, від якої лінії починають відлік географічної широти:
- А. Початкового меридіана.
Б. Тропіків.
В. Екватора.
Г. 180° меридіана.
5. Вкажіть, які народи, що населяють Африку, належать до європеїдної раси:
- А. Нілоти.
Б. Бербери.
В. Пігмеї.
Г. Малагасійці.
6. Оберіть твердження, яке не стосується материка Австралія:
- А. Більша частина материка розташована в тропічному кліматичному поясі.
Б. Своєрідність рослинності і тваринного світу пояснюється пізнім відкриттям материка.
В. Тасманове море омиває Австралію зі сходу.
Г. В Австралії немає діючих вулканів.
7. Вкажіть, у якій гірській системі розташований так званий мідний пояс, у якому зосереджено 20 % світових запасів міді:
- А. Анди.
Б. Кордильєри.
В. Великий Вододільний хребет.
Г. Атлас.
8. Виберіть варіант, де правильно вказані об'єкти, що стосуються материка Південна Америка:
- А. Маракайбо, сельва, нанду.
Б. Гуанако, Ігуасу, кріки.
В. Тигри, льянос, Анхель.
Г. Ваді, Амазонка, пампа.

1 А Б В Г

--	--	--	--

2 А Б В Г

--	--	--	--

3 А Б В Г

--	--	--	--

4 А Б В Г

--	--	--	--

5 А Б В Г

--	--	--	--

6 А Б В Г

--	--	--	--

7 А Б В Г

--	--	--	--

8 А Б В Г

--	--	--	--

9. Виберіть умовний знак, яким позначають родовища нафти і газу:

- А.  Б. 
 В.  Г. 

9 А Б В Г

10. Вкажіть, яку форму рельєфу позначено на карті:



- А. Подільська височина.
 Б. Придніпровська низовина.
 В. Придніпровська височина.
 Г. Причорноморська низовина.

10 А Б В Г

11. Виберіть тип ґрунтів, які охоплюють найбільші площі в Україні:

- А. Каштанові.
 Б. Дерново-підзолисті.
 В. Сірі лісові.
 Г. Чорноземи.

11 А Б В Г

12. Зазначте, який заповідник не є біосферним:

- А. Асканія-Нова.
 Б. Поліський.
 В. Карпатський.
 Г. Дунайський.

12 А Б В Г

13. Вкажіть, скільки кілометрів становить відстань між крайніми західною і східною точками України:

- А. 893 км.
 Б. 960 км.
 В. 1316 км.
 Г. 1050 км.

13 А Б В Г

14. Вкажіть, яку частку від усього населення України становлять українці:

- А. Близько 73 %.
 Б. Близько 92 %.
 В. Близько 22 %.
 Г. Близько 67 %.

14 А Б В Г

15. Вкажіть найпотужніший металургійний комбінат України:

- А. «Арселор Міттал Кривий Ріг».
 Б. «Запоріжсталь».
 В. «Азовсталь».
 Г. Металургійний комбінат ім. Ілліча.

15 А Б В Г





16. Зазначте, як називається і де розташоване найбільше у світі родовище каолінів:
- А. Просянівське (Дніпропетровська обл.).
 - Б. Калущ-Голинське (Івано-Франківська обл.).
 - В. Клесівське (Рівненська обл.).
 - Г. Немирівське (Львівська обл.).
17. Оберіть групу країн світу, де переважає чоловіче населення:
- А. Росія, Україна, Білорусь.
 - Б. Італія, Іспанія, Велика Британія.
 - В. Китай, Індія, Іран.
 - Г. Бразилія, США, Канада.
18. Вкажіть основну рису географії землеробства світу:
- А. Основні райони землеробства світу пов'язані з землеволодіннями місцевих феодалів у країнах Азії і Африки.
 - Б. Основні райони землеробства світу збігаються з нечорноземною зоною Росії.
 - В. Основні райони землеробства світу збігаються з районами тропічного клімату і мають інтенсивний характер.
 - Г. Райони землеробства збігаються з основними ареалами орних земель і багаторічних насаджень.
19. Вкажіть риси, які характеризують процес «деіндустріалізації» у Великій Британії:
- А. Збільшення частки вугільної, металургійної промисловості.
 - Б. Збільшення частки виробництва традиційного обладнання, суднобудування.
 - В. Збільшення частки високотехнологічних галузей (аерокосмічної, волоконно-оптичної, електронної).
 - Г. Зменшення частки виробництва пластмас, синтетичних волокон та фармацевтичних товарів.
20. Вкажіть правильний рядок, який характеризує взаємозв'язок галузі, чинника розміщення та району розвитку:
- А. Автомобілебудування – потужна сировинна база – Штутгарт, Вольфсбург – ФРН.
 - Б. Важке машинобудування – потужна база конструкційних матеріалів – Північний Схід і Приозер'я США.
 - В. Електротехніка – потужна наукова база – Ланкашир, Мідленд – Велика Британія.
 - Г. Авіаракетокосмічна – потужна наукова база – промислова зона нижнього Рейну – ФРН.

II. Завдання на визначення відповідності

У завданнях 21–25 до кожного із завдань, позначених цифрою, доберіть правильну відповідь, позначену буквою. Потім відповідність цифр і букв перенесіть у бланк відповідей.

21. Вкажіть відповідність між географічними відкриттями та мандрівниками:

1. Досліджував Австралію, Нову Зеландію, моря Антарктики.
2. Упродовж 32 років досліджував Африку.
3. Очолив першу навколосвітню подорож.
4. Першим досяг Північного полюсу.

- А. Фернан Магеллан.
- Б. Джеймс Кук.
- В. Роберт Пірі.
- Г. Давид Лівінгстон.
- Д. Руаль Амундсен.

21	А	Б	В	Г	Д
1					
2					
3					
4					

22. Вкажіть відповідність між озерами та їхніми характеристиками:

1. Каспійське море.
2. Байкал.
3. Мертве море.
4. Аральське море.
 - А. Найсолоніше озеро світу.
 - Б. Озеро льодовикового походження.
 - В. Найглибше озеро світу.
 - Г. Озеро реліктового походження, частина дна якого перетворилася на соляну пустелю.
 - Д. Найбільше озеро в світі.

22	А	Б	В	Г	Д
1	<input type="checkbox"/>	<input type="checkbox"/>	<input type="checkbox"/>	<input type="checkbox"/>	<input type="checkbox"/>
2	<input type="checkbox"/>	<input type="checkbox"/>	<input type="checkbox"/>	<input type="checkbox"/>	<input type="checkbox"/>
3	<input type="checkbox"/>	<input type="checkbox"/>	<input type="checkbox"/>	<input type="checkbox"/>	<input type="checkbox"/>
4	<input type="checkbox"/>	<input type="checkbox"/>	<input type="checkbox"/>	<input type="checkbox"/>	<input type="checkbox"/>

23. Визначте відповідність між типами ґрунтів і регіонами їхнього поширення:

1. Дерново-підзолисті.
 2. Опідзолені чорноземи.
 3. Звичайні чорноземи.
 4. Коричневі гірські.
- А. Карпати.
 - Б. Кримські гори.
 - В. Полісся.
 - Г. Лісостеп.
 - Д. Степ.

23	А	Б	В	Г	Д
1	<input type="checkbox"/>	<input type="checkbox"/>	<input type="checkbox"/>	<input type="checkbox"/>	<input type="checkbox"/>
2	<input type="checkbox"/>	<input type="checkbox"/>	<input type="checkbox"/>	<input type="checkbox"/>	<input type="checkbox"/>
3	<input type="checkbox"/>	<input type="checkbox"/>	<input type="checkbox"/>	<input type="checkbox"/>	<input type="checkbox"/>
4	<input type="checkbox"/>	<input type="checkbox"/>	<input type="checkbox"/>	<input type="checkbox"/>	<input type="checkbox"/>

24. Вкажіть відповідність між типами електростанцій та їхніми назвами:

1. Атомна.
 2. Теплова.
 3. Гідравлічна.
 4. Вітрова.
- А. Донузлавська.
 - Б. Бурштинська.
 - В. Хмельницька.
 - Г. Дністровська.
 - Д. Кримська.

24	А	Б	В	Г	Д
1	<input type="checkbox"/>	<input type="checkbox"/>	<input type="checkbox"/>	<input type="checkbox"/>	<input type="checkbox"/>
2	<input type="checkbox"/>	<input type="checkbox"/>	<input type="checkbox"/>	<input type="checkbox"/>	<input type="checkbox"/>
3	<input type="checkbox"/>	<input type="checkbox"/>	<input type="checkbox"/>	<input type="checkbox"/>	<input type="checkbox"/>
4	<input type="checkbox"/>	<input type="checkbox"/>	<input type="checkbox"/>	<input type="checkbox"/>	<input type="checkbox"/>

25. Встановіть відповідність між характерними особливостями та видами транспортної системи світу.

1. Наймолодший вид транспорту, має високу собівартість перевезень, займає останнє місце за показником вантажообігу.
2. Найдавніший вид, має низьку собівартість перевезень, лідирує за показником вантажообігу та дальністю перевезень.
3. Порівняно молодий, найдешевший для доставки вантажів, які ним транспортуються, екологічно безпечний при відсутності аварійних ситуацій.
4. "Транспорт ХХ століття", лідер за показником протяжності шляхів, забезпечує половину шкідливих викидів в атмосферу.
 - А. Залізничний.
 - Б. Автомобільний.
 - В. Морський.
 - Г. Повітряний.
 - Д. Трубопровідний.

25	А	Б	В	Г	Д
1	<input type="checkbox"/>	<input type="checkbox"/>	<input type="checkbox"/>	<input type="checkbox"/>	<input type="checkbox"/>
2	<input type="checkbox"/>	<input type="checkbox"/>	<input type="checkbox"/>	<input type="checkbox"/>	<input type="checkbox"/>
3	<input type="checkbox"/>	<input type="checkbox"/>	<input type="checkbox"/>	<input type="checkbox"/>	<input type="checkbox"/>
4	<input type="checkbox"/>	<input type="checkbox"/>	<input type="checkbox"/>	<input type="checkbox"/>	<input type="checkbox"/>



III. Завдання на визначення правильної послідовності

У завданнях 26–30 розташуйте в логічній послідовності явища, об'єкти, процеси і т.д. Потім послідовність розташування букв перенесіть у бланк відповідей.

26. Розташуйте послідовно кліматичні пояси Землі, починаючи з півночі:

А. Екваторіальний.
Б. Помірні.
В. Полярні.
Г. Тропічні.

26	А	Б	В	Г
1				
2				
3				
4				

27. Розташуйте послідовно із заходу на схід форми рельєфу материка Євразія:

А. Гори Альпи.
Б. Середньосибірське плоскогір'я.
В. Східноєвропейська рівнина.
Г. Гори Карпати.

27	А	Б	В	Г
1				
2				
3				
4				

28. Розташуйте послідовно області України вздовж кордону з Росією з півдня на північ:

А. Харківська.
Б. Донецька.
В. Луганська.
Г. Сумська.

28	А	Б	В	Г
1				
2				
3				
4				

29. Визначте послідовність розташування центрів нафтопереробки в Україні зі сходу на захід:

А. Кременчук.
Б. Херсон.
В. Дрогобич.
Г. Лисичанськ.

29	А	Б	В	Г
1				
2				
3				
4				

30. Визначте правильну послідовність міжнародних організацій за кількістю країн-членів, починаючи від найбільшої:

А. СНД
Б. ООН
В. ЄС
Г. НАФТА

30	А	Б	В	Г
1				
2				
3				
4				

IV. Завдання відкритого типу

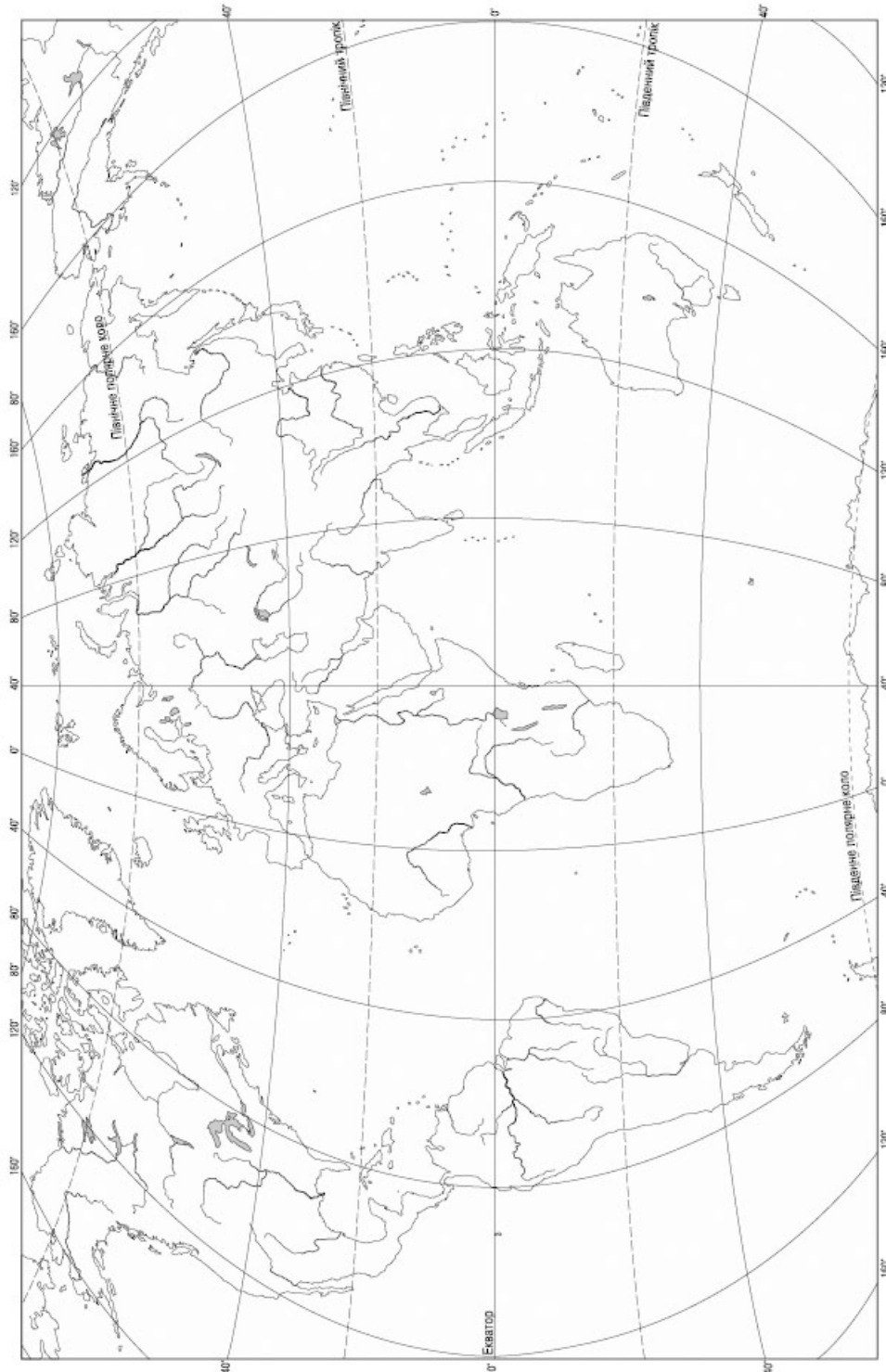
Завдання 31–34* передбачають розгорнуту відповідь на поставлені запитання з відповідним записом у бланку відповіді.

31. Охарактеризуйте зовнішньоекономічні зв'язки Великої Британії.
32. Назвіть і охарактеризуйте основні генетичні форми рельєфу України.
33. Дайте характеристику текстильної промисловості України, поясніть чинники розміщення основних центрів.
34*. Розкрийте суть поняття «географічні інформсистеми». Наведіть приклади можливого застосування ГІС.

V. Завдання на контурній карті

Завдання 35 має картографічний характер і передбачає нанесення на карту інформації відповідно до завдання та розробку легенди карти (записи на карті й легенда подаються тим самим кольором ручки, яким виконується все тестове завдання).

35. Позначте на контурній карті світу гори: Анди, Кордильєри, Гімалаї, Кавказькі, Уральські, Атлас, Карпати, Альпи, Алтай, Аппалачі.



Варіант 20

I. Завдання з вибором однієї правильної відповіді

1. Зазначте, що таке масштаб карти:
- А. Математичний спосіб зображення поверхні земної кулі.
 - Б. Номенклатура топографічної карти.
 - В. Число, що показує, у скільки разів відстань на карті менша за відстань на місцевості.
 - Г. Число, що показує, у скільки разів відстань на карті більша за відстань на місцевості.
2. Зазначте, який напрямок показують меридіани:
- А. Схід – Захід.
 - Б. Північ – Захід.
 - В. Південь – Схід.
 - Г. Північ – Південь.
3. Зазначте, як називається найнижчий рівень води у річці:
- А. Межень.
 - Б. Паводок.
 - В. Повінь.
 - Г. Штиль.
4. Вкажіть, яке озеро на Землі є найсолонішим:
- А. Каспійське море.
 - Б. Балхаш.
 - В. Мертве море.
 - Г. Аральське море.
5. Вкажіть, як називаються тимчасові пересихаючі водотоки або безводні річища в Австралії:
- А. Кріки.
 - Б. Ваді.
 - В. Останці.
 - Г. Сельва.
6. Вкажіть, які вітри дмуть від полюса до країв материка Антарктида:
- А. Стокові.
 - Б. Мусони.
 - В. Бризи.
 - Г. Пасати.
7. Вкажіть, на якому з материків розташовувалась міфічна країна Ельдорадо:
- А. Африка.
 - Б. Австралія.
 - В. Євразія.
 - Г. Південна Америка.
8. Визначте, який кліматичний пояс не має суцільного поширення на материк Євразія:
- А. Тропічний.
 - Б. Помірний.
 - В. Субарктичний.
 - Г. Субтропічний.

1 А Б В Г

--	--	--	--

2 А Б В Г

--	--	--	--

3 А Б В Г

--	--	--	--

4 А Б В Г

--	--	--	--

5 А Б В Г

--	--	--	--

6 А Б В Г

--	--	--	--

7 А Б В Г

--	--	--	--

8 А Б В Г

--	--	--	--

9. Вкажіть тектонічну структуру, яка лежить в основі Середньоросійської височини:

- А. Дніпровсько-Донецька западина.
- Б. Донецька складчаста споруда.
- В. Український щит.
- Г. Воронезький кристалічний масив.

9 А Б В Г

--	--	--	--

10. Вкажіть, яку форму рельєфу позначено на карті штрихуванням:



- А. Донецький кряж.
- Б. Приазовська височина.
- В. Причорноморська низовина.
- Г. Придніпровська низовина.

10 А Б В Г

--	--	--	--

11. Виберіть тип земель, які мають найбільшу частку в структурі земельного фонду України:

- А. Землі лісового і водного фондів.
- Б. Землі житлової та промислової забудови.
- В. Землі сільськогосподарського призначення.
- Г. Землі природно-заповідного фонду та рекреаційного призначення.

11 А Б В Г

--	--	--	--

12. Визначте, який тип рослинності поширений у Степовому Криму:

- А. Типчаково-ковилова.
- Б. Лучно-степова.
- В. Лучно-болотна.
- Г. Чагарникова.

12 А Б В Г

--	--	--	--

13. Оберіть поняття, що відповідає визначенню «предметом вивчення економічної та соціальної географії України є»:

- А. Природні умови й ресурси України.
- Б. Особливості розміщення населення і господарство України.
- В. Рельєф і клімат України.
- Г. Корисні копалини й геологічна будова території України.

13 А Б В Г

--	--	--	--

14. Вкажіть область України, яка має спільний кордон з чотирма країнами:

- А. Чернівецька.
- Б. Закарпатська.
- В. Волинська.
- Г. Чернігівська.

14 А Б В Г

--	--	--	--





15. Оберіть правильне визначення поняття «валовий внутрішній продукт»:

- А. Сукупна вартість товарів і послуг, вироблених і реалізованих протягом року в країні, у т. ч. іноземними корпораціями, контрольованими громадянами держави.
- Б. Сукупність усіх доходів, що формується в країні в результаті розвитку господарства.
- В. Сукупність ресурсів і можливостей науки, що дають змогу ефективно вирішувати господарські питання.
- Г. Сукупна вартість товарів і послуг, вироблених і реалізованих громадянами і фірмами протягом року в країні та за кордоном, не враховуючи дохід іноземних громадян і фірм, представлених у країні.

15 А Б В Г

16. Оберіть з переліку групу рудних корисних копалин:

- А. Магнетит, ільменіт, хроміт.
- Б. Вугілля, нафта, торф.
- В. Горючі сланці, природний газ, вогнетриви.
- Г. Галіт, сірка, гіпс.

16 А Б В Г

17. Виберіть правильну відповідь, що характеризує особливості розвитку машинобудування в епоху НТР:

- А. Характерна висока залежність від сировинних баз.
- Б. Характерна незначна участь у територіальному і міжнародному поділі праці
- В. Характерне збільшення обсягів наукових досліджень і зростання виробництва в наукоємних галузях.
- Г. Характерний вузький асортимент продукції і нескладна галузева структура.

17 А Б В Г

18. Вкажіть чинник, що впливає на розміщення кольорової металургії Великої Британії:

- А. Дешева електроенергія – промислові центри Мідленда і Ланкшира.
- Б. Кваліфіковані кадри – промислові «парки» Брістоля, Кембріджа.
- В. Власна сировина – найбільші агломерації – Бірмінгем, Манчестер.
- Г. Довізна сировина – порти – Шотландія.

18 А Б В Г

19. Вкажіть варіант, що правильно характеризує особливості спеціалізації та експорту продукції гірничорудної промисловості країн Африки:

- А. Ліберія, Мавританія – залізні руди.
- Б. Нігер, Габон – золото.
- В. ПАР, Замбія, ДРК – нафта.
- Г. Алжир, Нігерія, Лівія – уран.

19 А Б В Г

20. Вкажіть правильний рядок, що характеризує особливості спеціалізації Тихоокеанського Північного Заходу США:

- А. На район припадає третина виробництва авіакосмічної техніки, четверта частина американського озброєння, 2/3 вирощування овочів і фруктів.
- Б. Основні галузі господарства – туристичний бізнес і тропічне землеробство.
- В. Традиційні галузі господарства – пасовищне скотарство, оазисне землеробство, видобуток руд і виплавка кольорових металів.
- Г. Основні галузі господарства – лісозаготівля, деревообробка, гідроенергетика, енергоємні виробництва; важливий регіон розвитку авіакосмічної промисловості.

20 А Б В Г

II. Завдання на визначення відповідності

У завданнях 21–25 до кожного із завдань, позначених цифрою, доберіть правильну відповідь, позначену буквою. Потім відповідність цифр і букв перенесіть у бланк відповідей.

21. Знайдіть відповідність між географічними відкриттями та мандрівниками:

- Відкрив Південний полюс.
- Відкрив морський шлях до Індії.
- Відкрив Америку.
- Вивчав життя і побут жителів островів Індонезії та Мікронезії.
 - Христофор Колумб.
 - Руаль Амундсен.
 - Микола Миклухо-Маклай.
 - Васко да Гама.
 - Джеймс Кук.

21	А	Б	В	Г	Д
1					
2					
3					
4					

22. Вкажіть відповідність між назвами природних зон і представниками органічного світу Євразії:

- Вологі екваторіальні ліси.
- Лісостеп і Степ.
- Арктичні пустелі.
- Пустелі помірного поясу.
 - Песець, білий ведмідь, тюлені.
 - Джейран, варан, двогорбий верблюд; саксаул.
 - Ховрах, тушканчик; типчак, чебрець.
 - Евкالیпт, акація; східна, коала.
 - Орхідеї, ліани; тигри, леопарди.

22	А	Б	В	Г	Д
1					
2					
3					
4					

23. Визначте відповідність між природними заповідниками і природними регіонами (або ландшафтними комплексами), у межах яких вони розташовані:

- Горгани.
- Луганський.
- Канівський.
- Рівненський.
- Степ.
- Українські Карпати.
- Лісостеп.
- Мішані та широколисті ліси.
- Кримські гори.

23	А	Б	В	Г	Д
1					
2					
3					
4					

24. Визначте відповідність між провідними автовиробниками та центрами їх виробничих потужностей в Україні:

- «Автокар».
- «Автозас».
- «ЛАЗ».
- «КрАЗ».
- Донецьк.
- Запоріжжя.
- Кременчук.
- Львів.
- Ужгород.

24	А	Б	В	Г	Д
1					
2					
3					
4					

25. Визначте відповідність між назвами спеціалізованих сільськогосподарських поясів США та назвами регіонів і штатів:

- Молочний пояс.
- Бавовняний пояс.
- Пшеничний пояс.
- Пояс пасовищного м'ясного скотарства.
 - Великі рівнини (Північна і Південна Дакота, Небраска, Канзас).
 - Приозер'я (Міннесота, Вісконсін).
 - Гірські штати, Техас, Арканзас.
 - Південний схід США (Алабама, Міссісіпі).
 - Центральні рівнини (Айова).

25	А	Б	В	Г	Д
1					
2					
3					
4					



III. Завдання на визначення правильної послідовності

У завданнях 26–30 розташуйте в логічній послідовності явища, об'єкти, процеси і т. д. Потім послідовність розташування букв перенесіть у бланк відповідей.

26. Розташуйте послідовно природні зони Землі, починаючи з півночі:

А. Тайга.
Б. Степ.
В. Тундра.
Г. Савани.

26	А	Б	В	Г
1				
2				
3				
4				

27. Розташуйте послідовно із заходу на схід типи клімату помірного поясу материка Євразія:

А. Континентальний.
Б. Морський.
В. Мусонний.
Г. Помірно континентальний.

27	А	Б	В	Г
1				
2				
3				
4				

28. Розташуйте послідовно області, починаючи від географічного центру України:

А. Житомирська.
Б. Черкаська.
В. Київська.
Г. Рівненська.

28	А	Б	В	Г
1				
2				
3				
4				

29. Розташуйте послідовно чинники, що впливають на розміщення авіабудування і ракетокосмічної галузі в порядку зменшення їхньої значимості:

А. Наявність паливної бази.
Б. Наявність металургійної бази.
В. Наявність наукової бази.
Г. Наявність кваліфікованих кадрів.

29	А	Б	В	Г
1				
2				
3				
4				

30. Вкажіть правильну хронологічну послідовність формування політичної карти на прикладі утворення окремих держав (починаючи від найдавнішої):

А. Російська імперія.
Б. Югославія.
В. Вавилонія.
Г. Словаччина.

30	А	Б	В	Г
1				
2				
3				
4				

IV. Завдання відкритого типу

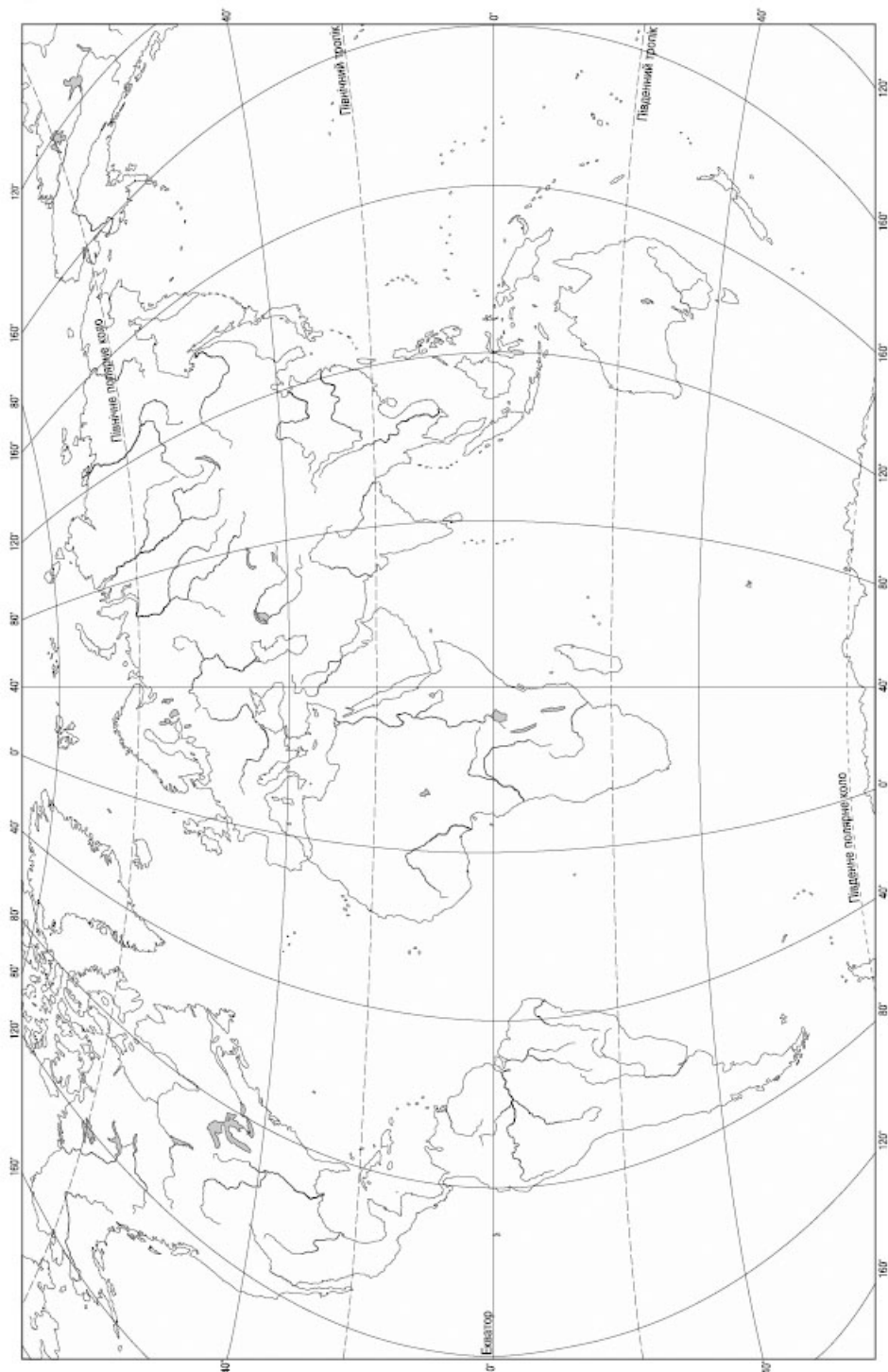
Завдання 31–34* передбачають розгорнуту відповідь на поставлені запитання з відповідним записом у бланку відповідей.

31. Дайте коротку характеристику природно-ресурсного потенціалу країн Латинської Америки.
32. Які наслідки для екосистеми матиме підвищення солоності вод Азовського моря?
33. Охарактеризуйте чорну металургію України.
- 34*. Як ви розумієте термін «сталій розвиток». Оцініть роль географії у забезпеченні сталого розвитку.

V. Завдання на контурній карті

Завдання 35 має картографічний характер і передбачає нанесення на карту інформації відповідно до завдання та розробку легенди карти (записи на карті й легенда подаються тим самим кольором ручки, яким виконується все тестове завдання).

35. Позначте на контурній карті світу протоки: Магелланову, Дрейка, Босфор, Берингову, Гібралтарську, Ла-Манш, Мозамбіцьку; затоки: Бенгальську, Біскайську, Перську, Мексиканську, Гудзонову, Велику Австралійську, Гвінейську.





РОБОТА
на державну підсумкову атестацію

З _____
назва предмета

за курс старшої школи

учня (учениці) _____ класу

_____ *назва навчального закладу*

_____ *прізвище, ім'я, по батькові в родовому відмінку*

Варіант № _____

Увага! Позначаєте тільки один варіант відповіді в рядку варіантів відповідей до кожного завдання. Будь-які виправлення в бланку недопустимі.

У завданнях 1–20 правильну відповідь позначаєте тільки так:

	А	Б	В	Г		А	Б	В	Г		А	Б	В	Г		А	Б	В	Г
1	<input type="checkbox"/>	<input type="checkbox"/>	<input type="checkbox"/>	<input type="checkbox"/>	6	<input type="checkbox"/>	<input type="checkbox"/>	<input type="checkbox"/>	<input type="checkbox"/>	11	<input type="checkbox"/>	<input type="checkbox"/>	<input type="checkbox"/>	<input type="checkbox"/>	16	<input type="checkbox"/>	<input type="checkbox"/>	<input type="checkbox"/>	<input type="checkbox"/>
2	<input type="checkbox"/>	<input type="checkbox"/>	<input type="checkbox"/>	<input type="checkbox"/>	7	<input type="checkbox"/>	<input type="checkbox"/>	<input type="checkbox"/>	<input type="checkbox"/>	12	<input type="checkbox"/>	<input type="checkbox"/>	<input type="checkbox"/>	<input type="checkbox"/>	17	<input type="checkbox"/>	<input type="checkbox"/>	<input type="checkbox"/>	<input type="checkbox"/>
3	<input type="checkbox"/>	<input type="checkbox"/>	<input type="checkbox"/>	<input type="checkbox"/>	8	<input type="checkbox"/>	<input type="checkbox"/>	<input type="checkbox"/>	<input type="checkbox"/>	13	<input type="checkbox"/>	<input type="checkbox"/>	<input type="checkbox"/>	<input type="checkbox"/>	18	<input type="checkbox"/>	<input type="checkbox"/>	<input type="checkbox"/>	<input type="checkbox"/>
4	<input type="checkbox"/>	<input type="checkbox"/>	<input type="checkbox"/>	<input type="checkbox"/>	9	<input type="checkbox"/>	<input type="checkbox"/>	<input type="checkbox"/>	<input type="checkbox"/>	14	<input type="checkbox"/>	<input type="checkbox"/>	<input type="checkbox"/>	<input type="checkbox"/>	19	<input type="checkbox"/>	<input type="checkbox"/>	<input type="checkbox"/>	<input type="checkbox"/>
5	<input type="checkbox"/>	<input type="checkbox"/>	<input type="checkbox"/>	<input type="checkbox"/>	10	<input type="checkbox"/>	<input type="checkbox"/>	<input type="checkbox"/>	<input type="checkbox"/>	15	<input type="checkbox"/>	<input type="checkbox"/>	<input type="checkbox"/>	<input type="checkbox"/>	20	<input type="checkbox"/>	<input type="checkbox"/>	<input type="checkbox"/>	<input type="checkbox"/>

У завданнях 21–30 правильну відповідь позначаєте так: навпроти відповідних літери і цифри.

	А	Б	В	Г	Д		А	Б	В	Г	Д		А	Б	В	Г	Д
21	1	<input type="checkbox"/>	<input type="checkbox"/>	<input type="checkbox"/>	<input type="checkbox"/>	22	1	<input type="checkbox"/>	<input type="checkbox"/>	<input type="checkbox"/>	<input type="checkbox"/>	23	1	<input type="checkbox"/>	<input type="checkbox"/>	<input type="checkbox"/>	<input type="checkbox"/>
	2	<input type="checkbox"/>	<input type="checkbox"/>	<input type="checkbox"/>	<input type="checkbox"/>		2	<input type="checkbox"/>	<input type="checkbox"/>	<input type="checkbox"/>	<input type="checkbox"/>		2	<input type="checkbox"/>	<input type="checkbox"/>	<input type="checkbox"/>	<input type="checkbox"/>
	3	<input type="checkbox"/>	<input type="checkbox"/>	<input type="checkbox"/>	<input type="checkbox"/>		3	<input type="checkbox"/>	<input type="checkbox"/>	<input type="checkbox"/>	<input type="checkbox"/>		3	<input type="checkbox"/>	<input type="checkbox"/>	<input type="checkbox"/>	<input type="checkbox"/>
	4	<input type="checkbox"/>	<input type="checkbox"/>	<input type="checkbox"/>	<input type="checkbox"/>		4	<input type="checkbox"/>	<input type="checkbox"/>	<input type="checkbox"/>	<input type="checkbox"/>		4	<input type="checkbox"/>	<input type="checkbox"/>	<input type="checkbox"/>	<input type="checkbox"/>
24	1	<input type="checkbox"/>	<input type="checkbox"/>	<input type="checkbox"/>	<input type="checkbox"/>	25	1	<input type="checkbox"/>	<input type="checkbox"/>	<input type="checkbox"/>	<input type="checkbox"/>	26	1	<input type="checkbox"/>	<input type="checkbox"/>	<input type="checkbox"/>	<input type="checkbox"/>
	2	<input type="checkbox"/>	<input type="checkbox"/>	<input type="checkbox"/>	<input type="checkbox"/>		2	<input type="checkbox"/>	<input type="checkbox"/>	<input type="checkbox"/>	<input type="checkbox"/>		2	<input type="checkbox"/>	<input type="checkbox"/>	<input type="checkbox"/>	<input type="checkbox"/>
	3	<input type="checkbox"/>	<input type="checkbox"/>	<input type="checkbox"/>	<input type="checkbox"/>		3	<input type="checkbox"/>	<input type="checkbox"/>	<input type="checkbox"/>	<input type="checkbox"/>		3	<input type="checkbox"/>	<input type="checkbox"/>	<input type="checkbox"/>	<input type="checkbox"/>
	4	<input type="checkbox"/>	<input type="checkbox"/>	<input type="checkbox"/>	<input type="checkbox"/>		4	<input type="checkbox"/>	<input type="checkbox"/>	<input type="checkbox"/>	<input type="checkbox"/>		4	<input type="checkbox"/>	<input type="checkbox"/>	<input type="checkbox"/>	<input type="checkbox"/>
27	1	<input type="checkbox"/>	<input type="checkbox"/>	<input type="checkbox"/>	<input type="checkbox"/>	28	1	<input type="checkbox"/>	<input type="checkbox"/>	<input type="checkbox"/>	<input type="checkbox"/>	29	1	<input type="checkbox"/>	<input type="checkbox"/>	<input type="checkbox"/>	<input type="checkbox"/>
	2	<input type="checkbox"/>	<input type="checkbox"/>	<input type="checkbox"/>	<input type="checkbox"/>		2	<input type="checkbox"/>	<input type="checkbox"/>	<input type="checkbox"/>	<input type="checkbox"/>		2	<input type="checkbox"/>	<input type="checkbox"/>	<input type="checkbox"/>	<input type="checkbox"/>
	3	<input type="checkbox"/>	<input type="checkbox"/>	<input type="checkbox"/>	<input type="checkbox"/>		3	<input type="checkbox"/>	<input type="checkbox"/>	<input type="checkbox"/>	<input type="checkbox"/>		3	<input type="checkbox"/>	<input type="checkbox"/>	<input type="checkbox"/>	<input type="checkbox"/>
	4	<input type="checkbox"/>	<input type="checkbox"/>	<input type="checkbox"/>	<input type="checkbox"/>		4	<input type="checkbox"/>	<input type="checkbox"/>	<input type="checkbox"/>	<input type="checkbox"/>		4	<input type="checkbox"/>	<input type="checkbox"/>	<input type="checkbox"/>	<input type="checkbox"/>

Завдання 31–34* виконуйте на окремому аркуші паперу.

Завдання 35 виконуйте на контурній карті.

Щоб виправити відповідь до завдання, запишіть його номер у білих прямокутниках ліворуч.

Завдання 1–20					Завдання 21–25					Завдання 26–30							
Номер завдання		А	Б	В	Г	Номер завдання		А	Б	В	Г	Номер завдання		А	Б	В	Г
<input type="text"/>	<input type="text"/>	<input type="text"/>	<input type="text"/>	<input type="text"/>	<input type="text"/>	<input type="text"/>	<input type="text"/>	<input type="text"/>	<input type="text"/>	<input type="text"/>	<input type="text"/>	<input type="text"/>	<input type="text"/>	<input type="text"/>	<input type="text"/>	<input type="text"/>	<input type="text"/>
<input type="text"/>	<input type="text"/>	<input type="text"/>	<input type="text"/>	<input type="text"/>	<input type="text"/>	<input type="text"/>	<input type="text"/>	<input type="text"/>	<input type="text"/>	<input type="text"/>	<input type="text"/>	<input type="text"/>	<input type="text"/>	<input type="text"/>	<input type="text"/>	<input type="text"/>	<input type="text"/>
<input type="text"/>	<input type="text"/>	<input type="text"/>	<input type="text"/>	<input type="text"/>	<input type="text"/>	<input type="text"/>	<input type="text"/>	<input type="text"/>	<input type="text"/>	<input type="text"/>	<input type="text"/>	<input type="text"/>	<input type="text"/>	<input type="text"/>	<input type="text"/>	<input type="text"/>	<input type="text"/>

Тестові завдання 1–30	<input type="text"/>	Теоретичні завдання 31–34*	<input type="text"/>
Завдання на контурній карті 35			
Сума балів		<input type="text"/>	Оцінка
Голова комісії:		<input type="text"/>	<input type="text"/>
		(підпис)	(прізвище, ініціали)
Члени комісії:		<input type="text"/>	<input type="text"/>
		<input type="text"/>	<input type="text"/>



ЗМІСТ

Пояснювальна записка	3
Варіант 1	5
Варіант 2	11
Варіант 3	17
Варіант 4	23
Варіант 5	29
Варіант 6	35
Варіант 7	41
Варіант 8	47
Варіант 9	53
Варіант 10	59
Варіант 11	65
Варіант 12	71
Варіант 13	77
Варіант 14	83
Варіант 15	89
Варіант 16	95
Варіант 17	101
Варіант 18	107
Варіант 19	113
Варіант 20	119
Бланк відповіді	125