

Р.В. Гладковський, А.І. Довгань, Л.Б. Паламарчук, В.В. Сovenко

ЗБІРНИК ЗАВДАНЬ

для державної підсумкової атестації
з географії

*Рекомендовано Міністерством освіти і науки,
молоді та спорту України*

2-ге видання, доопрацьоване

9

клас

Київ
Центр навчально-методичної літератури
2012



ПОЯСНЮВАЛЬНА ЗАПИСКА

Збірник завдань для державної підсумкової атестації з географії охоплює зміст навчальної програми шкільного курсу «Географія України». Основна мета посібника – забезпечити об'єктивне оцінювання навчальних досягнень дев'ятикласників під час проведення державної підсумкової атестації з географії в основній школі за допомогою різнорівневих завдань.

До збірника входить 30 варіантів атестаційних робіт. Кожен варіант налічує 30 тестових завдань різних типів і рівнів складності, зокрема з вибором однієї правильної відповіді, на визначення відповідності та на визначення правильної послідовності. Крім тестових завдань, кожен варіант містить одне завдання на контурній карті та 3 завдання відкритого типу, одне з яких (під номером 33) має підвищений рівень складності (позначене зірочкою) і призначене лише для класів з поглибленим вивченням географії. Відповідно учні цих класів не виконують завдання відкритого типу під номером 32.

Під час виконання атестаційної роботи не дозволяється користуватися атласами та іншими джерелами картографічних знань.

Отже, кожен варіант атестаційної роботи складається з 33 завдань; на його виконання відводиться 90 хвилин.

• **Тестові завдання з вибором однієї правильної відповіді** (20 завдань у кожному варіанті; завдання 1–20) використовують для оцінювання знань географічних понять, термінів, умінь працювати з джерелами інформації, умінь виділяти головне. У завданнях такого типу пропонується чотири можливі варіанти відповідей, з яких правильною є лише одна. Завдання вважається виконаним правильно, якщо в бланку відповідей позначено тільки одну відповідь. Якщо позначено два або більше варіанти відповідей, навіть якщо серед них є правильний, або не позначено відповіді взагалі, завдання вважається виконаним неправильно.

Приклад завдання з вибором однієї правильної відповіді:

Вкажіть основний зональний тип ґрунтів степової зони України:

- А.** Бурі лісові. **В.** Дерново-підзолисті.
Б. Чорноземи. **Г.** Болотні.

| | | | | |
|---|---|---|---|---|
| 1 | А | Б | В | Г |
| | | X | | |

Правильна відповідь:

Правильна відповідь на кожне таке завдання оцінюється 0,5 бала.

• **Тестові завдання на визначення відповідності** (п'ять завдань у кожному варіанті; завдання 21–25) використовують для оцінювання умінь визначати за описом приналежність географічного об'єкта до певного регіону, явищ і процесів – до певної геосфери, групи населення, галузей господарства тощо. Завдання такого типу передбачає вибір взаємопов'язаних понять, явищ, процесів і визначення логічних зв'язків між ними. Якщо в бланку відповідей записано всі правильні комбінації цифр і літер, завдання оцінюється 1 балом. Відповідно за одну правильно визначену відповідність – 0,25 бала, за дві – 0,5 бала, за три – 0,75 бала.

Приклад тестового завдання на визначення відповідності:

Знайдіть відповідність між тектонічними структурами та формами рельєфу, які з ними пов'язані:

- Волино-Подільська плита.
- Український щит.
- Донецька складчаста споруда.
- Закарпатська западина.
 - Приазовська височина.
 - Закарпатська низовина.
 - Причорноморська низовина.
 - Волинська височина.
 - Донецький кряж.

| | | | | | |
|---|---|---|---|---|---|
| 2 | А | Б | В | Г | Д |
| 1 | | | | X | |
| 2 | X | | | | |
| 3 | | | | | X |
| 4 | | X | | | |

Правильна відповідь:

• **Тестові завдання на визначення правильної послідовності** (п'ять завдань у кожному варіанті; завдання 26–30) використовують для оцінювання умінь визначати правильну послідовність дій, алгоритмів діяльності, технологічних прийомів, а також хронологічну послідовність. Виконуючи завдання такого типу, потрібно розташувати географічні об'єкти, події, природні та суспільні процеси і явища в правильній часовій або просторовій послідовності й

записати цю послідовність у бланк відповідей. Такі завдання вважають виконаними правильно, якщо в бланку відповідей записані всі правильні комбінації цифр і літер.

Приклад тестового завдання на визначення правильної послідовності:

Розташуйте найвищі точки рівнинної частини України в порядку зростання їхніх висот:

- А.** Берда.
- Б.** Камула.
- В.** Бельмак-Могила.
- Г.** Могила-Мечетна.

| | | | | | |
|---|-------------------------------------|-------------------------------------|-------------------------------------|-------------------------------------|--------------------------|
| 3 | | А | Б | В | Г |
| 1 | <input type="checkbox"/> | <input type="checkbox"/> | <input checked="" type="checkbox"/> | <input type="checkbox"/> | <input type="checkbox"/> |
| 2 | <input type="checkbox"/> | <input type="checkbox"/> | <input type="checkbox"/> | <input checked="" type="checkbox"/> | <input type="checkbox"/> |
| 3 | <input type="checkbox"/> | <input checked="" type="checkbox"/> | <input type="checkbox"/> | <input type="checkbox"/> | <input type="checkbox"/> |
| 4 | <input checked="" type="checkbox"/> | <input type="checkbox"/> | <input type="checkbox"/> | <input type="checkbox"/> | <input type="checkbox"/> |

Правильна відповідь:

За правильно встановлену послідовність максимальна оцінка – 1 бал. Послідовно розташовані 2 об'єкти чи поняття – 0,5 бала. Послідовність повністю порушена – 0 балів.

Серед тестових завдань є завдання на контурній карті, що розміщена поруч. Потрібно вибрати правильну відповідь, тільки уважно розглянувши контурну карту. Контурна карта стане в пригоді також під час виконання завдань на визначення правильної послідовності розташування географічних об'єктів, які потребують застосування просторової уяви.

Передбачені також завдання, у яких для пошуку правильної відповіді треба виконати певні математичні розрахунки. У такому разі для обчислень слід використати чернетку.

• *Завдання відкритого типу* налічують у кожному варіанті три завдання (завдання 31–33), з яких одне завдання (під номером 33) має підвищений рівень складності і позначене зірочкою. Відповідь на кожне з теоретичних завдань має бути вичерпною, послідовною, логічною. Максимальна кількість балів за кожну відповідь – 5. *Завдання підвищеної складності* (під номером 33) виконують тільки ті учні, які навчаються в класах з поглибленим вивченням географії. Відповідно такі учні не виконують завдання відкритого типу під номером 32. Завдання підвищеної складності оцінюються 5 балами. Отже, за всі правильні відповіді на завдання відкритого типу можна отримати загальну кількість балів – 10.

• *Завдання на контурній карті* передбачає нанесення на карту інформації відповідно до завдання та розробку легенди карти. Записи на карті й легенда подаються тим самим кольором ручки, яким виконується все тестове завдання. Правильно виконане завдання на контурній карті також оцінюється 5 балами. При цьому враховується правильність виконання (відповідність завданню), точність нанесення географічних об'єктів, картографічна грамотність, повнота, охайність, акуратність виконання. У деяких випадках можна скористатися чернеткою, якщо легенда карти буде складною.

Пропоновані завдання кожного варіанта орієнтовані на перевірку рівня досягнень учнів за 12-бальною шкалою оцінювання навчальних досягнень. Будь-який бал, що набрав учень, є позитивним, тобто оцінювання ґрунтується на принципі позитивізму. Максимально можливий бал за правильно виконаний варіант атестаційної роботи становить 35 балів. Оцінка учня залежить від кількості правильних відповідей на тестові завдання та якості виконання теоретичних завдань і завдання на контурній карті.

Пропонуємо набрані бали переводити в оцінки, користуючись такою таблицею:

Відповідність отриманих балів оцінкам за 12-бальною шкалою

| | | | | | | | | | | | | |
|--------|-----|-----|------|-------|-------|-------|-------|-------|-------|-------|-------|----|
| Бали | 1–4 | 5–8 | 9–12 | 13–15 | 16–18 | 19–21 | 22–24 | 25–27 | 28–30 | 31–32 | 33–34 | 35 |
| Оцінка | 1 | 2 | 3 | 4 | 5 | 6 | 7 | 8 | 9 | 10 | 11 | 12 |

Для проведення державної підсумкової атестації вчитель має підготувати для кожного учня окремий варіант завдань цього збірника.

Для відповіді на тестові завдання наводимо зразок бланка відповідей, а також контурну карту, які вчитель може скопіювати в необхідній кількості. Тестовий зошит також містить зразок листка для відповідей на теоретичні запитання.

Матеріали збірника вчитель може використовувати також для підготовки до державної підсумкової атестації дев'ятикласників і під час проведення поточного оцінювання. Учні можуть використовувати матеріали збірника під час підготовки до уроків і державної підсумкової атестації.

Варіант 1

I. Завдання з вибором однієї правильної відповіді

1. Оберіть поняття, що відповідає визначенню «час, однаковий на всіх точках певного меридіана»:

А. Поясний. В. Літній.
Б. Декретний. Г. Місцевий.

1 А Б В Г
□ □ □ □

2. Вкажіть, з якою державою Україна межує на сході:

А. Польща. В. Росія.
Б. Литва. Г. Туреччина.

2 А Б В Г
□ □ □ □

3. Вкажіть, хто відкрив 1721 р. в Донбасі родовище кам'яного вугілля:

А. Пліній Старший. В. Василь Докучаєв.
Б. Григорій Капустін. Г. Клавдій Птоломей.

3 А Б В Г
□ □ □ □

4. Визначте масштаб глобуса, якщо на ньому Україна займає площу близько 6,7 см²:

А. 1 : 30 000 000. В. 1 : 80 000 000.
Б. 1 : 50 000 000. Г. 1 : 10 000 000.

4 А Б В Г
□ □ □ □

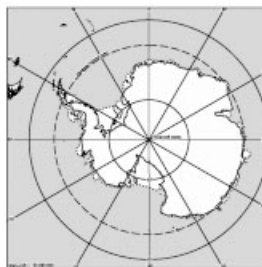
5. Оберіть тектонічну структуру, частиною якої є Український кристалічний щит:

А. Причорноморська западина.
Б. Східноєвропейська платформа.
В. Альпійський складчастий пояс.
Г. Скіфська платформа.

5 А Б В Г
□ □ □ □

6. Визначте за фрагментом карти назву проєкції, у якій зображено земну поверхню:

А. Циліндрична.
Б. Конічна.
В. Азимутальна.
Г. Поліконічна.



6 А Б В Г
□ □ □ □

7. Оберіть варіант, у якому перелічено міста України, що стали відомими курортами завдяки їхнім рекреаційним ресурсам:

А. Київ, Харків, Одеса.
Б. Донецьк, Львів, Запоріжжя.
В. Суми, Чернігів, Тернопіль.
Г. Миргород, Солотвино, Хмельник.

7 А Б В Г
□ □ □ □

8. Вкажіть, якою цифрою на картосхемі позначено область з найбільшою густиною населення:

А. 1.
Б. 2.
В. 3.
Г. 4.



8 А Б В Г
□ □ □ □

9. Оберіть варіант, у якому вказано адміністративні області України, що всі межують одна з одною:

- А. Полтавська, Донецька, Луганська.
- Б. Дніпропетровська, Запорізька, Одеська.
- В. Кіровоградська, Вінницька, Черкаська.
- Г. Миколаївська, Київська, Хмельницька.

9 А Б В Г

| | | | |
|--|--|--|--|
| | | | |
|--|--|--|--|

10. Визначте правильний варіант ланцюга «галузь – підприємство – головний чинник розміщення підприємства»:

- А. Гірничовидобувна промисловість – сталеплавильна – наука.
- Б. Лісова промисловість – виробництво меблів – споживач.
- В. Харчова промисловість – виробництво сиру – кваліфіковані кадри.
- Г. Сільське господарство – виробництво зерна – енергетичні ресурси.

10 А Б В Г

| | | | |
|--|--|--|--|
| | | | |
|--|--|--|--|

11. Вкажіть правильне поєднання економічного району з його спеціалізацією:

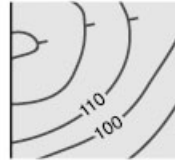
- А. Подільський – добування паливних корисних копалин.
- Б. Донецький – вирощування зернових.
- В. Придніпровський – чорна металургія.
- Г. Столичний – кольорова металургія.

11 А Б В Г

| | | | |
|--|--|--|--|
| | | | |
|--|--|--|--|

12. Зазначте, яку форму рельєфу зображено на малюнку:

- А. Озеро.
- Б. Яр.
- В. Западина.
- Г. Горб.



12 А Б В Г

| | | | |
|--|--|--|--|
| | | | |
|--|--|--|--|

13. З'ясуйте, яким знаком на топографічній карті зображують луки:

- А.
- Б.
- В.
- Г.

13 А Б В Г

| | | | |
|--|--|--|--|
| | | | |
|--|--|--|--|

14. Зазначте країну, з якою Україна має найдовший кордон:

- А. Польща.
- Б. Білорусь.
- В. Росія.
- Г. Румунія.

14 А Б В Г

| | | | |
|--|--|--|--|
| | | | |
|--|--|--|--|

15. Визначте, до якого типу рельєфу відносять лійки, печери, провалля:

- А. Карстовий.
- Б. Еоловий.
- В. Біогенний.
- Г. Антропогенний.

15 А Б В Г

| | | | |
|--|--|--|--|
| | | | |
|--|--|--|--|

16. Вкажіть, яка з річок є другою за довжиною в Україні:

- А. Дніпро.
- Б. Південний Буг.
- В. Дунай.
- Г. Дністер.

16 А Б В Г

| | | | |
|--|--|--|--|
| | | | |
|--|--|--|--|

23. Визначте відповідність між позначеннями корисних копалин та тектонічними структурами України, у межах яких вони залягають:

- 1.
- 2.
- 3.
- 4.

- А. Український щит.
- Б. Донецька складчаста структура.
- В. Дніпровсько-Донецька западина.
- Г. Скіфська плита.
- Д. Передкарпатський прогин.

24. Визначте відповідність між сільськогосподарськими культурами та областями, де їх переважно вирощують:

1. Цукрові буряки.
2. Жито.
3. Виноград.
4. Пшениця.

- А. Чернігівська.
- Б. Донецька.
- В. Вінницька.
- Г. Закарпатська.
- Д. Дніпропетровська.

25. Вкажіть відповідність між галузями машинобудування та їхніми центрами:

1. Автомобілебудування.
2. Літакобудування.
3. Вагонобудування.
4. Суднобудування.

- А. Запоріжжя.
- Б. Миколаїв.
- В. Вінниця.
- Г. Харків.
- Д. Кременчук.

23 А Б В Г Д

| | | | | |
|---|--|--|--|--|
| 1 | | | | |
| 2 | | | | |
| 3 | | | | |
| 4 | | | | |

24 А Б В Г Д

| | | | | |
|---|--|--|--|--|
| 1 | | | | |
| 2 | | | | |
| 3 | | | | |
| 4 | | | | |

25 А Б В Г Д

| | | | | |
|---|--|--|--|--|
| 1 | | | | |
| 2 | | | | |
| 3 | | | | |
| 4 | | | | |

III. Завдання на визначення правильної послідовності

У завданнях 26–30 розташуйте в логічній послідовності явища, об'єкти, процеси і т. д. Потім послідовність розташування букв перенесіть у бланк відповідей.

26. Розташуйте річки послідовно за довжиною у межах України, починаючи з найдовшої:

- А. Південний Буг.
- Б. Дунай.
- В. Дніпро.
- Г. Дністер.

26 А Б В Г

| | | | | |
|---|--|--|--|--|
| 1 | | | | |
| 2 | | | | |
| 3 | | | | |
| 4 | | | | |

27. Розташуйте національні меншини України послідовно в порядку зменшення їх чисельності:

- А. Євреї.
- Б. Росіяни.
- В. Поляки.
- Г. Греки.

27 А Б В Г

| | | | | |
|---|--|--|--|--|
| 1 | | | | |
| 2 | | | | |
| 3 | | | | |
| 4 | | | | |

28. Визначте послідовність розташування низовин України з півночі на південь:

- А. Причорноморська.
- Б. Північнокримська.
- В. Поліська.
- Г. Придніпровська.

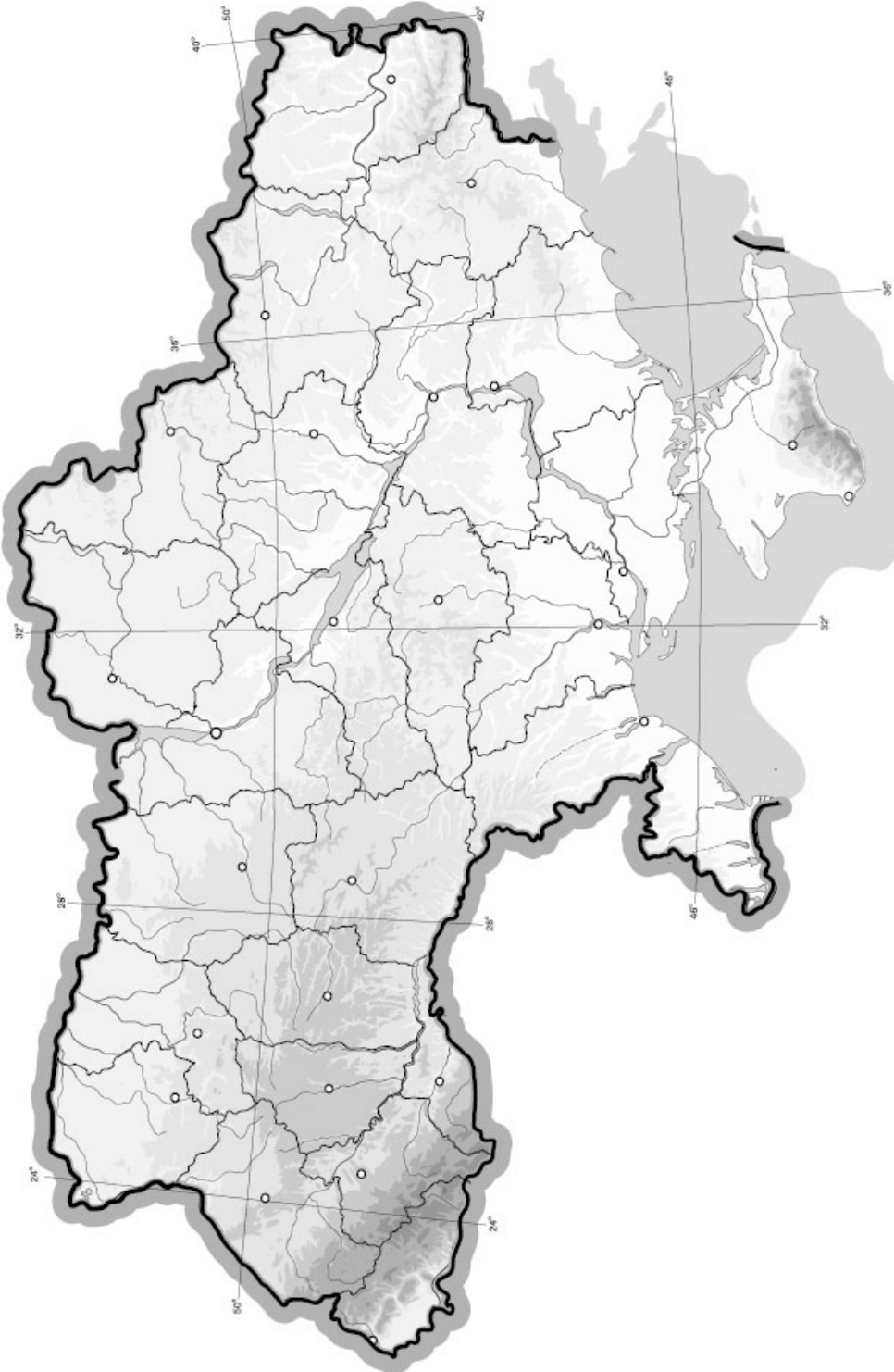
28 А Б В Г

| | | | | |
|---|--|--|--|--|
| 1 | | | | |
| 2 | | | | |
| 3 | | | | |
| 4 | | | | |

V. Завдання на контурній карті

Завдання 34 має картографічний характер і передбачає нанесення на карту інформації відповідно до завдання та розробку легенди карти (записи на карті й легенда подаються тим самим кольором ручки, яким виконується все тестове завдання).

- 34.** Позначте на контурній карті регіони вирощування основних технічних культур в Україні (льон-довгунець, цукровий буряк, соняшник, хміль, льон-кучерявець, лаванда).



Варіант 2

I. Завдання з вибором однієї правильної відповіді

1. Вкажіть площу України:

А. 703,4 тис. км².Б. 487,5 тис. км².В. 560,8 тис. км².Г. 603,7 тис. км².

1 А Б В Г

| | | | |
|--|--|--|--|
| | | | |
|--|--|--|--|

2. Зазначте, хто з дослідників написав книжку «Опис України»:

А. Клавдій Птоломей.

Б. Страбон.

В. Гійом де Боплан.

Г. Пліній Старший.

2 А Б В Г

| | | | |
|--|--|--|--|
| | | | |
|--|--|--|--|

3. Вкажіть основний тип ґрунтів зони мішаних лісів України:

А. Дерново-підзолисті.

Б. Сірі лісові.

В. Чорноземи.

Г. Болотні.

3 А Б В Г

| | | | |
|--|--|--|--|
| | | | |
|--|--|--|--|

4. Визначте, у якому часовому поясі розташована більша частина території України:

А. У першому.

Б. У другому.

В. У третьому.

Г. У четвертому.

4 А Б В Г

| | | | |
|--|--|--|--|
| | | | |
|--|--|--|--|

5. Визначте масштаб топографічної карти, на якій 1 см² дорівнює 25 га на місцевості:

А. 1 : 100 000.

Б. 1 : 10 000.

В. 1 : 25 000.

Г. 1 : 50 000.

5 А Б В Г

| | | | |
|--|--|--|--|
| | | | |
|--|--|--|--|

6. Визначте максимально можливу висоту Сонця над горизонтом опівдні на території України.

А. 63°.

Б. 44°.

В. 52°.

Г. 69°.

6 А Б В Г

| | | | |
|--|--|--|--|
| | | | |
|--|--|--|--|

7. Оберіть групу країн, з якими Україна межує на півночі:

А. Росія, Білорусь.

Б. Молдова, Румунія.

В. Польща, Білорусь.

Г. Росія, Туреччина.

7 А Б В Г

| | | | |
|--|--|--|--|
| | | | |
|--|--|--|--|

8. Вкажіть, якою цифрою на картосхемі позначено область з найменшою часткою сільських мешканців (у %):

А. 1.

Б. 2.

В. 3.

Г. 4.

8 А Б В Г

| | | | |
|--|--|--|--|
| | | | |
|--|--|--|--|



9. Оберіть варіант, у якому вказано адміністративні області України, що межують одна з одною:

- А. Київська, Житомирська, Вінницька.
- Б. Львівська, Тернопільська, Полтавська.
- В. Херсонська, Одеська, Полтавська.
- Г. Рівненська, Волинська, Луганська.

9 А Б В Г

| | | | |
|--|--|--|--|
| | | | |
|--|--|--|--|

10. Вкажіть правильне сполучення економічного району та його спеціалізації:

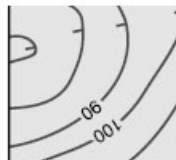
- А. Подільський – енергетика.
- Б. Столичний – чорна металургія.
- В. Причорноморський – курортне господарство.
- Г. Північно-Західний – зернове господарство.

10 А Б В Г

| | | | |
|--|--|--|--|
| | | | |
|--|--|--|--|

11. Зазначте, яку форму рельєфу зображено на малюнку:

- А. Яр.
- Б. Западина.
- В. Озеро.
- Г. Горб.



11 А Б В Г

| | | | |
|--|--|--|--|
| | | | |
|--|--|--|--|

12. Оберіть умовний знак, яким на топографічній карті зображують фруктовий сад:

- А.
- Б.
- В.
- Г.

12 А Б В Г

| | | | |
|--|--|--|--|
| | | | |
|--|--|--|--|

13. Зазначте, якою є протяжність території України зі сходу на захід:

- А. 1974 км.
- Б. 1316 км.
- В. 1111 км.
- Г. 1050 км.

13 А Б В Г

| | | | |
|--|--|--|--|
| | | | |
|--|--|--|--|

14. Виберіть правильне визначення поняття «карта»:

- А. Зменшене, узагальнене, умовно-знакове зображення Землі (інших небесних тіл, небесної сфери), виконане в певному масштабі й певній проекції.
- Б. Зменшене або збільшене зображення Землі за допомогою умовних знаків у якійсь із картографічних проекцій.
- В. Зменшене зображення Землі на папері за допомогою масштабу, умовних знаків, проекцій.
- Г. Зменшене, генералізоване зображення Землі або її ділянки за допомогою умовних знаків.

14 А Б В Г

| | | | |
|--|--|--|--|
| | | | |
|--|--|--|--|

15. Зазначте, до якого типу рельєфу відносять моренні горби, зандрові рівнини, долини стоку талих вод:

- А. Морський.
- Б. Еоловий.
- В. Карстовий.
- Г. Льодовиковий.

15 А Б В Г

| | | | |
|--|--|--|--|
| | | | |
|--|--|--|--|

16. Вкажіть, який з лиманів є найбільшим за площею:

- А. Хаджибейський.
- Б. Куяльницький.
- В. Тилігульський.
- Г. Дністровський.

16 А Б В Г

| | | | |
|--|--|--|--|
| | | | |
|--|--|--|--|



17. Зазначте, яке з перелічених кліматичних явищ є несприятливим для сільського господарства степової частини України:

- А. Гроза.
- Б. Суховії.
- В. Туман.
- Г. Сильні снігопади.

| | | | | |
|----|---|---|---|---|
| 17 | А | Б | В | Г |
| | | | | |

18. Оберіть правильне твердження щодо особливостей клімату України:

- А. На більшій частині території країни переважає західне перенесення повітряних мас.
- Б. Більшість території держави розташована в субтропічному поясі.
- В. Річна кількість опадів зростає із заходу на схід.
- Г. Найбільше опадів випадає взимку.

| | | | | |
|----|---|---|---|---|
| 18 | А | Б | В | Г |
| | | | | |

19. Оберіть представників тваринного світу, характерних для степової природної зони України:

- А. Глухар, бобер.
- Б. Олень, сайгак.
- В. Байбак, куріпка.
- Г. Борсук, лелека чорний.

| | | | | |
|----|---|---|---|---|
| 19 | А | Б | В | Г |
| | | | | |

20. Вкажіть галузь промисловості України, що є найбільшим забруднювачем атмосферного повітря:

- А. Вугільна.
- Б. Теплоелектроенергетика.
- В. Машинобудівна.
- Г. Харчова.

| | | | | |
|----|---|---|---|---|
| 20 | А | Б | В | Г |
| | | | | |

II. Завдання на визначення відповідності

У завданнях 21–25 до кожного із завдань, позначених цифрою, доберіть правильну відповідь, позначену буквою. Потім відповідність цифр і букв перенесіть у бланк відповідей.

21. Вкажіть відповідність між природними об'єктами та областями України, у межах яких вони розташовані:

- 1. Гора Берда.
- 2. Шацький національний природний парк.
- 3. Озеро Синевир.
- 4. Біосферний заповідник Асканія-Нова.
 - А. Волинська.
 - Б. Закарпатська.
 - В. Чернівецька.
 - Г. Одеська.
 - Д. Херсонська.

| | | | | | |
|----|---|---|---|---|---|
| 21 | А | Б | В | Г | Д |
| 1 | | | | | |
| 2 | | | | | |
| 3 | | | | | |
| 4 | | | | | |

22. Вкажіть відповідність між адміністративними одиницями України та назвами їхніх центрів:

- 1. Волинська обл.
- 2. Закарпатська обл.
- 3. АР Крим.
- 4. Хмельницька обл.
 - А. Хмельницький.
 - Б. Луцьк.
 - В. Севастополь.
 - Г. Ужгород.
 - Д. Сімферополь.

| | | | | | |
|----|---|---|---|---|---|
| 22 | А | Б | В | Г | Д |
| 1 | | | | | |
| 2 | | | | | |
| 3 | | | | | |
| 4 | | | | | |

23. Визначте відповідність між географічними чинниками і особливостями клімату України:

1. Географічна широта.
2. Віддаленість від океанів.
3. Рельєф території.
4. Абсолютна висота.
 - А. Зростання континентальності.
 - Б. Робить територію відкритою чи закритою. Створює перепону на шляху повітряних мас.
 - В. Визначає кількість сонячної енергії.
 - Г. Континентальність клімату зменшується.
 - Д. З висотою температура знижується.

| 23 | А | Б | В | Г | Д |
|----|---|---|---|---|---|
| 1 | | | | | |
| 2 | | | | | |
| 3 | | | | | |
| 4 | | | | | |

24. Знайдіть відповідність між назвами транспортних засобів і центрами їх виробництва:

1. Літаки.
2. Автобуси.
3. Вагони.
4. Тепловози.
 - А. Дніпродзержинськ.
 - Б. Львів.
 - В. Київ.
 - Г. Полтава.
 - Д. Луганськ.

| 24 | А | Б | В | Г | Д |
|----|---|---|---|---|---|
| 1 | | | | | |
| 2 | | | | | |
| 3 | | | | | |
| 4 | | | | | |

25. Визначте відповідність між продукцією хімічної промисловості та центрами, у яких її виробляють:

1. Азотні добрива.
2. Фосфорні добрива.
3. Сірчана кислота.
4. Анілінові фарби.
 - А. Одеса.
 - Б. Костянтинівка.
 - В. Лисичанськ.
 - Г. Рубіжне.
 - Д. Київ.

| 25 | А | Б | В | Г | Д |
|----|---|---|---|---|---|
| 1 | | | | | |
| 2 | | | | | |
| 3 | | | | | |
| 4 | | | | | |

III. Завдання на визначення правильної послідовності

У завданнях 26–30 розташуйте в логічній послідовності явища, об'єкти, процеси і т. д. Потім послідовність розташування букв перенесіть у бланк відповідей.

26. Розташуйте притоки Дніпра послідовно за довжиною, починаючи від найкоротшої:

- А. Прип'ять.
- Б. Тетерів.
- В. Рось.
- Г. Десна.

| 26 | А | Б | В | Г |
|----|---|---|---|---|
| 1 | | | | |
| 2 | | | | |
| 3 | | | | |
| 4 | | | | |

27. Розташуйте послідовно країни в порядку збільшення в них чисельності української діаспори:

- А. Молдова.
- Б. Росія.
- В. Білорусь.
- Г. Казахстан.

| 27 | А | Б | В | Г |
|----|---|---|---|---|
| 1 | | | | |
| 2 | | | | |
| 3 | | | | |
| 4 | | | | |



28. Розташуйте послідовно із заходу на схід курорти України:

- А. Бердянськ.
- Б. Трускавець.
- В. Саки.
- Г. Генічеськ.

| 28 | А | Б | В | Г |
|----|---|---|---|---|
| 1 | | | | |
| 2 | | | | |
| 3 | | | | |
| 4 | | | | |

29. Визначте послідовність розташування із заходу на схід фізико-географічних областей Українського Полісся:

- А. Київське Полісся.
- Б. Волинське Полісся.
- В. Чернігівське Полісся.
- Г. Житомирське Полісся.

| 29 | А | Б | В | Г |
|----|---|---|---|---|
| 1 | | | | |
| 2 | | | | |
| 3 | | | | |
| 4 | | | | |

30. Визначте послідовність розташування із заходу на схід центрів машинобудування в Україні:

- А. Київ.
- Б. Харків.
- В. Львів.
- Г. Луцьк.

| 30 | А | Б | В | Г |
|----|---|---|---|---|
| 1 | | | | |
| 2 | | | | |
| 3 | | | | |
| 4 | | | | |

IV. Завдання відкритого типу

Завдання 31–33 передбачають розгорнуту відповідь на поставлені запитання з відповідним записом у бланку відповідей.

- 31. Проаналізуйте особливості розподілу опадів на території України.
- 32. Поясніть закономірності розподілу населення на території України.
- 33*. Які, на вашу думку, галузі сільського господарства слід розвивати в Україні високими темпами для задоволення потреб населення і поліпшення структури харчування?

V. Завдання на контурній карті

Завдання 34 має картографічний характер і передбачає нанесення на карту інформації відповідно до завдання та розробку легенди карти (записи на карті й легенда подаються тим самим кольором ручки, яким виконується все тестове завдання).

34. Позначте на контурній карті України головні ТЕС, ГЕС та АЕС. (По 4 приклади до кожного типу.)



Варіант 3

I. Завдання з вибором однієї правильної відповіді

1. Зазначте, води яких морів омивають територію України:

А. Чорного і Балтійського.
 Б. Азовського і Білого.
 В. Чорного і Азовського.
 Г. Азовського і Середземного.

1 А Б В Г

2. Визначте варіант, де правильно вказано послідовність геологічних ер:

| А | Б | В | Г |
|-----|-----|-----|-----|
| ... | ... | ... | ... |
| KZ | MZ | AR | PZ |
| MZ | PZ | PR | KZ |
| AR | PR | PZ | MZ |
| PZ | AR | MZ | PR |
| ... | ... | ... | ... |

2 А Б В Г

3. Зазначте, у якому творі вперше згадується назва «Україна»:

А. Київський літопис.
 Б. Книга Г. де Воєлана «Опис України».
 В. Праці Гіппократа.
 Г. Описи візантійських та арабських мандрівників.

3 А Б В Г

4. Вкажіть ім'я відомого вченого, який досліджував ґрунти в Україні:

А. Володимир Вернадський. В. Олександр Воейков.
 Б. Василь Докучаєв. Г. Павло Тутковський.

4 А Б В Г

5. Зазначте, яка частка території України припадає на низовини:

А. 50 %.
 Б. 70 %.
 В. 90 %.
 Г. 10 %.

5 А Б В Г

6. Зазначте, з якими країнами Україна межує на південному заході:

А. Угорщина, Польща. В. Молдова, Румунія.
 Б. Болгарія, Молдова. Г. Словаччина, Росія.

6 А Б В Г

7. Визначте, на карті якого масштабу парк охоплюватиме площу 1 см
- ²
- , якщо на іншій карті, масштаб якої 1 : 10 000, він охоплює площу 25 см
- ²
- :

А. 1 : 100 000. В. 1 : 25 000.
 Б. 1 : 50 000. Г. 1 : 250 000.

7 А Б В Г

8. Вкажіть, якою цифрою на картосхемі позначено область з найменшою густотою населення:

А. 1.
 Б. 2.
 В. 3.
 Г. 4.



8 А Б В Г

9. Оберіть варіант, у якому вказано адміністративні області України, що межують одна з одною:

- А. Львівська, Закарпатська, Одеська.
- Б. Херсонська, Миколаївська, Київська.
- В. Рівненська, Волинська, Тернопільська.
- Г. Волинська, Рівненська, Львівська.

9 А Б В Г

| | | | |
|--|--|--|--|
| | | | |
|--|--|--|--|

10. Оберіть правильний варіант ланцюга «галузь – продукція – основний чинник розміщення»:

- А. Хімічна промисловість – мінеральні добрива – споживач.
- Б. Будівельна промисловість – житло – наука.
- В. Харчова промисловість – макарони – кваліфіковані кадри.
- Г. Сільське господарство – розведення овець – наука.

10 А Б В Г

| | | | |
|--|--|--|--|
| | | | |
|--|--|--|--|





11. Вкажіть правильне сполучення економічного району і його спеціалізації:

- А. Столичний – виробництво зерна.
- Б. Північно-Західний – фармацевтична промисловість.
- В. Придніпровський – птахівництво.
- Г. Донецький – паливно-енергетична промисловість.

11 А Б В Г

| | | | |
|--|--|--|--|
| | | | |
|--|--|--|--|

12. Оберіть умовний знак, яким на топографічній карті зображують зрубаний ліс:

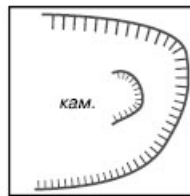
- А. 
- Б. 
- В. 
- Г. 

12 А Б В Г

| | | | |
|--|--|--|--|
| | | | |
|--|--|--|--|

13. Вкажіть, що позначають на топографічній карті таким умовним знаком:

- А. Озеро.
- Б. Западина.
- В. Кар'єр.
- Г. Яр.



13 А Б В Г

| | | | |
|--|--|--|--|
| | | | |
|--|--|--|--|

14. Вкажіть крайню східну точку України:

- А. с. Мілове Луганської обл.
- Б. с. Червона Зірка Луганської обл.
- В. м. Свердловськ Луганської обл.
- Г. с. Бірюкове Луганської обл.

14 А Б В Г

| | | | |
|--|--|--|--|
| | | | |
|--|--|--|--|

15. Зазначте, під впливом яких чинників сформувався сучасний рельєф України:

- А. Ендогенних і екзогенних.
- Б. Льодовиків і води.
- В. Вітру і води.
- Г. Вулканізму і гравітації.

15 А Б В Г

| | | | |
|--|--|--|--|
| | | | |
|--|--|--|--|

16. Оберіть пару населених пунктів України, які є містами загальнодержавного підпорядкування:

- А. Київ і Сімферополь.
- Б. Харків і Львів.
- В. Сімферополь і Севастополь.
- Г. Севастополь і Київ.

16 А Б В Г

| | | | |
|--|--|--|--|
| | | | |
|--|--|--|--|



17. Зазначте, у якому кліматичному поясі розташована більша частина території України:
- А. Арктичний.
Б. Субарктичний.
В. Помірний.
Г. Субтропічний.
18. Зазначте, які ґрунти є типовими на Поліссі:
- А. Чорноземи.
Б. Сірі лісові.
В. Дерново-підзолисті.
Г. Бурі лісові.
19. Визначте економічний район, для якого характерним є переважання машинобудування і металообробки, хімічної, паливної, лісової та деревообробної, легкої, харчової промисловості та багатофункціонального сільського господарства:
- А. Карпатський.
Б. Причорноморський.
В. Донецький.
Г. Північно-Східний.
20. Оберіть неправильне твердження:
- А. Найбільший вантажообіг в Україні припадає на залізничний транспорт.
Б. Ефективність перевезення вантажів автомобільним транспортом зростає з відстанню.
В. Найдешевші перевезення вантажів здійснюються водним транспортом.
Г. Найбільший пасажирообіг в Україні припадає на автомобільний транспорт.

II. Завдання на визначення відповідності

У завданнях 21–25 до кожного із завдань, позначених цифрою, доберіть правильну відповідь, позначену буквою. Потім відповідність цифр і букв перенесіть у бланк відповідей.

21. Вкажіть відповідність між природоохоронними об'єктами та фізико-географічними одиницями, на території яких вони розташовані:
- Долина нарцисів.
 - Шацький національний природний парк.
 - Михайлівська цілина.
 - «Мис Март'ян».
 - Мішані і широколисті ліси.
 - Степ.
 - Українські Карпати.
 - Кримські гори.
 - Лісостеп.
22. Визначте відповідність між тектонічними структурами та формами рельєфу:
- Східноєвропейська платформа.
 - Передкарпатський прогин.
 - Скіфська платформа.
 - Середземноморський рухливий пояс.
 - Рівнинний Крим.
 - Карпатські, Кримські гори.
 - Придніпровська височина.
 - Передкарпаття.
 - Донецький кряж.

23. Вкажіть відповідність між містами та чисельністю населення в них (за даними перепису 2001 р.):

- | | |
|---------------------|--------------------|
| 1. Львів. | А. 260 тис. осіб. |
| 2. Дніпропетровськ. | Б. 117 тис. осіб. |
| 3. Кіровоград. | В. 760 тис. осіб. |
| 4. Ужгород. | Г. 1080 тис. осіб. |
| | Д. 57 тис. осіб. |

| | | | | | |
|----|---|---|---|---|---|
| 23 | А | Б | В | Г | Д |
| 1 | | | | | |
| 2 | | | | | |
| 3 | | | | | |
| 4 | | | | | |

24. Вкажіть відповідність між сільськогосподарськими культурами та областями, де їх вирощують:

- | | |
|--------------------|------------------|
| 1. Картопля. | А. Вінницька. |
| 2. Цукровий буряк. | Б. Миколаївська. |
| 3. Тютюн. | В. Чернівецька. |
| 4. Соняшник. | Г. Закарпатська. |
| | Д. Чернігівська. |

| | | | | | |
|----|---|---|---|---|---|
| 24 | А | Б | В | Г | Д |
| 1 | | | | | |
| 2 | | | | | |
| 3 | | | | | |
| 4 | | | | | |

25. Визначте відповідність між назвами торговельних марок харчової промисловості та центрами їх розміщення:

- | | |
|---------------|---------------------|
| 1. «Світоч». | А. Дніпропетровськ. |
| 2. «Сандора». | Б. Миколаїв. |
| 3. «Оболонь». | В. Київ. |
| 4. «Олейна». | Г. Сімферополь. |
| | Д. Львів. |

| | | | | | |
|----|---|---|---|---|---|
| 25 | А | Б | В | Г | Д |
| 1 | | | | | |
| 2 | | | | | |
| 3 | | | | | |
| 4 | | | | | |

III. Завдання на визначення правильної послідовності

У завданнях 26–30 розташуйте в логічній послідовності явища, об'єкти, процеси і т. д. Потім послідовність розташування букв перенесіть у бланк відповідей.

26. Розташуйте регіони України послідовно за віддаленістю від Чорного моря:

- А. Волинь.
 Б. Черкащина.
 В. Тернопільщина.
 Г. Херсонщина.

| | | | | |
|----|---|---|---|---|
| 26 | А | Б | В | Г |
| 1 | | | | |
| 2 | | | | |
| 3 | | | | |
| 4 | | | | |

27. Визначте послідовність зміни ґрунтів на території України з півночі на південь:

- А. Чорноземи.
 Б. Дерново-підзолисті.
 В. Каштанові.
 Г. Темно-сірі опідзолені.

| | | | | |
|----|---|---|---|---|
| 27 | А | Б | В | Г |
| 1 | | | | |
| 2 | | | | |
| 3 | | | | |
| 4 | | | | |

28. Зазначте послідовність зростання рівня урбанізації в областях України:

- А. Харківська.
 Б. Кіровоградська.
 Г. Дніпропетровська.
 В. Чернігівська.

| | | | | |
|----|---|---|---|---|
| 28 | А | Б | В | Г |
| 1 | | | | |
| 2 | | | | |
| 3 | | | | |
| 4 | | | | |



V. Завдання на контурній карті

Завдання 34 має картографічний характер і передбачає нанесення на карту інформації відповідно до завдання та розробку легенди карти (записи на карті й легенда подаються тим самим кольором ручки, яким виконується все тестове завдання).

- 34.** Позначте на контурній карті по 2 родовища нерудних корисних копалин (кам'яна сіль, калійна сіль, сірка, мінеральні води, лікувальні грязі).



Варіант 4

I. Завдання з вибором однієї правильної відповіді

1. Зазначте, коли відбулося проголошення незалежності України:
- А. 1917 р.
Б. 1991 р.
В. 1945 р.
Г. 1922 р.
- 1 А Б В Г
2. Визначте географічну довготу міста – обласного центру України, якщо різниця між його місцевим часом і місцевим часом Лондона становить 2 год 12 хв:
- А. 27° сх. д.
Б. $30^\circ 30'$ сх. д.
В. 33° сх. д.
Г. $28^\circ 30'$ сх. д.
- 2 А Б В Г
3. Визначте, яку площу займає Україна на карті півкуль, яка не спотворює площ і має масштаб 1 : 22 000 000:
- А. $6,24 \text{ см}^2$.
Б. 25 см^2 .
В. $12,47 \text{ см}^2$.
Г. $10,25 \text{ см}^2$.
- 3 А Б В Г
4. Вкажіть крайню південну точку України:
- А. м. Тарханкут.
Б. м. Меганом.
В. м. Сарич.
Г. м. Херсонес.
- 4 А Б В Г
5. Оберіть правильне твердження щодо особливостей економіко-географічного положення України:
- А. Територія держави не омивається морями Світового океану.
Б. Держава має транзитне положення між Росією та країнами Західної Європи.
В. Протяжність території з півночі на південь становить 1316 км.
Г. Територія країни не компактна.
- 5 А Б В Г
6. Зазначте, чому в Кримських горах немає льодовиків:
- А. Гори молоді.
Б. Випадає мало опадів.
В. Найвища точка гір лежить нижче висоти снігової лінії.
Г. Теплий клімат.
- 6 А Б В Г
7. Вкажіть ім'я засновника і першого президента Академії наук України:
- А. Павло Чубинський.
Б. Степан Рудницький.
В. Павло Тютковський.
Г. Володимир Вернадський.
- 7 А Б В Г
8. Оберіть групу міст України, що стали відомими курортами завдяки лікувальним властивостям мінеральних джерел:
- А. Бердичів, Хмільник, Рівне.
Б. Житомир, Харків, Суми.
В. Донецьк, Сімферополь, Умань.
Г. Трускавець, Миргород, Свалява.
- 8 А Б В Г

9. Оберіть правильний варіант ланцюга «галузь – продукція – основний чинник розміщення підприємства»:

- А. Лісова промисловість – виробництво меблів – наука.
- Б. Харчова промисловість – виробництво цукру – споживач.
- В. Машинобудування – автобуси – кваліфіковані кадри.
- Г. Хімічна промисловість – мінеральні добрива – вода.

9 А Б В Г

10. Вкажіть, яка з національних меншин України проживає компактно в одній з адміністративних одиниць України вищого порядку:

- А. Поляки.
- Б. Євреї.
- В. Кримські татари.
- Г. Білоруси.

10 А Б В Г

11. З'ясуйте, з якою тектонічною структурою пов'язані Калусько-Голинське, Стебницьке родовища калійної солі:

- А. Український щит.
- Б. Передкарпатський крайовий прогин.
- В. Причорноморська западина.
- Г. Дніпровсько-Донецька западина.

11 А Б В Г

12. Зазначте, на якій височині розташований витік р. Дніпро:

- А. Валдайська.
- Б. Смоленсько-Московська.
- В. Приволзька.
- Г. Придніпровська.

12 А Б В Г

13. Виберіть найбільший центр тракторобудування в Україні:

- А. Вінниця.
- Б. Київ.
- В. Кіровоград.
- Г. Харків.

13 А Б В Г

14. Вкажіть область України, яка є найодноріднішою за національним складом населення:

- А. Черкаська.
- Б. Одеська.
- В. Львівська.
- Г. Закарпатська.

14 А Б В Г

15. Оберіть групу країн, з якими Україна не має спільних кордонів на сході:

- А. Росія, Туреччина.
- Б. Росія, Молдова.
- В. Польща, Росія.
- Г. Польща, Угорщина.

15 А Б В Г

16. Зазначте, яка з національних меншин України переважно проживає на півночі держави:

- А. Білоруси.
- Б. Угорці.
- В. Вірмени.
- Г. Росіяни.

16 А Б В Г

17. Вкажіть, якою є протяжність території України з півночі на південь:

- А. 1316 км.
- Б. 1136 км.
- В. 983 км.
- Г. 893 км.

17 А Б В Г



18. Вкажіть, якому історико-географічному краю відповідає більша частина території Волинської та Рівненської областей:

- А. Поділля.
- Б. Волинь.
- В. Бессарабія.
- Г. Слобожанщина.

| | | | | |
|----|---|---|---|---|
| 18 | А | Б | В | Г |
| | | | | |

19. Вкажіть агропромислову зону чи район, де галузями спеціалізації сільського господарства є м'ясо-молочне скотарство, виноградарство, баштанництво:

- А. Лісостепова.
- Б. Поліська.
- В. Степова.
- Г. Карпатський.

| | | | | |
|----|---|---|---|---|
| 19 | А | Б | В | Г |
| | | | | |

20. Виберіть тип земель, які мають найбільшу частку в структурі земельного фонду України:

- А. Землі лісового і водного фондів.
- Б. Землі житлової та промислової забудови.
- В. Землі сільськогосподарського призначення.
- Г. Землі природно-заповідного фонду та рекреаційного призначення.

| | | | | |
|----|---|---|---|---|
| 20 | А | Б | В | Г |
| | | | | |

II. Завдання на визначення відповідності

У завданнях 21–25 до кожного із завдань, позначених цифрою, доберіть правильну відповідь, позначену буквою. Потім відповідність цифр і букв перенесіть у бланк відповідей.

21. Визначте відповідність між географічними назвами крайніх точок України та їхніми координатами:

1. мис Сарич.
2. с. Грем'яч Чернігівської обл.
3. м. Чоп Закарпатської обл.
4. с. Червона Зірка Луганської обл.
 - А. $48^{\circ}26'$ пн. ш., $22^{\circ}08'$ сх. д.
 - Б. $49^{\circ}15'$ пн. ш., $40^{\circ}05'$ сх. д.
 - В. $44^{\circ}23'$ пн. ш., $33^{\circ}44'$ сх. д.
 - Г. $48^{\circ}23'$ пн. ш., $31^{\circ}11'$ сх. д.
 - Д. $52^{\circ}22'$ пн. ш., $33^{\circ}11'$ сх. д.

| | | | | | |
|----|---|---|---|---|---|
| 21 | А | Б | В | Г | Д |
| 1 | | | | | |
| 2 | | | | | |
| 3 | | | | | |
| 4 | | | | | |

22. Визначте відповідність між природними чинниками та кліматичними особливостями території України:

1. Підстильна земна поверхня.
2. Географічна широта.
3. Близькість моря.
4. Гірські хребти Карпат, Кримських гір.
 - А. Помірний клімат.
 - Б. Впливає на радіаційний баланс, особливості мікроклімату.
 - В. Посилюють висхідні рухи повітря.
 - Г. Переважають низхідні рухи повітря.
 - Д. Пом'якшує зиму.

| | | | | | |
|----|---|---|---|---|---|
| 22 | А | Б | В | Г | Д |
| 1 | | | | | |
| 2 | | | | | |
| 3 | | | | | |
| 4 | | | | | |

23. Вкажіть відповідність між продукцією промисловості будівельних матеріалів і центрами, де її виробляють:

1. Цемент.
2. Будівельне скло.
3. Фарфор і фаянс.
4. Природне каміння.
 - А. Славута.
 - Б. Амвросіївка.
 - В. Мелітополь.
 - Г. Житомир.
 - Д. Львів.

| 23 | А | Б | В | Г | Д |
|----|---|---|---|---|---|
| 1 | | | | | |
| 2 | | | | | |
| 3 | | | | | |
| 4 | | | | | |

24. Вкажіть відповідність між височинами України та назвами їхніх найвищих точок:

1. Донецька.
2. Подільська.
3. Хотинська.
4. Приазовська.
 - А. г. Берда.
 - Б. г. Бельмак-Могила.
 - В. г. Савур-Могила.
 - Г. г. Могила-Мечетна.
 - Д. г. Камула.

| 24 | А | Б | В | Г | Д |
|----|---|---|---|---|---|
| 1 | | | | | |
| 2 | | | | | |
| 3 | | | | | |
| 4 | | | | | |

25. Визначте відповідність між сільськогосподарськими культурами та областями, де їх вирощують:

1. Баштанні.
2. Кукурудза.
3. Хміль.
4. Цукрові буряки.
 - А. Закарпатська.
 - Б. Житомирська.
 - В. Черкаська.
 - Г. Херсонська.
 - Д. Луганська.

| 25 | А | Б | В | Г | Д |
|----|---|---|---|---|---|
| 1 | | | | | |
| 2 | | | | | |
| 3 | | | | | |
| 4 | | | | | |

III. Завдання на визначення правильної послідовності

У завданнях 26–30 розташуйте в логічній послідовності явища, об'єкти, процеси і т. д. Потім послідовність розташування букв перенесіть у бланк відповідей.

26. Визначте послідовність розташування гірських вершин у порядку зменшення їхньої висоти:

- А. г. Роман-Кош.
- Б. г. Ай-Петрі.
- В. г. Говерла.
- Г. г. Берда.

| 26 | А | Б | В | Г |
|----|---|---|---|---|
| 1 | | | | |
| 2 | | | | |
| 3 | | | | |
| 4 | | | | |

27. Визначте послідовність природного розташування типів лісів України з півночі на південь:

- А. Дубові.
- Б. Соснові.
- В. Твердолисті.
- Г. Дубово-липові.

| 27 | А | Б | В | Г |
|----|---|---|---|---|
| 1 | | | | |
| 2 | | | | |
| 3 | | | | |
| 4 | | | | |



V. Завдання на контурній карті

Завдання 34 має картографічний характер і передбачає нанесення на карту інформації відповідно до завдання та розробку легенди карти (записи на карті й легенда подаються тим самим кольором ручки, яким виконується все тестове завдання).

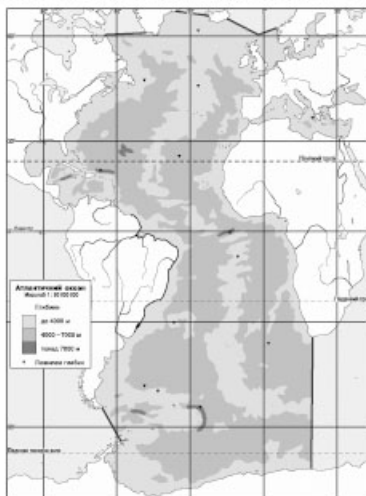
34. Позначте на контурній карті головні центри чорної та кольорової металургії України (по 6 прикладів).



Варіант 5

I. Завдання з вибором однієї правильної відповіді

1. Вкажіть, у якій частині Європи розташована Україна:
- А. Північна Європа. В. Західна Європа.
Б. Центральньо-Східна Європа. Г. Південна Європа.
2. Вкажіть державу, з якою Україна має найдовший суходільний кордон:
- А. Білорусь. В. Польща.
Б. Росія. Г. Молдова.
3. Визначте географічні координати міста, якщо сонце в ньому сходить на 10 год 24 хв пізніше, ніж на 180° д., а висота Полярної зірки над горизонтом становить близько 50° :
- А. 50° пн. ш., 24° сх. д. В. 24° пн. ш., 50° сх. д.
Б. 40° пн. ш., 156° сх. д. Г. 50° пн. ш., 36° сх. д.
4. Зазначте, яка історико-географічна область розташована в крайній південно-західній частині України:
- А. Буковина. В. Бужак.
Б. Таврія. Г. Слобожанщина.
5. Визначте відстань між двома населеними пунктами на фізичній карті України (масштаб 1 : 1 000 000), якщо на топографічній карті (масштаб 1 : 200 000) ця відстань становить 12 см:
- А. 0,6 см. В. 60 см.
Б. 24 см. Г. 2,4 см.
6. Вкажіть, яке озеро України має найбільшу площу:
- А. Ялпуг. В. Синевир.
Б. Світязь. Г. Кагул.
7. Оберіть групу деревних порід, характерних для зони широколистяних лісів:
- А. Дуб, бук, граб, ясен.
Б. Сосна, смерека, акація, береза.
В. Ялина, граб, сосна, кедр.
Г. Ялина, модрина, сосна, кедр.
8. Визначте за фрагментом карти назву проекції, у якій зображена земна поверхня:
- А. Азимутальна.
Б. Конічна.
В. Поліконічна.
Г. Циліндрична.



9. Вкажіть повітряні маси, які найбільше впливають на формування клімату України:

- А. Арктичні.
- Б. Тропічні.
- В. Помірні морські.
- Г. Субтропічні.

9 А Б В Г

10. Оберіть умовний знак, яким на карті позначають Бориславське, Долинське, Старосамбірське родовища:

- А. ▲
- Б. ■
- В. ▲
- Г. ■

10 А Б В Г

11. Зазначте, які ґрунти характерні для півдня Лісостепу і півночі Степу в Україні:

- А. Підзолисті.
- Б. Сірі лісові.
- В. Чорноземи.
- Г. Каштанові.

11 А Б В Г

12. Позначте найбільший за площею острів Чорного моря:

- А. Джарилгач.
- Б. Довгий.
- В. Березань.
- Г. Зміїний.

12 А Б В Г

13. Зазначте, який тип клімату характерний для східної частини України:

- А. Різкоконтинентальний.
- Б. Помірно континентальний.
- В. Морський.
- Г. Середземноморський.

13 А Б В Г

14. Зазначте область України, у якій розміщено найбільше підприємств кольорової металургії:

- А. Донецька.
- Б. Херсонська.
- В. Вінницька.
- Г. Харківська.

14 А Б В Г

15. Зазначте область України, у якій розміщено Ладизинську ДРЕС:

- А. Київська.
- Б. Харківська.
- В. Вінницька.
- Г. Чернівецька.

15 А Б В Г

16. Вкажіть найвищу точку Кримських гір:

- А. г. Роман-Кош.
- Б. г. Чатирдаг.
- В. г. Ай-Петрі.
- Г. г. Карадаг.

16 А Б В Г

17. Зазначте, яка технічна культура є головною на Поліссі:

- А. Кукурудза.
- Б. Соняшник.
- В. Льон-довгунець.
- Г. Тютюн.

17 А Б В Г



18. Визначте, який з позначених буквами на картосхемі районів України за агрокліматичними умовами найбільш придатний для вирощування соняшнику:



18 А Б В Г

19. Позначте місто України, у якому діє метрополітен:

- А. Харків.
 Б. Херсон.
 В. Тернопіль.
 Г. Сімферополь.

19 А Б В Г

20. Оберіть варіант, у якому правильно вказано сполучення економічного району з його спеціалізацією:

- А. Столичний – чорна металургія.
 Б. Придніпровський – машинобудування.
 В. Донецький – видобуток нафти і газу.
 Г. Подільський – добування солей.

20 А Б В Г

II. Завдання на визначення відповідності

У завданнях 21–25 до кожного із завдань, позначених цифрою, доберіть правильну відповідь, позначену буквою. Потім відповідність цифр і букв перенесіть у бланк відповідей.

21. Визначте відповідність між природними об'єктами та областями України, на території яких вони розташовані:

1. о. Джарилгач.
 2. оз. Сасик.
 3. г. Бельмак-Могила.
 4. Природний заповідник «Медобори».
 А. Миколаївська.
 Б. Запорізька.
 В. Херсонська.
 Г. Одеська.
 Д. Тернопільська.

21 А Б В Г Д
 1
 2
 3
 4

22. Визначте відповідність між геологічними структурами і корисними копалинами:

1. Український кристалічний щит.
 2. Дніпровсько-Донецька западина.
 3. Причорноморська западина.
 4. Передкарпатський прогин.
 А. Природний газ, каолін, вапняк.
 Б. Буре вугілля, уранові руди, титанові руди.
 В. Графіт, ртутні руди, апатити.
 Г. Нафта, газ, кам'яна сіль.
 Д. Нафта, газ, калійна сіль.

22 А Б В Г Д
 1
 2
 3
 4

23. Зазначте відповідність між атомними електростанціями (АЕС) і буквами на картосхемі:



1. Запорізька.
2. Рівненська.
3. Хмельницька.
4. Південноукраїнська.

23 А Б В Г Д

| | | | | |
|---|--|--|--|--|
| 1 | | | | |
| 2 | | | | |
| 3 | | | | |
| 4 | | | | |

24. Визначте відповідність між видами транспорту та їхніми найважливішими вузлами:

- | | |
|--------------------|----------------|
| 1. Морський. | А. Бориспіль. |
| 2. Трубопровідний. | Б. Ужгород. |
| 3. Залізничний. | В. Козятин. |
| 4. Повітряний. | Г. Кіровоград. |
| | Д. Одеса. |

24 А Б В Г Д

| | | | | |
|---|--|--|--|--|
| 1 | | | | |
| 2 | | | | |
| 3 | | | | |
| 4 | | | | |

25. Вкажіть відповідність між промисловими центрами Донецького економічного району та продукцією підприємств, які в них зосереджені:

1. Горлівка.
2. Маріуполь.
3. Костянтинівка.
4. Луганськ.
 - А. Тепловози.
 - Б. Літаки.
 - В. Вугільні комбайни.
 - Г. Виробництво цинку.
 - Д. Залізничні цистерни.

25 А Б В Г Д

| | | | | |
|---|--|--|--|--|
| 1 | | | | |
| 2 | | | | |
| 3 | | | | |
| 4 | | | | |

III. Завдання на визначення правильної послідовності

У завданнях 26–30 розташуйте в логічній послідовності явища, об'єкти, процеси і т. д. Потім послідовність розташування букв перенесіть у бланк відповідей.

26. Розташуйте послідовно за віддаленістю від столиці регіони України, починаючи з найближчого:

- А. Львівська обл.
- Б. Вінницька обл.
- В. Харківська обл.
- Г. АР Крим.

26 А Б В Г

| | | | | |
|---|--|--|--|--|
| 1 | | | | |
| 2 | | | | |
| 3 | | | | |
| 4 | | | | |

27. Вкажіть послідовність зміни кількості опадів у регіонах України (в порядку зменшення):

- А. Кіровоградщина.
- Б. Луганщина.
- В. Тернопільщина.
- Г. Закарпаття.

27 А Б В Г

| | | | | |
|---|--|--|--|--|
| 1 | | | | |
| 2 | | | | |
| 3 | | | | |
| 4 | | | | |



28. Розташуйте послідовно національності в порядку зменшення кількості їх представників на території України:

- А. Білоруси.
- Б. Болгари.
- В. Греки.
- Г. Росіяни.

| 28 | А | Б | В | Г |
|----|---|---|---|---|
| 1 | | | | |
| 2 | | | | |
| 3 | | | | |
| 4 | | | | |

29. Розмістіть послідовно центри чорної металургії в порядку віддаленості від Криворізького залізорудного басейну:

- А. Запоріжжя.
- Б. Алчевськ.
- В. Луганськ.
- Г. Донецьк.

| 29 | А | Б | В | Г |
|----|---|---|---|---|
| 1 | | | | |
| 2 | | | | |
| 3 | | | | |
| 4 | | | | |

30. Розмістіть послідовно адміністративні області України в порядку збільшення величини їхньої площі:

- А. Івано-Франківська.
- Б. Київська.
- В. Чернігівська.
- Г. Львівська.

| 30 | А | Б | В | Г |
|----|---|---|---|---|
| 1 | | | | |
| 2 | | | | |
| 3 | | | | |
| 4 | | | | |

IV. Завдання відкритого типу

Завдання 31–33 передбачають розгорнуту відповідь на поставлені запитання з відповідним записом у бланку відповідей.

31. Розкажіть про види альтернативних джерел енергії. Які перспективи їх використання в Україні?
32. Охарактеризуйте висотну поясиість Кримських гір.
- 33*. Охарактеризуйте чотири типи річок України за режимом розподілу водного стоку протягом року.

V. Завдання на контурній карті

Завдання 34 має картографічний характер і передбачає нанесення на карту інформації відповідно до завдання та розробку легенди карти (записи на карті й легенда подаються тим самим кольором ручки, яким виконується все тестове завдання).

- 34.** Позначте на контурній карті межі поширення основних типів ґрунтів на території України.



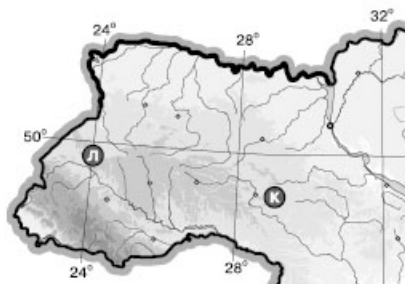
Варіант 6

I. Завдання з вибором однієї правильної відповіді

- Оберіть твердження, що відповідає визначенню поняття «географія України»:
 - Наука про склад, геологічну будову і розташування території України.
 - Наука про розвиток українського народу.
 - Наука про розвиток господарства України.
 - Наука про природу, розміщення населення і господарства України.
- Визначте, що є головним чинником сучасного утворення ярів у межах України:
 - Вулканізм і землетруси.
 - Робота вітру.
 - Робота текучих вод.
 - Робота льодовика.
- Вкажіть найпоширеніший у зоні Лісостепу тип ґрунтів:
 - Бурі лісові.
 - Чорноземи.
 - Дерново-підзолисті.
 - Болотні.
- Вкажіть гідрологічне явище, яке переважає на річках Закарпаття та Прикарпаття навесні:
 - Межень.
 - Паводок.
 - Приплив.
 - Повінь.
- Визначте висоту Сонця опівдні над крайньою північною точкою України 23 вересня:

| | |
|---------|---------|
| А. 38°. | В. 69°. |
| Б. 44°. | Г. 52°. |
- Зазначте, який тип рослинності поширений у Степовому Криму:
 - Типчаково-ковилова.
 - Лучно-стєпова.
 - Лучно-болотна.
 - Чагарникова.
- Вкажіть, що сприяє розвитку «парникового ефекту»:
 - Збільшення кількості азоту в атмосфері.
 - Зменшення кількості кисню в атмосфері.
 - Збільшення вуглекислого газу в атмосфері.
 - Зменшення товщини озонового шару в стратосфері.
- Визначте місцевий час у пункті Л, якщо в пункті К за місцевим часом у цей момент 11 год 04 хв (див. картосхему):

| | |
|------------------|------------------|
| А. 10 год 44 хв. | Б. 11 год 24 хв. |
| В. 10 год 59 хв. | Г. 11 год 09 хв. |



9. Вкажіть, у межах якої платформи розміщений Український кристалічний щит:

- А. Західноєвропейська.
- Б. Східноєвропейська.
- В. Сибірська.
- Г. Скіфська.

9 А Б В Г

| | | | |
|--|--|--|--|
| | | | |
|--|--|--|--|

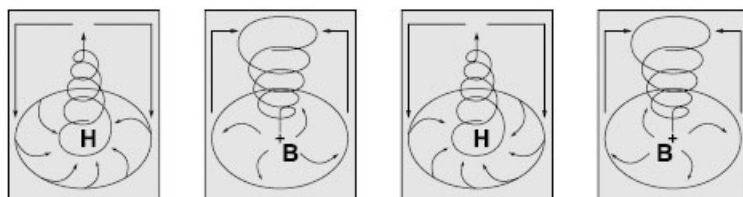
10. Оберіть неправильне твердження щодо використання одного з метеорологічних приладів:

- А. Термометром вимірюють температуру повітря.
- Б. Барометром вимірюють випаровуваність.
- В. Флюгером визначають напрямок і силу вітру.
- Г. Гігрометром вимірюють вологість повітря.

10 А Б В Г

| | | | |
|--|--|--|--|
| | | | |
|--|--|--|--|

11. Розгляньте схеми й визначте, яка з них відображає процес, що формує в Україні взимку мінливу вітряну погоду з відлигами й опадами:



А.

Б.

В.

Г.

11 А Б В Г

| | | | |
|--|--|--|--|
| | | | |
|--|--|--|--|

12. Вкажіть, до басейну якої річки належать притоки Тетерів, Рось, Псел, Ворскла:

- А. Дністер.
- Б. Дунай.
- В. Дон.
- Г. Дніпро.

12 А Б В Г

| | | | |
|--|--|--|--|
| | | | |
|--|--|--|--|

13. Вкажіть форму організації виробництва, що відповідає визначенню «поєднання на одному підприємстві всіх стадій переробки певної сировини, що забезпечує мало- або безвідходність виробництва»:

- А. Кооперування.
- Б. Спеціалізація.
- В. Концентрація.
- Г. Комбінування.

13 А Б В Г

| | | | |
|--|--|--|--|
| | | | |
|--|--|--|--|

14. Оберіть правильний варіант ланцюга «галузь – підприємство – основний чинник розміщення»:

- А. Рибна промисловість – холодильники – споживач.
- Б. Сироварна промисловість – молокозавод – кваліфіковані кадри.
- В. Лісова промисловість – швейна фабрика – трудові ресурси.
- Г. Хіміко-фармацевтична промисловість – фармацевтична фірма – паливо.

14 А Б В Г

| | | | |
|--|--|--|--|
| | | | |
|--|--|--|--|

15. Визначте відстань у кілометрах між точками з географічними координатами 52° пн. ш. і 34° сх. д. та 45° пн. ш. і 34° сх. д.:

- А. 893 км.
- Б. 625 км.
- В. 777 км.
- Г. 717 км.

15 А Б В Г

| | | | |
|--|--|--|--|
| | | | |
|--|--|--|--|

16. Вкажіть, яке місто-порт розташоване на Азовському морі:

- А. Ялта.
- Б. Одеса.
- В. Маріуполь.
- Г. Феодосія.

16 А Б В Г

| | | | |
|--|--|--|--|
| | | | |
|--|--|--|--|

17. Вкажіть, які з виробництв є галузями спеціалізації Донецького та Придніпровського економічних районів:
- А. Металообробка, лісозаготівля.
 Б. Тонкорунне вівчарство, виноградарство.
 В. Важке машинобудування, металургія.
 Г. Нафтопереробка, льонарство.
18. Визначте, які транспортні шляхи було прокладено між Львовом і Перемишлем у 1861 р. та між Одесою і Балтою в 1865 р.:
- А. Судноплавні канали.
 Б. Залізничні колії.
 В. Трубопроводи.
 Г. Шосейні дороги.
19. Оберіть неправильне твердження щодо зовнішньоекономічних зв'язків України:
- А. У структурі імпорту найбільша частка припадає на нафту і природний газ.
 Б. Основним видом міжнародних послуг України є транспортні послуги для країн СНД.
 В. Найбільше товарів експортується до Росії, Німеччини, Туреччини, Китаю.
 Г. Природно-історичний чинник відіграє значну роль у наданні туристичних послуг.
20. Оберіть групу міст, які є в Україні великими залізничними вузлами:
- А. Київ, Жмеринка, Львів.
 Б. Мелітополь, Харків, Бердянськ.
 В. Маріуполь, Миколаїв, Бориспіль.
 Г. Гайворон, Феодосія, Донецьк.

II. Завдання на визначення відповідності

У завданнях 21–25 до кожного із завдань, позначених цифрою, доберіть правильну відповідь, позначену буквою. Потім відповідність цифр і букв перенесіть у бланк відповідей.

21. Визначте відповідність між географічними об'єктами та областями України, на території яких вони розташовані:
1. г. Ай-Петрі.
 2. Бердянська коса.
 3. м. Рахів.
 4. Канівські гори.
- А. Запорізька.
 Б. Закарпатська.
 В. АР Крим.
 Г. Вінницька.
 Д. Черкаська.
22. Визначте відповідність між умовними знаками та родовищами корисних копалин України:
1. ▲
 2. ☐
 3. ○
 4. △
- А. Іршанське.
 Б. Артемівське.
 В. Єфремівське.
 Г. Бориславське.
 Д. Микитівське.

23. Вкажіть відповідність між рекреаційними зонами та регіоном їхнього розташування:

1. Шацькі озера.
2. місто Вилкове.
3. гора Ай-Петрі.
4. озеро Синевир.
 - А. Карпати.
 - Б. Одеська обл.
 - В. Чернігівська обл.
 - Г. Волинська обл.
 - Д. Кримські гори.

| 23 | А | Б | В | Г | Д |
|----|---|---|---|---|---|
| 1 | | | | | |
| 2 | | | | | |
| 3 | | | | | |
| 4 | | | | | |

24. Визначте відповідність між етнічними землями, що перебувають за межами державної території України, і країнами, до складу яких їх нині відносять:

1. Берестейщина.
2. Кубань.
3. Холмщина.
4. Мармарощина.
 - А. Польща.
 - Б. Росія.
 - В. Білорусь.
 - Г. Угорщина.
 - Д. Румунія.

| 24 | А | Б | В | Г | Д |
|----|---|---|---|---|---|
| 1 | | | | | |
| 2 | | | | | |
| 3 | | | | | |
| 4 | | | | | |

25. Визначте відповідність між родовищами нафти в Україні, що позначені буквами на картосхемі, та їхніми назвами:

1. Нинівське.
2. Прилуцьке.
3. Бориславське.
4. Долинське.



| 25 | А | Б | В | Г | Д |
|----|---|---|---|---|---|
| 1 | | | | | |
| 2 | | | | | |
| 3 | | | | | |
| 4 | | | | | |

III. Завдання на визначення правильної послідовності

У завданнях 26–30 розташуйте в логічній послідовності явища, об'єкти, процеси і т. д. Потім послідовність розташування букв перенесіть у бланк відповідей.

26. Розташуйте послідовно адміністративні області України в порядку зростання густоти населення:

- А. Черкаська.
- Б. Донецька.
- В. Чернігівська.
- Г. Чернівецька.

| 26 | А | Б | В | Г |
|----|---|---|---|---|
| 1 | | | | |
| 2 | | | | |
| 3 | | | | |
| 4 | | | | |

27. Розташуйте річки послідовно за довжиною в межах України, починаючи з найменшої:

- А. Сіверський Донець.
- Б. Ворскла.
- В. Південний Буг.
- Г. Рось.

| 27 | А | Б | В | Г |
|----|---|---|---|---|
| 1 | | | | |
| 2 | | | | |
| 3 | | | | |
| 4 | | | | |



28. Розмістіть послідовно адміністративні області в порядку зменшення величини території:

- А. Чернівецька.
- Б. Одеська.
- В. Тернопільська.
- Г. Запорізька.

| 28 | А | Б | В | Г |
|----|----------------------|----------------------|----------------------|----------------------|
| 1 | <input type="text"/> | <input type="text"/> | <input type="text"/> | <input type="text"/> |
| 2 | <input type="text"/> | <input type="text"/> | <input type="text"/> | <input type="text"/> |
| 3 | <input type="text"/> | <input type="text"/> | <input type="text"/> | <input type="text"/> |
| 4 | <input type="text"/> | <input type="text"/> | <input type="text"/> | <input type="text"/> |

29. Розташуйте послідовно із заходу на схід центри виробництва фосфатних добрив в Україні:

- А. Костянтинівка.
- Б. Суми.
- В. Одеса.
- Г. Вінниця.

| 29 | А | Б | В | Г |
|----|----------------------|----------------------|----------------------|----------------------|
| 1 | <input type="text"/> | <input type="text"/> | <input type="text"/> | <input type="text"/> |
| 2 | <input type="text"/> | <input type="text"/> | <input type="text"/> | <input type="text"/> |
| 3 | <input type="text"/> | <input type="text"/> | <input type="text"/> | <input type="text"/> |
| 4 | <input type="text"/> | <input type="text"/> | <input type="text"/> | <input type="text"/> |

30. Розташуйте послідовно зі сходу на захід центри приладобудування в Україні:

- А. Київ.
- Б. Вінниця.
- В. Луцьк.
- Г. Харків.

| 30 | А | Б | В | Г |
|----|----------------------|----------------------|----------------------|----------------------|
| 1 | <input type="text"/> | <input type="text"/> | <input type="text"/> | <input type="text"/> |
| 2 | <input type="text"/> | <input type="text"/> | <input type="text"/> | <input type="text"/> |
| 3 | <input type="text"/> | <input type="text"/> | <input type="text"/> | <input type="text"/> |
| 4 | <input type="text"/> | <input type="text"/> | <input type="text"/> | <input type="text"/> |

IV. Завдання відкритого типу

Завдання 31–33 передбачають розгорнуту відповідь на поставлені запитання з відповідним записом у бланку відповідей.

31. Що таке міграція населення? Охарактеризуйте види міграцій населення на території України.
32. Дайте характеристику озер України за походженням їхніх улоговин. Наведіть приклади.
- 33*. Доведіть, що коефіцієнт зволоження – це показник, який враховує вплив усіх чинників кліматотворення.

V. Завдання на контурній карті





Завдання 34 має картографічний характер і передбачає нанесення на карту інформації відповідно до завдання та розробку легенди карти (записи на карті й легенда подаються тим самим кольором ручки, яким виконується все тестове завдання).

34. Нанесіть на контурну карту приблизні межі Українського щита й Дніпровсько-Донецької западини та основні форми рельєфу, що з ними пов'язані.



Варіант 7

I. Завдання з вибором однієї правильної відповіді

1. Вкажіть межі другого годинного поясу без урахування проходження державних кордонів:
 А. $22^{\circ} 30'$ сх. д. і $37^{\circ} 30'$ сх. д.
 Б. 15° сх. д. і 30° сх. д.
 В. $7^{\circ} 30'$ сх. д. і $22^{\circ} 30'$ сх. д.
 Г. 22° сх. д. і 40° сх. д.
2. Визначте географічні координати населеного пункту, якщо Сонце в ньому сходить на 2 год 8 хв раніше, ніж на Гринвіцькому меридіані, а висота Полярної зірки над горизонтом становить близько 47° .
 А. 50° пн. ш., 30° сх. д.
 Б. 43° пн. ш., 32° сх. д.
 В. 47° пн. ш., 32° сх. д.
 Г. 32° пн. ш., 47° сх. д.
3. Вкажіть державу, з якою Україна має найкоротший суходільний кордон:
 А. Угорщина.
 Б. Молдова.
 В. Словаччина.
 Г. Румунія.
4. Позначте умовний знак, яким на топографічних картах зображують джерело:
 А. 
 Б. 
 В. 
 Г. 
5. Визначте масштаб глобуса, якщо на ньому Україна займає площу близько $2,42 \text{ см}^2$:
 А. $1 : 30\,000\,000$.
 Б. $1 : 50\,000\,000$.
 В. $1 : 80\,000\,000$.
 Г. $1 : 10\,000\,000$.
6. Вкажіть, яке місто є адміністративним центром Волинської області:
 А. Рівне.
 Б. Львів.
 В. Новоград-Волинський.
 Г. Луцьк.
7. Зазначте, яка область в Україні має найпотужнішу цукрову промисловість:
 А. Київська.
 Б. Вінницька.
 В. Чернігівська.
 Г. Кіровоградська.
8. Визначте, якому історико-географічному регіону відповідає територія сучасних Харківської та Сумської областей:
 А. Волинь.
 Б. Поділля.
 В. Галичина.
 Г. Слобожанщина.

9. Визначте регіон України, в якому випадає найбільша кількість опадів:

- А. Закарпаття.
- Б. Карпати.
- В. Південний берег Криму.
- Г. Одещина.

9 А Б В Г

10. Вкажіть максимальну глибину Чорного моря:

- А. 1256 м.
- Б. 2200 м.
- В. 2245 м.
- Г. 1271 м.

10 А Б В Г

11. Вкажіть область, на території якої розташована крайня північна точка України:

- А. Київська.
- Б. Чернігівська.
- В. Сумська.
- Г. Житомирська.

11 А Б В Г

12. Вкажіть область, на території якої розташована найвища точка рівнинної частини України:

- А. Львівська.
- Б. Івано-Франківська.
- В. Закарпатська.
- Г. Чернівецька.

12 А Б В Г

13. Визначте, які корисні копалини пов'язані з Передкарпатським прогином:

- А. Боксити.
- Б. Нафта й газ.
- В. Кам'яне вугілля.
- Г. Уранові руди.

13 А Б В Г

14. Вкажіть назву області з постійно низьким атмосферним тиском – баричним мінімумом, що значно впливає на клімат Західної Європи і, зокрема, України:

- А. Азорський.
- Б. Ісландський.
- В. Сибірський.
- Г. Алеутський.

14 А Б В Г

15. Зазначте, який тип клімату переважає на Південному березі Криму:

- А. Помірний.
- Б. Морський.
- В. Субтропічний.
- Г. Арктичний.

15 А Б В Г

16. Визначте, якою буде температура повітря в Карпатах на висоті 2 км, якщо біля підніжжя вона становить 18 °С:

- А. 10 °С.
- Б. 3 °С.
- В. 6 °С.
- Г. 12 °С.

16 А Б В Г

17. Вкажіть, яке місто є обласним центром Закарпаття:

- А. Чоп.
- Б. Ужгород.
- В. Мукачеве.
- Г. Рахів.

17 А Б В Г



18. Зазначте, який морський порт є найпотужнішим в Україні:

- А. Одеса.
Б. Ізмаїл.
В. Бердянськ.
Г. Миколаїв.

18 А Б В Г

| | | | |
|--|--|--|--|
| | | | |
|--|--|--|--|

19. Оберіть помилкове щодо України твердження:

- А. АЕС розташовані в таких областях, як Рівненська, Миколаївська, Хмельницька.
Б. Центрами виробництва літаків є Київ і Харків.
В. Сільськогосподарською спеціалізацією Полісся є вирощування жита, гречки, картоплі, хмелю та льону.
Г. До складу Центрального економічного району України входять Вінницька, Черкаська та Кіровоградська області.

19 А Б В Г

| | | | |
|--|--|--|--|
| | | | |
|--|--|--|--|

20. Вкажіть галузь, яка належить до основної хімії:

- А. Видобуток калійної солі.
Б. Виробництво соди.
В. Виробництво пластмаси.
Г. Виробництво хімічних волокон.

20 А Б В Г

| | | | |
|--|--|--|--|
| | | | |
|--|--|--|--|

II. Завдання на визначення відповідності

У завданнях 21–25 до кожного із завдань, позначених цифрою, доберіть правильну відповідь, позначену буквою. Потім відповідність цифр і букв перенесіть у бланк відповідей.





21. Визначте відповідність між типами рельєфу та його формами:

1. Тектогенні.
2. Денудаційні.
3. Водно-ерозійні.
4. Карстові.
А. Останці, вали, уступи.
Б. Складчасті споруди.
В. Піщані горби.
Г. Печери, лійки.
Д. Балки, річкові долини, яри.

21 А Б В Г Д

| | | | | |
|---|--|--|--|--|
| 1 | | | | |
| 2 | | | | |
| 3 | | | | |
| 4 | | | | |

22. Визначте відповідність між умовними позначеннями корисних копалин і тектонічними структурами України, у межах яких вони залягають:

1.  (Стебницьке)
2.  (Нововолинське)
3.  (Нікопольське)
4.  (Берегівське)
А. Закарпатська міжгірна западина.
Б. Український щит.
В. Галицько-Волинська западина.
Г. Передкарпатський крайовий прогин.
Д. Скіфська плита.

22 А Б В Г Д

| | | | | |
|---|--|--|--|--|
| 1 | | | | |
| 2 | | | | |
| 3 | | | | |
| 4 | | | | |

23. Визначте відповідність між країнами, що межують з Україною, і буквами на картосхемі:

1. Румунія.
2. Угорщина.
3. Білорусь.
4. Польща.



23 А Б В Г Д

| | | | | |
|---|--|--|--|--|
| 1 | | | | |
| 2 | | | | |
| 3 | | | | |
| 4 | | | | |

24. Вкажіть відповідність між економічними районами і адміністративними областями:

1. Донецький.
2. Придніпровський.
3. Причорноморський.
4. Столичний.
 - А. Закарпатська.
 - Б. Житомирська.
 - В. Луганська.
 - Г. Одеська.
 - Д. Запорізька.

| 24 | А | Б | В | Г | Д |
|----|---|---|---|---|---|
| 1 | | | | | |
| 2 | | | | | |
| 3 | | | | | |
| 4 | | | | | |

25. Вкажіть відповідність між місцями залягання корисних копалин і їхніми видами:

1. Солотвино.
2. Роздол.
3. Калущ.
4. Борислав.
 - А. Сірка.
 - Б. Калійна сіль.
 - В. Озокерит.
 - Г. Кам'яна сіль.
 - Д. Торф.

| 25 | А | Б | В | Г | Д |
|----|---|---|---|---|---|
| 1 | | | | | |
| 2 | | | | | |
| 3 | | | | | |
| 4 | | | | | |

III. Завдання на визначення правильної послідовності

У завданнях 26–30 розташуйте в логічній послідовності явища, об'єкти, процеси і т. д. Потім послідовність розташування букв перенесіть у бланк відповідей.

26. Вкажіть послідовність зростання частки сільського населення в адміністративних областях України:

- А. Тернопільська.
- Б. Донецька.
- В. Закарпатська.
- Г. Київська.

| 26 | А | Б | В | Г |
|----|---|---|---|---|
| 1 | | | | |
| 2 | | | | |
| 3 | | | | |
| 4 | | | | |

27. Вкажіть послідовність розміщення адміністративних областей України зі сходу на захід:

- А. Вінницька.
- Б. Львівська.
- В. Тернопільська.
- Г. Харківська.

| 27 | А | Б | В | Г |
|----|---|---|---|---|
| 1 | | | | |
| 2 | | | | |
| 3 | | | | |
| 4 | | | | |

28. Розташуйте послідовно із заходу на схід центри верстатобудування в Україні:

- А. Харків.
- Б. Київ.
- В. Дніпропетровськ.
- Г. Бердичів.

| 28 | А | Б | В | Г |
|----|---|---|---|---|
| 1 | | | | |
| 2 | | | | |
| 3 | | | | |
| 4 | | | | |



V. Завдання на контурній карті

Завдання 34 має картографічний характер і передбачає нанесення на карту інформації відповідно до завдання та розробку легенди карти (записи на карті й легенда подаються тим самим кольором ручки, яким виконується все тестове завдання).

- 34.** Нанесіть на контурну карту адміністративну одиницю (область чи АР Крим), на території якої ви проживаєте, а також інші адміністративні одиниці вищого порядку України та країни, з якими вона межує.



Варіант 8

I. Завдання з вибором однієї правильної відповіді

1. Визначте країну, з якою Україна має морський і суходільний кордони:

А. Молдова.
 Б. Болгарія.
 В. Росія.
 Г. Угорщина.

1 А Б В Г

2. Виберіть проекцію, у якій створено дану карту:

А. Конічна.
 Б. Циліндрична.
 В. Азимутальна пряма.
 Г. Азимутальна поперечна.



2 А Б В Г

3. Визначте масштаб топографічної карти, на якій найкоротша відстань від точки А ($X = 6\ 065\ 300$; $Y = 4\ 312\ 750$) до точки В ($X = 6\ 065\ 300$; $Y = 4\ 312\ 000$) дорівнює 3 см:

А. 1 : 25 000.
 Б. 1 : 10 000.
 В. 1 : 5000.
 Г. 1 : 75 000.

3 А Б В Г

4. Вкажіть, які з названих корисних копалин належать до руд чорних металів:

А. Поліметалеві та мідні.
 Б. Титанові та нікелеві.
 В. Залізні та марганцеві.
 Г. Боксити та ртутні.

4 А Б В Г

5. Виберіть групу умовних знаків, якими позначають рудні корисні копалини:

А. ■, ▲, △ Б. ▲, □, ◇ В. ○, ▲, ■ Г. ▲, △, □

5 А Б В Г

6. Визначте, яку форму рельєфу позначено на карті:

А. Придніпровська низовина.
 Б. Донецький кряж.
 В. Середньоросійська височина.
 Г. Причорноморська низовина.



6 А Б В Г

7. Виберіть тип повітряних мас, що переважають на території України:

А. Помірні континентальні повітряні маси.
 Б. Тропічні континентальні повітряні маси.
 В. Помірні морські повітряні маси з Атлантичного океану.
 Г. Арктичні повітряні маси.

7 А Б В Г

8. Вкажіть назву водного об'єкта, на який вказує стрілка на карті:

- А. Каховське водосховище.
- Б. Дніпровське водосховище.
- В. Кременчуцьке водосховище.
- Г. Дністровське водосховище.



8 А Б В Г

| | | | |
|--|--|--|--|
| | | | |
|--|--|--|--|

9. Назвіть тип ґрунтів, що утворилися на сухих степових ділянках в умовах недостатньої зволоженості:

- А. Чорноземи.
- Б. Каштанові.
- В. Лучні.
- Г. Коричневі.

9 А Б В Г

| | | | |
|--|--|--|--|
| | | | |
|--|--|--|--|

10. Виберіть з переліку об'єктів природно-заповідного фонду біосферний заповідник:

- А. Кримський.
- Б. Розточчя.
- В. Український степовий.
- Г. Чорноморський.

10 А Б В Г

| | | | |
|--|--|--|--|
| | | | |
|--|--|--|--|

11. Виберіть групу областей з найбільшим показником густоти населення:

- А. Донецька, Запорізька, Миколаївська.
- Б. Харківська, Полтавська, Дніпропетровська.
- В. Донецька, Дніпропетровська, Львівська.
- Г. Одеська, Херсонська, Миколаївська.

11 А Б В Г

| | | | |
|--|--|--|--|
| | | | |
|--|--|--|--|

12. Зазначте, до якого функціонального типу населених пунктів відносять м. Трускавець:

- А. Транспортний центр.
- Б. Промисловий центр.
- В. Рекреаційний центр.
- Г. Багатофункціональний центр.

12 А Б В Г

| | | | |
|--|--|--|--|
| | | | |
|--|--|--|--|

13. Оберіть правильне визначення поняття «економічна система»:

- А. Сукупність галузей матеріального і нематеріального виробництва, що утворюють господарський комплекс.
- Б. Система товарно-грошових відносин у суспільстві, що ґрунтуються на об'єктивних економічних законах.
- В. Сукупність підприємств та організацій, що виготовляють певну продукцію і створюють умови для життя людей.
- Г. Сукупність принципів, правил, норм, що визначають основні економічні відносини в суспільстві.

13 А Б В Г

| | | | |
|--|--|--|--|
| | | | |
|--|--|--|--|

14. Вкажіть басейн корисних копалин, для якого характерна висока собівартість, пов'язана з глибоким заляганням пластів невеликої потужності:

- А. Донецький.
- Б. Львівсько-Волинський.
- В. Дніпровський.
- Г. Криворізький.

14 А Б В Г

| | | | |
|--|--|--|--|
| | | | |
|--|--|--|--|

15. Вкажіть основний чинник, що визначає розміщення АЕС:

- А. Природні умови.
 Б. Наявність паливної сировини і водних ресурсів.
 В. Наявність споживача і дефіцит паливних ресурсів.
 Г. Трудові ресурси і транспорт.

15 А Б В Г

16. Визначте, який центр чорної металургії позначено на карті пунсоном:

- А. Запоріжжя.
 Б. Маріуполь.
 В. Донецьк.
 Г. Луганськ.



16 А Б В Г

17. Зазначте, який основний чинник впливає на розміщення підприємств важкого машинобудування:

- А. Наявність трудових ресурсів. В. Споживчий.
 Б. Транспортний. Г. Сировинний.

17 А Б В Г

18. Вкажіть головний чинник, що визначає розміщення підприємств меблевої промисловості.

- А. Споживчий. В. Водний.
 Б. Сировинний. Г. Транспортний.

18 А Б В Г

19. Виберіть із запропонованої продукції головну складову експорту України (за 2010 р.):

- А. Зерно.
 Б. Чорні метали та вироби з них.
 В. Продукція машинобудування.
 Г. Продукція хімічної промисловості.

19 А Б В Г

20. Визначте економічний район, для якого характерне переважання електроенергетики, вугільної, хімічної галузей, металургії, важкого машинобудування та приміського типу сільського господарства:

- А. Причорноморський. В. Північно-Східний.
 Б. Придніпровський. Г. Донецький.

20 А Б В Г

II. Завдання на визначення відповідності

У завданнях 21–25 до кожного із завдань, позначених цифрою, доберіть правильну відповідь, позначену буквою. Потім відповідність цифр і букв перенесіть у бланк відповідей.

21. Визначте відповідність між крайніми точками України та їхніми координатами:

1. с. Грем'яч, Чернігівська обл.
 2. мис Сарич, АР Крим.
 3. с. Соломонове (околиці м. Чоп), Закарпатська обл.
 4. с. Червона Зірка, Луганська обл.
 А. $49^{\circ}15'$ пн. ш. і $40^{\circ}13'$ сх. д.
 Б. $48^{\circ}05'$ пн. ш. і $22^{\circ}08'$ сх. д.
 В. $44^{\circ}23'$ пн. ш. і $33^{\circ}44'$ сх. д.
 Г. $52^{\circ}22'$ пн. ш. і $33^{\circ}11'$ сх. д.
 Д. $48^{\circ}23'$ пн. ш. і $31^{\circ}11'$ сх. д.

21 А Б В Г Д
 1
 2
 3
 4

22. Визначте відповідність між тектонічними структурами та корисними копалинами, що з ними пов'язані:

1. Український щит.
2. Дніпровсько-Донецька западина.
3. Причорноморська западина.
4. Галицько-Волинський прогин.
 - А. Природний газ.
 - Б. Калійна сіль.
 - В. Лікувальні грязі.
 - Г. Кам'яне вугілля.
 - Д. Буре вугілля.

| | | | | | |
|----|---|---|---|---|---|
| 22 | А | Б | В | Г | Д |
| 1 | | | | | |
| 2 | | | | | |
| 3 | | | | | |
| 4 | | | | | |

23. Визначте відповідність між категоріями заповідного фонду та природоохоронними об'єктами:

1. Біосферний заповідник.
2. Природний заповідник.
3. Національний парк.
4. Заказник.
 - А. Меотида.
 - Б. Дунайський.
 - В. Канівський.
 - Г. Молочний лиман.
 - Д. Шацький.

| | | | | | |
|----|---|---|---|---|---|
| 23 | А | Б | В | Г | Д |
| 1 | | | | | |
| 2 | | | | | |
| 3 | | | | | |
| 4 | | | | | |

24. Вкажіть відповідність між групами галузей господарства і галузями, які до них належать:

1. Важка промисловість.
2. Харчова промисловість.
3. Легка промисловість.
4. Невиробнича сфера.
 - А. Швейна.
 - Б. Рослинництво.
 - В. Рибна.
 - Г. Металургія.
 - Д. Охорона здоров'я.

| | | | | | |
|----|---|---|---|---|---|
| 24 | А | Б | В | Г | Д |
| 1 | | | | | |
| 2 | | | | | |
| 3 | | | | | |
| 4 | | | | | |

25. Знайдіть відповідність між цифрами на карті та назвами економічних районів:

- А. Північно-Східний.
- Б. Карпатський.
- В. Причорноморський.
- Г. Столичний.
- Д. Подільський.



| | | | | | |
|----|---|---|---|---|---|
| 25 | А | Б | В | Г | Д |
| 1 | | | | | |
| 2 | | | | | |
| 3 | | | | | |
| 4 | | | | | |

III. Завдання на визначення правильної послідовності

У завданнях 26–30 розташуйте в логічній послідовності явища, об'єкти, процеси і т. д. Потім послідовність розташування букв перенесіть у бланк відповідей.

26. Розташуйте послідовно прикордонні з Україною держави, у напрямку від крайньої північної до крайньої західної точки:

- А. Білорусь.
- Б. Росія.
- В. Словаччина.
- Г. Польща.

| | | | | |
|----|---|---|---|---|
| 26 | А | Б | В | Г |
| 1 | | | | |
| 2 | | | | |
| 3 | | | | |
| 4 | | | | |



27. Розташуйте форми рельєфу в порядку зменшення показника абсолютної висоти їх найвищих точок:

- А. Подільська височина.
- Б. Приазовська височина.
- В. Хотинська височина.
- Г. Донецький кряж.

| 27 | А | Б | В | Г |
|----|----------------------|----------------------|----------------------|----------------------|
| 1 | <input type="text"/> | <input type="text"/> | <input type="text"/> | <input type="text"/> |
| 2 | <input type="text"/> | <input type="text"/> | <input type="text"/> | <input type="text"/> |
| 3 | <input type="text"/> | <input type="text"/> | <input type="text"/> | <input type="text"/> |
| 4 | <input type="text"/> | <input type="text"/> | <input type="text"/> | <input type="text"/> |

28. Розташуйте річкові басейни послідовно, починаючи від Українських Карпат:

- А. Південний Буг.
- Б. Дніпро.
- В. Дністер.
- Г. Сіверський Донець.

| 28 | А | Б | В | Г |
|----|----------------------|----------------------|----------------------|----------------------|
| 1 | <input type="text"/> | <input type="text"/> | <input type="text"/> | <input type="text"/> |
| 2 | <input type="text"/> | <input type="text"/> | <input type="text"/> | <input type="text"/> |
| 3 | <input type="text"/> | <input type="text"/> | <input type="text"/> | <input type="text"/> |
| 4 | <input type="text"/> | <input type="text"/> | <input type="text"/> | <input type="text"/> |

29. Розташуйте послідовно адміністративні області в порядку зростання показника середньої густоти населення:

- А. Донецька.
- Б. Львівська.
- В. Волинська.
- Г. Чернігівська.

| 29 | А | Б | В | Г |
|----|----------------------|----------------------|----------------------|----------------------|
| 1 | <input type="text"/> | <input type="text"/> | <input type="text"/> | <input type="text"/> |
| 2 | <input type="text"/> | <input type="text"/> | <input type="text"/> | <input type="text"/> |
| 3 | <input type="text"/> | <input type="text"/> | <input type="text"/> | <input type="text"/> |
| 4 | <input type="text"/> | <input type="text"/> | <input type="text"/> | <input type="text"/> |

30. Зазначте послідовність етапів металургійного виробництва:

- А. Виплавка сталі.
- Б. Виробництво прокату.
- В. Виплавка чавуну.
- Г. Збагачення руди.

| 30 | А | Б | В | Г |
|----|----------------------|----------------------|----------------------|----------------------|
| 1 | <input type="text"/> | <input type="text"/> | <input type="text"/> | <input type="text"/> |
| 2 | <input type="text"/> | <input type="text"/> | <input type="text"/> | <input type="text"/> |
| 3 | <input type="text"/> | <input type="text"/> | <input type="text"/> | <input type="text"/> |
| 4 | <input type="text"/> | <input type="text"/> | <input type="text"/> | <input type="text"/> |

IV. Завдання відкритого типу

Завдання 31–33 передбачають розгорнуту відповідь на поставлені запитання з відповідним записом у бланку відповідей.

31. Охарактеризуйте загальні риси рельєфу своєї області.

32. Що таке діаспора та які особливості географії української діаспори у світі?

33*. Охарактеризуйте соціально-економічні чинники, що впливають на народжуваність в Україні.

V. Завдання на контурній карті

Завдання 34 має картографічний характер і передбачає нанесення на карту інформації відповідно до завдання та розробку легенди карти (записи на карті й легенда подаються тим самим кольором ручки, яким виконується все тестове завдання).

34. Позначте на контурній карті 10 родовищ паливних корисних копалин України. (Кам'яне вугілля, буре вугілля, нафта, природний газ, горючі сланці, торф.)



Варіант 9

I. Завдання з вибором однієї правильної відповіді

1. Визначте місцевий час у Донецьку (48° пн. ш., 38° сх. д.), якщо в Києві (51° пн. ш., 31° сх. д.) 10 год:

А. 9 год 32 хв. В. 10 год 28 хв.
Б. 11 год 10 хв. Г. 10 год 07 хв.

① А Б В Г
□ □ □ □

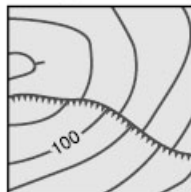
2. Визначте, скільки часу знадобиться для переходу з одного села в інше, якщо відстань між цими селами на топографічній карті з масштабом 1 : 50 000 дорівнює 20 см, а швидкість ходьби – 5 км/год.

А. 20 год. В. 4 год.
Б. 10 год. Г. 2 год.

② А Б В Г
□ □ □ □

3. Виберіть із запропонованого переліку об'єкт, який відповідає даному умовному знаку:

А. Яр.
Б. Урвище, крутобережжя.
В. Трубопровід.
Г. Гребля проїжджа.



③ А Б В Г
□ □ □ □

4. Виберіть групу умовних знаків, якими позначають паливні корисні копалини:

А. ■, ▲, △ В. ○, ■, ▲
Б. ▲, □, ▣ Г. △, □, ⊗

④ А Б В Г
□ □ □ □

5. Вкажіть назву тектонічної структури, що лежить в основі Придніпровської височини:

А. Дніпровсько-Донецька западина.
Б. Донецька складчаста споруда.
В. Український щит.
Г. Воронезький кристалічний масив.

⑤ А Б В Г
□ □ □ □

6. З'ясуйте, яку форму рельєфу позначено на карті:

А. Подільська височина.
Б. Придніпровська низовина.
В. Придніпровська височина.
Г. Причорноморська низовина.



⑥ А Б В Г
□ □ □ □

7. Виберіть рису, що характеризує річний хід пересічної температури повітря в Україні:

А. Великі зміни від місяця до місяця влітку і взимку та незначні коливання восени і навесні.
Б. Відносно невеликі зміни від місяця до місяця влітку і взимку та різкі коливання восени і навесні.
В. Відносно невеликі зміни від місяця до місяця влітку і взимку, а також восени і навесні.
Г. Амплітуда температур відносно стала протягом року.

⑦ А Б В Г
□ □ □ □

8. Оберіть назву водного об'єкта, на який вказує стрілка на карті:

- А. Кременчуцьке водосховище.
- Б. Дніпровське водосховище.
- В. Каховське водосховище.
- Г. Київське водосховище.



8 А Б В Г

9. Виберіть показник, який лежить в основі поділу території на фізико-географічні країни:

- А. Особливості геоморфологічної будови території.
- Б. Співвідношення тепла та вологи.
- В. Ступінь континентальності клімату.
- Г. Спільність тектонічної будови та макрорельєфу.

9 А Б В Г

10. Зазначте, що є головним джерелом забруднення атмосферного повітря в містах:

- А. Підприємства комунального господарства.
- Б. Підприємства важкої промисловості.
- В. Автомобільний транспорт.
- Г. Побутові відходи населення.

10 А Б В Г

11. Зазначте адміністративну область України, яка межує з найбільшою кількістю країн:

- А. Закарпатська.
- Б. Одеська.
- В. Чернігівська.
- Г. Волинська.

11 А Б В Г

12. Визначте величину природного приросту населення, якщо рівень смертності становить 14 ‰, а народжуваності – 7 ‰:

- А. 7 ‰.
- Б. –7 ‰.
- В. 21 ‰.
- Г. 11,5 ‰.

12 А Б В Г

13. Виберіть правильне визначення терміна «комбінування»:

- А. Встановлення виробничих зв'язків між підприємствами, кожне з яких спеціалізується на виробництві окремих частин одного виробу.
- Б. Зосередження основної діяльності підприємства на виробництві вузького кола продукції, товарів і послуг.
- В. Об'єднання технологічно пов'язаних між собою підприємств, продукція одного з яких є сировиною для іншого.
- Г. Група подібних за технологією виробництва і призначенням їхньої продукції підприємств, не пов'язаних територіальним чинником.

13 А Б В Г

14. Виберіть галузь господарства, що належить до невиробничої сфери:

- А. Транспорт.
- Б. Рибальство.
- В. Зв'язок.
- Г. Управління.

14 А Б В Г

22. Зазначте відповідність у парах «притока – головна річка»:

- | | |
|--------------|-------------|
| 1. Інгулець. | А. Десна. |
| 2. Прут. | Б. Вісла. |
| 3. Сан. | В. Дніпро. |
| 4. Сейм. | Г. Дністер. |
| | Д. Дунай. |

22 А Б В Г Д

| | | | | |
|---|--|--|--|--|
| 1 | | | | |
| 2 | | | | |
| 3 | | | | |
| 4 | | | | |

23. Визначте відповідність між датами і подіями, пов'язаними з історією формування державної території сучасної України:

- | | |
|------------|--|
| 1. 1939 р. | А. Кримська область увійшла до складу Української РСР. |
| 2. 1940 р. | Б. До складу Української РСР увійшли Північна Буковина та Південна Бессарабія. |
| 3. 1945 р. | В. Україна увійшла до складу СРСР. |
| 4. 1954 р. | Г. До складу Української РСР увійшла Закарпатська область. |
| | Д. Західна Україна увійшла до складу Української РСР. |

23 А Б В Г Д

| | | | | |
|---|--|--|--|--|
| 1 | | | | |
| 2 | | | | |
| 3 | | | | |
| 4 | | | | |

24. Знайдіть відповідність між басейнами і регіонами зосередження паливних корисних копалин та центрами їх видобування:

- | | |
|--------------------------|------------------|
| 1. Донбас. | А. Нововолинськ. |
| 2. Львівсько-Волинський. | Б. Павлоград. |
| 3. Дніпровський. | В. Олександрія. |
| 4. Карпатський. | Г. Шебелинка. |
| | Д. Косів. |

24 А Б В Г Д

| | | | | |
|---|--|--|--|--|
| 1 | | | | |
| 2 | | | | |
| 3 | | | | |
| 4 | | | | |

25. Знайдіть відповідність між цифрою на карті та назвами економічних районів:

- | |
|-----------------------|
| А. Карпатський. |
| Б. Столичний. |
| В. Північно-Західний. |
| Г. Північно-Східний. |
| Д. Причорноморський. |



25 А Б В Г Д

| | | | | |
|---|--|--|--|--|
| 1 | | | | |
| 2 | | | | |
| 3 | | | | |
| 4 | | | | |

III. Завдання на визначення правильної послідовності

У завданнях 26–30 розташуйте в логічній послідовності явища, об'єкти, процеси і т. д. Потім послідовність розташування букв перенесіть у бланк відповідей.

26. Розташуйте послідовно від гирла р. Дунай області, які мають вихід до моря:

- | |
|------------------|
| А. Запорізька. |
| Б. Миколаївська. |
| В. Донецька. |
| Г. Одеська. |

26 А Б В Г

| | | | | |
|---|--|--|--|--|
| 1 | | | | |
| 2 | | | | |
| 3 | | | | |
| 4 | | | | |



27. Розташуйте послідовно географічні карти в порядку збільшення розміру території, яка на них зображується:

- А. Карта Криму.
- Б. Карта Придніпровського економічного району.
- В. Карта Києва.
- Г. Карта Дніпровсько-Донецького нафтогазового району.

| 27 | А | Б | В | Г |
|----|--------------------------|--------------------------|--------------------------|--------------------------|
| 1 | <input type="checkbox"/> | <input type="checkbox"/> | <input type="checkbox"/> | <input type="checkbox"/> |
| 2 | <input type="checkbox"/> | <input type="checkbox"/> | <input type="checkbox"/> | <input type="checkbox"/> |
| 3 | <input type="checkbox"/> | <input type="checkbox"/> | <input type="checkbox"/> | <input type="checkbox"/> |
| 4 | <input type="checkbox"/> | <input type="checkbox"/> | <input type="checkbox"/> | <input type="checkbox"/> |

28. Зазначте послідовність виробництва зернових культур в останні роки у відсотках до загального обсягу, починаючи з найменшого значення:

- А. Пшениця.
- Б. Жито.
- В. Кукурудза.
- Г. Ячмінь.

| 28 | А | Б | В | Г |
|----|--------------------------|--------------------------|--------------------------|--------------------------|
| 1 | <input type="checkbox"/> | <input type="checkbox"/> | <input type="checkbox"/> | <input type="checkbox"/> |
| 2 | <input type="checkbox"/> | <input type="checkbox"/> | <input type="checkbox"/> | <input type="checkbox"/> |
| 3 | <input type="checkbox"/> | <input type="checkbox"/> | <input type="checkbox"/> | <input type="checkbox"/> |
| 4 | <input type="checkbox"/> | <input type="checkbox"/> | <input type="checkbox"/> | <input type="checkbox"/> |

29. Розташуйте послідовно види транспорту за обсягом пасажирообігу, починаючи з найбільшого показника:

- А. Водний.
- Б. Залізничний.
- В. Автомобільний.
- Г. Повітряний.

| 29 | А | Б | В | Г |
|----|--------------------------|--------------------------|--------------------------|--------------------------|
| 1 | <input type="checkbox"/> | <input type="checkbox"/> | <input type="checkbox"/> | <input type="checkbox"/> |
| 2 | <input type="checkbox"/> | <input type="checkbox"/> | <input type="checkbox"/> | <input type="checkbox"/> |
| 3 | <input type="checkbox"/> | <input type="checkbox"/> | <input type="checkbox"/> | <input type="checkbox"/> |
| 4 | <input type="checkbox"/> | <input type="checkbox"/> | <input type="checkbox"/> | <input type="checkbox"/> |

30. Зазначте послідовність економічних районів за рівнем розвитку промисловості, починаючи з району з найвищим показником:

- А. Північно-Західний.
- Б. Придніпровський.
- В. Донецький.
- Г. Столичний.

| 30 | А | Б | В | Г |
|----|--------------------------|--------------------------|--------------------------|--------------------------|
| 1 | <input type="checkbox"/> | <input type="checkbox"/> | <input type="checkbox"/> | <input type="checkbox"/> |
| 2 | <input type="checkbox"/> | <input type="checkbox"/> | <input type="checkbox"/> | <input type="checkbox"/> |
| 3 | <input type="checkbox"/> | <input type="checkbox"/> | <input type="checkbox"/> | <input type="checkbox"/> |
| 4 | <input type="checkbox"/> | <input type="checkbox"/> | <input type="checkbox"/> | <input type="checkbox"/> |

IV. Завдання відкритого типу

Завдання 31–33 передбачають розгорнуту відповідь на поставлені запитання з відповідним записом у бланку відповідей.

31. Наведіть приклади небезпечних атмосферних явищ і визначте причини їх виникнення.
32. Визначте позитивні та негативні риси економіко-географічного положення України.
- 33*. Поясніть, як розвиток соціальної інфраструктури впливає на рівень життя населення.

V. Завдання на контурній карті

Завдання 34 має картографічний характер і передбачає нанесення на карту інформації відповідно до завдання та розробку легенди карти (записи на карті й легенда подаються тим самим кольором ручки, яким виконується все тестове завдання).

34. Позначте на контурній карті 7 найбільших річок і 5 озер.



Варіант 10

I. Завдання з вибором однієї правильної відповіді

1. Визначте місцевий час у Львові (50° пн. ш., 24° сх. д.), якщо в Києві (51° пн. ш., 31° сх. д.) 14 год:
- А. 13 год 32 хв.
 Б. 13 год 45 хв.
 В. 14 год 32 хв.
 Г. 14 год 07 хв.

① А Б В Г

| | | | |
|--|--|--|--|
| | | | |
|--|--|--|--|

2. Оберіть спосіб картографічного зображення, за допомогою якого позначають явища, що мають безперервне поширення на земній поверхні:
- А. Ареалів.
 Б. Картограм.
 В. Ізоліній.
 Г. Лінійних знаків.

② А Б В Г

| | | | |
|--|--|--|--|
| | | | |
|--|--|--|--|

3. Вкажіть назву крайньої точки України, на яку вказує на карті стрілка:

- А. с. Соломонове
 (околиці м. Чоп).
 Б. с. Червона Зірка.
 В. с. Грем'яч.
 Г. мис Сарич.



③ А Б В Г

| | | | |
|--|--|--|--|
| | | | |
|--|--|--|--|

4. Визначте тектонічну структуру, у межах якої розташовані основні родовища урану:
- А. Донецька складчаста область.
 Б. Український щит.
 В. Волино-Подільська плита.
 Г. Причорноморська западина.

④ А Б В Г

| | | | |
|--|--|--|--|
| | | | |
|--|--|--|--|

5. Визначте похил ділянки річки завдовжки 50 км, якщо атмосферний тиск у верхній частині ділянки становить 740 мм рт. ст., а в нижній – 750 мм рт. ст.:
- А. 2 м/км.
 Б. 20 см/км.
 В. 2 см/км.
 Г. 20 м/км.

⑤ А Б В Г

| | | | |
|--|--|--|--|
| | | | |
|--|--|--|--|

6. Визначте, яку форму рельєфу позначено на карті:

- А. Поліська низовина.
 Б. Придніпровська височина.
 В. Причорноморська низовина.
 Г. Придніпровська низовина.



⑥ А Б В Г

| | | | |
|--|--|--|--|
| | | | |
|--|--|--|--|

7. Оберіть правильний перелік правих приток Дніпра в напрямку з півдня на північ:

- А. Псел, Рось, Тетерів, Ворскла.
- Б. Інгулець, Рось, Тетерів, Прип'ять.
- В. Рось, Тетерів, Прип'ять, Десна.
- Г. Інгулець, Оріль, Самара, Десна.

7 А Б В Г

8. Визначте, який тип ґрунтів утворився під сосновими і мішаними лісами в умовах надмірного зволоження:

- А. Каштанові.
- Б. Сірі лісові.
- В. Буроземи.
- Г. Дерново-підзолисті.

8 А Б В Г

9. Зазначте, яку одиницю природного районування виділяють у межах гірських країн:

- А. Фізико-географічні краї.
- Б. Природні зони.
- В. Фізико-географічні області.
- Г. Підзони.

9 А Б В Г

10. Виберіть з перелічених об'єктів природно-заповідного фонду України природний заповідник:

- А. Шацький.
- Б. Дунайський.
- В. «Медобори».
- Г. Чорноморський.

10 А Б В Г

11. Вкажіть країну, з якою Україна має найдовший суходільний кордон:

- А. Росія.
- Б. Білорусь.
- В. Молдова.
- Г. Польща.

11 А Б В Г

12. Зазначте, який показник характеризує природний рух населення:

- А. Сальдо міграцій.
- Б. Густота населення.
- В. Рівень народжуваності.
- Г. Чисельність населення.

12 А Б В Г

13. Виберіть правильне визначення терміна «спеціалізація»:

- А. Зосередження основної діяльності підприємства на виробництві вузького кола продукції, товарів і послуг.
- Б. Об'єднання технологічно пов'язаних між собою підприємств, продукція одного з яких є сировиною для іншого.
- В. Встановлення виробничих зв'язків між підприємствами, кожне з яких спеціалізується на виробництві окремих частин одного виробу.
- Г. Група подібних за технологією виробництва і призначенням їхньої продукції підприємств, не пов'язаних між собою територіальним чинником.

13 А Б В Г

14. Вкажіть галузь господарства, яка належить до виробничої сфери:

- А. Побутове обслуговування.
- Б. Фінансова сфера.
- В. Торгівля.
- Г. Охорона здоров'я.

14 А Б В Г



15. Визначте, який об'єкт електроенергетики зображено на карті пунсоном:

- А. Добротвірська ТЕС.
- Б. Зміївська ТЕС.
- В. Бурштинська ТЕС.
- Г. Вуглегірська ТЕС.



15 А Б В Г

16. Визначте, який центр чорної металургії зображено на карті пунсоном:

- А. Запоріжжя.
- Б. Кривий Ріг.
- В. Дніпропетровськ.
- Г. Маріуполь.



16 А Б В Г

17. Виберіть галузь машинобудування, що тяжіє до промислових центрів, у яких є науково-дослідні установи, кваліфіковані трудові ресурси та інфраструктура:

- А. Автомобілебудування.
- Б. Точне.
- В. Енергетичне.
- Г. Сільськогосподарське.

17 А Б В Г

18. Вкажіть спеціалізацію підприємств, які розміщені у Великому Бичкові, Перечині, Славуті, Коростені:

- А. Целюлозно-паперова.
- Б. Деревообробка.
- В. Лісохімія.
- Г. Меблева.

18 А Б В Г

19. Зазначте, на якій території переважно вирощують яру пшеницю:

- А. Передкарпаття.
- Б. Полісся.
- В. Степ.
- Г. Лісостеп.

19 А Б В Г

20. Виберіть економічний район, для якого характерним є переважання машинобудування та металообробки, харчової і легкої промисловості, курортно-туристичного господарства і потужного сільського господарства:

- А. Карпатський.
- Б. Придніпровський.
- В. Причорноморський.
- Г. Північно-Західний.

20 А Б В Г

II. Завдання на визначення відповідності

У завданнях 21–25 до кожного із завдань, позначених цифрою, доберіть правильну відповідь, позначену буквою. Потім відповідність цифр і букв перенесіть у бланк відповідей.

21. Вкажіть відповідність між видами корисних копалин та їхніми родовищами:

- | | |
|---------------------|-------------------|
| 1. Кам'яне вугілля. | А. Артемівське. |
| 2. Нафта. | Б. Кременчуцьке. |
| 3. Залізна руда. | В. Павлоградське. |
| 4. Кам'яна сіль. | Г. Стебницьке. |
| | Д. Прилуцьке. |

21 А Б В Г Д

1

2

3

4

22. Визначте відповідність між областями України та середньорічною кількістю опадів на їхній території:

- | | |
|------------------|----------------|
| 1. Закарпатська. | А. 601–700 мм. |
| 2. Рівненська. | Б. 301–400 мм. |
| 3. Черкаська. | В. 501–600 мм. |
| 4. Запорізька. | Г. 701–800 мм. |
| | Д. 401–500 мм. |

22 А Б В Г Д

1

2

3

4

23. Визначте відповідність між типами ґрунтів та регіонами їх поширення:

- | | |
|--------------------------|-------------------|
| 1. Дерново-підзолисті. | А. Карпати. |
| 2. Опідзолені чорноземи. | Б. Кримські гори. |
| 3. Звичайні чорноземи. | В. Полісся. |
| 4. Коричневі гірські. | Г. Лісостеп. |
| | Д. Степ. |

23 А Б В Г Д

1

2

3

4

24. Вкажіть відповідність між типами населених пунктів за кількістю жителів та наведеними містами (за переписом населення України, 2001 р.):

- | | |
|--|--|
| 1. Малі (до 50 тис. жителів). | |
| 2. Середні (50–100 тис. жителів). | |
| 3. Великі (100–250 тис. жителів). | |
| 4. Дуже великі (250–500 тис. жителів). | |
| А. Умань. | |
| Б. Керч. | |
| В. Глухів. | |
| Г. Херсон. | |
| Д. Запоріжжя. | |

24 А Б В Г Д

1

2

3

4

25. Визначте відповідність між транспортними засобами та центрами їх виробництва:

- | | |
|-------------------------|--|
| 1. Залізничні цистерни. | |
| 2. Вантажні автомобілі. | |
| 3. Морські судна. | |
| 4. Літаки. | |
| А. Кременчук. | |
| Б. Херсон. | |
| В. Київ. | |
| Г. Маріуполь. | |
| Д. Львів. | |

25 А Б В Г Д

1

2

3

4



III. Завдання на визначення правильної послідовності

У завданнях 26–30 розташуйте в логічній послідовності явища, об'єкти, процеси і т. д. Потім послідовність розташування букв перенесіть у бланк відповідей.

26. Розташуйте послідовно області, починаючи від географічного центру України в західному напрямку:

А. Тернопільська.
Б. Львівська.
В. Вінницька.
Г. Хмельницька.

| 26 | А | Б | В | Г |
|----|---|---|---|---|
| 1 | | | | |
| 2 | | | | |
| 3 | | | | |
| 4 | | | | |

27. Розташуйте послідовно тектонічні структури в порядку їх формування:

А. Донецька складчаста структура.
Б. Український щит.
В. Волино-Подільська плита.
Г. Карпатська складчаста система.

| 27 | А | Б | В | Г |
|----|---|---|---|---|
| 1 | | | | |
| 2 | | | | |
| 3 | | | | |
| 4 | | | | |

28. Розташуйте послідовно адміністративні області в порядку зменшення в них середньої густоти населення:

А. Черкаська.
Б. Донецька.
В. Миколаївська.
Г. Харківська.

| 28 | А | Б | В | Г |
|----|---|---|---|---|
| 1 | | | | |
| 2 | | | | |
| 3 | | | | |
| 4 | | | | |

29. Розташуйте послідовно центри кольорової металургії, рухаючись із заходу на схід:

А. Костянтинівка.
Б. Калущ.
В. Побузьке.
Г. Запоріжжя.

| 29 | А | Б | В | Г |
|----|---|---|---|---|
| 1 | | | | |
| 2 | | | | |
| 3 | | | | |
| 4 | | | | |

30. Вкажіть послідовність розташування сільськогосподарських культур за обсягом валового збору зерна в Україні, починаючи з найбільшого значення:

А. Осима пшениця.
Б. Жито.
В. Кукурудза.
Г. Рис.

| 30 | А | Б | В | Г |
|----|---|---|---|---|
| 1 | | | | |
| 2 | | | | |
| 3 | | | | |
| 4 | | | | |

IV. Завдання відкритого типу

Завдання 31–33 передбачають розгорнуту відповідь на поставлені запитання з відповідним записом у бланку відповідей.

31. Як впливає рельєф на характер течії річок? Наведіть приклади.
32. Що таке чорна металургія? Назвіть райони та головні центри чорної металургії України. Зазначте принципи їх розміщення.
33*. Поясніть, які ризики та можливості відкриває процес глобалізації для економіки України.

V. Завдання на контурній карті

Завдання 34 має картографічний характер і передбачає нанесення на карту інформації відповідно до завдання та розробку легенди карти (записи на карті й легенда подаються тим самим кольором ручки, яким виконується все тестове завдання).

34. Позначте на контурній карті основні форми рельєфу на території України (2 гірські системи, 6 височин, 4 низовини).

